

ITI Quiz - 29-May-2026

11:55 PM

Q. ID: ITISKILL987869

May 2026

Govt Iti Tagadoor

Question Paper

Duration: 30 Mins


Total Marks: 47

ID: ITISKILL987869

Student Name: _____

Roll No: _____

1. Choose the symbol for main fuse board without switches (P). | ಸ್ವಿಚ್‌ಗಳು (ಪಿ) ಇಲ್ಲದೆ ಮುಖ್ಯ ಫ್ಯೂಸ್ ಬೋರ್ಡ್‌ಗಾಗಿ ಚಿಹ್ನೆಯನ್ನು ಆರಿಸಿ.



- A) A
B) B
C) D
D) C

2. Identify the switch in the given picture. | ನೀಡಿರುವ ಚಿತ್ರದಲ್ಲಿ ಸ್ವಿಚ್ ಅನ್ನು ಗುರುತಿಸಿ.

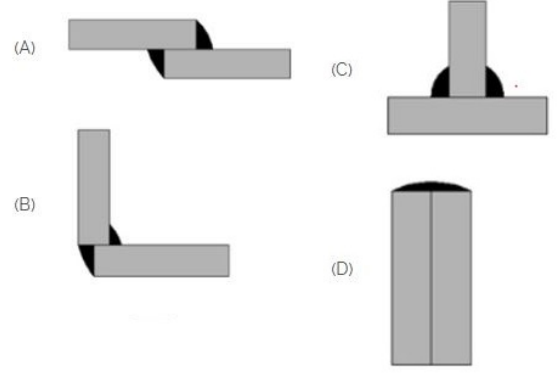


- A) Toggle Switch | ಟಾಗಲ್ ಸ್ವಿಚ್
B) Intermediate Switch | ಮಧ್ಯಂತರ ಸ್ವಿಚ್
C) Flux type switch | ಫ್ಲಕ್ಸ್ ಪ್ರಕಾರದ ಸ್ವಿಚ್
D) Tumbler Switch | ಟಂಬ್ಲರ್ ಸ್ವಿಚ್

3. Which of the following is not a main part of rivet? | ಕೆಳಗಿನವುಗಳಲ್ಲಿ ಯಾವುದು ರಿವೆಟ್‌ನ ಮುಖ್ಯ ಭಾಗವಲ್ಲ?

- A) Tail | ಟೈಲ್
B) Shank | ಶ್ಯಾಂಕ್
C) Point | ಪಾಯಿಂಟ್
D) Head | ಹೆಡ್

4. Which symbol is used for lap joint? | ಲ್ಯಾಪ್ ಜಾಯಿಂಟ್‌ಗೆ ಯಾವ ಚಿಹ್ನೆಯನ್ನು ಬಳಸಲಾಗುತ್ತದೆ?




- A) A
B) D
C) C
D) B

5. This type of section is limited by a break line____ | ಈ ರೀತಿಯ ವಿಭಾಗವು ಬ್ರೇಕ್ ಲೈನ್ _____ ಮೂಲಕ ಸೀಮಿತವಾಗಿದೆ

- A) broken-out section | ಮುರಿದ ವಿಭಾಗ
B) removed section | ತೆಗೆದುಹಾಕಲಾದ ವಿಭಾಗ
C) half section | ಅರ್ಧ ವಿಭಾಗ
D) revolved section. | ಸುತ್ತವ ವಿಭಾಗ.

6. Which is ball peen hammer? | ಬಾಲ್ ಪೀನ್ ಸುತ್ತಿಗೆ ಯಾವುದು?

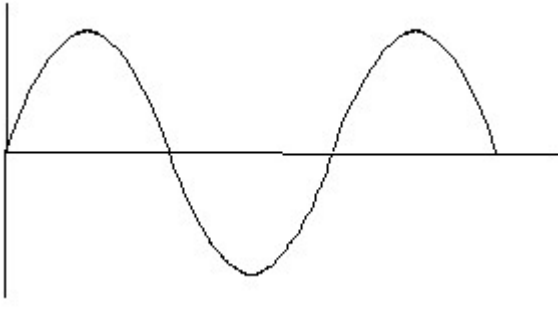


- A) B
B) D
C) A
D) C

7. The thread angle of B.S.W screw threads are____. | BSW ಸ್ಕ್ರೂ ಥ್ರೆಡ್‌ಗಳ ಥ್ರೆಡ್ ಕೋನವು _____.

- A) 55°
B) 45°
C) 60°
D) 30°

8. Identify the wave form. | ವೇವ್ ಫಾರ್ಮ್ ವನ್ನು ಗುರುತಿಸಿ.

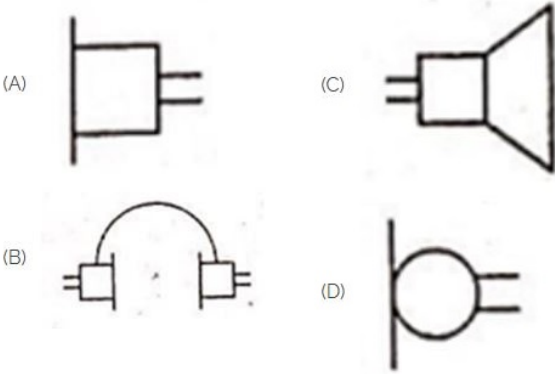


- A) Sine wave | ಸೈನ್ ವೇವ್
 B) Square wave | ಸ್ಕ್ವೇರ್ ವೇವ್
 C) Saw-tooth wave | ಸಾ-ಟೂತ್ ವೇವ್
 D) Triangle wave | ತ್ರಿಕೋನ ವೇವ್

9. Pipe cutting die is generally _____ | ಪೈಪ್ ಕಟಿಂಗ್ ಡೈ ಸಾಮಾನ್ಯವಾಗಿ _____

- A) undivided | ಅವಿಭಜಿತ
 B) divided in two parts | ಎರಡು ಭಾಗಗಳಾಗಿ ವಿಂಗಡಿಸಲಾಗಿದೆ
 C) divided in three parts | ಮೂರು ಭಾಗಗಳಾಗಿ ವಿಂಗಡಿಸಲಾಗಿದೆ
 D) divided in four parts. | ನಾಲ್ಕು ಭಾಗಗಳಾಗಿ ವಿಂಗಡಿಸಲಾಗಿದೆ.

10. Identify the symbol used for microphone (general) in electrical and electronic circuits. | ಎಲೆಕ್ಟ್ರಿಕಲ್ ಮತ್ತು ಎಲೆಕ್ಟ್ರಾನಿಕ್ ಸರ್ಕ್ಯೂಟ್‌ಗಳಲ್ಲಿ ಮೈಕ್ರೋಫೋನ್ (ಸಾಮಾನ್ಯ) ಗಾಗಿ ಬಳಸುವ ಚಿಹ್ನೆಯನ್ನು ಗುರುತಿಸಿ.



- A) C
 B) B
 C) D
 D) A

11. Which of the following is temporary fastening? | ಕೆಳಗಿನವುಗಳಲ್ಲಿ ಯಾವುದು ತಾತ್ಕಾಲಿಕ ಫಾಸ್ಟೆನಿಂಗ್ ?

- A) Rivets | ರಿವೆಟ್ಸ್
 B) Screw | ತಿರುಪು
 C) Welded | ವೆಲ್ಡೆಡ್
 D) Keys | ಕೀಲಿಗಳು

12. Which nut can be easily operated with thumb and finger? | ಯಾವ ಅಡಿಕೆಯನ್ನು ಹೆಬ್ಬೆರಳು ಮತ್ತು ಬೆರಳಿನಿಂದ ಸುಲಭವಾಗಿ ನಿರ್ವಹಿಸಬಹುದು?


- A) Capstan nut | ಕ್ಯಾಪ್ಸ್ಟಾನ್ ನಟ್
 B) Lock nut | ಲಾಕ್ ನಟ್
 C) Wing nut | ರೆಕ್ಕೆ ನಟ್
 D) Dome nut | ಗುಮ್ಮಟ ನಟ್

13. Identify the given symbol | ನೀಡಿರುವ ಚಿಹ್ನೆಯನ್ನು ಗುರುತಿಸಿ



- A) DC
 B) Ohms | ಓಮ್ಸ್
 C) AC
 D) Inductance | ಇಂಡಕ್ಟೆನ್ಸ್

14. Which is nose pliers? | ನೋಸ್ ಪ್ಲಿಯರ್ ಯಾವುದು?

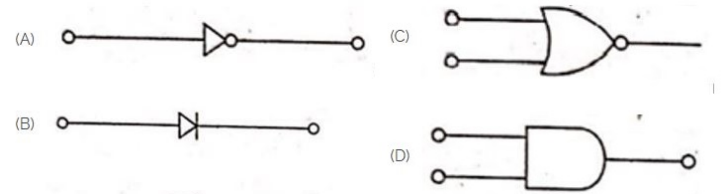


- A) C
 B) D
 C) A
 D) B

15. Nut and bolts are _____ | ನಟ್ ಮತ್ತು ಬೋಲ್ಟ್ಸ್ _____

- A) permanent fastening | ಶಾಶ್ವತ ಜೋಡಣೆ
 B) semi temporary | ಅರ್ಧ ತಾತ್ಕಾಲಿಕ
 C) semi permanent | ಅರ್ಧ ಶಾಶ್ವತ
 D) temporary fastening | ತಾತ್ಕಾಲಿಕ ಜೋಡಣೆ

16. Which is the NOT gate in the following picture? | ಕೆಳಗಿನ ಚಿತ್ರದಲ್ಲಿ NOT ಗೇಟ್ ಯಾವುದು?

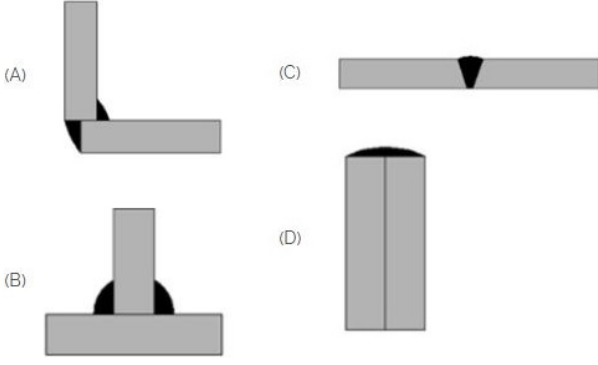


- A) A
 B) C
 C) D
 D) B

17. How many types of foundation _____ s are there based on depth? | ಆಳದ ಆಧಾರದ ಮೇಲೆ ಎಷ್ಟು ರೀತಿಯ ಅಡಿಪಾಯಗಳಿವೆ?


- A) 2
 B) 2
 C) 5
 D) 3

18. Which symbol is used for butt joints? | ಬಟ್ ಕೀಲುಗಳಿಗೆ ಯಾವ ಚಿಹ್ನೆಯನ್ನು ಬಳಸಲಾಗುತ್ತದೆ?



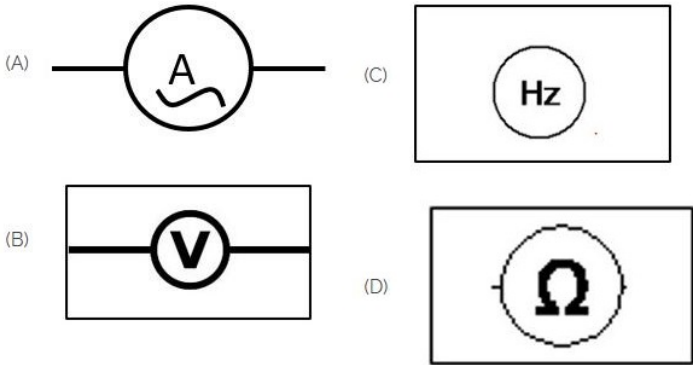
- A) A
B) C
C) B
D) D

19. Which is the single pole MCB? | ಸಿಂಗಲ್ ಪೋಲ್ MCB ಯಾವುದು?



- A) C
B) A
C) D
D) B

20. Which of the following is AC ammeter? | ಈ ಕೆಳಗಿನವುಗಳಲ್ಲಿ ಯಾವುದು AC ಅಮ್ಮೀಟರ್ ಆಗಿದೆ?



- A) A
B) C
C) B
D) D

21. The Included angle of pipe thread is around _____ | ಪೈಪ್ ಥ್ರೆಡ್ ಒಳಗೊಂಡಿರುವ ಕೋನವು ಸುಮಾರು _____ ಆಗಿದೆ

- A) 15°
B) 75°
C) 10°
D) 55°

22. Rivets are generally, specified by _____. | ರಿವೆಟ್‌ಗಳನ್ನು ಸಾಮಾನ್ಯವಾಗಿ, _____ ಮೂಲಕ ನಿರ್ದಿಷ್ಟಪಡಿಸಲಾಗುತ್ತದೆ.

- A) length of rivet | ರಿವೆಟ್ ಉದ್ದವಾಸ್
B) diameter of head | ಹೆಡ್ ಡಯಾಮೀಟರ್
C) nominal diameter | ನಾಮಮಾತ್ರದ ವ್ಯಾಸ
D) all of these | ಇವೆಲ್ಲವೂ

23. Which is the static machine that increase or decrease the AC voltage? | AC ವೋಲ್ಟೇಜ್ ಅನ್ನು ಹೆಚ್ಚಿಸುವ ಅಥವಾ ಕಡಿಮೆ ಮಾಡುವ ಸ್ಟಾಟಿಕ್ ಯಂತ್ರ ಯಾವುದು?

- A) Induction motor | ಇಂಡಕ್ಷನ್ ಮೋಟಾರ್
B) Generator | ಜನರೇಟರ್
C) Transformer | ಟ್ರಾನ್ಸ್‌ಫಾರ್ಮರ್
D) Alternator | ಆಲ್ಟರ್ನೇಟರ್

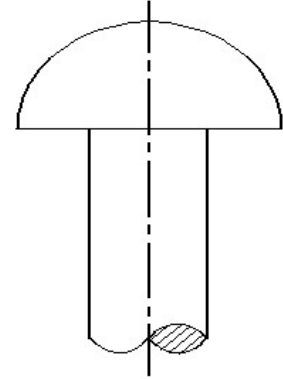
24. GMAW stands for _____ | GMAW ಎಂದರೆ _____

- A) Germanium Metal Arc Welding
B) Gun Metal Arc Welding
C) Gas Tungsten Arc Welding
D) Gas Metal Arc Welding

25. Which device is used to start and stop a motor? | ಮೋಟಾರ್ ಅನ್ನು ಪ್ರಾರಂಭಿಸಲು ಮತ್ತು ನಿಲ್ಲಿಸಲು ಯಾವ ಸಾಧನವನ್ನು ಬಳಸಲಾಗುತ್ತದೆ?

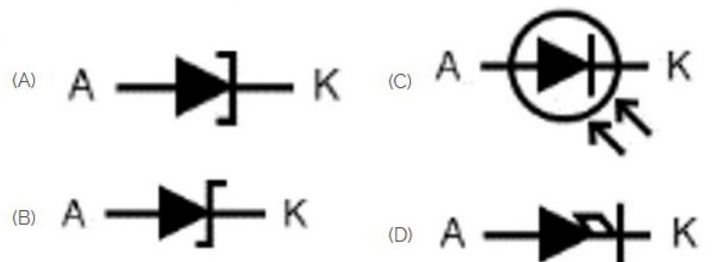
- A) Slip ring | ಸ್ಲಿಪ್ ರಿಂಗ್
B) Starter | ಸ್ಟಾರ್ಟರ್
C) Stator | ಸ್ಟೇಟರ್
D) Rotor | ರೋಟರ್

26. Identify the given rivet. | ನೀಡಿರುವ ರಿವೆಟ್ ಅನ್ನು ಗುರುತಿಸಿ.



- A) Pan head | ಪ್ಯಾನ್ ಹೆಡ್
B) Counter sunk | ಕೌಂಟರ್ ಸುಂಕ್
C) Flat head | ಫ್ಲಾಟ್ ಹೆಡ್
D) Snap head | ಸ್ನಾಪ್ ಹೆಡ್

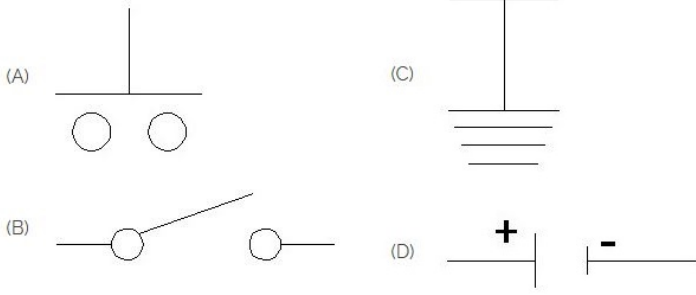
27. Which is photo diode? | ಫೋಟೋ ಡಯೋಡ್ ಯಾವುದು?



- A) D
C) C

- B) A
D) B

28. Which is the symbol of earth? | ಭೂಮಿಯ ಸಂಕೇತ ಯಾವುದು?



- A) B
C) A

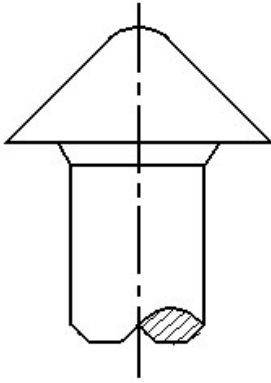
- B) C
D) D

29. The thread angle of metric thread is _____. | ಮೆಟ್ರಿಕ್ ಥ್ರೆಡ್ ಥ್ರೆಡ್ ಕೋನವು _____ ಆಗಿದೆ.

- A) 60°
C) 90°

- B) 30°
D) 120°

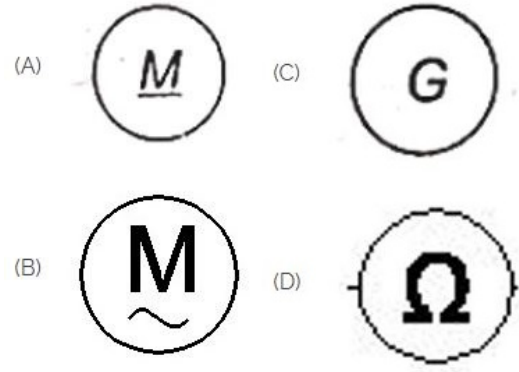
30. The head for boiler application is shown in the figure given below is _____. | ಕೆಳಗಿನ ಚಿತ್ರದಲ್ಲಿ ತೋರಿಸಿರುವ ಬಾಯಿಲ್ ಅಪ್ಲಿಕೇಶನ್‌ನ ಹೆಡ್:



- A) steeple | ಸ್ಟೀಪಲ್
C) pan | ಪ್ಯಾನ್

- B) conical | ಶಂಕುವಿನಾಕಾರದ
D) snap | ಸ್ನಾಪ್

31. Which is a symbol of DC motor? | DC ಮೋಟರ್‌ನ ಸಂಕೇತ ಯಾವುದು?



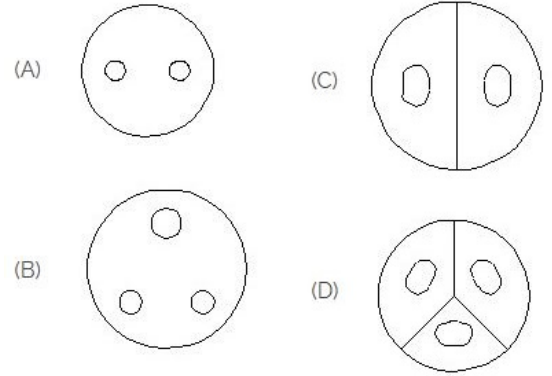
- A) A
C) B

- B) D
D) C

32. Which materials pipe is used for drainage pipe line? | ಡ್ರೈನೇಜ್ ಪೈಪ್ ಲೈನ್‌ಗೆ ಯಾವ ವಸ್ತುಗಳ ಪೈಪ್ ಅನ್ನು ಬಳಸಲಾಗುತ್ತದೆ?

- A) Brass Pipe | ಹಿತ್ತಾಳೆ ಪೈಪ್
C) Steel pipe | ಉಕ್ಕಿನ ಕೊಳವೆ.
- B) G.I. Pipe | ಜಿಐ ಪೈಪ್
D) PVC pipe | PVC ಪೈಪ್

33. Identify the 3 pin socket. | 3 ಪಿನ್ ಸಾಕೆಟ್ ಅನ್ನು ಗುರುತಿಸಿ.



- A) B
C) A

- B) D
D) C

34. Riveted joints is a _____. | ರಿವೆಟೆಡ್ ಜಂಟಿಗಳು _____

- A) none of these | ಇದ್ದಾವುದೂ ಅಲ್ಲ
C) semi permanent | ಅರೆ ಶಾಶ್ವತ
- B) permanent joints | ಶಾಶ್ವತ ಜಂಟಿಗಳು
D) temporary joints | ತಾತ್ಕಾಲಿಕ ಜಂಟಿಗಳು

35. Which is protective device? | ರಕ್ಷಣಾತ್ಮಕ ಸಾಧನ ಯಾವುದು?

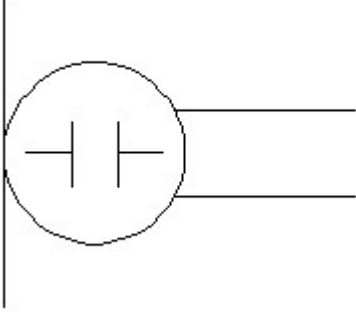
- A) Resistor | ರೆಸಿಸ್ಟರ್
C) Magnet | ಮ್ಯಾಗ್ನೆಟ್
- B) Capacitor | ಕೆಪಾಸಿಟರ್
D) Fuse | ಫ್ಯೂಸ್

36. Which part regulates the heat in automatic iron? | ಆಟೋಮೇಟಿಕ್ ಐರನ್‌ನಲ್ಲಿನ ಶಾಖವನ್ನು ಯಾವ ಭಾಗವು ನಿಯಂತ್ರಿಸುತ್ತದೆ?

- A) Pressure plate | ಪ್ರೆಶರ್ ಪ್ಲೇಟ್
B) Asbestos sheet | ಆಸ್ಟೆಸ್ಟೋಸ್ ಸೀಟ್

C) Heating element | ಹೀಟಿಂಗ್ ಎಲಿಮೆಂಟ್ D) Thermostatic switch | ಥರ್ಮೋಸ್ಟಾಟಿಕ್ ಸ್ವಿಚ್

37. What is the name of the symbol? | ಚಿಹ್ನೆಯ ಹೆಸರೇನು?



A) Dynamic microphone | ಡೈನಾಮಿಕ್ ಮೈಕ್ರೋಫೋನ್ B) Condenser microphone | ಕಂಡೆನ್ಸರ್ ಮೈಕ್ರೋಫೋನ್
C) Loud speaker | ಲೌಡ್ ಸ್ಪೀಕರ್ D) Microphone | ಮೈಕ್ರೋಫೋನ್

38. Lock nut or check-nut is chamfered on____. | ಲಾಕ್ ನಟ್ ಅಥವಾ ಚೆಕ್-ನಟ್ ಅನ್ನು _____ ರಂದು ಚೇಂಫರ್ ಮಾಡಲಾಗಿದೆ.

A) upper side | ಮೇಲಿನ ಭಾಗ B) none sides | ಯಾವುದೇ ಬದಿಗಳಿಲ್ಲ
C) lower side | ಕೆಳಗಿನ ಭಾಗ D) both side | ಎರಡೂ ಕಡೆ

39. What is the name of the gate | ಗೇಟ್ ಹೆಸರೇನು?



A) OR Gate | OR ಗೇಟ್ B) NOT Gate | NOT ಗೇಟ್
C) AND Gate | AND ಗೇಟ್ D) Ex-NOR Gate | Ex-NOR ಗೇಟ್

40. Which one of the following accommodates four pipes in a pipe fitting? | ಕೆಳಗಿನವುಗಳಲ್ಲಿ ಯಾವುದು ಫೈಪ್ ಫಿಟಿಂಗ್‌ನಲ್ಲಿ ನಾಲ್ಕು ಫೈಪ್‌ಗಳನ್ನು ಅಳವಡಿಸುತ್ತದೆ?

A) Union | ಯೂನಿಯನ್ B) Tee | ಟೀ
C) Elbow | ಎಲ್ಬೋ D) Cross | ಅಡ್ಡ

41. Which of the following is used to block the pipe at one end? | ಒಂದು ತುದಿಯಲ್ಲಿ ಫೈಪ್ ಅನ್ನು ನಿರ್ಬಂಧಿಸಲು ಕೆಳಗಿನವುಗಳಲ್ಲಿ ಯಾವುದನ್ನು ಬಳಸಲಾಗುತ್ತದೆ?


A) Reducer | ರೆಡ್ಯೂಸರ್ B) Plug | ಪ್ಲಗ್
C) Union | ಯೂನಿಯನ್ D) Couplings | ಕಪ್ಲಿಂಗ್ಸ್

42. Voltage less than 250 volt is called _____. | 250

ವೋಲ್ಟ್‌ಗಿಂತ ಕಡಿಮೆ ವೋಲ್ಟೇಜ್ ಅನ್ನು _____ ಎಂದು ಕರೆಯಲಾಗುತ್ತದೆ.

A) LT (Low Tension) | LT (ಕಡಿಮೆ ಒತ್ತಡ) B) EHT (Extra High Tension) | EHT (ಹೆಚ್ಚುವರಿ ಅಧಿಕ ಒತ್ತಡ)
C) MT (Medium Tension) | MT (ಮಧ್ಯಮ ಒತ್ತಡ) D) HT (High Tension) | HT (ಅಧಿಕ ಒತ್ತಡ)

43. The rivet head for a general purpose shown in the figure below is ____ | ಕೆಳಗಿನ ಚಿತ್ರದಲ್ಲಿ ತೋರಿಸಿರುವ ಸಾಮಾನ್ಯ ಉದ್ದೇಶಕ್ಕಾಗಿ ರಿವೆಟ್ ಹೆಡ್:

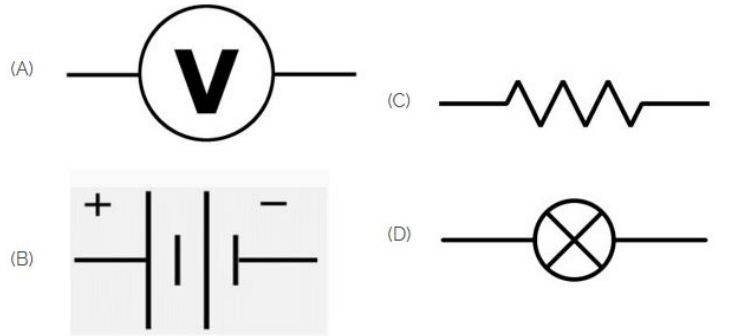


A) pan | ಪ್ಯಾನ್ B) snap | ಸ್ನಾಪ್
C) flat | ಫ್ಲಾಟ್ D) counter sunk | ಕೌಂಟರ್ ಸುಂಕ್

44. What is the material of line insulator? | ಲೈನ್ ಇನ್ಸುಲೇಟರ್‌ನ ಮೇಟೀರಿಯಲ್ ಯಾವುದು?


A) Porcelain clay | ಪಿಂಗಾಣಿ ಮಣ್ಣಿನ B) Copper | ತಾಮ್ರ
C) Aluminium | ಅಲ್ಯೂಮಿನಿಯಂ D) Rubber | ರಬ್ಬರ್

45. Identify the symbol of battery. | ಬ್ಯಾಟರಿಯ ಚಿಹ್ನೆಯನ್ನು ಗುರುತಿಸಿ.




A) A B) B
C) D D) C

46. Identify the symbol for direct and alternating current. | ನೇರ ಮತ್ತು ಪರ್ಯಾಯ ಪ್ರವಾಹದ ಚಿಹ್ನೆಯನ್ನು ಗುರುತಿಸಿ.

(A) 

(B) 

(C) 

(D) 

A) B

C) A

B) C

D) D

47. CPRF stands for _____ | CPRF ಎಂದರೆ _____

A) Combined Pile Raft Foundation.

C) Connected Pile Round Foundation

B) Corrosion Proof Raft Foundation

D) Combined Plain Round Foundation