

ITI Quiz - 15-Feb-2026

05:27 PM

Q. ID: ITISKILL9365PV

February 2026

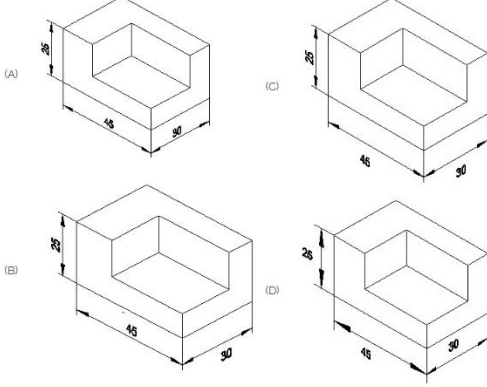
Answer Key

Duration: 30 Mins

Total Marks: 3

Q.ID: ITISKILL9365PV

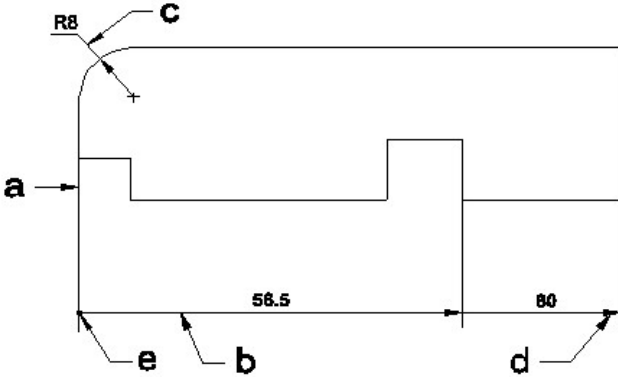
1. Which drawing dimension is correct as per standard drawing practice? | ಸ್ಟಾಂಡರ್ಡ್ ಡ್ರಾಯಿಂಗ್ ಅಭ್ಯಾಸದ ಪ್ರಕಾರ ಯಾವ ಡ್ರಾಯಿಂಗ್ ಆಯಾಮ ಸರಿಯಾಗಿದೆ?



- A) B
B) A
C) C
D) D

Answer: B) A

2. Identify the line □ b□ ? | □ ಸಾಲುನ್ನು ಗುರುತಿಸುವುದೇ?



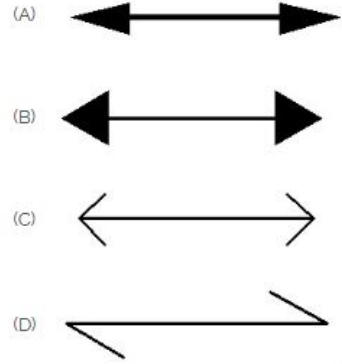
- A) C
B) D
C) B
D) A

Answer: D) A

- A) Dimension line | ಡೈಮೆನ್ಷನ್ ಲೈನ್
B) Termination of dimension line | ಆಯಾಮ ರೇಖೆಯ ಮುಕ್ತಾಯ
C) Extension line | ಎಕ್ಸ್ಟೆನ್ಷನ್ ಲೈನ್
D) Leader line | ಲೀಡರ್ ಲೈನ್

Answer: A) Dimension line | ಡೈಮೆನ್ಷನ್ ಲೈನ್

3. Which arrow head is correct as per standard? | ಮಾನದಂಡದ ಪ್ರಕಾರ ಯಾವ ಬಾಣದ ಹೆಡ್ ಸರಿಯಾಗಿದೆ?



- A) C
B) D
C) B
D) A

Answer: D) A