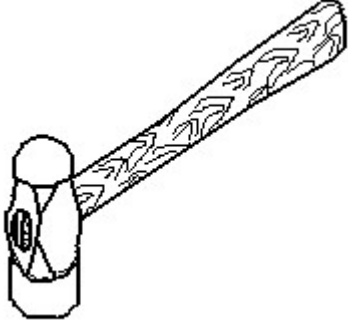


Duration: 45 Mins

Total Marks: 20

Q.ID: ITISKILL9116NH

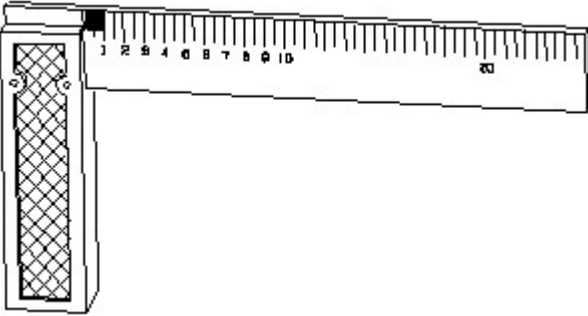
1. Identify the name of tool? | ಉಪಕರಣದ ಹೆಸರನ್ನು ಗುರುತಿಸುವುದೇ?



- A) Cross pein hammer | ಕ್ರಾಸ್ ಪೀನ್ ಸುತ್ತಿಗೆ
B) Ball pein hammer | ಬಾಲ್ ಪೆನ್ ಸುತ್ತಿಗೆ
C) Straight pein hammer | ನೇರ ಪೆನ್ ಸುತ್ತಿಗೆ
D) Sledge hammer | ಸ್ಲೆಡ್ಜ್ ಸುತ್ತಿಗೆ

Answer: B) Ball pein hammer | ಬಾಲ್ ಪೆನ್ ಸುತ್ತಿಗೆ

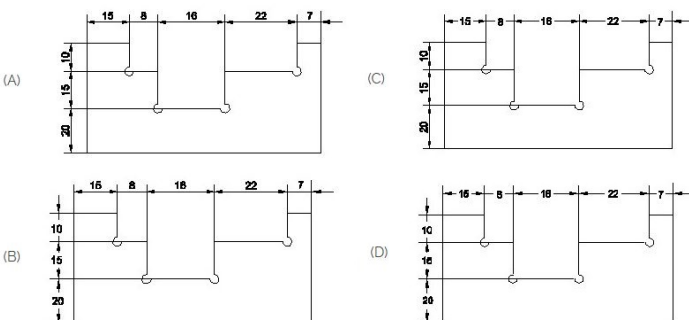
2. 1). Identify the name of tool? | ಉಪಕರಣದ ಹೆಸರನ್ನು ಗುರುತಿಸುವುದೇ?



- A) Surface gauge | ಮೇಲ್ಮೈ ಮಾಪಕ
B) Feeler gauge | ಫೀಲರ್ ಗೇಜ್
C) Try square | ಟ್ರೈ ಸ್ಕ್ವೇರ್
D) Steel rule | ಸ್ಟೀಲ್ ರೂಲ್

Answer: C) Try square | ಟ್ರೈ ಸ್ಕ್ವೇರ್

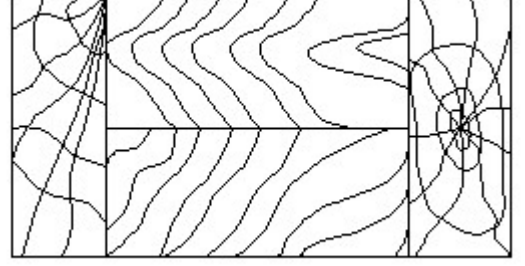
3. Identify the correct aligned system dimension? | ಸರಿಯಾದ ಜೋಡಿಸಲಾದ ಸಿಸ್ಟಮ್ ಆಯಾಮವನ್ನು ಗುರುತಿಸುವುದೇ?



- A) A
B) B
C) D
D) C

Answer: A) A

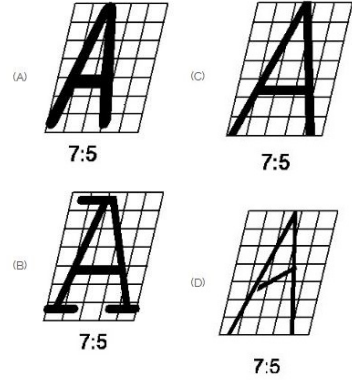
4. Identify the conventional symbol of material? | ವಸ್ತುವಿನ ಕನ್ವೆಷನಲ್ ಚಿಹ್ನೆಯನ್ನು ಗುರುತಿಸಿ?



- A) Wood | ಮರ
B) Lead | ಲೀಡ್
C) Glass | ಗಾಜು
D) Paper | ಪೇಪರ್

Answer: A) Wood | ಮರ

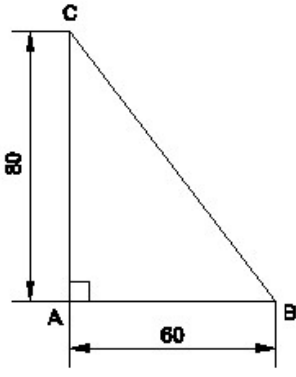
5. Which single stroke inclined letter A is correct as per IS standard? | IS ಮಾನದಂಡದ ಪ್ರಕಾರ ಯಾವ ಏಕ ಸ್ಟ್ರೋಕ್ ಇಳಿಜಾರಿನ ಅಕ್ಷರ A ಠರಿಯಾಗಿದೆ?



- A) A
B) D
C) B
D) C

Answer: D) C

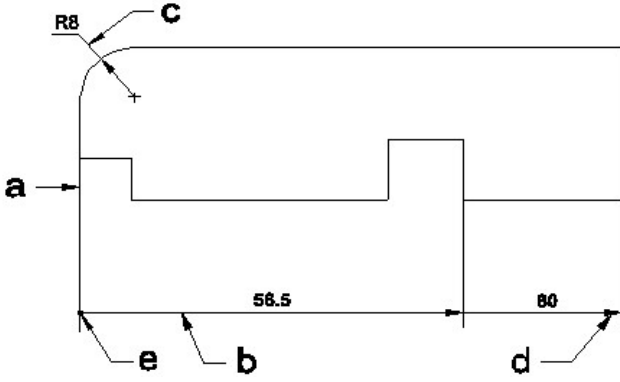
6. Identify the name of the triangle? | ತ್ರಿಕೋನದ ಹೆಸರನ್ನು ಗುರುತಿಸುವುದೇ?



- A) Scalene triangle | ಸ್ಕೇಲಿನ್ ತ್ರಿಕೋನ
 B) Equilateral triangle | ಸಮಕೋನ ತ್ರಿಕೋನ
 C) Isosceles triangle | ಸಮದ್ವಿಭಾಹು ತ್ರಿಭುಜ
 D) Right angle triangle | ಬಲ ಕೋನ ತ್ರಿಕೋನ

Answer: D) Right angle triangle | ಬಲ ಕೋನ ತ್ರಿಕೋನ

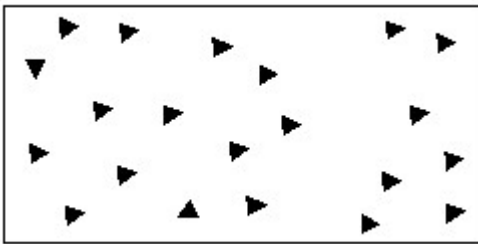
7. Identify the line □ b □ ? | □ ಸಾಠಿನ್ನು ಗುರುತಿಸುವುದೇ?



- A) Extension line | ಎಕ್ಸ್ಟೆನ್ಷನ್ ಲೈನ್
 B) Termination of dimension line | ಆಯಾಮ ರೇಖೆಯ ಮುಕ್ತಾಯ
 C) Leader line | ಲೀಡರ್ ಲೈನ್
 D) Dimension line | ಡೈಮೆನ್ಷನ್ ಲೈನ್

Answer: D) Dimension line | ಡೈಮೆನ್ಷನ್ ಲೈನ್

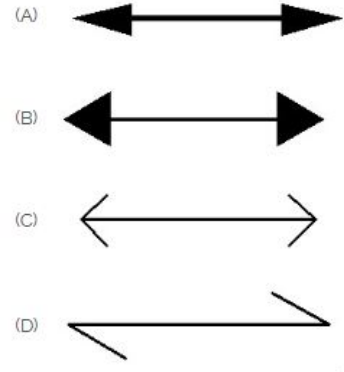
8. Identify the conventional symbol of material? | ವಸ್ತುವಿನ ಕನ್ವೆಷನಲ್ ಚಿಹ್ನೆಯನ್ನು ಗುರುತಿಸಿ?



- A) Glass | ಗಾಜು
 B) Wood | ಮರ
 C) Concrete | ಕಾಂಕ್ರೀಟ್
 D) Steel | ಸ್ಟೀಲ್

Answer: C) Concrete | ಕಾಂಕ್ರೀಟ್

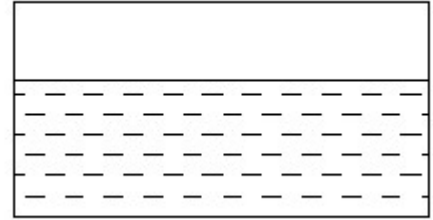
9. Which arrow head is correct as per standard? | ಮಾನದಂಡದ ಪ್ರಕಾರ ಯಾವ ಬಾಣದ ಹೆಡ್ ಸರಿಯಾಗಿದೆ?



- A) D
 B) A
 C) C
 D) B

Answer: B) A

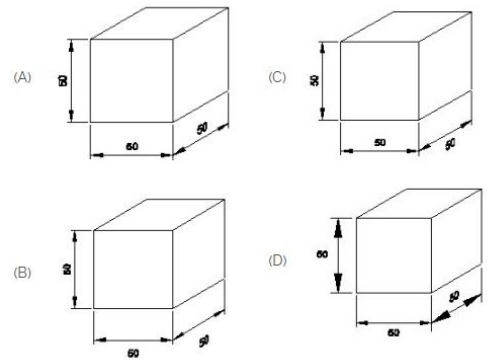
10. Identify the conventional symbol of material? | ವಸ್ತುವಿನ ಕನ್ವೆಷನಲ್ ಚಿಹ್ನೆಯನ್ನು ಗುರುತಿಸಿ?



- A) Asbestos | ಆಸ್ಟೆಸ್ಬೋಸ್
 B) Glass | ಗಾಜು
 C) Concrete | ಕಾಂಕ್ರೀಟ್
 D) Water | ನೀರು

Answer: D) Water | ನೀರು

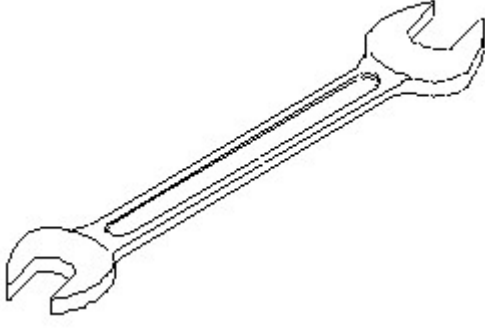
11. Which drawing dimension is correct as per IS standard? | IS ಮಾನದಂಡದ ಪ್ರಕಾರ ಯಾವ ರೇಖಾಚಿತ್ರದ ಆಯಾಮವು ಸರಿಯಾಗಿದೆ?



- A) D
 B) B
 C) A
 D) C

Answer: C) A


12. Identify the name of tool? | ಉಪಕರಣದ ಹೆಸರನ್ನು ಗುರುತಿಸುವುದೇ?



- A) Open end spanner | ಓಪನ್ ಎಂಡ್ ಸ್ಪಾನರ್
 B) Ring spanner | ರಿಂಗ್ ಸ್ಪಾನರ್
 C) Adjustable spanner | ಹೊಂದಿಸಬಹುದಾದ ಸ್ಪಾನರ್
 D) Combination spanner | ಕಾಂಬಿನೇಷನ್ ಸ್ಪಾನರ್

Answer: A) Open end spanner | ಓಪನ್ ಎಂಡ್ ಸ್ಪಾನರ್

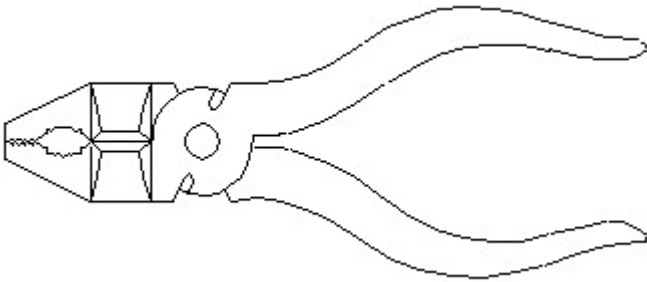
13. Identify the conventional symbol of material? | ವಸ್ತುವಿನ ಕನ್ವೆಷನಲ್ ಚಿಹ್ನೆಯನ್ನು ಗುರುತಿಸಿ?



- A) Wood | ಮರ
 B) Concrete | ಕಾಂಕ್ರೀಟ್
 C) Glass | ಗಾಜು
 D) Steel | ಸ್ಟೀಲ್

Answer: C) Glass | ಗಾಜು

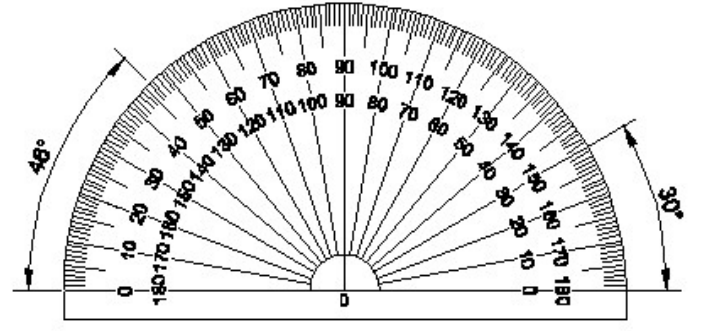
14. Identify the name of tool? | ಉಪಕರಣದ ಹೆಸರನ್ನು ಗುರುತಿಸುವುದೇ?



- A) Double cutting shear | ಡಬಲ್ ಕಟಿಂಗ್ ಸಿಯರ್
 B) Cutting plier | ಕಟಿಂಗ್ ಪ್ಲಿಯರ್
 C) Hawk-billed shear | ಹಾಕ್-ಬಿಲ್ಡ್ ಸಿಯರ್
 D) Aviation shear | ಏವಿಯೇಷನ್ ಸಿಯರ್

Answer: B) Cutting plier | ಕಟಿಂಗ್ ಪ್ಲಿಯರ್

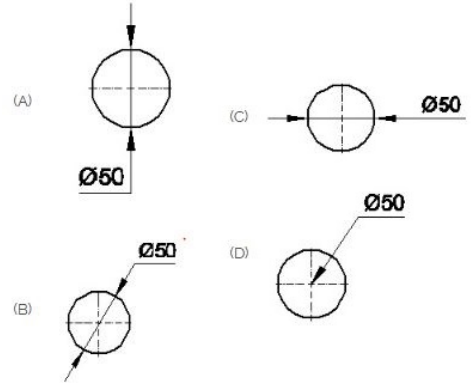
15. Identify the name of instrument? | ಉಪಕರಣದ ಹೆಸರನ್ನು ಗುರುತಿಸುವುದೇ?



- A) French curve | ಫ್ರೆಂಚ್ ಕರ್ವ್
 B) T square | T ಸ್ಕ್ವೇರ್
 C) Set square | ಸೆಟ್ ಸ್ಕ್ವೇರ್
 D) Protractor | ಪ್ರೊಟ್ರಾಕ್ಟರ್

Answer: D) Protractor | ಪ್ರೊಟ್ರಾಕ್ಟರ್

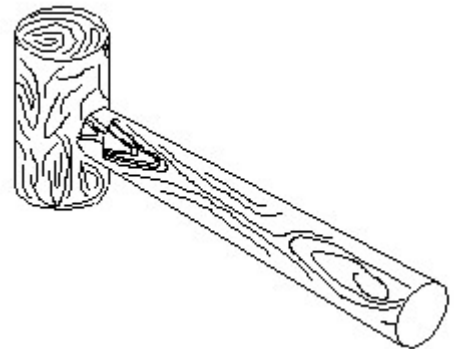
16. Which dimension correctly marked in the circle as per standard? | ಮಾನದಂಡದ ಪ್ರಕಾರ ವೃತ್ತದಲ್ಲಿ ಯಾವ ಆಯಾಮವನ್ನು ಸರಿಯಾಗಿ ಗುರುತಿಸಲಾಗಿದೆ?



- A) B
 B) D
 C) C
 D) A

Answer: A) B

17. Identify the name of tool? | ಉಪಕರಣದ ಹೆಸರನ್ನು ಗುರುತಿಸುವುದೇ?



- A) Straight pein hammer | ಸ್ಟ್ರೇಟ್ ಪೆಯಿನ್ ಸುತ್ತಿಗೆ
 B) Mallet | ಮ್ಯಾಲೆಟ್
 C) Ball pein hammer | ಬಾಲ್ ಪೆನ್ ಸುತ್ತಿಗೆ
 D) Cross pein hammer | ಕ್ರಾಸ್ ಪೀನ್ ಸುತ್ತಿಗೆ

Answer: B) Mallet | ಮ್ಯಾಲೆಟ್

18. What is the trimmed size of A4 sheet? | A4 ಹಾಳೆಯು ಟ್ರಿಮ್ ಮಾಡಿದ ಗಾತ್ರ ಎಷ್ಟು?

A) 594 x 841

B) 148 x 210

C) 210 x 297

D) 841 x 1189

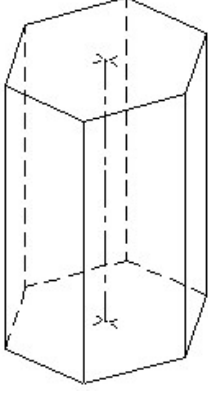
Answer: C) 210 x 297

C) Pentagonal prism |
ಪೆಂಟಗೋನಲ್ ಪ್ರಿಸ್ಮ್

D) Square prism | ಚದರ ಪ್ರಿಸ್ಮ್

Answer: B) Hexagonal prism | ಷಡ್ಭುಜೀಯ ಪ್ರಿಸ್ಮ್

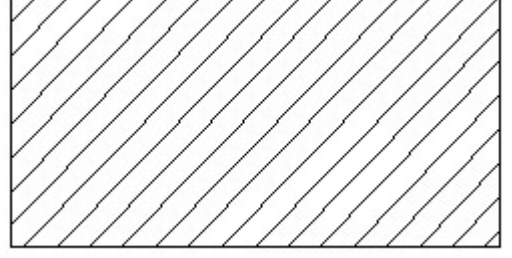
19. Identify the name of prism? | ಪ್ರಿಸ್ಮ್ ಹೆಸರನ್ನು ಗುರುತಿಸುವುದೇ?



A) Triangular prism | ತ್ರಿಕೋನ ಪ್ರಿಸ್ಮ್

B) Hexagonal prism | ಷಡ್ಭುಜೀಯ ಪ್ರಿಸ್ಮ್

20. Identify the conventional symbol of material? | ವಸ್ತುವಿನ ಕನ್ವೆಷನಲ್ ಚಿಹ್ನೆಯನ್ನು ಗುರುತಿಸಿ?



A) Lead | ಲೀಡ್

B) Steel | ಸ್ಟೀಲ್

C) Glass | ಗಾಜು

D) Porcelain | ಪಿಂಗಾಣಿ

Answer: B) Steel | ಸ್ಟೀಲ್