

Duration: 30 Mins

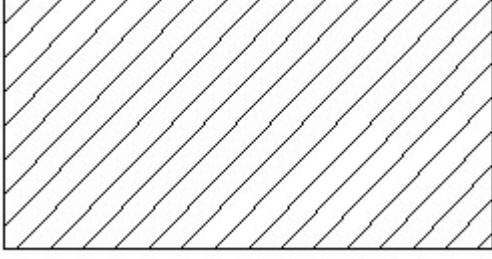
Total Marks: 25

ID: ITISKILL894161

Student Name: _____

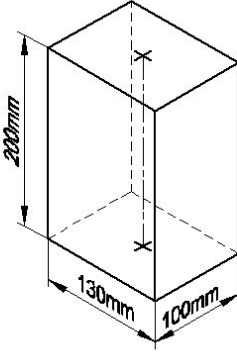
Roll No: _____

1. Identify the conventional symbol of material? | ವಸ್ತುವಿನ ಕನ್ವೆಷನಲ್ ಚಿಹ್ನೆಯನ್ನು ಗುರುತಿಸಿ?



- A) Glass | ಗಾಜು
B) Porcelain | ಪಿಂಗಾಣಿ
C) Steel | ಸ್ಟೀಲ್
D) Lead | ಲೀಡ್

2. Identify the name of prism? | ತ್ರಿಭುಜದ ಹೆಸರನ್ನು ಗುರುತಿಸುವುದೇ?

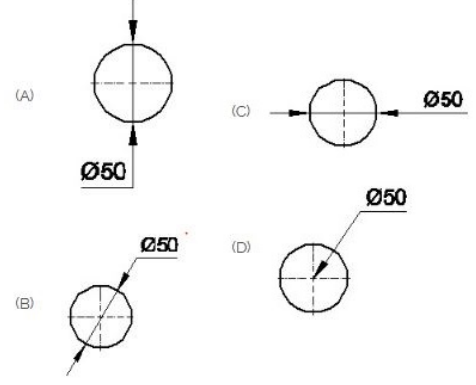


- A) Hexagonal prism | ಷಡ್ಭುಜೀಯ ತ್ರಿಭುಜ
B) Triangular prism | ತ್ರಿಕೋನ ತ್ರಿಭುಜ
C) Square prism | ಚದರ ತ್ರಿಭುಜ
D) Rectangle prism | ಆಯತ ತ್ರಿಭುಜ

3. What is the trimmed size of A4 sheet? | A4 ಹಾಳೆಯ ತ್ರಿಮಾ ಮಾಡಿದ ಗಾತ್ರ ಎಷ್ಟು?

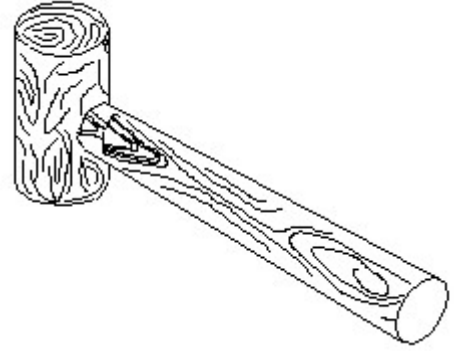
- A) 210 x 297
B) 148 x 210
C) 841 x 1189
D) 594 x 841

4. Which dimension correctly marked in the circle as per standard? | ಮಾನದಂಡದ ಪ್ರಕಾರ ವೃತ್ತದಲ್ಲಿ ಯಾವ ಆಯಾಮವನ್ನು ಸರಿಯಾಗಿ ಗುರುತಿಸಲಾಗಿದೆ?



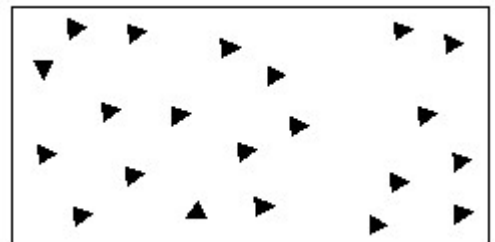
- A) A
B) C
C) B
D) D

5. Identify the name of tool? | ಉಪಕರಣದ ಹೆಸರನ್ನು ಗುರುತಿಸುವುದೇ?



- A) Cross pein hammer | ಕ್ರಾಸ್ ಪೀನ್ ಸುತ್ತಿಗೆ
B) Ball pein hammer | ಬಾಲ್ ಪೀನ್ ಸುತ್ತಿಗೆ
C) Straight pein hammer | ಸ್ಟ್ರೇಟ್ ಪೀನ್ ಸುತ್ತಿಗೆ
D) Mallet | ಮ್ಯಾಲೆಟ್

6. Identify the conventional symbol of material? | ವಸ್ತುವಿನ ಕನ್ವೆಷನಲ್ ಚಿಹ್ನೆಯನ್ನು ಗುರುತಿಸಿ?

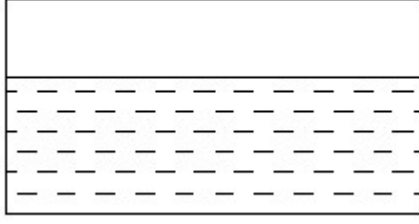


- A) Steel | ಸ್ಟೀಲ್
B) Glass | ಗಾಜು

C) Wood | ಮರ

D) Concrete | ಕಾಂಕ್ರೀಟ್

7. Identify the conventional symbol of material? | ವಸ್ತುವಿನ ಕನ್ವೆಷನಲ್ ಚಿಹ್ನೆಯನ್ನು ಗುರುತಿಸಿ?



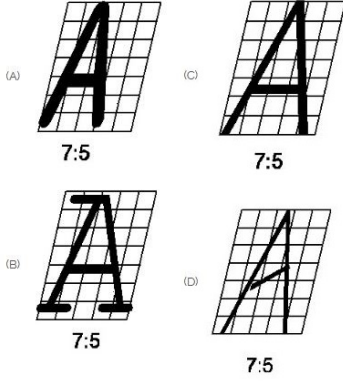
A) Water | ನೀರು

B) Glass | ಗಾಜು

C) Asbestos | ಆಸ್ಟೆಸ್ಟೋಸ್

D) Concrete | ಕಾಂಕ್ರೀಟ್

8. Which single stroke inclined letter 'A' is correct as per IS standard? | IS ಮಾನದಂಡದ ಪ್ರಕಾರ ಯಾವ ಏಕ ಸ್ಟ್ರೋಕ್ ಇಳಿಜಾರಿನ ಅಕ್ಷರ 'A' ಸರಿಯಾಗಿದೆ?



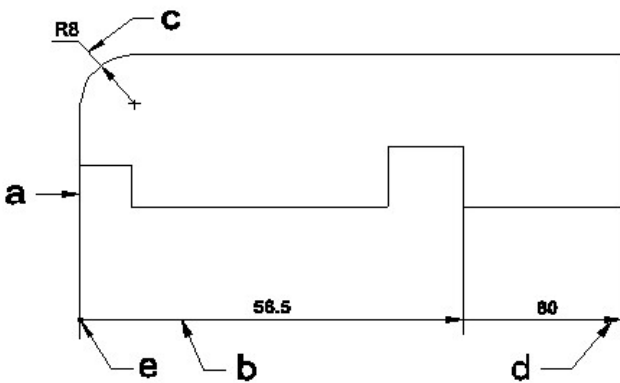
A) D

B) B

C) A

D) C

9. Identify the line 'a' or 'b' in the diagram? | ರೇಖೆಯನ್ನು ಗುರುತಿಸುವುದೇ?



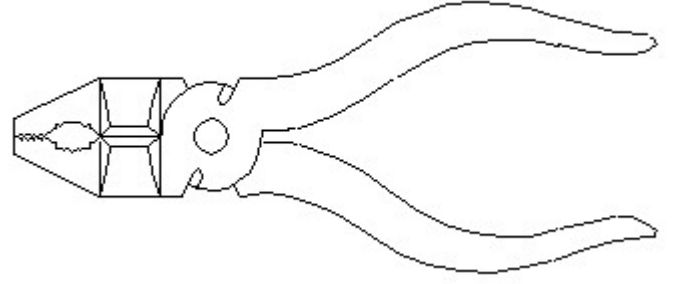
A) Extension line | ವಿಸ್ತರಣಾ ರೇಖೆ

B) Dimension line | ಅಳತೆ ರೇಖೆ

C) Leader line | ಲೀಡರ್ ರೇಖೆ

D) Termination of dimension line | ಅಳತೆ ರೇಖೆಯ ಮುಕ್ತಾಯ

10. Identify the name of tool? | ಉಪಕರಣದ ಹೆಸರನ್ನು ಗುರುತಿಸುವುದೇ?



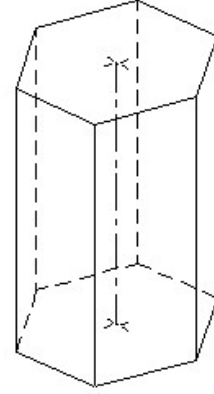
A) Cutting plier | ಕಟಿಂಗ್ ಪ್ಲಿಯರ್

B) Hawk-billed shear | ಹಾಕ್-ಬಿಲ್ಡ್ ಸೀಯರ್

C) Double cutting shear | ಡಬಲ್ ಕಟಿಂಗ್ ಸೀಯರ್

D) Aviation shear | ಏವಿಯೇಷನ್ ಸೀಯರ್

11. Identify the name of prism? | ಪ್ರಿಸ್ಮ್ ಹೆಸರನ್ನು ಗುರುತಿಸುವುದೇ?



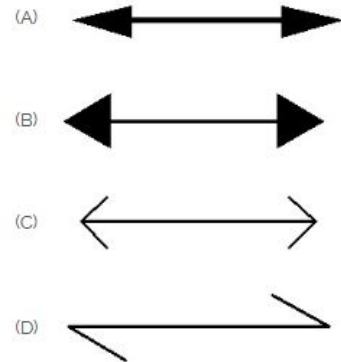
A) Square prism | ಚದರ ಪ್ರಿಸ್ಮ್

B) Triangular prism | ತ್ರಿಕೋನ ಪ್ರಿಸ್ಮ್

C) Hexagonal prism | ಷಡ್ಭುಜೀಯ ಪ್ರಿಸ್ಮ್

D) Pentagonal prism | ಪೆಂಟಾಗೋನಲ್ ಪ್ರಿಸ್ಮ್

12. Which arrow head is correct as per standard? | ಮಾನದಂಡದ ಪ್ರಕಾರ ಯಾವ ಬಾಣದ ಹೆಡ್ ಸರಿಯಾಗಿದೆ?



A) A

B) D

C) C

D) B

13. Which drawing dimension is correct as per IS standard? | IS ಮಾನದಂಡದ ಪ್ರಕಾರ ಯಾವ ರೇಖಾಚಿತ್ರದ ಆಯಾಮವು ಸರಿಯಾಗಿದೆ?

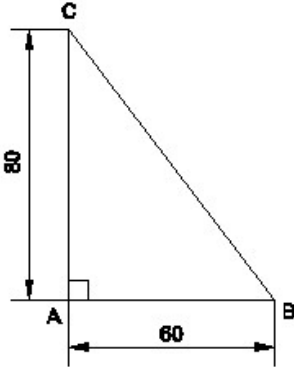


- A) A
C) B
- B) C
D) D

14. Compass used to draw for ____. | ಕಂಪಾಸ್ ಅನ್ನು ____ ಗೆ ಸೆಳೆಯಲು ಬಳಸಲಾಗುತ್ತದೆ.

- A) square | ಚದರ
C) rectangle | ಆಯಾತ
- B) circle | ವೃತ್ತ
D) triangle | ತ್ರಿಕೋನ

15. Identify the name of the triangle? | ತ್ರಿಕೋನದ ಹೆಸರನ್ನು ಗುರುತಿಸುವುದೇ?



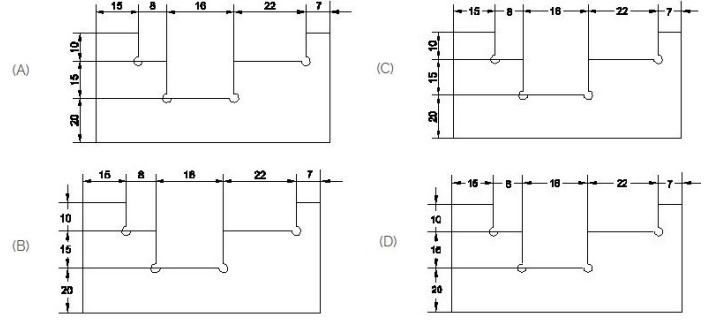
- A) Isosceles triangle | ಸಮದ್ವಿಬಾಹು ತ್ರಿಭುಜ
C) Scalene triangle | ಸ್ಕೇಲಿನ್ ತ್ರಿಕೋನ
- B) Right angle triangle | ಬಲ ಕೋನ ತ್ರಿಕೋನ
D) Equilateral triangle | ಸಮಕೋನ ತ್ರಿಕೋನ

16. Identify the name of set square? | ಸೆಟ್ ಚೌಕದ ಹೆಸರನ್ನು ಗುರುತಿಸುವುದೇ?



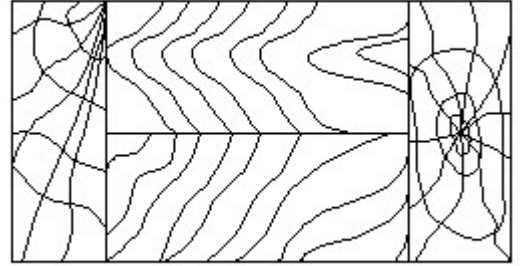
- A) 30° set square | 30° ಸೆಟ್ ಸ್ಕ್ವೇರ್
C) 60° set square | 60° ಸೆಟ್ ಸ್ಕ್ವೇರ್
- B) 15° set square | 15° ಸೆಟ್ ಸ್ಕ್ವೇರ್
D) 45° set square | 45° ಸೆಟ್ ಸ್ಕ್ವೇರ್

17. Identify the correct aligned system dimension? | ಸರಿಯಾದ ಜೋಡಿಸಲಾದ ಸಿಸ್ಟಮ್ ಆಯಾಮವನ್ನು ಗುರುತಿಸುವುದೇ?



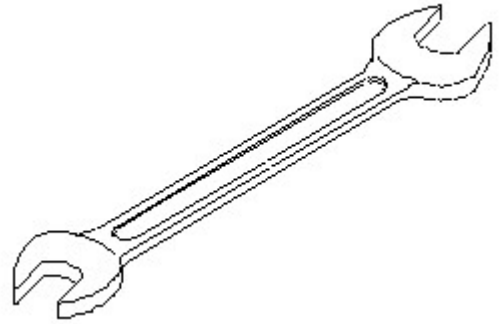
- A) A
C) C
- B) D
D) B

18. Identify the conventional symbol of material? | ವಸ್ತುವಿನ ಕನ್ವೆಷನಲ್ ಚಿಹ್ನೆಯನ್ನು ಗುರುತಿಸಿ?



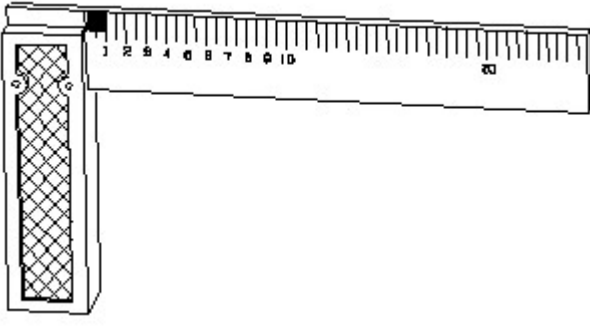
- A) Glass | ಗಾಜು
C) Wood | ಮರ
- B) Paper | ಪೇಪರ್
D) Lead | ಲೀಡ್

19. Identify the name of tool? | ಉಪಕರಣದ ಹೆಸರನ್ನು ಗುರುತಿಸುವುದೇ?



- A) Ring spanner | ರಿಂಗ್ ಸ್ಪ್ಯಾನರ್
C) Open end spanner | ಓಪನ್ ಎಂಡ್ ಸ್ಪ್ಯಾನರ್
- B) Combination spanner | ಕಾಂಬಿನೇಷನ್ ಸ್ಪ್ಯಾನರ್
D) Adjustable spanner | ಹೊಂದಿಸಬಹುದಾದ ಸ್ಪ್ಯಾನರ್

20. 1). Identify the name of tool? | ಉಪಕರಣದ ಹೆಸರನ್ನು ಗುರುತಿಸುವುದೇ?

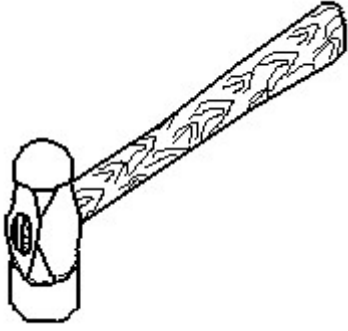


A) Try square | ಟ್ರೈ ಸ್ಕ್ವೇರ್

B) Surface gauge | ಮೇಲ್ಮೈ ಮಾಪಕ

C) Feeler gauge | ಫೀಲರ್ ಗೇಜ್ D) Steel rule | ಸ್ಟೀಲ್ ರೂಲ್

21. Identify the name of tool? | ಉಪಕರಣದ ಹೆಸರನ್ನು ಗುರುತಿಸುವುದೇ?



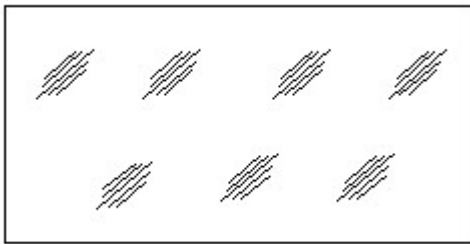
A) Sledge hammer | ಸ್ಲೆಡ್ಜ್ ಹ್ಯಾಮರ್

B) Ball peen hammer | ಬಾಲ್ ಪೆನ್ ಹ್ಯಾಮರ್

C) Straight peen hammer | ಸ್ಟ್ರೇಟ್ ಪೆನ್ ಹ್ಯಾಮರ್

D) Cross peen hammer | ಕ್ರಾಸ್ ಪೆನ್ ಹ್ಯಾಮರ್

22. Identify the conventional symbol of material? | ವಸ್ತುವಿನ ಕನ್ವೆಷನಲ್ ಚಿಹ್ನೆಯನ್ನು ಗುರುತಿಸಿ?



A) Wood | ಮರ

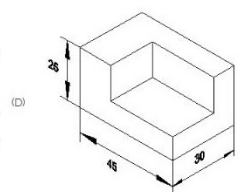
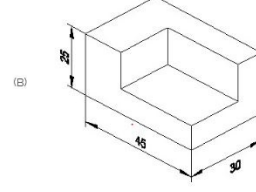
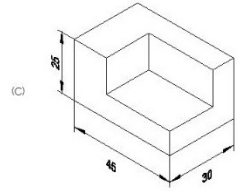
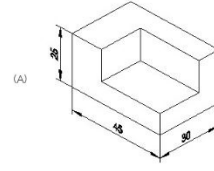
B) Steel | ಸ್ಟೀಲ್

C) Glass | ಗಾಜು

D) Concrete | ಕಾಂಕ್ರೀಟ್

23. Which drawing dimension is correct as per standard

drawing practice? | ಸ್ಟಾಂಡರ್ಡ್ ಡ್ರಾಯಿಂಗ್ ಅಭ್ಯಾಸದ ಪ್ರಕಾರ ಯಾವ ಡ್ರಾಯಿಂಗ್ ಆಯಾಮ ಸರಿಯಾಗಿದೆ?



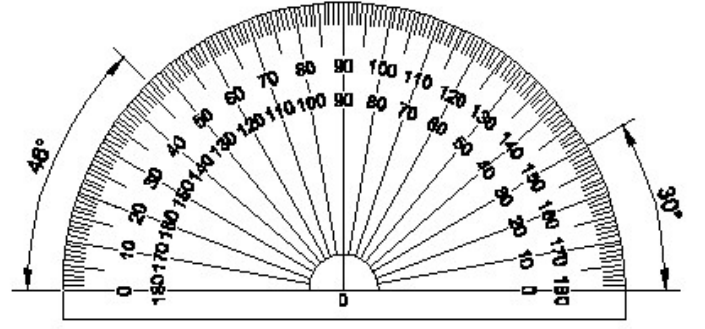
A) A

B) C

C) D

D) B

24. Identify the name of instrument? | ಉಪಕರಣದ ಹೆಸರನ್ನು ಗುರುತಿಸುವುದೇ?



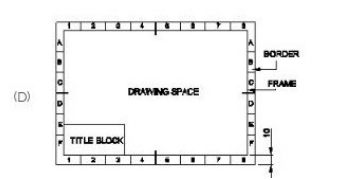
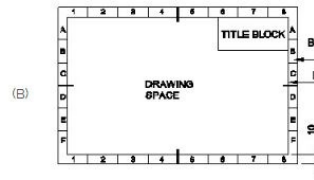
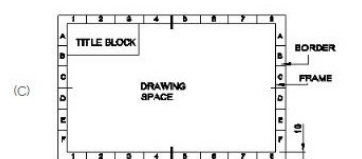
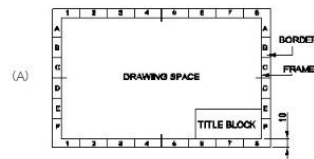
A) Protractor | ಪ್ರೊಟ್ರಾಕ್ಟರ್

B) T square | ಟಿ ಸ್ಕ್ವೇರ್

C) French curve | ಫ್ರೆಂಚ್ ಕರ್ವ್

D) Set square | ಸೆಟ್ ಸ್ಕ್ವೇರ್

25. Which title block position is correct as standard practice? | ಪ್ರಮಾಣಿತ ಅಭ್ಯಾಸದಂತೆ ಯಾವ ಥೀರ್ಷಿಕ್ ಬ್ಲಾಕ್ ಸ್ಥಾನವು ಸರಿಯಾಗಿದೆ?



A) A

B) C

C) B

D) D