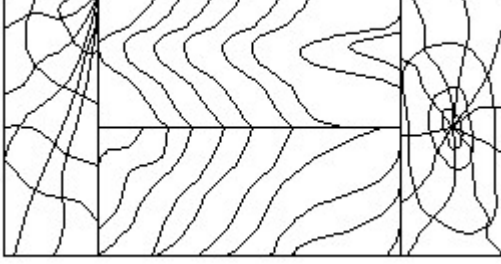


Duration: 30 Mins

Total Marks: 25

Q.ID: ITISKILL894161

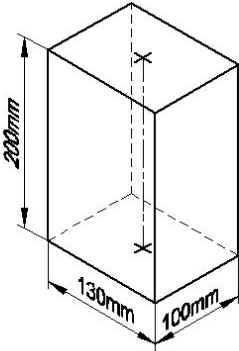
1. Identify the conventional symbol of material? | ವಸ್ತುವಿನ ಕನ್ವೆಷನಲ್ ಚಿಹ್ನೆಯನ್ನು ಗುರುತಿಸಿ?



- A) Wood | ಮರ
B) Paper | ಪೇಪರ್
C) Lead | ಲೀಡ್
D) Glass | ಗಾಜು

Answer: A) Wood | ಮರ

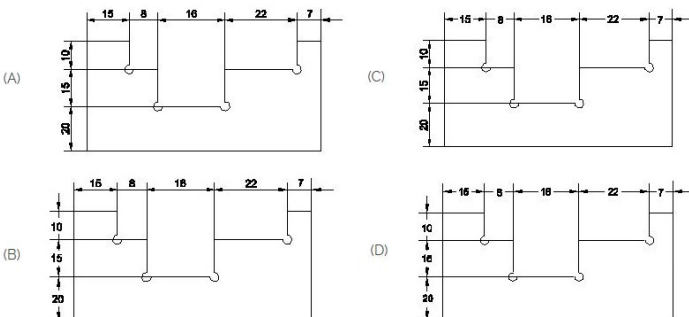
2. Identify the name of prism? | ಪ್ರಿಸ್ಮ್ ಹೆಸರನ್ನು ಗುರುತಿಸುವುದೇ?



- A) Triangular prism | ತ್ರಿಕೋನ ಪ್ರಿಸ್ಮ್
B) Rectangle prism | ಆಯತ ಪ್ರಿಸ್ಮ್
C) Square prism | ಚದರ ಪ್ರಿಸ್ಮ್
D) Hexagonal prism | ಷಡ್ಭುಜೀಯ ಪ್ರಿಸ್ಮ್

Answer: B) Rectangle prism | ಆಯತ ಪ್ರಿಸ್ಮ್

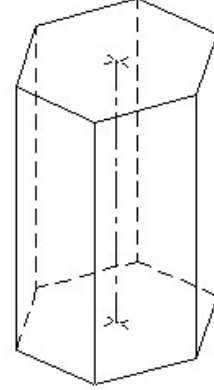
3. Identify the correct aligned system dimension? | ಸರಿಯಾದ ಜೋಡಿಸಲಾದ ಸಿಸ್ಟಮ್ ಆಯಾಮವನ್ನು ಗುರುತಿಸುವುದೇ?



- A) A
B) B
C) D
D) C

Answer: A) A

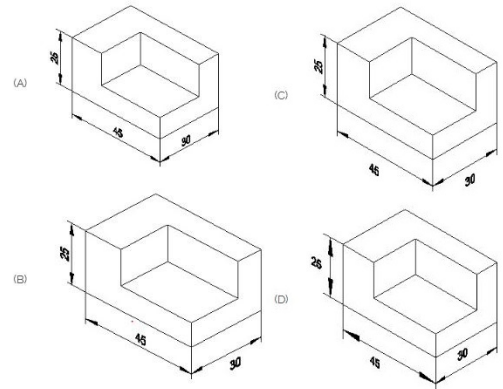
4. Identify the name of prism? | ಪ್ರಿಸ್ಮ್ ಹೆಸರನ್ನು ಗುರುತಿಸುವುದೇ?



- A) Pentagonal prism | ಪೆಂಟಾಗೋನಲ್ ಪ್ರಿಸ್ಮ್
B) Square prism | ಚದರ ಪ್ರಿಸ್ಮ್
C) Triangular prism | ತ್ರಿಕೋನ ಪ್ರಿಸ್ಮ್
D) Hexagonal prism | ಷಡ್ಭುಜೀಯ ಪ್ರಿಸ್ಮ್

Answer: D) Hexagonal prism | ಷಡ್ಭುಜೀಯ ಪ್ರಿಸ್ಮ್

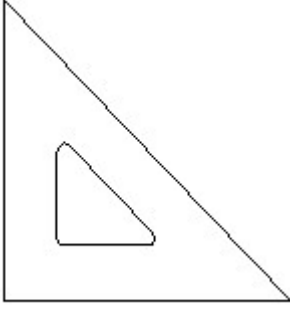
5. Which drawing dimension is correct as per standard drawing practice? | ಸ್ಟಾಂಡರ್ಡ್ ಡ್ರಾಯಿಂಗ್ ಅಭ್ಯಾಸದ ಪ್ರಕಾರ ಯಾವ ಡ್ರಾಯಿಂಗ್ ಆಯಾಮ ಸರಿಯಾಗಿದೆ?



- A) B
B) A
C) C
D) D

Answer: B) A

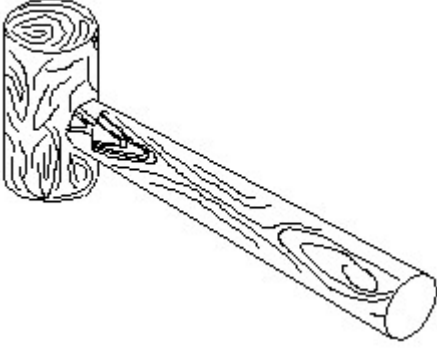
6. Identify the name of set square? | ಸೆಟ್ ಚೌಕದ ಹೆಸರನ್ನು ಗುರುತಿಸುವುದೇ?



- A) 60° set square | 60° ಸೆಟ್ ಸ್ಕ್ವೇರ್
 B) 30° set square | 30° ಸೆಟ್ ಸ್ಕ್ವೇರ್
 C) 45° set square | 45° ಸೆಟ್ ಸ್ಕ್ವೇರ್
 D) 15° set square | 15° ಸೆಟ್ ಸ್ಕ್ವೇರ್

Answer: C) 45° set square | 45° ಸೆಟ್ ಸ್ಕ್ವೇರ್

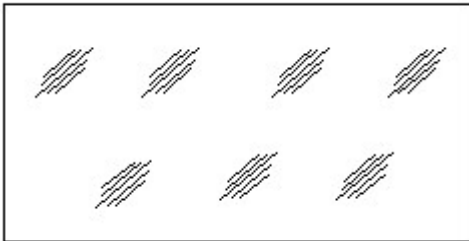
7. Identify the name of tool? | ಉಪಕರಣದ ಹೆಸರನ್ನು ಗುರುತಿಸುವುದೇ?



- A) Ball pein hammer | ಬಾಲ್ ಪೆನ್ ಸುತ್ತಿಗೆ
 B) Straight pein hammer | ಸ್ಟ್ರೈಟ್ ಪೆನ್ ಸುತ್ತಿಗೆ
 C) Mallet | ಮ್ಯಾಲೆಟ್
 D) Cross pein hammer | ಕ್ರಾಸ್ ಪೆನ್ ಸುತ್ತಿಗೆ

Answer: C) Mallet | ಮ್ಯಾಲೆಟ್

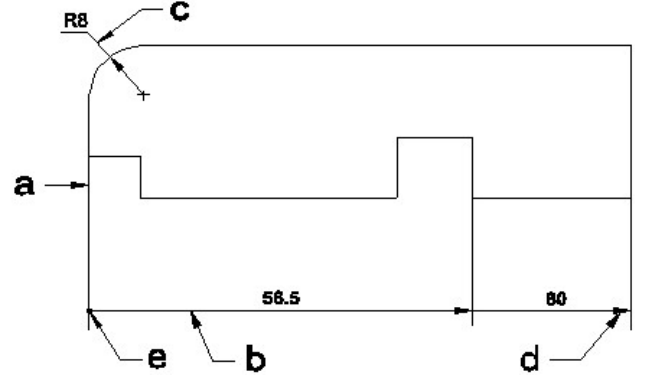
8. Identify the conventional symbol of material? | ವಸ್ತುವಿನ ಕನ್ವೆಷನಲ್ ಚಿಹ್ನೆಯನ್ನು ಗುರುತಿಸಿ?



- A) Concrete | ಕಾಂಕ್ರೀಟ್
 B) Glass | ಗಾಜು
 C) Steel | ಸ್ಟೀಲ್
 D) Wood | ಮರ

Answer: B) Glass | ಗಾಜು

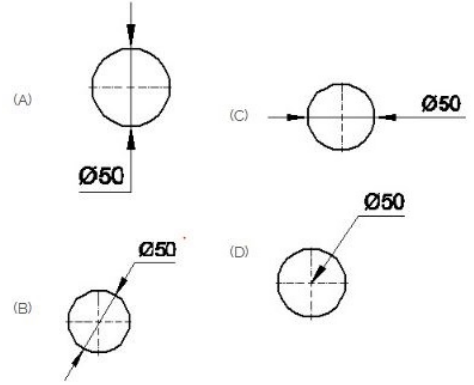
9. Identify the line □ b □ ? | □ ಸಾಲಿನನ್ನು ಗುರುತಿಸುವುದೇ?



- A) Leader line | ಲೀಡರ್ ಲೈನ್
 B) Termination of dimension line | ಆಯಾಮ ರೇಖೆಯ ಮುಕ್ತಾಯ
 C) Dimension line | ಡೈಮೆನ್ಷನ್ ಲೈನ್
 D) Extension line | ಎಕ್ಸ್ಟೆನ್ಷನ್ ಲೈನ್

Answer: C) Dimension line | ಡೈಮೆನ್ಷನ್ ಲೈನ್

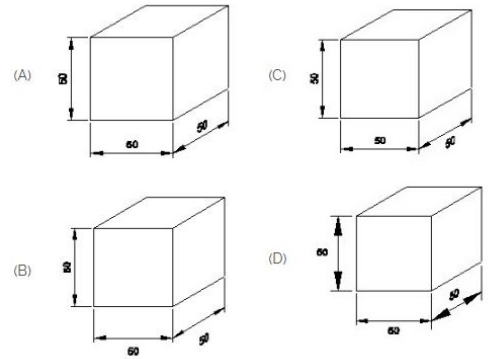
10. Which dimension correctly marked in the circle as per standard? | ಮಾನದಂಡದ ಪ್ರಕಾರ ವೃತ್ತದಲ್ಲಿ ಯಾವ ಆಯಾಮವನ್ನು ಸರಿಯಾಗಿ ಗುರುತಿಸಲಾಗಿದೆ?



- A) D
 B) B
 C) C
 D) A

Answer: B) B

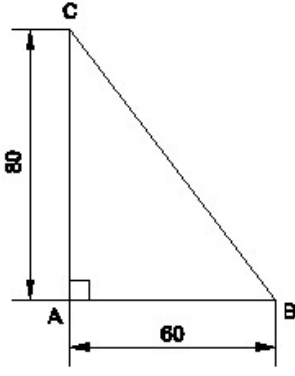
11. Which drawing dimension is correct as per IS standard? | IS ಮಾನದಂಡದ ಪ್ರಕಾರ ಯಾವ ರೇಖಾಚಿತ್ರದ ಆಯಾಮವು ಸರಿಯಾಗಿದೆ?



- A) A
 B) C
 C) D
 D) B

Answer: A) A

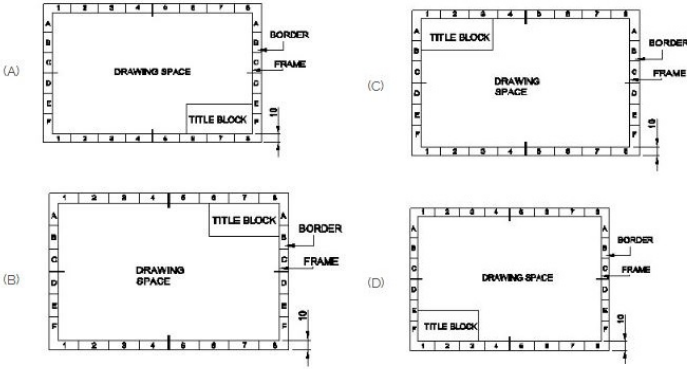
12. Identify the name of the triangle? | ತ್ರಿಕೋನದ ಹೆಸರನ್ನು ಗುರುತಿಸುವುದೇ?



- A) Isosceles triangle | ಸಮದ್ವಿಬಾಹು ತ್ರಿಕೋನ
 B) Right angle triangle | ಬಲ ಕೋನ ತ್ರಿಕೋನ
 C) Scalene triangle | ಸ್ಕೇಲಿನ್ ತ್ರಿಕೋನ
 D) Equilateral triangle | ಸಮಕೋನ ತ್ರಿಕೋನ

Answer: B) Right angle triangle | ಬಲ ಕೋನ ತ್ರಿಕೋನ

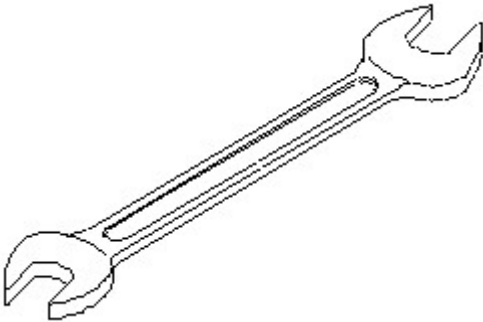
13. Which title block position is correct as standard practice? | ಪ್ರಮಾಣಿತ ಅಭ್ಯಾಸದಂತೆ ಯಾವ ಶೀರ್ಷಿಕೆ ಬಾಕ್ಸ್ ಸ್ಥಾನವು ಸರಿಯಾಗಿದೆ?



- A) A
 B) D
 C) C
 D) B

Answer: A) A

14. Identify the name of tool? | ಉಪಕರಣದ ಹೆಸರನ್ನು ಗುರುತಿಸುವುದೇ?



- A) Open end spanner | ಓಪನ್ ಎಂಡ್ ಸ್ಪ್ಯಾನರ್
 B) Combination spanner | ಕಾಂಬಿನೇಷನ್ ಸ್ಪ್ಯಾನರ್
 C) Adjustable spanner | ಹಾಂದಿಸಬಹುದಾದ ಸ್ಪ್ಯಾನರ್
 D) Ring spanner | ರಿಂಗ್ ಸ್ಪ್ಯಾನರ್

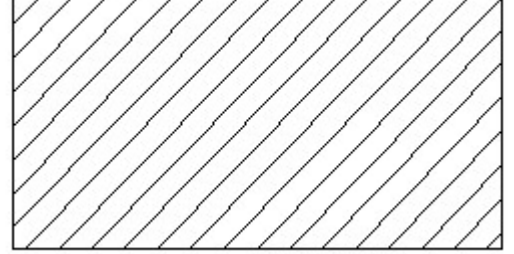
Answer: A) Open end spanner | ಓಪನ್ ಎಂಡ್ ಸ್ಪ್ಯಾನರ್

15. What is the trimmed size of A4 sheet? | A4 ಹಾಳೆಯ ಟ್ರಿಮ್ ಮಾಡಿದ ಗಾತ್ರ ಎಷ್ಟು?

- A) 210 x 297
 B) 594 x 841
 C) 148 x 210
 D) 841 x 1189

Answer: A) 210 x 297

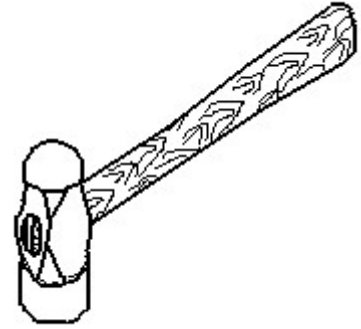
16. Identify the conventional symbol of material? | ವಸ್ತುವಿನ ಕನ್ವೆಷನಲ್ ಚಿಹ್ನೆಯನ್ನು ಗುರುತಿಸಿ?



- A) Glass | ಗಾಜು
 B) Steel | ಸ್ಟೀಲ್
 C) Porcelain | ಪಿಂಗಾಣಿ
 D) Lead | ಲೀಡ್

Answer: B) Steel | ಸ್ಟೀಲ್

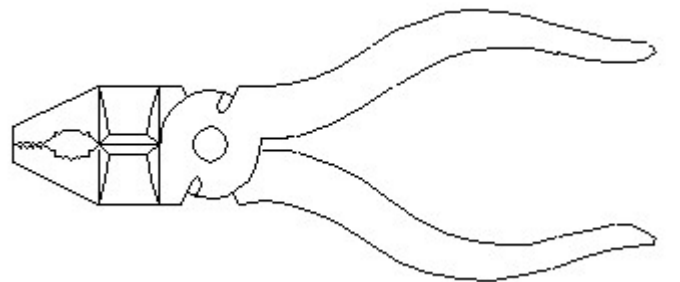
17. Identify the name of tool? | ಉಪಕರಣದ ಹೆಸರನ್ನು ಗುರುತಿಸುವುದೇ?



- A) Cross peen hammer | ಕ್ರಾಸ್ ಪೀನ್ ಸುತ್ತಿಗೆ
 B) Straight peen hammer | ನೇರ ಪೀನ್ ಸುತ್ತಿಗೆ
 C) Sledge hammer | ಸ್ಲೆಡ್ಜ್ ಸುತ್ತಿಗೆ
 D) Ball peen hammer | ಬಾಲ್ ಪೀನ್ ಸುತ್ತಿಗೆ

Answer: D) Ball peen hammer | ಬಾಲ್ ಪೀನ್ ಸುತ್ತಿಗೆ

18. Identify the name of tool? | ಉಪಕರಣದ ಹೆಸರನ್ನು ಗುರುತಿಸುವುದೇ?

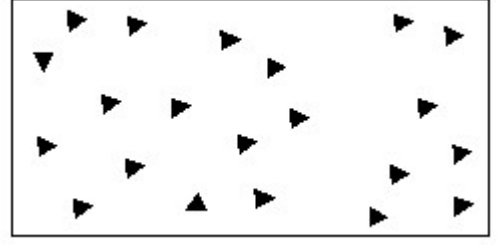


Answer: A) Open end spanner | ಓಪನ್ ಎಂಡ್ ಸ್ಪ್ಯಾನರ್

A) Hawk-billed shear | ಹಾಕ್-ಬಿಲ್ಡ್ ಸಿಯರ್
B) Cutting plier | ಕಟಿಂಗ್ ಪ್ಲಿಯರ್

C) Double cutting shear | ಡಬಲ್ ಕಟಿಂಗ್ ಸಿಯರ್
D) Aviation shear | ಏವಿಯೇಷನ್ ಸಿಯರ್

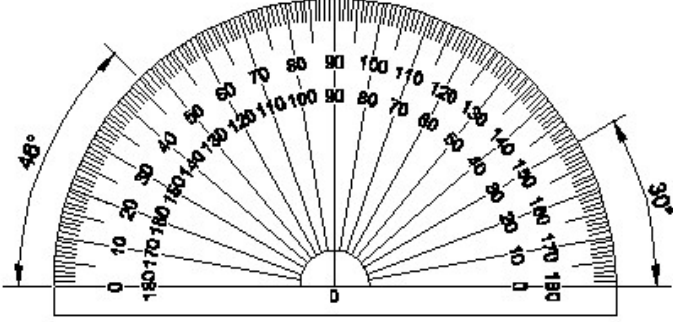
Answer: B) Cutting plier | ಕಟಿಂಗ್ ಪ್ಲಿಯರ್



- A) Glass | ಗಾಜು
B) Wood | ಮರ
C) Concrete | ಕಾಂಕ್ರೀಟ್
D) Steel | ಸ್ಟೀಲ್

Answer: C) Concrete | ಕಾಂಕ್ರೀಟ್

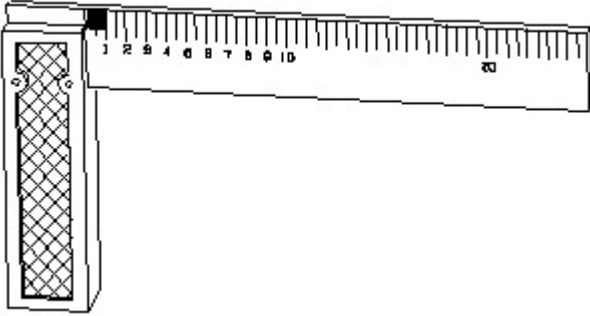
19. Identify the name of instrument? | ಉಪಕರಣದ ಹೆಸರನ್ನು ಗುರುತಿಸುವುದೇ?



- A) French curve | ಫ್ರೆಂಚ್ ಕರ್ವ್
B) T square | ಟಿ ಸ್ಕ್ವೇರ್
C) Protractor | ಪ್ರೊಟ್ರಾಕ್ಟರ್
D) Set square | ಸೆಟ್ ಸ್ಕ್ವೇರ್

Answer: C) Protractor | ಪ್ರೊಟ್ರಾಕ್ಟರ್

20. 1). Identify the name of tool? | ಉಪಕರಣದ ಹೆಸರನ್ನು ಗುರುತಿಸುವುದೇ?



- A) Steel rule | ಸ್ಟೀಲ್ ರೂಲ್
B) Surface gauge | ಮೇಲ್ಮೈ ಮಾಪಕ
C) Feeler gauge | ಫೀಲರ್ ಗೇಜ್
D) Try square | ಟ್ರೈ ಸ್ಕ್ವೇರ್

Answer: D) Try square | ಟ್ರೈ ಸ್ಕ್ವೇರ್

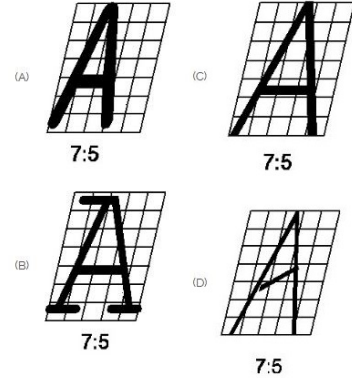
21. Compass used to draw for ____. | ಕಂಪಾಸ್ ಅನ್ನು _____ ಗೆ ಸೆಳೆಯಲು ಬಳಸಲಾಗುತ್ತದೆ.

- A) rectangle | ಆಯಾತ
B) circle | ವೃತ್ತ
C) square | ಚದರ
D) triangle | ತ್ರಿಕೋನ

Answer: B) circle | ವೃತ್ತ

22. Identify the conventional symbol of material? | ವಸ್ತುವಿನ ಕನ್ವೆಷನಲ್ ಚಿಹ್ನೆಯನ್ನು ಗುರುತಿಸಿ?

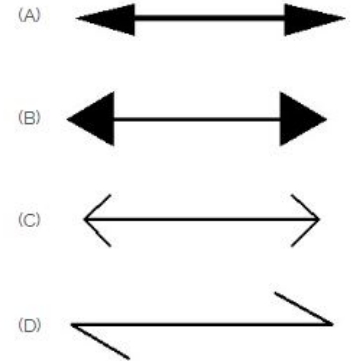
23. Which single stroke inclined letter A is correct as per IS standard? | IS ಮಾನದಂಡದ ಪ್ರಕಾರ ಯಾವ ಏಕ ಸ್ಟ್ರೋಕ್ ಇಳಿಜಾರಿನ ಅಕ್ಷರ A ಠರಿಯಾಗಿದೆ?



- A) A
B) B
C) D
D) C

Answer: D) C

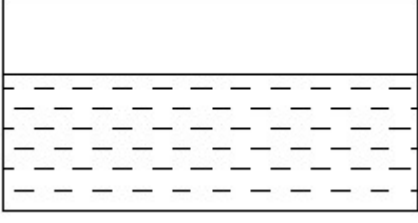
24. Which arrow head is correct as per standard? | ಮಾನದಂಡದ ಪ್ರಕಾರ ಯಾವ ಬಾಣದ ಹೆಡ್ ಸರಿಯಾಗಿದೆ?



- A) B
B) D
C) A
D) C

Answer: C) A

25. Identify the conventional symbol of material? | ವಸ್ತುವಿನ ಕನ್ವೆಷನಲ್ ಚಿಹ್ನೆಯನ್ನು ಗುರುತಿಸಿ?



A) Glass | ಗಾಜು

B) Concrete | ಕಾಂಕ್ರೀಟ್

C) Water | ನೀರು

D) Asbestos | ಆಸ್ಬೆಸ್ಟೋಸ್

Answer: C) Water | ನೀರು
