

Student Name: \_\_\_\_\_

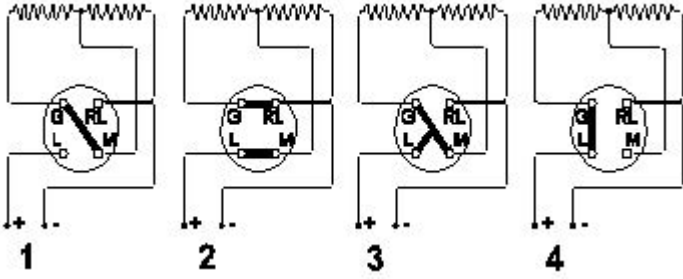
Roll No: \_\_\_\_\_

1. Which electrical effect works on electric bells? | ಎಲೆಕ್ಟ್ರಿಕ್ ಬೆಲ್‌ನಲ್ಲಿ ಯಾವ ಎಲೆಕ್ಟ್ರಿಕಲ್ ಪರಿಣಾಮ ಕೆಲಸ ಮಾಡುತ್ತದೆ?

A) Heating effect | ತಾಪನ ಪರಿಣಾಮ  
B) Chemical effect | ರಾಸಾಯನಿಕ ಪರಿಣಾಮ

C) Magnetic effect | ಮ್ಯಾಗ್ನೆಟಿಕ್ ಪರಿಣಾಮ  
D) Gas ionization effect | ಅನಿಲ ಅಯಾನೀಕರಣದ ಪರಿಣಾಮ

2. Which is the position for maximum output of the heater? | ಹೀಟರ್ ಗರಿಷ್ಠ ಉತ್ಪಾದನೆಯ ಸ್ಥಾನ ಯಾವುದು?



A) Position 4  
B) Position 1  
C) Position 2  
D) Position 3

3. Which type of A.C single phase motor is used in food mixer? | ಎ.ಸಿ ಸಿಂಗಲ್ ಫೇಸ್ ಮೋಟಾರ್‌ವನ್ನು ಯಾವ ರೀತಿಯ ಆಹಾರ ಮಿಕ್ಸರ್‌ನಲ್ಲಿ ಬಳಸಲಾಗುತ್ತದೆ?

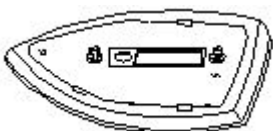
A) Repulsion motor | ವಿಕರ್ಷಣೆಯ ಮೋಟಾರ್  
B) Shaded pole motor | ಮಬ್ಬಾಧ ಧ್ರುವ ಮೋಟಾರ್

C) Split phase motor | ಸ್ಪ್ಲಿಟ್ ಫೇಸ್ ಮೋಟಾರ್  
D) Universal motor | ಯುನಿವರ್ಸಲ್ ಮೋಟಾರ್

4. Which material is used as heat insulator in between the outer casing and inner tank of a geyser? | ಗೀಸರ್‌ನ ಹೊರಕವಚ ಮತ್ತು ಒಳಗಿನ ತೊಟ್ಟಿಯ ನಡುವೆ ಯಾವ ವಸ್ತುವನ್ನು ಶಾಖ ನಿರೋಧಕವಾಗಿ ಬಳಸಲಾಗುತ್ತದೆ?

A) Plastic | ಪ್ಲಾಸ್ಟಿಕ್  
B) Glass wool | ಗಾಜಿನ ಉಣ್ಣೆ  
C) PVC  
D) Paper | ಪೇಪರ್

5. What is the name of the part of electric iron as shown in the figure? | ಚಿತ್ರದಲ್ಲಿ ತೋರಿಸಿರುವಂತೆ ಎಲೆಕ್ಟ್ರಿಕ್ ಕಬ್ಬಿಣದ ಭಾಗದ ಹೆಸರೇನು?



A) Asbestos sheet | ಕಲ್ಲಾರು ಹಾಳೆ  
B) Mica insulation | ಮಿಕಾ ನಿರೋಧನ

C) Pressure plate | ಒತ್ತಡ ಫಲಕ  
D) Sole plate | ಏಕೈಕ ಫಲಕ

6. Which type of motor is used in the wet grinder? | ಆರ್ಡ್ ಗ್ರೈಂಡರ್‌ನಲ್ಲಿ ಯಾವ ರೀತಿಯ ಮೋಟಾರ್ ಅನ್ನು ಬಳಸಲಾಗುತ್ತದೆ?

A) Shaded pole motor | ಷೇಡ್ಡ್ ಪೋಲ್ ಮೋಟಾರ್  
B) Repulsion motor | ವಿಕರ್ಷಣೆಯ ಮೋಟಾರ್

C) Capacitor start induction run motor | ಕೆಪಾಸಿಟರ್ ಆರಂಭದ ಪ್ರವೇಶ ರನ್ ಮೋಟಾರ್  
D) Universal motor | ಯುನಿವರ್ಸಲ್ ಮೋಟಾರ್

7. What is the defect in a single phase capacitor start pump motor if it runs with slow speed? | ಸಿಂಗಲ್ ಫೇಸ್ ಕೆಪಾಸಿಟರ್ ಸ್ಟಾರ್ಟ್ ಪಂಪ್ ಮೋಟಾರ್ ನಿಧಾನ ವೇಗದಲ್ಲಿ ಚಲಿಸಿದರೆ ಅದರ ದೋಷವೇನು?

A) Open starting winding | ಪುರಂಭದ ಅಂಕುಡೊಂಕಾದ  
B) Short in starting winding | ಅಂಕುಡೊಂಕಾದ ಆರಂಭದಲ್ಲಿ ಸಣ್ಣ

C) Short in running winding | ವಿಂಡ್ ಮಾಡುವಿಕೆಯನ್ನು ಕಡಿಮೆಗೊಳಿಸುವುದು  
D) Defective capacitor | ದೋಷಯುಕ್ತ ಕೆಪಾಸಿಟರ್

8. What is the function of the rotary switch in food mixer? | ಪುಡ್ ಮಿಕ್ಸರ್‌ನಲ್ಲಿ ರೋಟರಿ ಸ್ವಿಚ್ ಕಾರ್ಯವೇನು?

A) For reverse rotation | ಹಿಮ್ಮುಖ ತಿರುಗುವಿಕೆಗಾಗಿ  
B) Speed selection | ವೇಗ ಆಯ್ಕೆ

C) Over load protection | ಓವರ್ ಲೋಡ್ ರಕ್ಷಣೆ  
D) Over current protection | ಓವರ್ ಕರೆಂಟ್ ರಕ್ಷಣೆ

9. Which material is used to make the heating element of cooking range? | ಅಡುಗೆ ಶ್ರೇಣಿಯ ತಾಪನ ಅಂಶವನ್ನು ತಯಾರಿಸಲು ಯಾವ ವಸ್ತುವನ್ನು ಬಳಸಲಾಗುತ್ತದೆ?

A) Aluminium | ಅಲ್ಯೂಮಿನಿಯಮ್  
B) Copper | ತಾಮ್ರ

C) Nichrome | ನಿಕ್ರೋಮ್  
D) Silver | ಸಿಲ್ವರ್

10. What is the purpose of sole plate in electric kettle? | ಎಲೆಕ್ಟ್ರಿಕ್ ಕೆಟಲ್‌ನಲ್ಲಿ ಏಕೈಕ ಪ್ಲೇಟ್ ಉದ್ದೇಶ ಏನು?

A) Protect the kettle base from damage | ಕೆಟಲ್ ಬೇಸ್ ಅನ್ನು ಹಾನಿಯಿಂದ ರಕ್ಷಿಸಿ

B) Keep the element in close contact with container | ಧಾರಕದೊಂದಿಗೆ ಹತ್ತಿರದ ಸಂಪರ್ಕದಲ್ಲಿ ಅಂಶವನ್ನು ಇರಿಸಿಕೊಳ್ಳಿ

- C) Acts as a balancing weight | ಸಮತೋಲನ ತೂಕದಂತೆ ವರ್ತಿಸುತ್ತದೆ  
D) Acts as an insulator for element | ಅಂಶಕ್ಕಾಗಿ ಒಂದು ಇನ್ಸುಲೇಟರ್ ಆಗಿ ವರ್ತಿಸುತ್ತದೆ

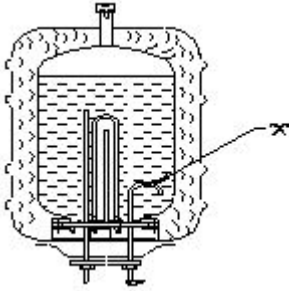
11. What is the fault in a food mixer if it runs intermittently? | ಆಹಾರ ಮಿಕ್ಸರ್‌ನಲ್ಲಿ ಅದು ಏಕಾಏಕಿ ನಡೆಸಿದರೆ ತಪ್ಪು ಏನು?

- A) Armature winding open | ಆರ್ಮೇಚರ್ ವಿಂಡಿಂಗ್ ಓಪನ್  
B) Worn out brushes | ಕುಂಚಗಳನ್ನು ಧರಿಸುತ್ತಾರೆ  
C) Field winding open | ಫೀಲ್ಡ್ ವಿಂಡಿಂಗ್ ಓಪನ್  
D) Field winding partially short | ಕ್ಷೇತ್ರ ವಿರಳವಾಗಿ ಭಾಗಶಃ ಚಿಕ್ಕದಾಗಿದೆ

12. What is the function of magnetron tube in a microwave oven? | ಮೈಕ್ರೋವೇವ್ ಓವನ್‌ನಲ್ಲಿ ಮ್ಯಾಗ್ನಟ್ರಾನ್ ಟ್ಯೂಬ್ ಕಾರ್ಯವೇನು?

- A) Oscillate and produce the cooking frequency | ಆಸಿಲೇಟ್ ಮತ್ತು ಅಡುಗೆ ಆವರ್ತನವನ್ನು ಉತ್ಪಾದಿಸಿ  
B) Amplifies the microwave signal | ಮೈಕ್ರೋವೇವ್ ಸಂಕೇತವನ್ನು ವರ್ಧಿಸುತ್ತದೆ  
C) Changes the polarity every half cycle | ಧ್ರುವೀಯತೆಯ ಪ್ರತಿ ಅರ್ಧ ಸೈಕಲ್ ಬದಲಾಯಿಸುತ್ತದೆ  
D) Converts the microwave energy to electrical energy | ಮೈಕ್ರೋವೇವ್ ಶಕ್ತಿಯನ್ನು ವಿದ್ಯುತ್ ಶಕ್ತಿಯಾಗಿ ಪರಿವರ್ತಿಸುತ್ತದೆ

13. What is the purpose of U bend marked as 'X' in geyser as shown in the figure? | ಚಿತ್ರದಲ್ಲಿ ತೋರಿಸಿರುವಂತೆ ಗೇಸರ್‌ನಲ್ಲಿ X ಎಂದು ಗುರುತಿಸಲಾದ U ಬೆಂಡ್‌ನ ಉದ್ದೇಶವೇನು?



- A) Reduces the pressure of outlet pipe | ಔಟ್ಲೆಟ್ ಪೈಪ್ ಒತ್ತಡವನ್ನು ಕಡಿಮೆ ಮಾಡುತ್ತದೆ  
B) Prevents draining of water | ನೀರಿನ ಬರಿಡಾಗುತ್ತಿರುವಿಕೆಯನ್ನು ತಡೆಯುತ್ತದೆ  
C) Avoids the forming of scales | ಮಾಪನಗಳನ್ನು ರೂಪಿಸುವ ತಪ್ಪಿಸುತ್ತದೆ  
D) Restricts the air locking inside the tank | ತೊಟ್ಟಿಯೊಳಗೆ ಏರ್ ಲಾಕಿಂಗ್ ಅನ್ನು ನಿರ್ಬಂಧಿಸುತ್ತದೆ

14. What is the function of stirrer motor in micro wave oven? | ಸೂಕ್ಷ್ಮ ತರಂಗ ಓವನ್‌ನಲ್ಲಿರುವ ಸ್ಟಿರರ್ ಮೋಟರ್ ಕಾರ್ಯವೇನು?

- A) Spreads the heat uniformly | ಶಾಖವನ್ನು ಏಕರೂಪವಾಗಿ ಹರಡುತ್ತದೆ  
B) Revolves and reflects the electromagnetic energy | ವಿದ್ಯುತ್ಕಾಂತೀಯ ಶಕ್ತಿಯನ್ನು ಸುತ್ತುತ್ತದೆ ಮತ್ತು ಪ್ರತಿಬಿಂಬಿಸುತ್ತದೆ  
C) Draws cooling air inside | ಒಳಗೆ ಕೂಲಿಂಗ್ ಗಾಳಿಯನ್ನು ಸೆಳೆಯುತ್ತದೆ  
D) Exhausts the hot air outside | ಹೊರಗೆ ಬಿಸಿ ಗಾಳಿಯನ್ನು ಖಾಲಿಮಾಡುತ್ತದೆ

15. Which formula is used to calculate the heat generated as per Joules law? | ಜೌಲ್ಸ್ ಕಾನೂನಿನ ಪ್ರಕಾರ ಉತ್ಪತ್ತಿಯಾದ ಶಾಖವನ್ನು

ಲೆಕ್ಕಾಚಾರ ಮಾಡಲು ಯಾವ ಸೂತ್ರವನ್ನು ಬಳಸಲಾಗುತ್ತದೆ?

- A) Heat generated =  $I^2RT$  / J cal  
B) Heat generated =  $IRT$  / J cal  
C) Heat generated =  $IR^2T$  / J cal  
D) Heat generated =  $(IR)^2 T$  / J cal

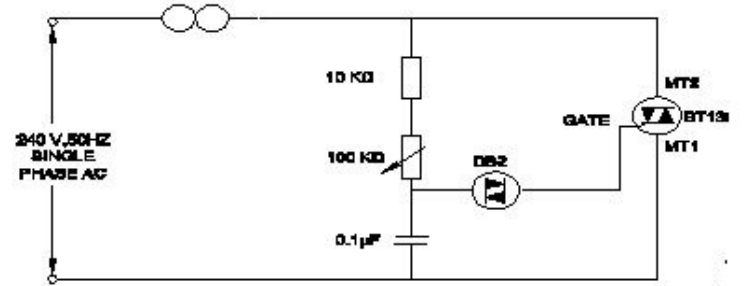
16. Calculate the heat generated in a electric heater of 1000 watt, 240 volt, worked for 5 minutes. | 1000 ವ್ಯಾಟ್, 240 ವೋಲ್ಟ್ ವಿದ್ಯುತ್ ಹೀಟರ್‌ನಲ್ಲಿ ಉತ್ಪತ್ತಿಯಾದ ಶಾಖವನ್ನು 5 ನಿಮಿಷಗಳ ಕಾಲ ಕೆಲಸ ಮಾಡಬೇಕೇ?

- A) 72.1 Kilo calories  
B) 70.5 Kilo calories  
C) 71.0 Kilo calories  
D) 71.6 Kilo calories

17. What is the reason for the AC table fan runs very hot? | AC ಟೇಬಲ್ ಫ್ಯಾನ್ ಹೆಚ್ಚು ಬಿಸಿಯಾಗಲು ಕಾರಣವೇನು?

- A) Defective regulator | ಡೆಫೆಕ್ಟಿವ್ ರೆಗ್ಯುಲೇಟರ್  
B) Wornout bushes | ಸುಸ್ತಾದ ಪೊದೆಗಳು  
C) Defective centrifugal switch | ಡೆಫೆಕ್ಟಿವ್ ಸೆಂಟ್ರಿಫ್ಯೂಗಲ್ ಸ್ವಿಚ್  
D) Defective starting winding | ದೋಷಯುಕ್ತ ಆರಂಭಿಕ ಅಂಕುಡೊಂಕಾದ

18. What is the name of the circuit as shown in the figure? | ಚಿತ್ರದಲ್ಲಿ ತೋರಿಸಿರುವಂತೆ ಸರ್ಕ್ಯೂಟ್‌ನ ಹೆಸರೇನು?



- A) Electronic voltage stabilizer | ಎಲೆಕ್ಟ್ರಾನಿಕ್ ವೋಲ್ಟೇಜ್ ಸ್ಟೇಬಿಲೈಜರ್  
B) Electronic triggering circuit of SCR | SCR ಯ ವಿದ್ಯುನ್ಮಾನ ಪ್ರಚೋದಕ ಸರ್ಕ್ಯೂಟ್  
C) Electronic voltage multiplier | ಎಲೆಕ್ಟ್ರಾನಿಕ್ ವೋಲ್ಟೇಜ್ ಗುಣಕ  
D) Electronic fan regulator | ವಿದ್ಯುನ್ಮಾನ ಅಭಿಮಾನಿ ನಿಯಂತ್ರಕ

19. What is the temperature range, maintained by thermostat in geyser? | ಗೇಸರ್‌ನಲ್ಲಿ ಥರ್ಮೋಸ್ಟಾಟ್ ನಿರ್ವಹಿಸುವ ತಾಪಮಾನದ ಶ್ರೇಣಿ ಏನು?

- A) 0° C to 130° C  
B) 10° C to 150° C  
C) 0° C to 50° C  
D) 60° C to 65° C

20. Which effect of electric current takes places in the cooking range? | ಅಡುಗೆಯ ವ್ಯಾಪ್ತಿಯಲ್ಲಿ ವಿದ್ಯುತ್ ಪ್ರವಾಹದ ಯಾವ ಪರಿಣಾಮವು ಸಂಭವಿಸುತ್ತದೆ?

- A) Heating effect | ಬಿಸಿ ಪರಿಣಾಮ  
B) Chemical effect | ರಾಸಾಯನಿಕ ಪರಿಣಾಮ  
C) Magnetic effect | ಮ್ಯಾಗ್ನೆಟಿಕ್ ಪರಿಣಾಮ  
D) Gas ionization effect | ಗ್ಯಾಸ್ ಅಯಾನೀಕರಣ ಪರಿಣಾಮ