

Duration: 30 Mins

Total Marks: 28

ID: ITISKILL8393ZI

Student Name: _____

Roll No: _____

1. Which type of fire extinguisher is used for fire on electrical equipment? | ವಿದ್ಯುತ್ ಉಪಕರಣಗಳಲ್ಲಿ ಬೆಂಕಿಗೆ ಯಾವ ವಿಧದ ಅಗ್ನಿಶಾಮಕವನ್ನು ಬಳಸಲಾಗುತ್ತದೆ?

- A) Foam type | ಫೋಮ್ ಪ್ರಕಾರ B) Halon type | ಹ್ಯಾಲಾನ್ ಟೈಪ್
C) Stored pressure water type | ತೇಖರಿಸಲಾದ ಒತ್ತಡದ ನೀರಿನ ಪ್ರಕಾರ D) Gas cartridge water type | ಗ್ಯಾಸ್ ಕಾರ್ಟ್ರಿಡ್ಜ್ ನೀರಿನ ವಿಧ

2. Which pliers is used for making the wire hooks and loops? | ವೈರ್ ಹೂಕುಗಳು ಮತ್ತು ಲೂಪ್‌ಗಳನ್ನು ತಯಾರಿಸಲು ಯಾವ ಪ್ಲಿಯರ್ಸ್ ಅನ್ನು ಬಳಸಲಾಗುತ್ತದೆ?

- A) Long nose pliers | ಲಾಂಗ್ ನೋಸ್ ಪ್ಲಿಯರ್ಸ್ B) Flat nose pliers | ಫ್ಲಾಟ್ ನೋಸ್ ಪ್ಲಿಯರ್ಸ್
C) Diagonal cutting pliers | ಡಯಾಗನಲ್ ಕಟಿಂಗ್ ಪ್ಲಿಯರ್ಸ್ D) Round nose pliers | ರೌಂಡ್ ನೋಸ್ ಪ್ಲಿಯರ್ಸ್

3. Which is the golden hour for the victim injured on head with risk of dying? | ಸಾಯುವ ಅಪಾಯದೊಂದಿಗೆ ತಲೆಯ ಮೇಲೆ ಗಾಯಗೊಂಡ ಬಲಿಪಶುಕ್ಕೆ ಯಾವ ಸುವರ್ಣ ಗಂಟೆಯಾಗಿದೆ?

- A) First 30 minutes B) First 45 minutes
C) First 60 minutes D) First 15 minutes

4. Which is the physical hazard? | ದೈಹಿಕ ಅಪಾಯ ಯಾವುದು?

- A) Bacteria | ಬ್ಯಾಕ್ಟೀರಿಯಾ B) Smoking | ಧೂಮಪಾನ
C) Vibration | ಕಂಪನ D) Corrosive | ನಾಶಕಾರಿ

5. Which is the correct sequence of operation to be performed while using the fire extinguisher? | ಅಗ್ನಿಶಾಮಕವನ್ನು ಬಳಸುವಾಗ ನಿರ್ವಹಿಸಬೇಕಾದ ಸರಿಯಾದ ಕಾರ್ಯಾಚರಣೆಯ ಅನುಕ್ರಮ ಯಾವುದು?

- A) Pull, Aim, Sweep, Squeeze | ಪುಲ್, ಏಮ್, ಸ್ವೀಪ್, ಸ್ಕ್ವೀಜ್ B) Push, Arrange, Squeeze, Sweep | ಪುಷ್, ಜೋಡಿಸು, ಸ್ಕ್ವೀಜ್, ಸ್ವೀಪ್
C) Push, Arrange, Sweep, Sequence | ಪುಷ್, ಹೊಂದಿಸು, ಸ್ವೀಪ್, ಸೀಕ್ವೆನ್ಸ್ D) Pull, Aim, Squeeze, Sweep | ಪುಲ್, ಏಮ್, ಸ್ಕ್ವೀಜ್, ಸ್ವೀಪ್

6. Which Personal Protective Equipment (PPE) is used for the protection from fumes? | ಹೊಗೆಯಿಂದ ರಕ್ಷಿಸಲು ಯಾವ ವೈಯಕ್ತಿಕ ಸುರಕ್ಷಾ ಸಲಕರಣೆ (PPE) ಅನ್ನು ಬಳಸಲಾಗುತ್ತದೆ?

- A) Apron | ಅಪ್ರಾನ್ B) Ear muff | ಇಯರ್ ಮಫ್
C) Respirator | ರೆಸ್ಪಿರೇಟರ್ D) Goggles | ಕನ್ನಡಕಗಳು

7. Which type of occupational health hazard is cause for infection due to bacteria? | ಯಾವ ರೀತಿಯ ಔದ್ಯೋಗಿಕ ಆರೋಗ್ಯದ ಅಪಾಯವು ಬ್ಯಾಕ್ಟೀರಿಯಾದ ಸೋಂಕಿನಿಂದ ಉಂಟಾಗುತ್ತದೆ?

- A) Psychological hazard | ಮಾನಸಿಕ ಅಪಾಯ B) Physiological hazard | ದೈಹಿಕ ಅಪಾಯ
C) Biological hazard | ಜೈವಿಕ ಅಪಾಯ D) Electrical hazard | ವಿದ್ಯುತ್ ಅಪಾಯ

8. Which condition of the victim is referred as COMA stage? | ಬಲಿಯಾದ ಯಾವ ಸ್ಥಿತಿಯನ್ನು ಕಾಮಾ ಹಂತ ಎಂದು ಕರೆಯಲಾಗುತ್ತದೆ?

- A) Conscious but cannot respond to calls | ಜಾಗೃತ ಆದರೆ ಕರೆಗಳಿಗೆ ಪ್ರತಿಕ್ರಿಯಿಸಲು ಸಾಧ್ಯವಿಲ್ಲ B) Lie totally senseless and do not respond to calls | ಸುಳ್ಳು ಸಂಪೂರ್ಣವಾಗಿ ಮೂರ್ಖತನವಿಲ್ಲ ಮತ್ತು ಕರೆಗಳಿಗೆ ಪ್ರತಿಕ್ರಿಯಿಸಬೇಡಿ
C) Unconscious but can respond to calls | ಅಜ್ಞಾತ ಆದರೆ ಕರೆಗಳಿಗೆ ಪ್ರತಿಕ್ರಿಯಿಸಬಹುದು D) Breathing and respond to calls | ಉಸಿರಾಟ ಮತ್ತು ಕರೆಗಳಿಗೆ ಪ್ರತಿಕ್ರಿಯಿಸಿ

9. What immediate action should be taken to rescue the victim, if he is still in contact with the electrical power supply? | ವಿದ್ಯುತ್ ಪೂರೈಕೆಯೊಂದಿಗೆ ಸಂಪರ್ಕದಲ್ಲಿದ್ದರೆ, ಬಲಿಯಾದವರನ್ನು ರಕ್ಷಿಸಲು ತಕ್ಷಣವೇ ಯಾವ ಕ್ರಮ ಕೈಗೊಳ್ಳಬೇಕು?

- A) Pull or push him from the contact by hand | ಕೈಯಿಂದ ಸಂಪರ್ಕದಿಂದ ಅವನನ್ನು ಎಳೆಯಿರಿ ಅಥವಾ ತಳ್ಳಿರಿ B) Break the contact by switching OFF the power supply | ವಿದ್ಯುತ್ ಸರಬರಾಜು ಅನ್ನು ಆಫ್ ಮಾಡುವುದರ ಮೂಲಕ ಸಂಪರ್ಕವನ್ನು ಮುರಿಯಿರಿ
C) Call someone for helping to remove him from contact | ಸಂಪರ್ಕದಿಂದ ಅವನನ್ನು ತೆಗೆದುಹಾಕಲು ಸಹಾಯಕ್ಕಾಗಿ ಯಾರನ್ನಾದರೂ ಕರೆ ಮಾಡಿ D) Inform your authority about this electric shock | ದೂರ ಇಡಿ

10. What is starving in extinguishing of fire? | ಬೆಂಕಿಯನ್ನು ಆವರಿಸುವಲ್ಲಿ ಸ್ವಾರ್ಥಿಯೆಂದ ಏನು ಇದೆ?

- A) Preventing oxygen supply to the fire | ಬೆಂಕಿಗೆ ಆಮ್ಲಜನಕದ ಪೂರೈಕೆಯನ್ನು ತಡೆಗಟ್ಟುವುದು B) Removing fuel element from the fire | ಬೆಂಕಿಯಿಂದ ಇಂಧನ ಅಂಶವನ್ನು ತೆಗೆದುಹಾಕಲಾಗುತ್ತದೆ

C) Adding fuel to the fire | ಬೆಂಕಿಗೆ ಇಂಧನವನ್ನು ಸೇರಿಸುವುದು

D) Using water to cool the fire | ಬೆಂಕಿಯನ್ನು ತಣ್ಣಗಾಗಲು ನೀರನ್ನು ಬಳಸಿ



11. Which criteria must be satisfied for the quality of PPE? | PPE ಗಳ ಗುಣಮಟ್ಟಕ್ಕಾಗಿ ಯಾವ ಮಾನದಂಡಗಳನ್ನು ಪೂರೈಸಬೇಕು?

A) It cannot be used for long period | ಇದನ್ನು ದೀರ್ಘಕಾಲದವರೆಗೆ ಬಳಸಲಾಗುವುದಿಲ್ಲ

B) Low cost | ಕಡಿಮೆ ವೆಚ್ಚ

C) It should with stand the hazards | ಇದು ಅಪಾಯಗಳನ್ನು ತಡೆದುಕೊಳ್ಳಬೇಕು

D) Made by non standard material | ಪ್ರಮಾಣಿತವಲ್ಲದ ವಸ್ತುಗಳಿಂದ ತಯಾರಿಸಲಾಗುತ್ತದೆ

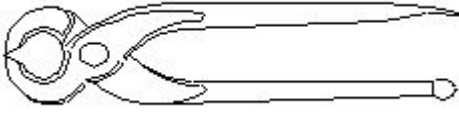
A) Combination pliers | ಕಾಂಬಿನೇಶನ್ ತಂತಿಗಳು

B) Nose pliers | ನೋಸ್ ಇಕ್ಲಿಪ್ಸ್

C) Diagonal cutting pliers | ಕರ್ಣೀಯ ಕತ್ತರಿಸುವುದು ತಂತಿಗಳು

D) Crimping tool | ಅಪರಾಧ ಸಾಧನ

12. What is the name of the tool as shown in the figure? | ಚಿತ್ರದಲ್ಲಿ ತೋರಿಸಿರುವಂತೆ ಸಾಧನದ ಹೆಸರೇನು?



A) Wire stripper | ಬಿಸಿ ಪದಾರ್ಥಗಳನ್ನು ಹಿಡಿದಿಟ್ಟುಕೊಳ್ಳುವುದು

B) Gimlet | ಬೋಲ್ ಮತ್ತು ಬೀಜಗಳನ್ನು ಬಿಡಿಬಿಡಿಯಾಗಿ ಬಿಗಿಗೊಳಿಸುವುದು

C) Pincer | ತಂತಿಗಳನ್ನು ಕತ್ತರಿಸುವುದು ಮತ್ತು ತಿರುಗಿಸುವುದು ಮರದಿಂದ ಉಗುರುಗಳನ್ನು ತೆಗೆಯುವುದು

D) Side cutter | ತಂತಿಗಳನ್ನು ಕಡಿಯುವುದು ಮತ್ತು ತಿರುಗಿಸುವುದು

13. What is the name of the file as shown in the figure? | ಚಿತ್ರದಲ್ಲಿ ತೋರಿಸಿರುವಂತೆ ಫೈಲಿನ ಹೆಸರೇನು?



A) Double cut file | ಡಬಲ್ ಕಟ್ ಫೈಲ್

B) Rasp cut file | ರಾಸ್ಪ್ ಕಟ್ ಫೈಲ್

C) Single cut file | ಒಂದೇ ಕಟ್ ಫೈಲ್

D) Curved cut file | ಬಾಗಿದ ಕಟ್ ಫೈಲ್

14. Which step of the 5s-concept refers "Standardization"? | 5s ನೇ-ಪರಿಕಲ್ಪನೆಯ ಯಾವ ಹಂತವು ಪ್ರಮಾಣೀಕರಣ ಯನ್ನು ಸೂಚಿಸುತ್ತದೆ?

A) Step - 3


B) Step - 4

C) Step - 2

D) Step - 1

15. What is the name of the tool as shown in the figure? | ಚಿತ್ರದಲ್ಲಿ ತೋರಿಸಿರುವಂತೆ ಉಪಕರಣದ ಹೆಸರೇನು?

16. What is the name of the safety sign as shown in the figure? | ಚಿತ್ರದಲ್ಲಿ ತೋರಿಸಿರುವಂತೆ ಸುರಕ್ಷತಾ ಚಿಹ್ನೆಯ ಹೆಸರೇನು?



A) Warning sign | ಎಚ್ಚರಿಕೆ ಸಂಕೇತ

B) Information sign | ಮಾಹಿತಿ ಚಿಹ್ನೆ

C) Mandatory sign | ಕಡ್ಡಾಯ ಚಿಹ್ನೆ

D) Prohibition sign | ನಿಷೇಧ ಚಿಹ್ನೆ

17. What is smothering in extinguishing of fire? | ಬೆಂಕಿಯನ್ನು ಕಡಿಯುವಲ್ಲಿ ಏನಾಗುತ್ತಿದೆ?

A) Using of water to lower the temperature | ತಾಪಮಾನವನ್ನು ಕಡಿಮೆ ಮಾಡಲು ನೀರಿನ ಬಳಕೆ

B) Isolating the fire from the supply of oxygen | ಆಮ್ಲಜನಕದ ಪೂರೈಕೆಯಿಂದ ಬೆಂಕಿಯನ್ನು ಪ್ರತ್ಯೇಕಿಸುವುದು

C) Removing the fuel element from the fire | ಬೆಂಕಿಯಿಂದ ಇಂಧನ ಅಂಶವನ್ನು ತೆಗೆದುಹಾಕಲಾಗುತ್ತಿದೆ

D) Adding the fuel element to the fire | ಇಂಧನ ಅಂಶವನ್ನು ಬೆಂಕಿಯಲ್ಲಿ ಸೇರಿಸುವುದು

18. What is the use of the pincer? | ಪಿನ್ಸರ್ನ ಬಳಕೆ ಏನು?

A) Twisting the flexible wires | ಹೊಂದಿಕೊಳ್ಳುವ ತಂತಿಗಳನ್ನು ತಿರುಗಿಸುವುದು

B) Holding small objects, where finger cannot reach | ಬೆರಳನ್ನು ತಲುಪಲು ಸಾಧ್ಯವಾಗದ ಸಣ್ಣ ವಸ್ತುಗಳನ್ನು ಹಿಡಿದಿಟ್ಟುಕೊಳ್ಳಿ

C) Extracting the pin nails from the wood | ಮರದಿಂದ ಪಿನ್ ಉಗುರುಗಳನ್ನು ಹೊರತೆಗೆಯುವಿಕೆ

D) Cutting larger diameter of wires | ದೊಡ್ಡ ವ್ಯಾಸದ ತಂತಿಗಳನ್ನು ಕತ್ತರಿಸುವುದು

19. Which is the waste disposal method that produces the heat? | ಶಾಖವನ್ನು ಉತ್ಪತ್ತಿ ಮಾಡುವ ತ್ಯಾಜ್ಯ ವಿಲೇವಾರಿ ವಿಧಾನ ಯಾವುದು?

A) Composting | ಮಿಶ್ರಗೊಬ್ಬರ

B) Incineration | ಭಸ್ಮೀಕರಣ

C) Landfill | ಲ್ಯಾಂಡ್‌ಫಿಲ್

D) Waste compaction | ತ್ಯಾಜ್ಯ ಸಂಕೋಚನ

20. What is the name of the drill bit as shown in the figure? | ಚಿತ್ರದಲ್ಲಿ ತೋರಿಸಿರುವಂತೆ ಡ್ರಿಲ್ ಬಿಟ್‌ನ ಹೆಸರೇನು?



- A) Countersink bit | ಕೌಂಟರ್ ಸಿಂಕ್ ಬಿಟ್
 B) Straight shank bit | ನೇರವಾಗಿ ಶ್ಯಾಂಕ್ ಬಿಟ್
 C) Taper shank bit | ಟಿಪರ್ ಶ್ಯಾಂಕ್ ಬಿಟ್
 D) Flat drill bit | ಫ್ಲಾಟ್ ಡ್ರಿಲ್ ಬಿಟ್

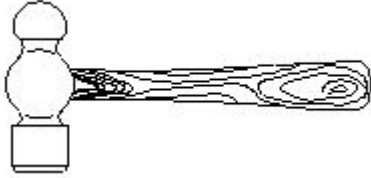
21. Which file is used for sharpening the blunt teeth of a tenon saw? | ಒಂದು ಹತ್ತಿಯ ಮೊಂಡಾದ ಹಲ್ಲುಗಳನ್ನು ಹರಿತಗೊಳಿಸುವ ಸಲುವಾಗಿ ಯಾವ ಫೈಲ್ ಅನ್ನು ಬಳಸಲಾಗುತ್ತದೆ?

- A) Triangular file | ತ್ರಿಕೋನ ಕಡತ
 B) Round file | ರೌಂಡ್ ಫೈಲ್
 C) Square file | ಸ್ಕ್ವೇರ್ ಫೈಲ್
 D) Half round file | ಹಾಫ್ ಸುತ್ತಿನ ಫೈಲ್

22. Which disposal method of waste save lot of energy? | ತ್ಯಾಜ್ಯದ ವಿಲೇವಾರಿ ವಿಧಾನವು ಬಹಳಷ್ಟು ಶಕ್ತಿಯನ್ನು ಉಳಿಸುತ್ತದೆ?

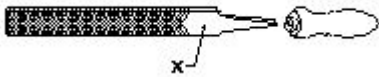
- A) Incineration | ಭಸ್ಮೀಕರಣ
 B) Recycling | ಮರುಬಳಕೆ
 C) Composting | ಸಂಯೋಜನೆ
 D) Land fill | ಜಮೀನು ಭರ್ತಿ

23. What is the name of the tool as shown in the figure? | ಚಿತ್ರದಲ್ಲಿ ತೋರಿಸಿರುವಂತೆ ಉಪಕರಣದ ಹೆಸರೇನು?



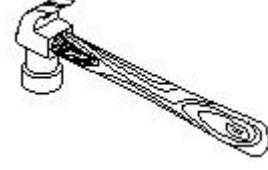
- A) Cross pein hammer | ಕ್ರಾಸ್ ಪೆನ್ ಸುತ್ತಿಗೆ
 B) Claw hammer | ಕ್ಲಾ ಸುತ್ತಿಗೆ
 C) Tack hammer | ಟ್ಯಾಕ್ ಸುತ್ತಿಗೆ
 D) Ball pein hammer | ಬಾಲ್ ಪೀನ್ ಸುತ್ತಿಗೆ

24. What is the name of the part marked 'X' as shown in the figure? | ಫೈಲ್ನ X ಒಂದು ಗುರುತಿಸಲಾದ ಭಾಗವನ್ನು ಹೆಸರಿಸಿ.



- A) Tang | ಟ್ಯಾಂಗ್
 B) Heel | ಹೀಲ್
 C) Point | ಪಾಯಿಂಟ್
 D) Edge | ಎಡ್ಜ್

25. What is the name of the hammer as shown in the figure? | ಚಿತ್ರದಲ್ಲಿ ತೋರಿಸಿರುವಂತೆ ಸುತ್ತಿಗೆಯ ಹೆಸರೇನು?



- A) Straight peen hammer | ಸ್ಟ್ರೈಟ್ ಪೆನ್ ಸುತ್ತಿಗೆ
 B) Cross peen hammer | ಕ್ರಾಸ್ ಪೆನ್ ಸುತ್ತಿಗೆ
 C) Ball peen hammer | ಬಾಲ್ ಪೆನ್ ಸುತ್ತಿಗೆ
 D) Claw hammer | ಕ್ಲಾ ಸುತ್ತಿಗೆ

26. Which artificial respiration method is to be performed to the victim with injuries on the chest and belly? | ಎದೆ ಮತ್ತು ಹೊಟ್ಟೆಯ ಮೇಲೆ ಗಾಯಗಳಿಂದಾಗಿ ಬಲಿಪಶುಕ್ಕೆ ಯಾವ ಕೃತಕ ಉಸಿರಾಟ ವಿಧಾನವನ್ನು ನಿರ್ವಹಿಸಬೇಕು?

- A) Holger - Nelson's back pressure method | ಹೋಲ್ಗರ್ - ನೆಲ್ಸನ್ ಬೆನ್ನು ಒತ್ತಡದ ವಿಧಾನ
 B) Mouth to mouth method | ಬಾಯಿಯಿಂದ ಬಾಯಿಗೆ ವಿಧಾನ
 C) Schafer's method | ಸ್ಕಾಫರ್ ವಿಧಾನ
 D) Nelson's arm-lift back pressure method | ನೆಲ್ಸನ್ ಆರ್ಮ್-ಲಿಫ್ಟ್ ಬ್ಯಾಕ್ ಒತ್ತಡದ ವಿಧಾನ

27. What is smothering in extinguishing of fire? | ಬೆಂಕಿಯನ್ನು ಕಡಿಯುವಲ್ಲಿ ಏನಾಗುತ್ತಿದೆ?

- A) Using of water to lower the temperature | ತಾಪಮಾನವನ್ನು ಕಡಿಮೆ ಮಾಡಲು ನೀರಿನ ಬಳಕೆ
 B) Isolating the fire from the supply of oxygen | ಆಮ್ಲಜನಕದ ಪೂರೈಕೆಯಿಂದ ಬೆಂಕಿಯನ್ನು ಪ್ರತ್ಯೇಕಿಸುವುದು
 C) Adding the fuel element to the fire | ಇಂಧನ ಅಂಶವನ್ನು ಬೆಂಕಿಯಲ್ಲಿ ಸೇರಿಸುವುದು
 D) Removing the fuel element from the fire | ಬೆಂಕಿಯಿಂದ ಇಂಧನ ಅಂಶವನ್ನು ತೆಗೆದುಹಾಕಲಾಗುತ್ತಿದೆ

28. What is the back ground colour of the warning signs in the safety sign category? | ಸುರಕ್ಷತಾ ಚಿಹ್ನೆಯ ವರ್ಗದಲ್ಲಿರುವ ಎಚ್ಚರಿಕೆ ಚಿಹ್ನೆಗಳ ಹಿಂದಿನ ನೆಲದ ಬಣ್ಣ ಯಾವುದು?

- A) Yellow | ಹಳದಿ
 B) Green | ಹಸಿರು
 C) Blue | ನೀಲಿ
 D) White | ಬಿಳಿ