

Duration: 60 Mins

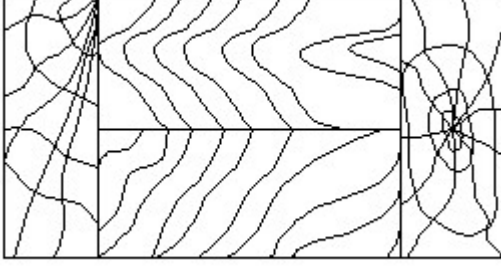
Total Marks: 25

ID: ITISKILL811565

Student Name: \_\_\_\_\_

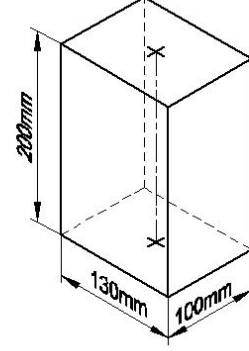
Roll No: \_\_\_\_\_

1. Identify the conventional symbol of material? | ವಸ್ತುವಿನ ಕನ್ವೆಷನಲ್ ಚಿಹ್ನೆಯನ್ನು ಗುರುತಿಸಿ?



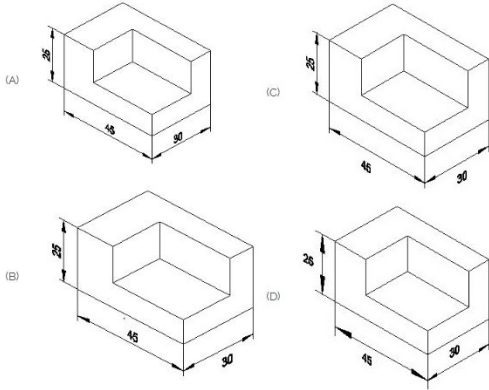
- A) Glass | ಗಾಜು  
C) Wood | ಮರ

- B) Lead | ಲೀಡ್  
D) Paper | ಪೇಪರ್



- A) Rectangle prism | ಆಯತ ಪ್ರಿಸ್ಮ್  
C) Square prism | ಚದರ ಪ್ರಿಸ್ಮ್  
B) Triangular prism | ತ್ರಿಕೋನ ಪ್ರಿಸ್ಮ್  
D) Hexagonal prism | ಷಡ್ಭುಜೀಯ ಪ್ರಿಸ್ಮ್

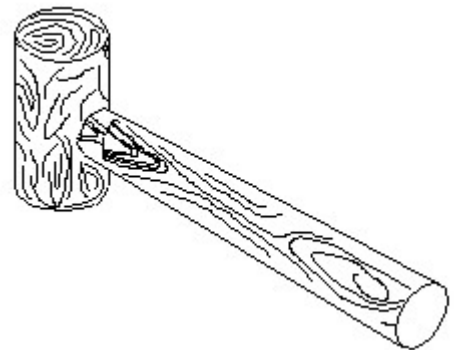
2. Which drawing dimension is correct as per standard drawing practice? | ಸ್ಟ್ಯಾಂಡರ್ಡ್ ಡ್ರಾಯಿಂಗ್ ಅಭ್ಯಾಸದ ಪ್ರಕಾರ ಯಾವ ಡ್ರಾಯಿಂಗ್ ಆಯಾಮ ಸರಿಯಾಗಿದೆ?



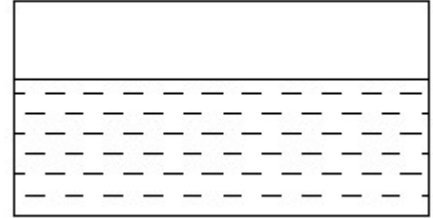
- A) A  
C) D

- B) C  
D) B

3. Identify the name of prism? | ಪ್ರಿಸ್ಮ್ ಹೆಸರನ್ನು ಗುರುತಿಸುವುದೇ?



4. Identify the conventional symbol of material? | ವಸ್ತುವಿನ ಕನ್ವೆಷನಲ್ ಚಿಹ್ನೆಯನ್ನು ಗುರುತಿಸಿ?




- A) Concrete | ಕಾಂಕ್ರೀಟ್  
C) Water | ನೀರು  
B) Asbestos | ಆಸ್ಟೆಸ್ಟೋಸ್  
D) Glass | ಗಾಜು

5. Identify the name of tool? | ಉಪಕರಣದ ಹೆಸರನ್ನು ಗುರುತಿಸುವುದೇ?

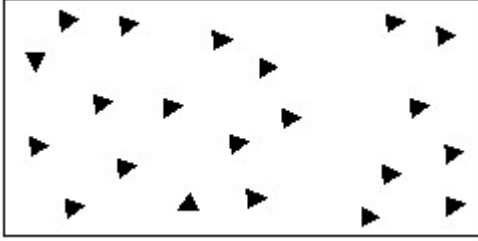
- A) Ball pein hammer | ಬಾಲ್ ಪೆನ್ ಸುತ್ತಿಗೆ  
 B) Straight pein hammer | ಸ್ಟ್ರೈಟ್ ಪೆನ್ ಸುತ್ತಿಗೆ  
 C) Mallet | ಮ್ಯಾಲೆಟ್  
 D) Cross pein hammer | ಕ್ರಾಸ್ ಪೆನ್ ಸುತ್ತಿಗೆ

6. Identify the conventional symbol of material? | ವಸ್ತುವಿನ ಕನ್ವೆಷನಲ್ ಚಿಹ್ನೆಯನ್ನು ಗುರುತಿಸಿ?



- A) Glass | ಗಾಜು  
 B) Concrete | ಕಾಂಕ್ರೀಟ್  
 C) Steel | ಸ್ಟೀಲ್  
 D) Wood | ಮರ

7. Identify the conventional symbol of material? | ವಸ್ತುವಿನ ಕನ್ವೆಷನಲ್ ಚಿಹ್ನೆಯನ್ನು ಗುರುತಿಸಿ?



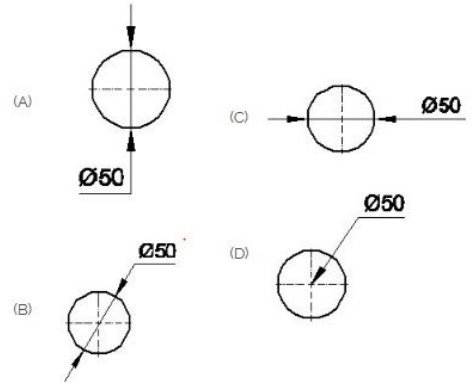
- A) Wood | ಮರ  
 B) Glass | ಗಾಜು  
 C) Concrete | ಕಾಂಕ್ರೀಟ್  
 D) Steel | ಸ್ಟೀಲ್

8. Identify the name of set square? | ಸೆಟ್ ಚೌಕದ ಹೆಸರನ್ನು ಗುರುತಿಸುವುದೇ?



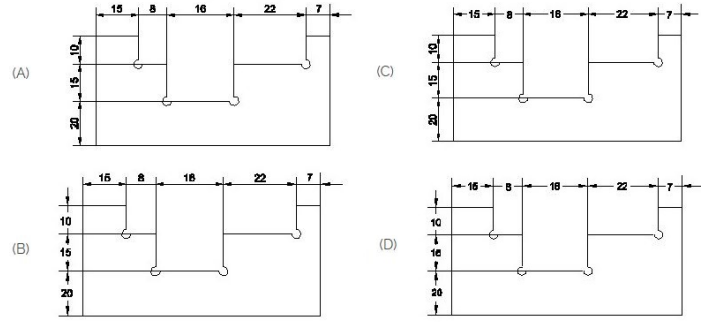
- A) 15° set square | 15° ಸೆಟ್ ಸ್ಕ್ವೇರ್  
 B) 30° set square | 30° ಸೆಟ್ ಸ್ಕ್ವೇರ್  
 C) 45° set square | 45° ಸೆಟ್ ಸ್ಕ್ವೇರ್  
 D) 60° set square | 60° ಸೆಟ್ ಸ್ಕ್ವೇರ್

9. Which dimension correctly marked in the circle as per standard? | ಮಾನದಂಡದ ಪ್ರಕಾರ ವೃತ್ತದಲ್ಲಿ ಯಾವ ಆಯಾಮವನ್ನು ಸರಿಯಾಗಿ ಗುರುತಿಸಲಾಗಿದೆ?



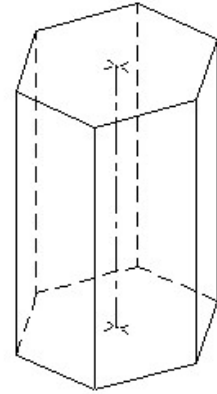
- A) C  
 B) D  
 C) B  
 D) A

10. Identify the correct aligned system dimension? | ಸರಿಯಾದ ಜೋಡಿಸಲಾದ ಸಿಸ್ಟಮ್ ಆಯಾಮವನ್ನು ಗುರುತಿಸುವುದೇ?



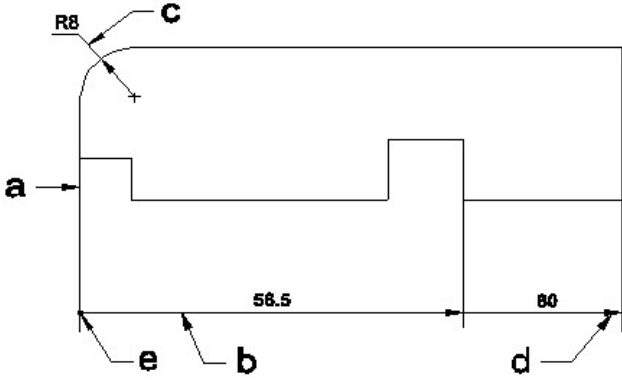
- A) B  
 B) A  
 C) D  
 D) C

11. Identify the name of prism? | ಪ್ರಿಸ್ಮ್ ಹೆಸರನ್ನು ಗುರುತಿಸುವುದೇ?



- A) Triangular prism | ತ್ರಿಕೋನ ಪ್ರಿಸ್ಮ್  
 B) Pentagonal prism | ಪೆಂಟಾಗೋನಲ್ ಪ್ರಿಸ್ಮ್  
 C) Hexagonal prism | ಷಡ್ಭುಜೀಯ ಪ್ರಿಸ್ಮ್  
 D) Square prism | ಚದರ ಪ್ರಿಸ್ಮ್

12. Identify the line □ b□ ? | □ ಸಾಠಿನ್ನು ಗುರುತಿಸುವುದೇ?

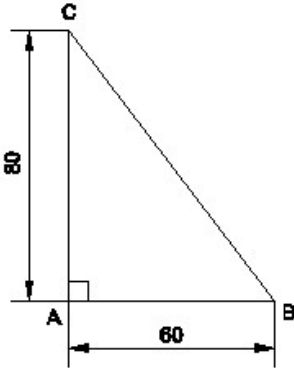


- A) Extension line | ಎಕ್ಸ್ಟೆನ್ಷನ್ ಲೈನ್  
 B) Dimension line | ಡೈಮೆನ್ಷನ್ ಲೈನ್  
 C) Termination of dimension line | ಆಯಾಮ ರೇಖೆಯ ಮುಕ್ತಾಯ  
 D) Leader line | ಲೀಡರ್ ಲೈನ್

13. What is the trimmed size of A4 sheet? | A4 ಹಾಳೆಯ ಕ್ರಿಮಾ ಮಾಡಿದ ಗಾತ್ರ ಎಷ್ಟು?

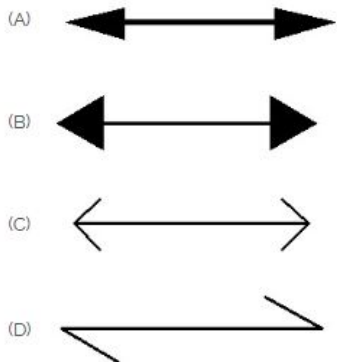
- A) 841 x 1189  
 B) 594 x 841  
 C) 148 x 210  
 D) 210 x 297

14. Identify the name of the triangle? | ತ್ರಿಕೋನದ ಹೆಸರನ್ನು ಗುರುತಿಸುವುದೇ?



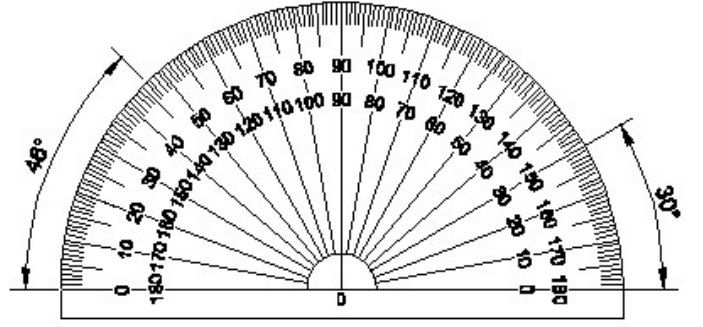
- A) Right angle triangle | ಬಲ ಕೋನ ತ್ರಿಕೋನ  
 B) Isosceles triangle | ಸಮದ್ವಿಬಾಹು ತ್ರಿಭುಜ  
 C) Scalene triangle | ಸ್ಕೇಲಿನ್ ತ್ರಿಕೋನ  
 D) Equilateral triangle | ಸಮಕೋನ ತ್ರಿಕೋನ

15. Which arrow head is correct as per standard? | ಮಾನದಂಡದ ಪ್ರಕಾರ ಯಾವ ಬಾಣದ ಹೆಡ್ ಸರಿಯಾಗಿದೆ?



- A) B  
 B) A  
 C) D  
 D) C

16. Identify the name of instrument? | ಉಪಕರಣದ ಹೆಸರನ್ನು ಗುರುತಿಸುವುದೇ?

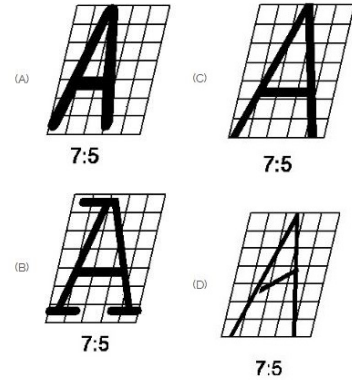


- A) T square | ಸ್ವೀರ್  
 B) Protractor | ಪ್ರೊಟ್ರಾಕ್ಟರ್  
 C) French curve | ಫ್ರೆಂಚ್ ಕರ್ವ್  
 D) Set square | ಸೆಟ್ ಸ್ವೀರ್

17. Compass used to draw for \_\_\_\_. | ಕಂಪಾಸ್ ಅನ್ನು \_\_\_\_ ಗೆ ಸೆಳೆಯಲು ಬಳಸಲಾಗುತ್ತದೆ.

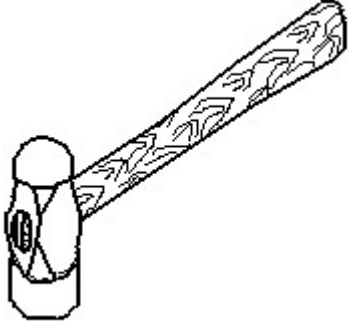
- A) rectangle | ಆಯಾತ  
 B) square | ಚದರ  
 C) circle | ವೃತ್ತ  
 D) triangle | ತ್ರಿಕೋನ

18. Which single stroke inclined letter 'A' is correct as per IS standard? | IS ಮಾನದಂಡದ ಪ್ರಕಾರ ಯಾವ ಏಕ ಸ್ಟ್ರೋಕ್ ಇಳಿಜಾರಿನ ಅಕ್ಷರ 'A' ಠರಿಯಾಗಿದೆ?



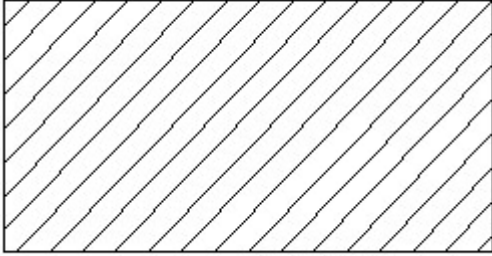
- A) B  
 B) C  
 C) A  
 D) D

19. Identify the name of tool? | ಉಪಕರಣದ ಹೆಸರನ್ನು ಗುರುತಿಸುವುದೇ?



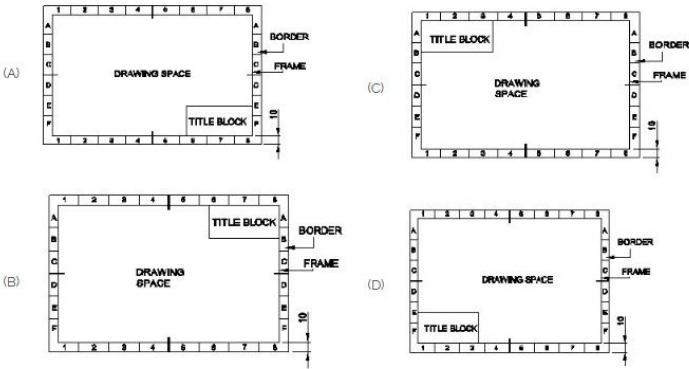
- A) Straight pein hammer | ನೇರ ಪೆನ್ ಸುತ್ತಿಗೆ  
 B) Ball pein hammer | ಬಾಲ್ ಪೆನ್ ಸುತ್ತಿಗೆ  
 C) Sledge hammer | ಸ್ಲೆಡ್ಜ್ ಸುತ್ತಿಗೆ  
 D) Cross pein hammer | ಕ್ರಾಸ್ ಪೆನ್ ಸುತ್ತಿಗೆ

20. Identify the conventional symbol of material? | ವಸ್ತುವಿನ ಕನ್ವೆಷನಲ್ ಚಿಹ್ನೆಯನ್ನು ಗುರುತಿಸಿ?



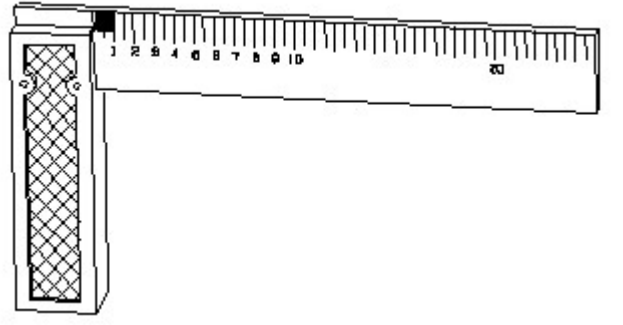
- A) Porcelain | ಪಿಂಗಾಣಿ  
 B) Steel | ಸ್ಟೀಲ್  
 C) Glass | ಗಾಜು  
 D) Lead | ಲೀಡ್

21. Which title block position is correct as standard practice? | ಪ್ರಮಾಣಿತ ಅಭ್ಯಾಸದಂತೆ ಯಾವ ಶೀರ್ಷಿಕೆ ಬಾಕ್ಸ್ ಸ್ಥಾನವು ಸರಿಯಾಗಿದೆ?



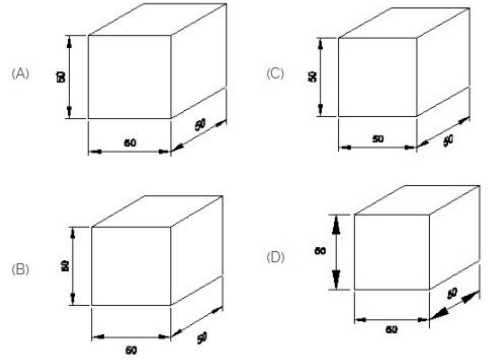
- A) A  
 B) C  
 C) B  
 D) D

22. 1). Identify the name of tool? | ಉಪಕರಣದ ಹೆಸರನ್ನು ಗುರುತಿಸುವುದೇ?



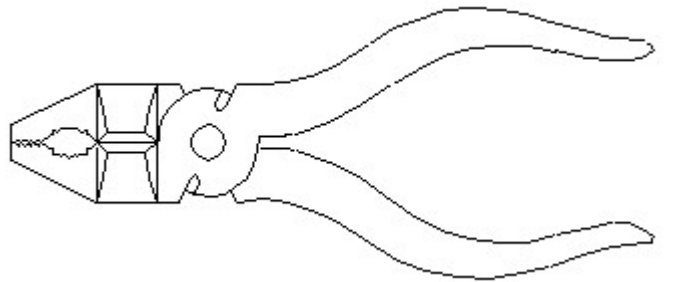
- A) Surface gauge | ಮೇಲ್ಮೈ ಮಾಪಕ  
 B) Feeler gauge | ಫೀಲರ್ ಗೇಜ್  
 C) Steel rule | ಸ್ಟೀಲ್ ರೂಲ್  
 D) Try square | ಟ್ರೈ ಸ್ಕ್ವೇರ್

23. Which drawing dimension is correct as per IS standard? | IS ಮಾನದಂಡದ ಪ್ರಕಾರ ಯಾವ ರೇಖಾಚಿತ್ರದ ಆಯಾಮವು ಸರಿಯಾಗಿದೆ?



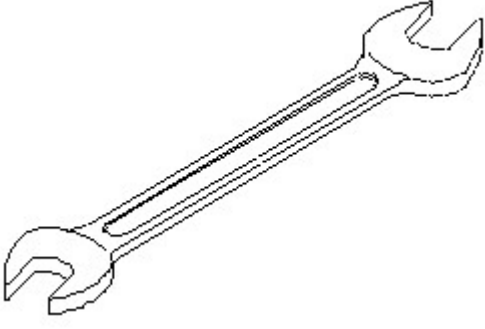
- A) D  
 B) A  
 C) C  
 D) B

24. Identify the name of tool? | ಉಪಕರಣದ ಹೆಸರನ್ನು ಗುರುತಿಸುವುದೇ?



- A) Hawk-billed shear | ಹಾಕ್-ಬಿಲ್ಡ್ ಸಿಯರ್  
 B) Double cutting shear | ಡಬಲ್ ಕಟಿಂಗ್ ಸಿಯರ್  
 C) Aviation shear | ಏವಿಯೇಷನ್ ಸಿಯರ್  
 D) Cutting plier | ಕಟಿಂಗ್ ಪ್ಲಿಯರ್

25. Identify the name of tool? | ಉಪಕರಣದ ಹೆಸರನ್ನು ಗುರುತಿಸುವುದೇ?



- A) Open end spanner | ಓಪನ್ ಎಂಡ್ ಸ್ಪ್ಯಾನರ್
- B) Combination spanner | ಕಾಂಬಿನೇಶನ್ ಸ್ಪ್ಯಾನರ್
- C) Ring spanner | ರಿಂಗ್ ಸ್ಪ್ಯಾನರ್
- D) Adjustable spanner | ಹೊಂದಿಸಬಹುದಾದ ಸ್ಪ್ಯಾನರ್
-