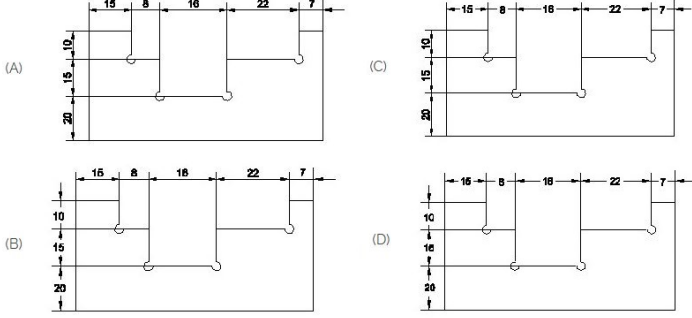


Duration: 60 Mins

Total Marks: 25

Q.ID: ITISKILL811565

1. Identify the correct aligned system dimension? | ಸರಿಯಾದ ಜೋಡಿಸಲಾದ ಸಿಸ್ಟಮ್ ಆಯಾಮವನ್ನು ಗುರುತಿಸುವುದೇ?



- A) D
C) B
B) A
D) C

Answer: B) A

2. What is the trimmed size of A4 sheet? | A4 ಹಾಳೆಯ ಟ್ರಿಮ್ ಮಾಡಿದ ಗಾತ್ರ ಎಷ್ಟು?

- A) 210 x 297
C) 841 x 1189
B) 594 x 841
D) 148 x 210

Answer: A) 210 x 297

3. Compass used to draw for ___. | ಕಂಪಾಸ್ ಅನ್ನು ___ ಗೆ ಸೆಳೆಯಲು ಬಳಸಲಾಗುತ್ತದೆ.

- A) triangle | ತ್ರಿಕೋನ
C) square | ಚದರ
B) rectangle | ಆಯಾತ
D) circle | ವೃತ್ತ

Answer: D) circle | ವೃತ್ತ

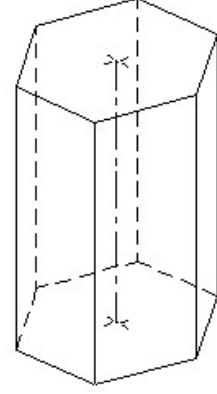
4. Identify the name of set square? | ಸೆಟ್ ಚೌಕದ ಹೆಸರನ್ನು ಗುರುತಿಸುವುದೇ?



- A) 30° set square | 30° ಸೆಟ್ ಸ್ಕ್ವೇರ್
C) 15° set square | 15° ಸೆಟ್ ಸ್ಕ್ವೇರ್
B) 60° set square | 60° ಸೆಟ್ ಸ್ಕ್ವೇರ್
D) 45° set square | 45° ಸೆಟ್ ಸ್ಕ್ವೇರ್

Answer: D) 45° set square | 45° ಸೆಟ್ ಸ್ಕ್ವೇರ್

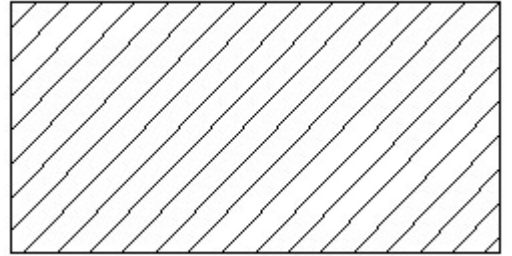
5. Identify the name of prism? | ಪ್ರಿಸಮ್ ಹೆಸರನ್ನು ಗುರುತಿಸುವುದೇ?



- A) Hexagonal prism | ಷಡ್ಭುಜೀಯ ಪ್ರಿಸಮ್
C) Triangular prism | ತ್ರಿಕೋನ ಪ್ರಿಸಮ್
B) Square prism | ಚದರ ಪ್ರಿಸಮ್
D) Pentagonal prism | ಪಂಚಭುಜೀಯ ಪ್ರಿಸಮ್

Answer: A) Hexagonal prism | ಷಡ್ಭುಜೀಯ ಪ್ರಿಸಮ್

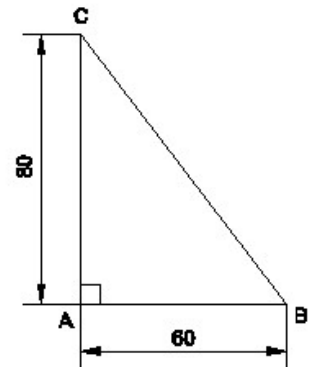
6. Identify the conventional symbol of material? | ವಸ್ತುವಿನ ಕನ್ವೆಷನಲ್ ಚಿಹ್ನೆಯನ್ನು ಗುರುತಿಸಿ?



- A) Steel | ಸ್ಟೀಲ್
C) Porcelain | ಪಿಂಗಾಣಿ
B) Lead | ಲೀಡ್
D) Glass | ಗಾಜು

Answer: A) Steel | ಸ್ಟೀಲ್

7. Identify the name of the triangle? | ತ್ರಿಕೋನದ ಹೆಸರನ್ನು ಗುರುತಿಸುವುದೇ?



5. Identify the name of prism? | ಪ್ರಿಸಮ್ ಹೆಸರನ್ನು ಗುರುತಿಸುವುದೇ?

A) Equilateral triangle | ಸಮಕೋನ ತ್ರಿಕೋನ

B) Scalene triangle | ಸ್ಕೇಲಿನ್ ತ್ರಿಕೋನ

C) Right angle triangle | ಬಲ ಕೋನ ತ್ರಿಕೋನ

D) Isosceles triangle | ಸಮದ್ವಿಬಾಹು ತ್ರಿಭುಜ

Answer: C) Right angle triangle | ಬಲ ಕೋನ ತ್ರಿಕೋನ

A) Open end spanner | ಓಪನ್ ಎಂಡ್ ಸ್ಪ್ಯಾನರ್

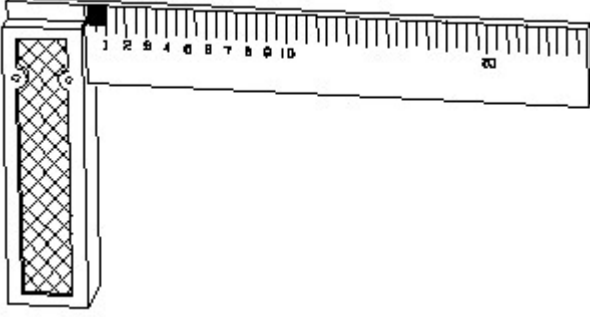
B) Ring spanner | ರಿಂಗ್ ಸ್ಪ್ಯಾನರ್

C) Adjustable spanner | ಹೊಂದಿಸಬಹುದಾದ ಸ್ಪ್ಯಾನರ್

D) Combination spanner | ಕಾಂಬಿನೇಶನ್ ಸ್ಪ್ಯಾನರ್

Answer: A) Open end spanner | ಓಪನ್ ಎಂಡ್ ಸ್ಪ್ಯಾನರ್

8. 1). Identify the name of tool? | ಉಪಕರಣದ ಹೆಸರನ್ನು ಗುರುತಿಸುವುದೇ?



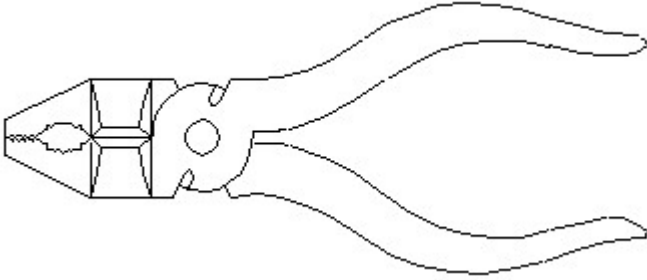
A) Surface gauge | ಮೇಲ್ಮೈ ಮಾಪಕ

B) Try square | ಟ್ರೈ ಸ್ಕ್ವೇರ್

C) Feeler gauge | ಫೀಲರ್ ಗೇಜ್ D) Steel rule | ಸ್ಟೀಲ್ ರೂಲ್

Answer: B) Try square | ಟ್ರೈ ಸ್ಕ್ವೇರ್

9. Identify the name of tool? | ಉಪಕರಣದ ಹೆಸರನ್ನು ಗುರುತಿಸುವುದೇ?



A) Hawk-billed shear | ಹಾಕ್-ಬಿಲ್ಡ್ ಸ್ಷಿಯರ್

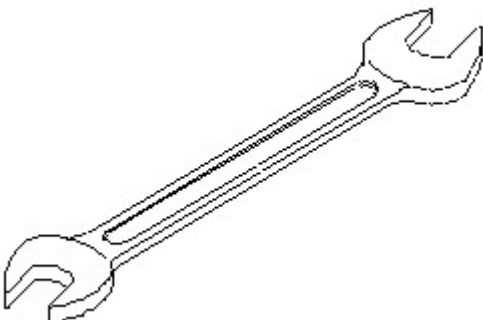
B) Aviation shear | ಏವಿಯೇಷನ್ ಸ್ಷಿಯರ್

C) Double cutting shear | ಡಬಲ್ ಕಟಿಂಗ್ ಸ್ಷಿಯರ್

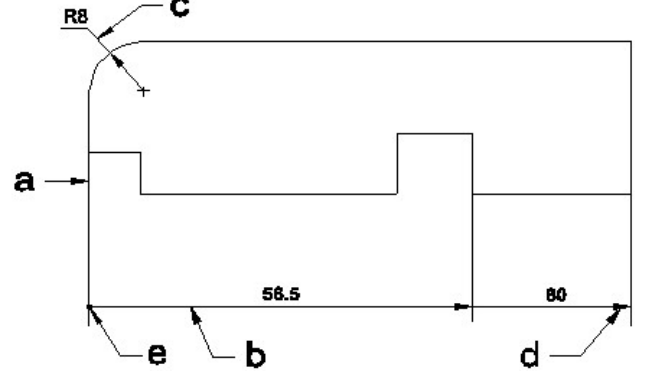
D) Cutting plier | ಕಟಿಂಗ್ ಪ್ಲಿಯರ್

Answer: D) Cutting plier | ಕಟಿಂಗ್ ಪ್ಲಿಯರ್

10. Identify the name of tool? | ಉಪಕರಣದ ಹೆಸರನ್ನು ಗುರುತಿಸುವುದೇ?



11. Identify the line □ b □ ? | □ ಸಾಫಿನ್ನು ಗುರುತಿಸುವುದೇ?



A) Extension line | ಎಕ್ಸ್ಟೆನ್ಷನ್ ಲೈನ್

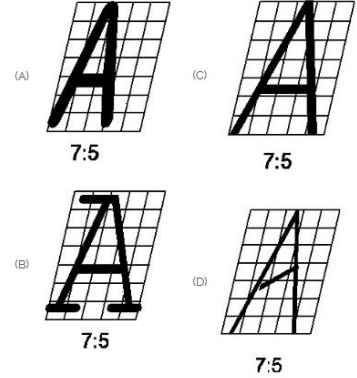
B) Leader line | ಲೀಡರ್ ಲೈನ್

C) Dimension line | ಡೈಮೆನ್ಷನ್ ಲೈನ್

D) Termination of dimension line | ಆಯಾಮ ರೇಖೆಯ ಮುಕ್ತಾಯ

Answer: C) Dimension line | ಡೈಮೆನ್ಷನ್ ಲೈನ್

12. Which single stroke inclined letter □ A □ is correct as per IS standard? | IS ಮಾನದಂಡದ ಪ್ರಕಾರ ಯಾವ ಏಕ ಸ್ಟ್ರೋಕ್ ಇಳಿಜಾರಿನ ಅಕ್ಷರ □ A □ ಇಳಿಜಾರಿನ ಅಕ್ಷರ □ A □ ಯಾಗಿದೆ?



A) B

B) C

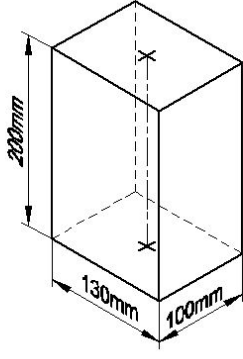
C) A

D) D

Answer: B) C

13. Identify the name of prism? | ಪ್ರಿಸ್ಮ್ ಹೆಸರನ್ನು ಗುರುತಿಸುವುದೇ?

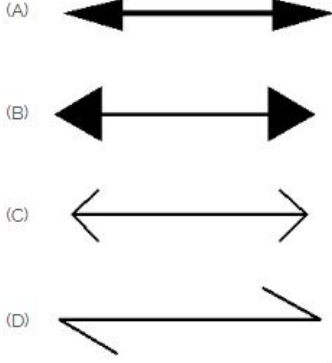
IS ಮಾನದಂಡದ ಪ್ರಕಾರ ಯಾವ ರೇಖಾಚಿತ್ರದ ಆಯಾಮವು ಸರಿಯಾಗಿದೆ?



- A) Square prism | ಚದರ ಪ್ರಿಸ್ಮ್
 B) Rectangle prism | ಆಯತ ಪ್ರಿಸ್ಮ
 C) Triangular prism | ತ್ರಿಕೋನ ಪ್ರಿಸ್ಮ
 D) Hexagonal prism | ಷಡ್ಭುಜೀಯ ಪ್ರಿಸ್ಮ

Answer: B) Rectangle prism | ಆಯತ ಪ್ರಿಸ್ಮ

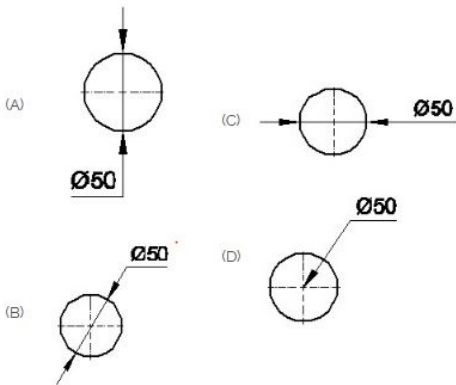
14. Which arrow head is correct as per standard? | ಮಾನದಂಡದ ಪ್ರಕಾರ ಯಾವ ಬಾಣದ ಹೆಡ್ ಸರಿಯಾಗಿದೆ?



- A) B
 B) C
 C) D
 D) A

Answer: D) A

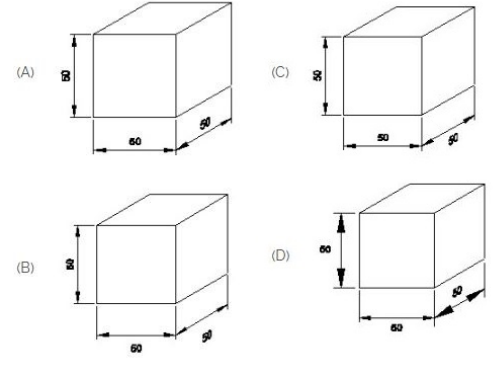
15. Which dimension correctly marked in the circle as per standard? | ಮಾನದಂಡದ ಪ್ರಕಾರ ವೃತ್ತದಲ್ಲಿ ಯಾವ ಆಯಾಮವನ್ನು ಸರಿಯಾಗಿ ಗುರುತಿಸಲಾಗಿದೆ?



- A) B
 B) A
 C) D
 D) C

Answer: A) B

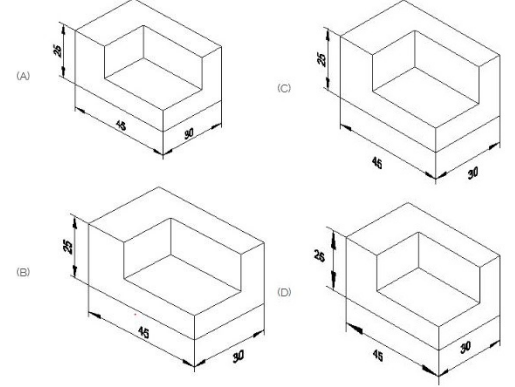
16. Which drawing dimension is correct as per IS standard? |



- A) B
 B) C
 C) D
 D) A

Answer: D) A

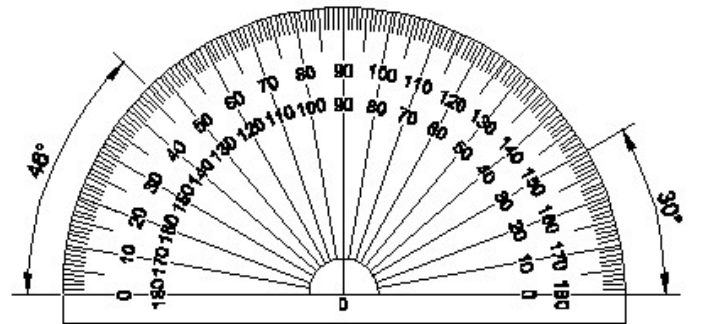
17. Which drawing dimension is correct as per standard drawing practice? | ಸ್ಟಾಂಡರ್ಡ್ ಡ್ರಾಯಿಂಗ್ ಅಭ್ಯಾಸದ ಪ್ರಕಾರ ಯಾವ ಡ್ರಾಯಿಂಗ್ ಆಯಾಮ ಸರಿಯಾಗಿದೆ?



- A) D
 B) C
 C) B
 D) A

Answer: D) A

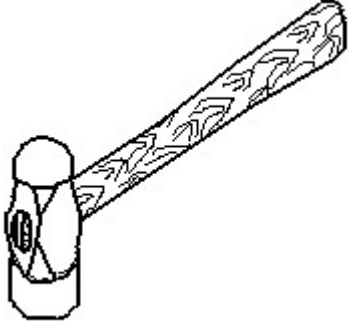
18. Identify the name of instrument? | ಉಪಕರಣದ ಹೆಸರನ್ನು ಗುರುತಿಸುವುದೇ?



- A) French curve | ಫ್ರೆಂಚ್ ಕರ್ವ್
 B) Set square | ಸೆಟ್ ಸ್ಕ್ವೇರ್
 C) Protractor | ಪ್ರೊಟ್ರಾಕ್ಟರ್
 D) T square | ಟ್ ಸ್ಕ್ವೇರ್

Answer: C) Protractor | ಪ್ರೊಟ್ರಾಕ್ಟರ್


19. Identify the name of tool? | ಉಪಕರಣದ ಹೆಸರನ್ನು ಗುರುತಿಸುವುದೇ?



- A) Sledge hammer | ಸ್ಲೆಜ್ಹ್ಯಾಹ್ಮರ್ | ಸುತ್ತಿಗೆ
 B) Straight pein hammer | ನೇರ ಪೆನ್ ಸುತ್ತಿಗೆ
 C) Ball pein hammer | ಬಾಲ್ ಪೆನ್ ಸುತ್ತಿಗೆ
 D) Cross pein hammer | ಕ್ರಾಸ್ ಪೀನ್ ಸುತ್ತಿಗೆ

Answer: C) Ball pein hammer | ಬಾಲ್ ಪೆನ್ ಸುತ್ತಿಗೆ

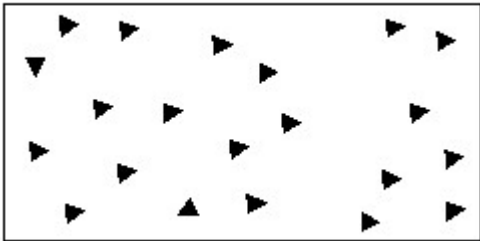
20. Identify the conventional symbol of material? | ವಸ್ತುವಿನ ಕನ್ವೆಷನಲ್ ಚಿಹ್ನೆಯನ್ನು ಗುರುತಿಸಿ?



- A) Steel | ಸ್ಟೀಲ್
 B) Concrete | ಕಾಂಕ್ರೀಟ್
 C) Glass | ಗಾಜು
 D) Wood | ಮರ

Answer: C) Glass | ಗಾಜು

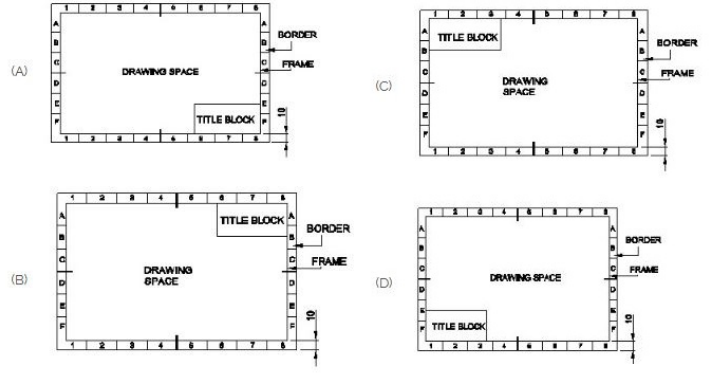
21. Identify the conventional symbol of material? | ವಸ್ತುವಿನ ಕನ್ವೆಷನಲ್ ಚಿಹ್ನೆಯನ್ನು ಗುರುತಿಸಿ?



- A) Steel | ಸ್ಟೀಲ್
 B) Wood | ಮರ
 C) Glass | ಗಾಜು
 D) Concrete | ಕಾಂಕ್ರೀಟ್

Answer: D) Concrete | ಕಾಂಕ್ರೀಟ್

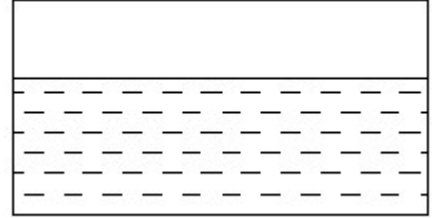
22. Which title block position is correct as standard practice? | ಪ್ರಮಾಣಿತ ಅಭ್ಯಾಸದಂತೆ ಯಾವ ಶೀರ್ಷಿಕೆ ಬಾಕ್ಸ್ ಸ್ಥಾನವು ಸರಿಯಾಗಿದೆ?



- A) A
 B) D
 C) C
 D) B

Answer: A) A

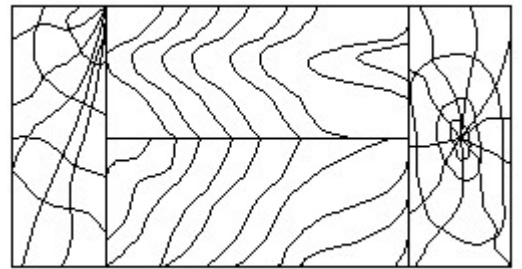
23. Identify the conventional symbol of material? | ವಸ್ತುವಿನ ಕನ್ವೆಷನಲ್ ಚಿಹ್ನೆಯನ್ನು ಗುರುತಿಸಿ?



- A) Asbestos | ಆಸ್ಟೆಸ್ಟೋಸ್
 B) Concrete | ಕಾಂಕ್ರೀಟ್
 C) Glass | ಗಾಜು
 D) Water | ನೀರು

Answer: D) Water | ನೀರು

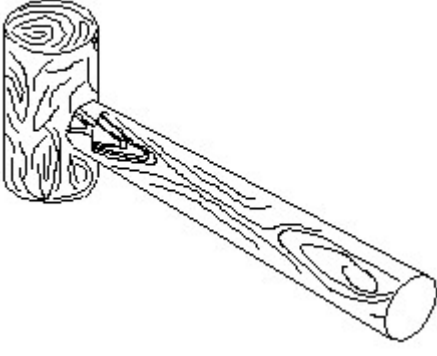
24. Identify the conventional symbol of material? | ವಸ್ತುವಿನ ಕನ್ವೆಷನಲ್ ಚಿಹ್ನೆಯನ್ನು ಗುರುತಿಸಿ?



- A) Wood | ಮರ
 B) Lead | ಲೀಡ್
 C) Glass | ಗಾಜು
 D) Paper | ಪೇಪರ್

Answer: A) Wood | ಮರ

25. Identify the name of tool? | ಉಪಕರಣದ ಹೆಸರನ್ನು ಗುರುತಿಸುವುದೇ?



- A) Cross pein hammer | ಕ್ರಾಸ್ ಪೀನ್ ಸುತ್ತಿಗೆ
B) Straight pein hammer | ಸ್ಟ್ರೈಟ್ ಪೀನ್ ಸುತ್ತಿಗೆ
C) Mallet | ಮ್ಯಾಲೆಟ್
D) Ball pein hammer | ಬಾಲ್ ಪೀನ್ ಸುತ್ತಿಗೆ

Answer: C) Mallet | ಮ್ಯಾಲೆಟ್
