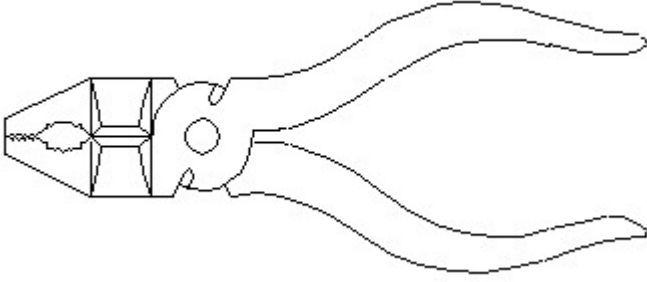


Student Name: \_\_\_\_\_

Roll No: \_\_\_\_\_

1. Identify the name of tool? | ಉಪಕರಣದ ಹೆಸರನ್ನು ಗುರುತಿಸುವುದೇ?

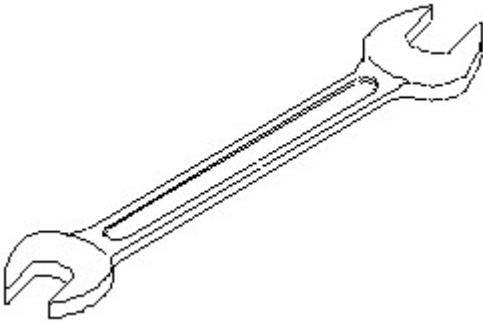


- A) Aviation shear | ಏವಿಯೇಷನ್ ಸಿಯರ್  
 B) Cutting plier | ಕಟಿಂಗ್ ಪ್ಲಿಯರ್  
 C) Double cutting shear | ಡಬಲ್ ಕಟಿಂಗ್ ಸಿಯರ್  
 D) Hawk-billed shear | ಹಾಕ್-ಬಿಲ್ಡ್ ಸಿಯರ್

2. Which metal cannot be forged?

- A) Mild steel  
 B) Cast iron  
 C) Steel  
 D) Alloy steel

3. Identify the name of tool? | ಉಪಕರಣದ ಹೆಸರನ್ನು ಗುರುತಿಸುವುದೇ?



- A) Open end spanner | ಓಪನ್ ಎಂಡ್ ಸ್ಪಾನ್ನರ್  
 B) Combination spanner | ಕಾಂಬಿನೇಷನ್ ಸ್ಪಾನ್ನರ್  
 C) Ring spanner | ರಿಂಗ್ ಸ್ಪಾನ್ನರ್  
 D) Adjustable spanner | ಹೊಂದಿಸಬಹುದಾದ ಸ್ಪಾನ್ನರ್

4. Identify the name of set square? | ಸೆಟ್ ಚೌಕದ ಹೆಸರನ್ನು ಗುರುತಿಸುವುದೇ?



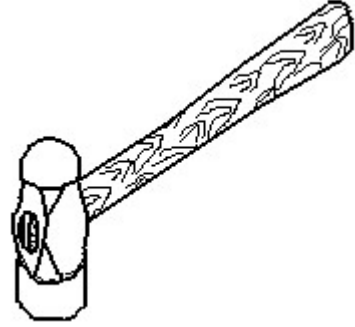
- A) 45° set square | 45° ಸೆಟ್ ಸ್ಕ್ವೇರ್  
 B) 15° set square | 15° ಸೆಟ್ ಸ್ಕ್ವೇರ್

- C) 30° set square | 30° ಸೆಟ್ ಸ್ಕ್ವೇರ್  
 D) 60° set square | 60° ಸೆಟ್ ಸ್ಕ್ವೇರ್

5. Which property of material enables to formation of permanent deformation without fracture?

- A) Elasticity  
 B) Brittleness  
 C) Ductility  
 D) Plasticity

6. Identify the name of tool? | ಉಪಕರಣದ ಹೆಸರನ್ನು ಗುರುತಿಸುವುದೇ?



- A) Cross peen hammer | ಕ್ರಾಸ್ ಪೀನ್ ಸುತ್ತಿಗೆ  
 B) Straight peen hammer | ನೇರ ಪೀನ್ ಸುತ್ತಿಗೆ  
 C) Sledge hammer | ಸ್ಲೆಡ್ಜ್ ಸುತ್ತಿಗೆ  
 D) Ball peen hammer | ಬಾಲ್ ಪೀನ್ ಸುತ್ತಿಗೆ

7. Which property of metal has its power of returning to its original shape after the applied force is released?

- A) Elasticity  
 B) Tenacity  
 C) Plasticity  
 D) Malleability

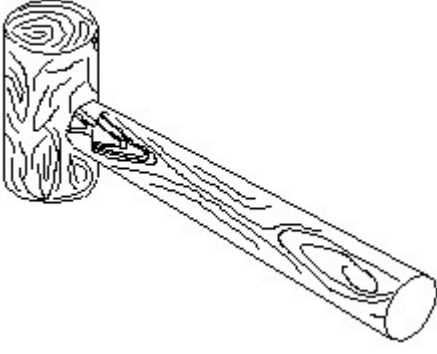
8. What is the name of the metal which do not contain iron?

- A) Ferrous metals  
 B) Insulating metals  
 C) Non-Insulating metals  
 D) Non-ferrous metals

9. Which metal contains iron as a major content?

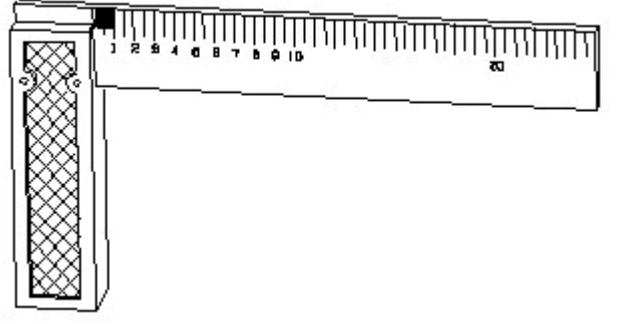
- A) Ferrous metal  
 B) Zinc  
 C) Bronze metal  
 D) Brass metal

10. Identify the name of tool? | ಉಪಕರಣದ ಹೆಸರನ್ನು ಗುರುತಿಸುವುದೇ?



- A) Straight peen hammer | ಸ್ವೇಟ್ ಪೆಯಿನ್ ಸುತ್ತಿಗೆ  
B) Mallet | ಮ್ಯಾಲೆಟ್  
C) Ball peen hammer | ಬಾಲ್ ಪೆನ್ ಸುತ್ತಿಗೆ  
D) Cross peen hammer | ಕ್ರಾಸ್ ಪೀನ್ ಸುತ್ತಿಗೆ

11. 1). Identify the name of tool? | ಉಪಕರಣದ ಹೆಸರನ್ನು ಗುರುತಿಸುವುದೇ?



- A) Steel rule | ಸ್ಟೀಲ್ ರೂಲ್  
B) Feeler gauge | ಫೀಲರ್ ಗೇಜ್  
C) Try square | ಟ್ರೈ ಸ್ಕೇರ್  
D) Surface gauge | ಮೇಲ್ಮೈ ಮಾಪಕ

12. Which is brittle metal?

- A) Steel  
B) Mild steel  
C) Cast iron  
D) Alloy steel