

Student: vishal waddar

Score: 5/12 (41.67%)

Code: 1511

1. Which metal contains iron as a major content?

- A) Brass metal (Incorrect)      B) Bronze metal  
C) Zinc      **D) Ferrous metal**

2. What is the name of the metal which do not contain iron?

- A) Ferrous metals      **B) Non-ferrous metals**  
C) Insulating metals (Incorrect)      D) Non-Insulating metals

3. Which is brittle metal?

- A) Cast iron**      B) Steel  
C) Mild steel (Incorrect)      D) Alloy steel

4. Which property of material enables to formation of permanent deformation without fracture?

- A) Elasticity (Incorrect)      **B) Plasticity**  
C) Ductility      D) Brittleness

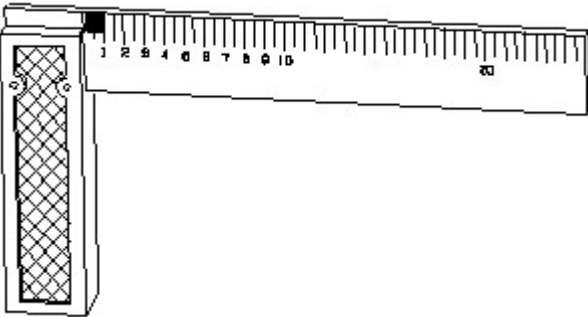
5. Which property of metal has its power of returning to its original shape after the applied force is released?

- A) Malleability (Incorrect)      B) Tenacity  
**C) Elasticity**      D) Plasticity

6. Which metal cannot be forged?

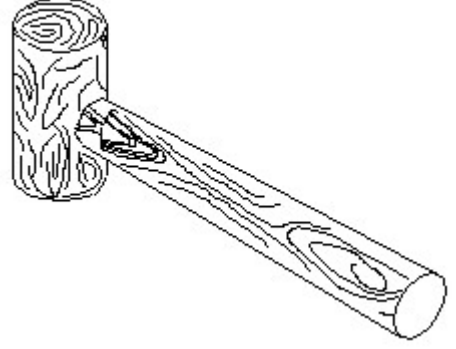
- A) Alloy steel (Incorrect)      B) Mild steel  
C) Steel      **D) Cast iron**

7. 1). Identify the name of tool? | ಉಪಕರಣದ ಹೆಸರನ್ನು ಗುರುತಿಸುವುದೇ?



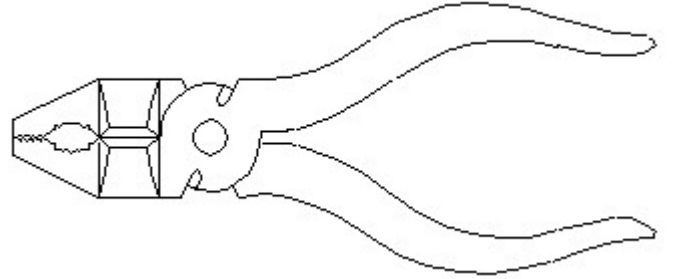
- A) Try square | ಟ್ರೈ ಸ್ಕ್ವೇರ್ (Correct)**      B) Surface gauge | ಮೇಲ್ಮೈ ಮಾಪಕ  
C) Steel rule | ಸ್ಟೀಲ್ ರೂಲ್      D) Feeler gauge | ಫೀಲರ್ ಗೇಜ್

8. Identify the name of tool? | ಉಪಕರಣದ ಹೆಸರನ್ನು ಗುರುತಿಸುವುದೇ?



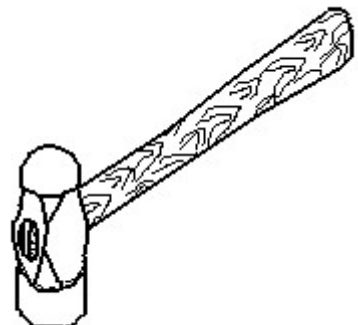
- A) Ball pein hammer | ಬಾಲ್ ಪೆನ್ ಸುತ್ತಿಗೆ      **B) Mallet | ಮ್ಯಾಲೆಟ್ (Correct)**  
C) Cross pein hammer | ಕ್ರಾಸ್ ಪೆನ್ ಸುತ್ತಿಗೆ      D) Straight pein hammer | ಸ್ಟ್ರೈಟ್ ಪೆನ್ ಸುತ್ತಿಗೆ

9. Identify the name of tool? | ಉಪಕರಣದ ಹೆಸರನ್ನು ಗುರುತಿಸುವುದೇ?



- A) Hawk-billed shear | ಹಾಕ್-ಬಿಲ್ಡ್ ಸಿಯರ್      B) Aviation shear | ವಿವಿಯೇಷನ್ ಸಿಯರ್  
**C) Cutting plier | ಕಟಿಂಗ್ ಪ್ಲಿಯರ್**      D) Double cutting shear | ಡಬಲ್ ಕಟಿಂಗ್ ಸಿಯರ್ (Incorrect)

10. Identify the name of tool? | ಉಪಕರಣದ ಹೆಸರನ್ನು ಗುರುತಿಸುವುದೇ?



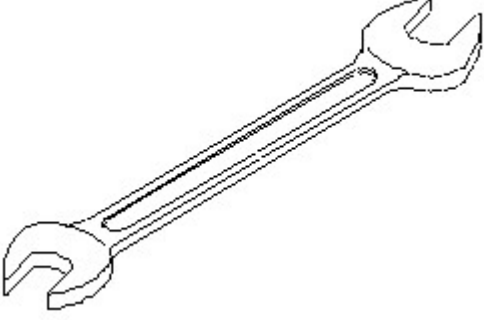
A) Ball pein hammer | ಬಾಲ್ ಪೆನ್ ಸುತ್ತಿಗೆ (Correct)

B) Cross pein hammer | ಕ್ರಾಸ್ ಪೀನ್ ಸುತ್ತಿಗೆ

C) Straight pein hammer | ನೇರ ಪೆನ್ ಸುತ್ತಿಗೆ

D) Sledge hammer | ಸ್ಲೆಡ್ಜ್ ಸುತ್ತಿಗೆ

11. Identify the name of tool? | ಉಪಕರಣದ ಹೆಸರನ್ನು ಗುರುತಿಸುವುದೇ?



A) Open end spanner | ಓಪನ್ ಎಂಡ್ ಸ್ಪಾನರ್ (Correct)

B) Ring spanner | ರಿಂಗ್ ಸ್ಪಾನರ್

C) Combination spanner | ಕಾಂಬಿನೇಶನ್ ಸ್ಪಾನರ್

D) Adjustable spanner | ಹೊಂದಿಸಬಹುದಾದ ಸ್ಪಾನರ್

12. Identify the name of set square? | ಸೆಟ್ ಚೌಕದ ಹೆಸರನ್ನು ಗುರುತಿಸುವುದೇ?



A) 15° set square | 15° ಸೆಟ್ ಸ್ಕ್ವೇರ್

B) 60° set square | 60° ಸೆಟ್ ಸ್ಕ್ವೇರ್

C) 30° set square | 30° ಸೆಟ್ ಸ್ಕ್ವೇರ್

D) 45° set square | 45° ಸೆಟ್ ಸ್ಕ್ವೇರ್ (Correct)