

Student: Mahammad Aseef yelapur

Score: 7/12 (58.33%)

Code: 4952

1. Which metal contains iron as a major content?

- A) Brass metal (Incorrect) B) Bronze metal
C) Zinc D) **Ferrous metal**

2. What is the name of the metal which do not contain iron?

- A) Ferrous metals B) **Non-ferrous metals (Correct)**
C) Insulating metals D) Non-Insulating metals

3. Which is brittle metal?

- A) **Cast iron** B) Steel
C) Mild steel (Incorrect) D) Alloy steel

4. Which property of material enables to formation of permanent deformation without fracture?

- A) Elasticity B) **Plasticity**
C) Ductility (Incorrect) D) Brittleness

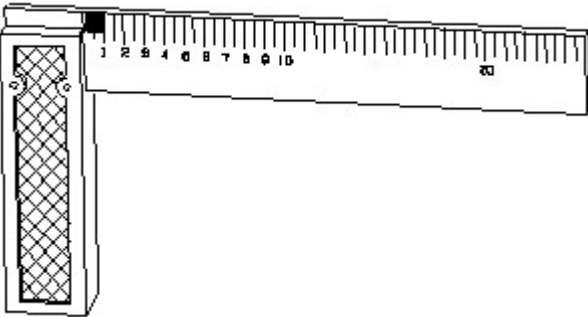
5. Which property of metal has its power of returning to its original shape after the applied force is released?

- A) Malleability (Incorrect) B) Tenacity
C) **Elasticity** D) Plasticity

6. Which metal cannot be forged?

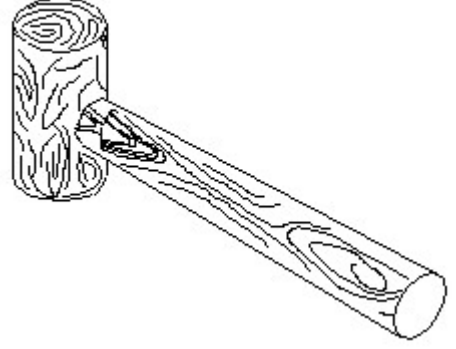
- A) Alloy steel B) Mild steel (Incorrect)
C) Steel D) **Cast iron**

7. 1). Identify the name of tool? | ಉಪಕರಣದ ಹೆಸರನ್ನು ಗುರುತಿಸುವುದೇ?



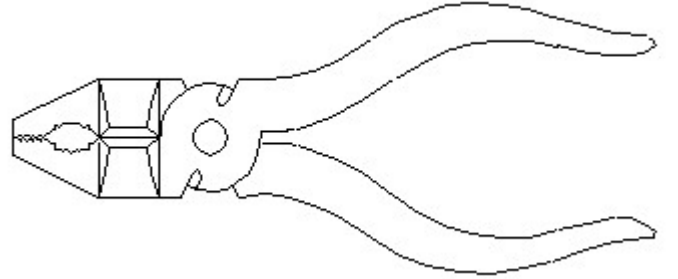
- A) **Try square | ಟ್ರೈ ಸ್ಕ್ವೇರ್ (Correct)** B) Surface gauge | ಮೇಲ್ಮೈ ಮಾಪಕ
C) Steel rule | ಸ್ಟೀಲ್ ರೂಲ್ D) Feeler gauge | ಫೀಲರ್ ಗೇಜ್

8. Identify the name of tool? | ಉಪಕರಣದ ಹೆಸರನ್ನು ಗುರುತಿಸುವುದೇ?



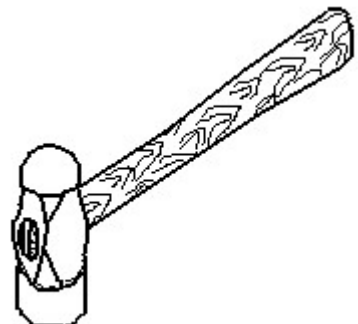
- A) Ball pein hammer | ಬಾಲ್ ಪೆನ್ ಸುತ್ತಿಗೆ B) **Mallet | ಮ್ಯಾಲೆಟ್ (Correct)**
C) Cross pein hammer | ಕ್ರಾಸ್ ಪೆನ್ ಸುತ್ತಿಗೆ D) Straight pein hammer | ಸ್ಟ್ರೈಟ್ ಪೆನ್ ಸುತ್ತಿಗೆ

9. Identify the name of tool? | ಉಪಕರಣದ ಹೆಸರನ್ನು ಗುರುತಿಸುವುದೇ?



- A) Hawk-billed shear | ಹಾಕ್-ಬಿಲ್ಡ್ ಶಿಯರ್ B) Aviation shear | ವಿವಿಯೇಷನ್ ಶಿಯರ್
C) **Cutting plier | ಕಟಿಂಗ್ ಪ್ಲಿಯರ್ (Correct)** D) Double cutting shear | ಡಬಲ್ ಕಟಿಂಗ್ ಶಿಯರ್

10. Identify the name of tool? | ಉಪಕರಣದ ಹೆಸರನ್ನು ಗುರುತಿಸುವುದೇ?



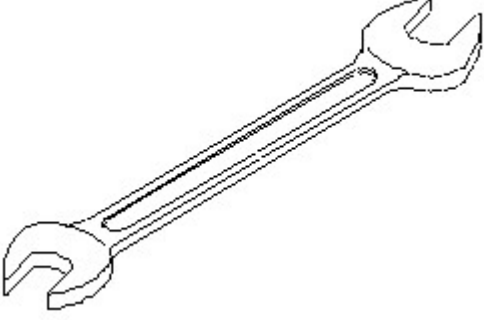
A) Ball pein hammer | ಬಾಲ್ ಪೆನ್ ಸುತ್ತಿಗೆ (Correct) B) Cross pein hammer | ಕ್ರಾಸ್ ಪೀನ್ ಸುತ್ತಿಗೆ

C) Straight pein hammer | ನೇರ ಪೆನ್ ಸುತ್ತಿಗೆ D) Sledge hammer | ಸ್ಲೆಡ್ಜ್ ಸುತ್ತಿಗೆ

A) Open end spanner | ಓಪನ್ ಎಂಡ್ ಸ್ಪಾನರ್ (Correct) B) Ring spanner | ರಿಂಗ್ ಸ್ಪಾನರ್

C) Combination spanner | ಕಾಂಬಿನೇಶನ್ ಸ್ಪಾನರ್ D) Adjustable spanner | ಹೊಂದಿಸಬಹುದಾದ ಸ್ಪಾನರ್

11. Identify the name of tool? | ಉಪಕರಣದ ಹೆಸರನ್ನು ಗುರುತಿಸುವುದೇ?



12. Identify the name of set square? | ಸೆಟ್ ಚೌಕದ ಹೆಸರನ್ನು ಗುರುತಿಸುವುದೇ?



A) 15° set square | 15° ಸೆಟ್ ಸ್ಕ್ವೇರ್ B) 60° set square | 60° ಸೆಟ್ ಸ್ಕ್ವೇರ್
C) 30° set square | 30° ಸೆಟ್ ಸ್ಕ್ವೇರ್ D) 45° set square | 45° ಸೆಟ್ ಸ್ಕ್ವೇರ್ (Correct)