

Student: MANIKANTH KUMBAR

Score: 9/12 (75.00%)

Code: 9154

1. Which metal contains iron as a major content?

- A) Brass metal  
B) Bronze metal (Incorrect)  
C) Zinc  
D) Ferrous metal

2. What is the name of the metal which do not contain iron?

- A) Ferrous metals  
B) Non-ferrous metals (Correct)  
C) Insulating metals  
D) Non-Insulating metals

3. Which is brittle metal?

- A) Cast iron  
B) Steel  
C) Mild steel (Incorrect)  
D) Alloy steel

4. Which property of material enables to formation of permanent deformation without fracture?

- A) Elasticity  
B) Plasticity (Correct)  
C) Ductility  
D) Brittleness

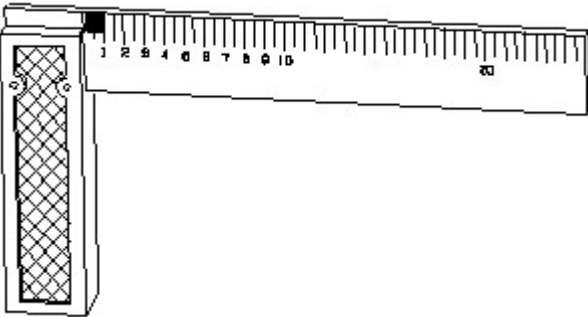
5. Which property of metal has its power of returning to its original shape after the applied force is released?

- A) Malleability  
B) Tenacity  
C) Elasticity (Correct)  
D) Plasticity

6. Which metal cannot be forged?

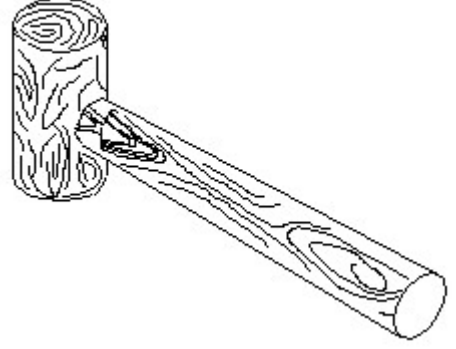
- A) Alloy steel  
B) Mild steel  
C) Steel (Incorrect)  
D) Cast iron

7. 1). Identify the name of tool? | ಉಪಕರಣದ ಹೆಸರನ್ನು ಗುರುತಿಸುವುದೇ?



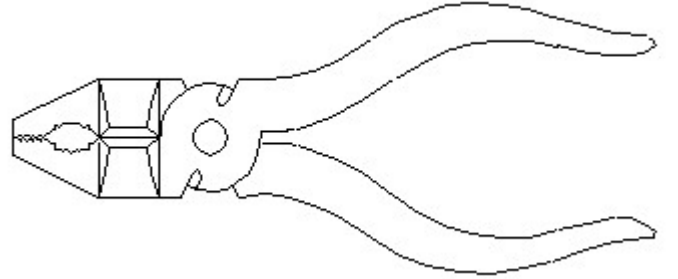
- A) Try square | ಟ್ರೈ ಸ್ಕ್ವೇರ್ (Correct)  
B) Surface gauge | ಮೇಲ್ಮೈ ಮಾಪಕ  
C) Steel rule | ಸ್ಟೀಲ್ ರೂಲ್  
D) Feeler gauge | ಫೀಲರ್ ಗೇಜ್

8. Identify the name of tool? | ಉಪಕರಣದ ಹೆಸರನ್ನು ಗುರುತಿಸುವುದೇ?



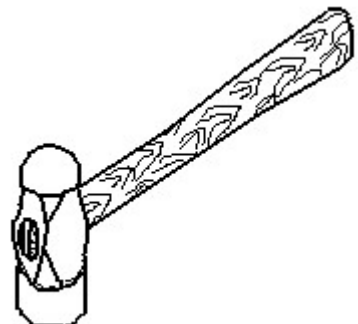
- A) Ball pein hammer | ಬಾಲ್ ಪೆನ್ ಸುತ್ತಿಗೆ  
B) Mallet | ಮ್ಯಾಲೆಟ್ (Correct)  
C) Cross pein hammer | ಕ್ರಾಸ್ ಪೆನ್ ಸುತ್ತಿಗೆ  
D) Straight pein hammer | ಸ್ಟ್ರೈಟ್ ಪೆನ್ ಸುತ್ತಿಗೆ

9. Identify the name of tool? | ಉಪಕರಣದ ಹೆಸರನ್ನು ಗುರುತಿಸುವುದೇ?



- A) Hawk-billed shear | ಹಾಕ್-ಬಿಲ್ಡ್ ಶಿಯರ್  
B) Aviation shear | ಏವಿಯೇಷನ್ ಶಿಯರ್  
C) Cutting plier | ಕಟಿಂಗ್ ಪ್ಲಿಯರ್ (Correct)  
D) Double cutting shear | ಡಬಲ್ ಕಟಿಂಗ್ ಶಿಯರ್

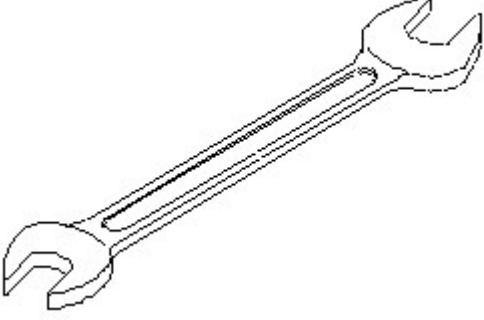
10. Identify the name of tool? | ಉಪಕರಣದ ಹೆಸರನ್ನು ಗುರುತಿಸುವುದೇ?



A) Ball pein hammer | ಬಾಲ್ ಪೆನ್ ಸುತ್ತಿಗೆ (Correct) B) Cross pein hammer | ಕ್ರಾಸ್ ಪೀನ್ ಸುತ್ತಿಗೆ

C) Straight pein hammer | ನೇರ ಪೆನ್ ಸುತ್ತಿಗೆ D) Sledge hammer | ಸ್ಲೆಡ್ಜ್ ಸುತ್ತಿಗೆ

11. Identify the name of tool? | ಉಪಕರಣದ ಹೆಸರನ್ನು ಗುರುತಿಸುವುದೇ?



A) Open end spanner | ಓಪನ್ ಎಂಡ್ ಸ್ಪಾನರ್ (Correct) B) Ring spanner | ರಿಂಗ್ ಸ್ಪಾನರ್

C) Combination spanner | ಕಾಂಬಿನೇಶನ್ ಸ್ಪಾನರ್ D) Adjustable spanner | ಹೊಂದಿಸಬಹುದಾದ ಸ್ಪಾನರ್

12. Identify the name of set square? | ಸೆಟ್ ಚೌಕದ ಹೆಸರನ್ನು ಗುರುತಿಸುವುದೇ?



A) 15° set square | 15° ಸೆಟ್ ಸ್ಕ್ವೇರ್ B) 60° set square | 60° ಸೆಟ್ ಸ್ಕ್ವೇರ್  
C) 30° set square | 30° ಸೆಟ್ ಸ್ಕ್ವೇರ್ D) 45° set square | 45° ಸೆಟ್ ಸ್ಕ್ವೇರ್ (Correct)