

April 2026

GOVT ITI PERDOOR

Question Paper

Duration: 20 Mins

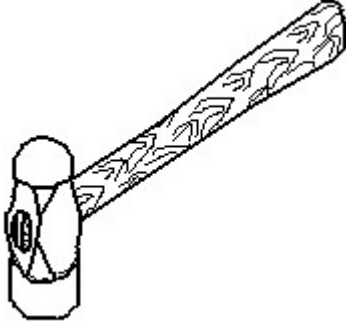
Total Marks: 10

ID: ITISKILL78190J

Student Name: \_\_\_\_\_

Roll No: \_\_\_\_\_

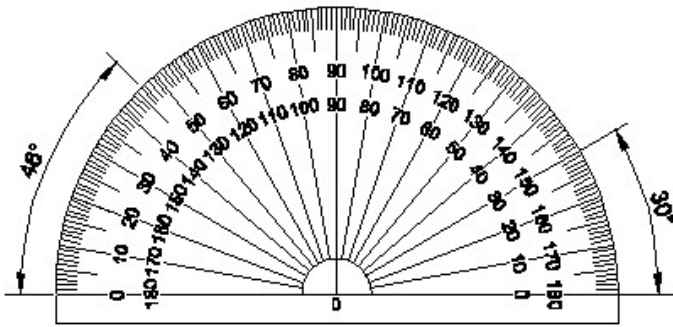
1. Identify the name of tool? | ಉಪಕರಣದ ಹೆಸರನ್ನು  
ಗುರುತಿಸುವುದೇ?



A) Cross peen hammer | ಕ್ರಾಸ್ ಪೀನ್ ಸುತ್ತಿಗೆ  
B) Ball peen hammer | ಬಾಲ್ ಪೀನ್ ಸುತ್ತಿಗೆ

C) Sledge hammer | ಸ್ಲೆಡ್ಜ್ ಸುತ್ತಿಗೆ  
D) Straight peen hammer | ನೇರ ಪೀನ್ ಸುತ್ತಿಗೆ

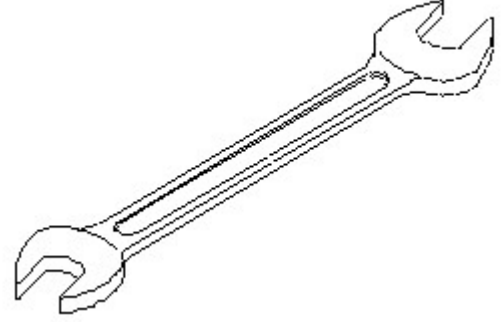
2. Identify the name of instrument? | ಉಪಕರಣದ ಹೆಸರನ್ನು  
ಗುರುತಿಸುವುದೇ?



A) T square | ಟಿ ಸ್ಕ್ವೇರ್  
B) Protractor | ಪ್ರೊಟ್ರಾಕ್ಟರ್

C) French curve | ಫ್ರೆಂಚ್ ಕರ್ವ್  
D) Set square | ಸೆಟ್ ಸ್ಕ್ವೇರ್

3. Identify the name of tool? | ಉಪಕರಣದ ಹೆಸರನ್ನು  
ಗುರುತಿಸುವುದೇ?



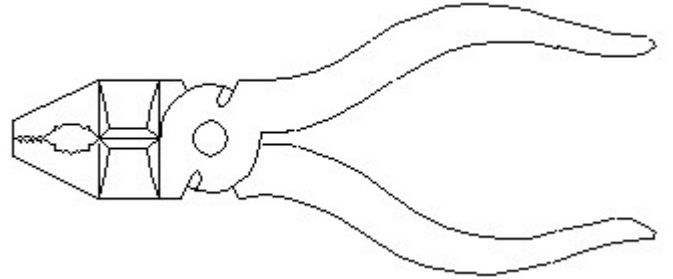
A) Open end spanner | ಓಪನ್ ಎಂಡ್ ಸ್ಪ್ಯಾನರ್

B) Ring spanner | ರಿಂಗ್ ಸ್ಪ್ಯಾನರ್

C) Adjustable spanner | ಹಾಂದಿಸಬಹುದಾದ ಸ್ಪ್ಯಾನರ್

D) Combination spanner | ಕಾಂಬಿನೇಷನ್ ಸ್ಪ್ಯಾನರ್

4. Identify the name of tool? | ಉಪಕರಣದ ಹೆಸರನ್ನು  
ಗುರುತಿಸುವುದೇ?



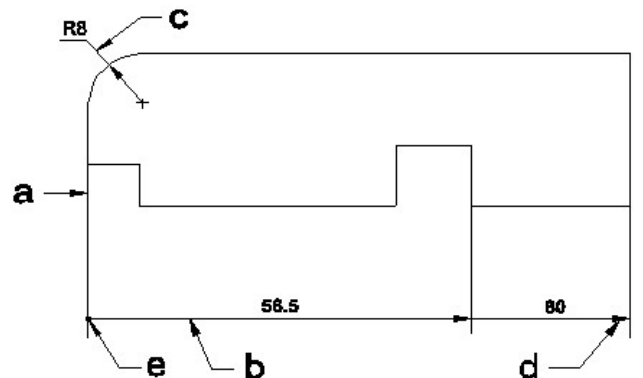
A) Double cutting shear | ಡಬಲ್ ಕಟಿಂಗ್ ಸಿಯರ್

B) Cutting plier | ಕಟಿಂಗ್ ಪ್ಲಿಯರ್

C) Hawk-billed shear | ಹಾಕ್-ಬಿಲ್ಡ್ ಸಿಯರ್

D) Aviation shear | ಏವಿಯೇಷನ್ ಸಿಯರ್

5. Identify the line a b ? | ಸಾಲುನ್ನು ಗುರುತಿಸುವುದೇ?



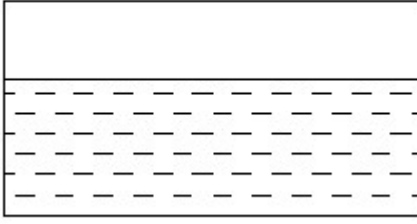
- A) Leader line | ಲೀಡರ್ ಲೈನ್  
B) Dimension line | ಡೈಮೆನ್ಷನ್ ಲೈನ್  
C) Termination of dimension line | ಅಯಾಮ ರೇಖೆಯ ಮುಕ್ತಾಯ  
D) Extension line | ಎಕ್ಸ್ಟೆನ್ಷನ್ ಲೈನ್

- A) Porcelain | ಪಿಂಗಾಣಿ  
B) Steel | ಸ್ಟೀಲ್  
C) Glass | ಗಾಜು  
D) Lead | ಲೀಡ್

6. What is the trimmed size of A4 sheet? | A4 ಹಾಳೆಯ ಟ್ರಿಮ್ ಮಾಡಿದ ಗಾತ್ರ ಎಷ್ಟು?

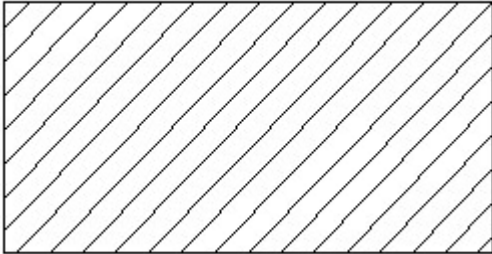
- A) 210 x 297  
B) 148 x 210  
C) 841 x 1189  
D) 594 x 841

7. Identify the conventional symbol of material? | ವಸ್ತುವಿನ ಕನ್ವೆಂಷನಲ್ ಚಿಹ್ನೆಯನ್ನು ಗುರುತಿಸಿ?

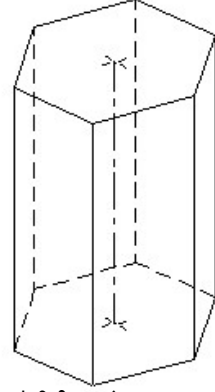


- A) Water | ನೀರು  
B) Glass | ಗಾಜು  
C) Concrete | ಕಾಂಕ್ರೀಟ್  
D) Asbestos | ಆಸ್ಟೆಸ್ಟೋಸ್

8. Identify the conventional symbol of material? | ವಸ್ತುವಿನ ಕನ್ವೆಂಷನಲ್ ಚಿಹ್ನೆಯನ್ನು ಗುರುತಿಸಿ?

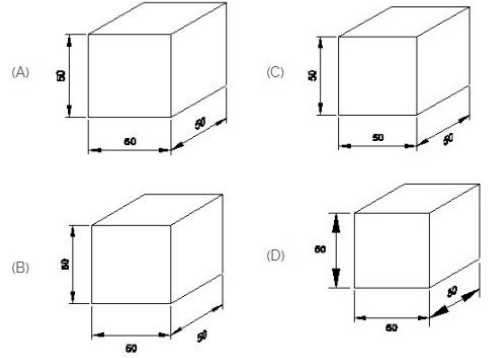


9. Identify the name of prism? | ಪ್ರಿಸ್ಮ್ ಹೆಸರನ್ನು ಗುರುತಿಸುವುದೇ?



- A) Triangular prism | ತ್ರಿಕೋನ ಪ್ರಿಸ್ಮ್  
B) Square prism | ಚದರ ಪ್ರಿಸ್ಮ್  
C) Pentagonal prism | ಪೆಂಟಾಗೋನಲ್ ಪ್ರಿಸ್ಮ್  
D) Hexagonal prism | ಷಡ್ಭುಜೀಯ ಪ್ರಿಸ್ಮ್

10. Which drawing dimension is correct as per IS standard? | IS ಮಾನದಂಡದ ಪ್ರಕಾರ ಯಾವ ರೇಖಾಚಿತ್ರದ ಅಯಾಮವು ಸರಿಯಾಗಿದೆ?



- A) B  
B) C  
C) A  
D) D