

MECHANIC ELECTRIC VEHICLE

Q. ID: ITISKILL78190J

MONTHLY TEST FOR THE MONTH OF
APRIL FOR ENGINEERING DRAWING

April 2026

GOVT ITI PERDOOR

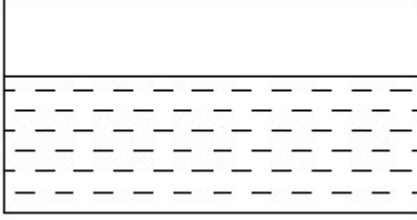
Question Paper

Student: chaithan

Score: 7/10 (70.00%)

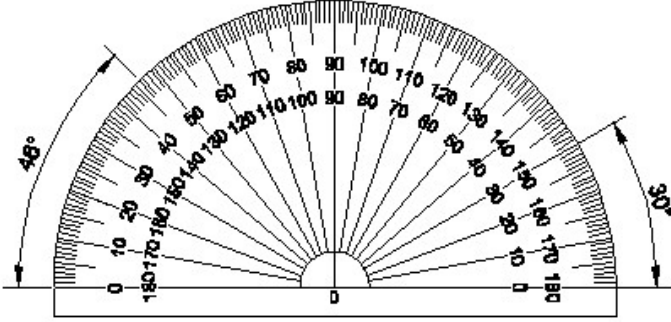
Code: 1151

1. Identify the conventional symbol of material? | ವಸ್ತುವಿನ
ಕನ್ವೆಷನಲ್ ಚಿಹ್ನೆಯನ್ನು ಗುರುತಿಸಿ?



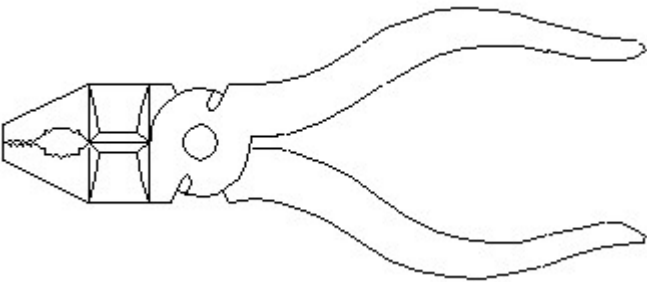
- A) Water | ನೀರು (Correct) B) Concrete | ಕಾಂಕ್ರೀಟ್
C) Asbestos | ಅಸ್ಬೆಸ್ಟೋಸ್ D) Glass | ಗಾಜು

2. Identify the name of instrument? | ಉಪಕರಣದ ಹೆಸರನ್ನು
ಗುರುತಿಸುವುದೇ?



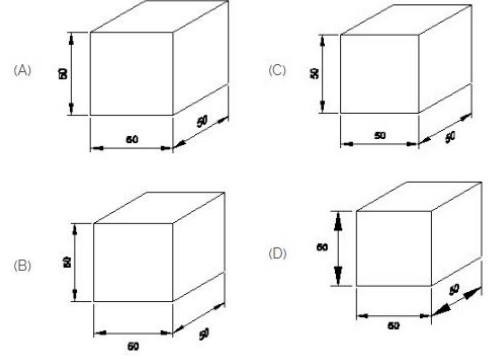
- A) Set square | ಸೆಟ್ ಸ್ಕ್ವೇರ್ B) Protractor | ಪ್ರೊಟ್ರಾಕ್ಟರ್ (Correct)
C) French curve | ಫ್ರೆಂಚ್ ಕರ್ವ್ D) T square | ಟಿ ಸ್ಕ್ವೇರ್

3. Identify the name of tool? | ಉಪಕರಣದ ಹೆಸರನ್ನು
ಗುರುತಿಸುವುದೇ?



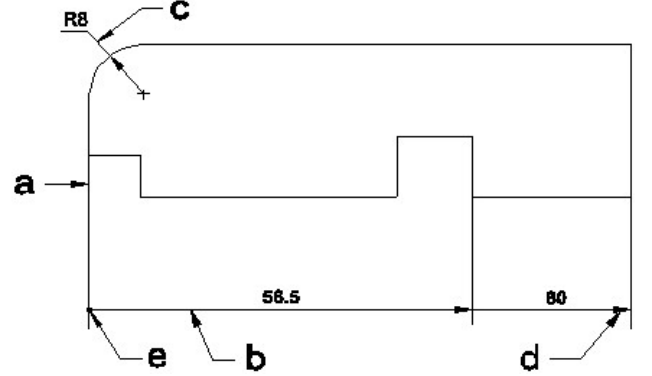
- A) Hawk-billed shear | ಹಾಕ್-ಬಿಲ್ಡ್ ಸ್ಷಿಯರ್
B) Aviation shear | ಏವಿಯೇಷನ್ ಸ್ಷಿಯರ್
C) Cutting plier | ಕಟಿಂಗ್ ಪ್ಲಿಯರ್
D) Double cutting shear | ಡಬಲ್ ಕಟಿಂಗ್ ಸ್ಷಿಯರ್ (Incorrect)

4. Which drawing dimension is correct as per IS standard? | IS
ಮಾನದಂಡದ ಪ್ರಕಾರ ಯಾವ ರೇಖಾಚಿತ್ರದ ಆಯಾಮವು ಸರಿಯಾಗಿದೆ?



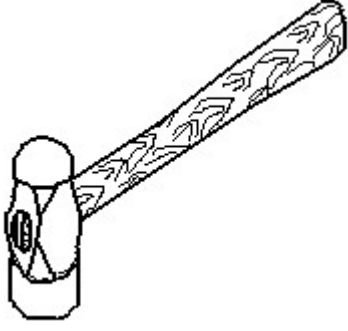
- A) A B) B
C) C (Incorrect) D) D

5. Identify the line a, b, c, d, e? | ಸಾಲುಗಳನ್ನು ಗುರುತಿಸುವುದೇ?



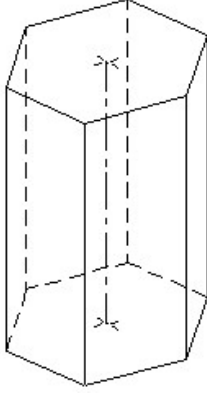
- A) Dimension line | ಡೈಮೆನ್ಷನ್ ಲೈನ್ (Correct) B) Extension line | ಎಕ್ಸ್ಟೆನ್ಷನ್ ಲೈನ್
C) Leader line | ಲೀಡರ್ ಲೈನ್ D) Termination of dimension line | ಆಯಾಮ ರೇಖೆಯ ಮುಕ್ತಾಯ

6. Identify the name of tool? | ಉಪಕರಣದ ಹೆಸರನ್ನು
ಗುರುತಿಸುವುದೇ?



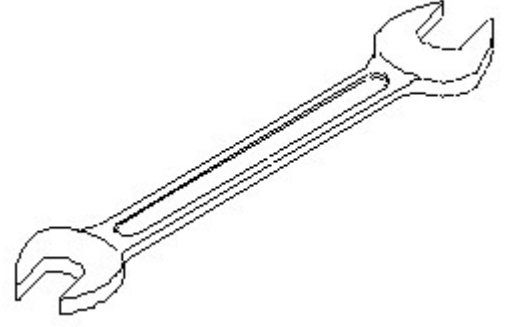
- A) Ball peen hammer | ಬಾಲ್ ಪೆನ್ ಸುತ್ತಿಗೆ (Correct)
B) Cross peen hammer | ಕ್ರಾಸ್ ಪೆನ್ ಸುತ್ತಿಗೆ
C) Straight peen hammer | ನೇರ ಪೆನ್ ಸುತ್ತಿಗೆ
D) Sledge hammer | ಸ್ಲೆಡ್ಜ್ ಸುತ್ತಿಗೆ

7. Identify the name of prism? | ತ್ರಿಸ್ತಂಭದ ಹೆಸರನ್ನು ಗುರುತಿಸುವುದೇ?



- A) Square prism | ಚದರ ತ್ರಿಸ್ತಂಭ
B) Pentagonal prism | ಪೆಂಟಾಗೋನಲ್ ತ್ರಿಸ್ತಂಭ
C) Triangular prism | ತ್ರಿಕೋನ ತ್ರಿಸ್ತಂಭ (Incorrect)
D) Hexagonal prism | ಷಡ್ಭುಜೀಯ ತ್ರಿಸ್ತಂಭ

8. Identify the name of tool? | ಉಪಕರಣದ ಹೆಸರನ್ನು ಗುರುತಿಸುವುದೇ?

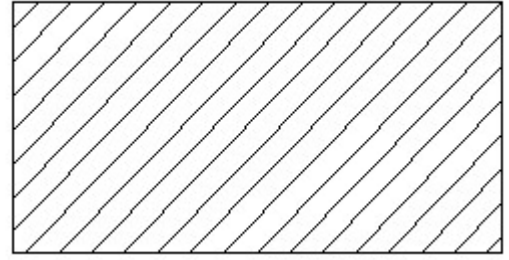


- A) Open end spanner | ಓಪನ್ ಎಂಡ್ ಸ್ಪಾನ್ಸರ್ (Correct)
B) Ring spanner | ರಿಂಗ್ ಸ್ಪಾನ್ಸರ್
C) Combination spanner | ಕಾಂಬಿನೇಶನ್ ಸ್ಪಾನ್ಸರ್
D) Adjustable spanner | ಹೊಂದಿಸಬಹುದಾದ ಸ್ಪಾನ್ಸರ್

9. What is the trimmed size of A4 sheet? | A4 ಹಾಳೆಯ ಟ್ರಿಮ್ ಮಾಡಿದ ಗಾತ್ರ ಎಷ್ಟು?

- A) 841 x 1189
B) 594 x 841
C) 210 x 297 (Correct)
D) 148 x 210

10. Identify the conventional symbol of material? | ವಸ್ತುವಿನ ಕನ್ವೆಷನಲ್ ಚಿಹ್ನೆಯನ್ನು ಗುರುತಿಸಿ?



- A) Lead | ಲೀಡ್
B) Steel | ಸ್ಟೀಲ್ (Correct)
C) Glass | ಗಾಜು
D) Porcelain | ಪಿಂಗಾಣಿ