

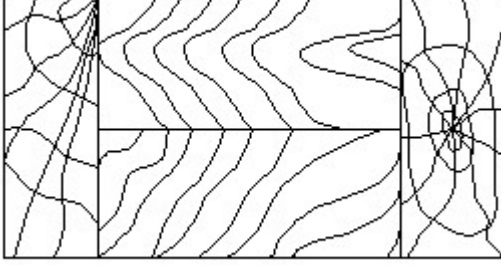
Duration: 30 Mins

Total Marks: 51

ID: ITISKILL773511

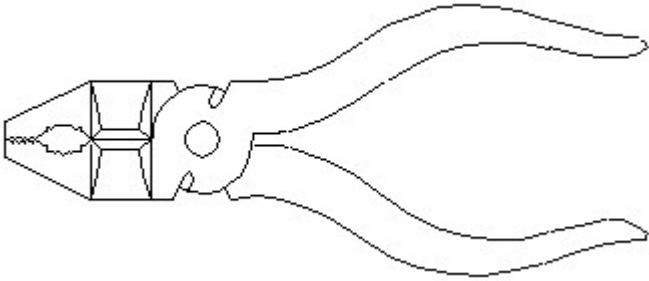
Student Name: _____ Roll No: _____

1. Identify the conventional symbol of material? | ವಸ್ತುವಿನ ಕನ್ವೆಷನಲ್ ಚಿಹ್ನೆಯನ್ನು ಗುರುತಿಸಿ?



- A) Glass | ಗಾಜು
B) Lead | ಲೀಡ್
C) Paper | ಪೇಪರ್
D) Wood | ಮರ

2. Identify the name of tool? | ಉಪಕರಣದ ಹೆಸರನ್ನು ಗುರುತಿಸುವುದೇ?



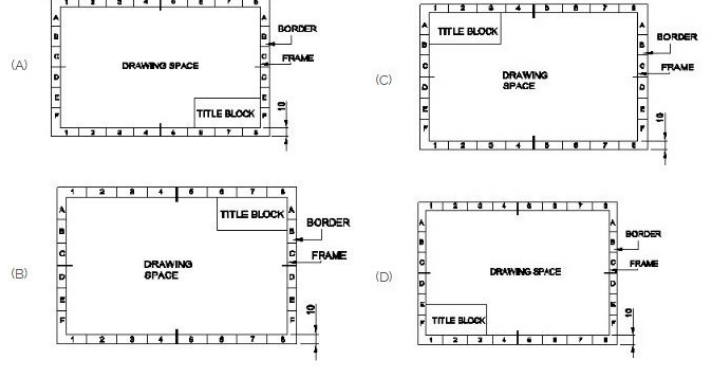
- A) Double cutting shear | ಡಬಲ್ ಕಟಿಂಗ್ ಸಿಯರ್
B) Hawk-billed shear | ಹಾಕ್-ಬಿಲ್ಡ್ ಸಿಯರ್
C) Aviation shear | ಏವಿಯೇಷನ್ ಸಿಯರ್
D) Cutting plier | ಕಟಿಂಗ್ ಪ್ಲಿಯರ್

3. Identify the name of set square? | ಸೆಟ್ ಚೌಕದ ಹೆಸರನ್ನು ಗುರುತಿಸುವುದೇ?



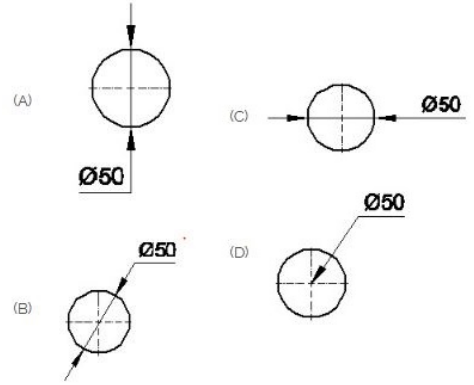
- A) 30° set square | 30° ಸೆಟ್ ಸ್ಕ್ವೇರ್
B) 15° set square | 15° ಸೆಟ್ ಸ್ಕ್ವೇರ್
C) 60° set square | 60° ಸೆಟ್ ಸ್ಕ್ವೇರ್
D) 45° set square | 45° ಸೆಟ್ ಸ್ಕ್ವೇರ್

4. Which title block position is correct as standard practice? | ಪ್ರಮಾಣಿತ ಅಭ್ಯಾಸದಂತೆ ಯಾವ ಶೀರ್ಷಿಕೆ ಬ್ಲಾಕ್ ಸ್ಥಾನವು ಸರಿಯಾಗಿದೆ?



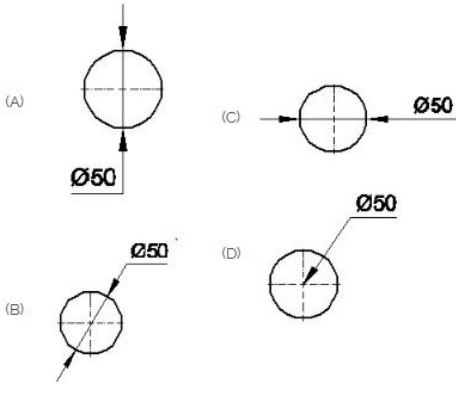
- A) D
B) B
C) C
D) A

5. Which dimension correctly marked in the circle as per standard? | ಮಾನದಂಡದ ಪ್ರಕಾರ ವೃತ್ತದಲ್ಲಿ ಯಾವ ಆಯಾಮವನ್ನು ಸರಿಯಾಗಿ ಗುರುತಿಸಲಾಗಿದೆ?



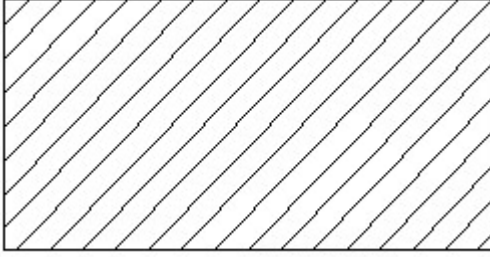
- A) D
B) B
C) C
D) A

6. Which dimension correctly marked in the circle as per standard? | ಮಾನದಂಡದ ಪ್ರಕಾರ ವೃತ್ತದಲ್ಲಿ ಯಾವ ಆಯಾಮವನ್ನು ಸರಿಯಾಗಿ ಗುರುತಿಸಲಾಗಿದೆ?



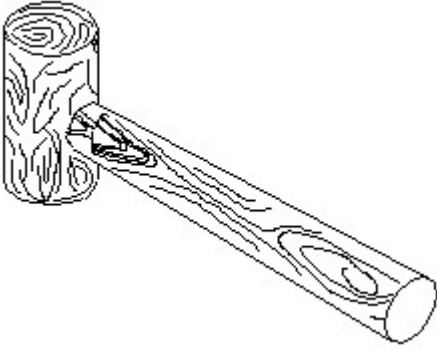
- A) B
C) C
- B) D
D) A

7. Identify the conventional symbol of material? | ವಸ್ತುವಿನ ಕನ್ವೆಷನಲ್ ಚಿಹ್ನೆಯನ್ನು ಗುರುತಿಸಿ?



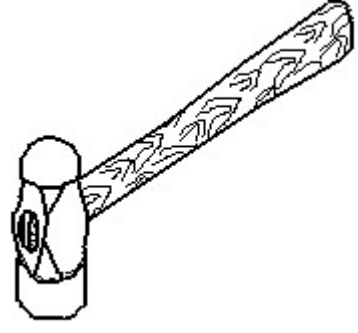
- A) Porcelain | ಪಿಂಗಾಣಿ
C) Glass | ಗಾಜು
- B) Lead | ಲೀಡ್
D) Steel | ಸ್ಟೀಲ್

8. Identify the name of tool? | ಉಪಕರಣದ ಹೆಸರನ್ನು ಗುರುತಿಸುವುದೇ?



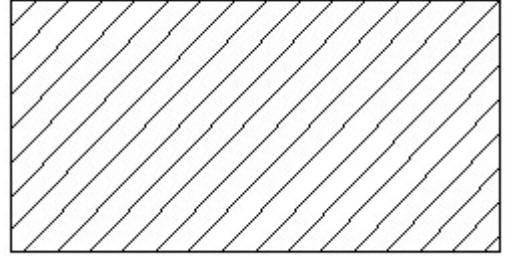
- A) Cross pein hammer | ಕ್ರಾಸ್ ಪೀನ್ ಸುತ್ತಿಗೆ
C) Ball pein hammer | ಬಾಲ್ ಪೀನ್ ಸುತ್ತಿಗೆ
- B) Mallet | ಮ್ಯಾಲೆಟ್
D) Straight pein hammer | ಸ್ಟ್ರೈಟ್ ಪೀನ್ ಸುತ್ತಿಗೆ

9. Identify the name of tool? | ಉಪಕರಣದ ಹೆಸರನ್ನು ಗುರುತಿಸುವುದೇ?



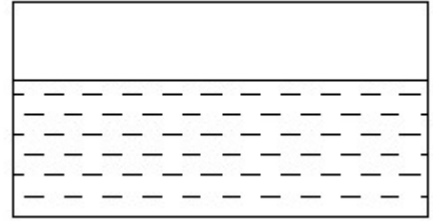
- A) Ball pein hammer | ಬಾಲ್ ಪೀನ್ ಸುತ್ತಿಗೆ
C) Straight pein hammer | ನೇರ ಪೀನ್ ಸುತ್ತಿಗೆ
- B) Sledge hammer | ಸ್ಲೆಡ್ಜ್ ಸುತ್ತಿಗೆ
D) Cross pein hammer | ಕ್ರಾಸ್ ಪೀನ್ ಸುತ್ತಿಗೆ

10. Identify the conventional symbol of material? | ವಸ್ತುವಿನ ಕನ್ವೆಷನಲ್ ಚಿಹ್ನೆಯನ್ನು ಗುರುತಿಸಿ?



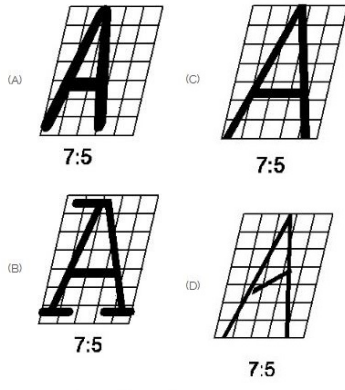
- A) Steel | ಸ್ಟೀಲ್
C) Glass | ಗಾಜು
- B) Porcelain | ಪಿಂಗಾಣಿ
D) Lead | ಲೀಡ್

11. Identify the conventional symbol of material? | ವಸ್ತುವಿನ ಕನ್ವೆಷನಲ್ ಚಿಹ್ನೆಯನ್ನು ಗುರುತಿಸಿ?



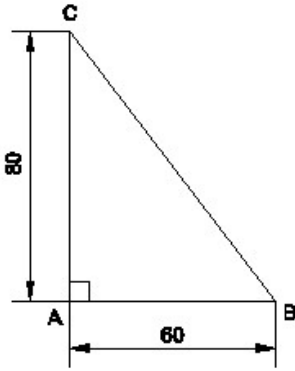
- A) Glass | ಗಾಜು
C) Concrete | ಕಾಂಕ್ರೀಟ್
- B) Water | ನೀರು
D) Asbestos | ಆಸ್ಟೆಸ್ಟೋಸ್

12. Which single stroke inclined letter □ A □ is correct as per IS standard? | IS ಮಾನದಂಡದ ಪ್ರಕಾರ ಯಾವ ಏಕ ಸ್ಟ್ರೋಕ್ ಇಳಿಜಾರಿನ ಅಕ್ಷರ □ A □ ಯಾಗಿದೆ?



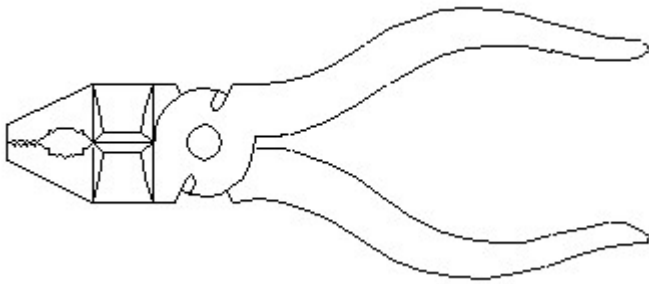
- A) A
C) C
- B) D
D) B

13. Identify the name of the triangle? | ತ್ರಿಕೋನದ ಹೆಸರನ್ನು ಗುರುತಿಸುವುದೇ?



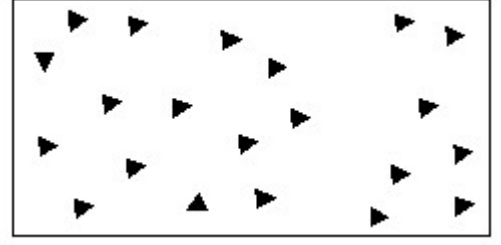
- A) Isosceles triangle | ಸಮದ್ವಿಭಾಹು ತ್ರಿಕೋನ
C) Scalene triangle | ಸ್ಕೇಲಿನ್ ತ್ರಿಕೋನ
- B) Right angle triangle | ಬಲ ಕೋನ ತ್ರಿಕೋನ
D) Equilateral triangle | ಸಮಕೋನ ತ್ರಿಕೋನ

14. Identify the name of tool? | ಉಪಕರಣದ ಹೆಸರನ್ನು ಗುರುತಿಸುವುದೇ?



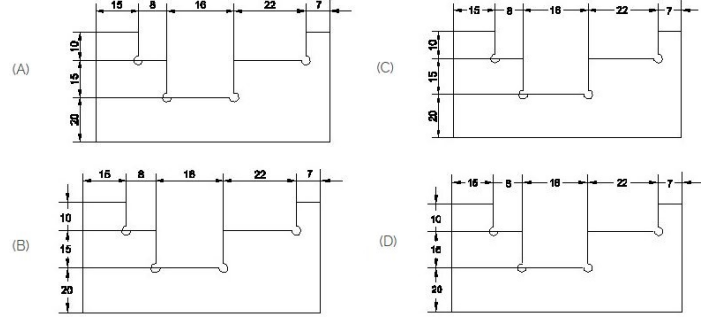
- A) Cutting plier | ಕಟಿಂಗ್ ಪ್ಲಿಯರ್
C) Double cutting shear | ಡಬಲ್ ಕಟಿಂಗ್ ಷಿಯರ್
- B) Aviation shear | ಏವಿಯೇಷನ್ ಷಿಯರ್
D) Hawk-billed shear | ಹಾಕ್-ಬಿಲ್ಡ್ ಷಿಯರ್

15. Identify the conventional symbol of material? | ವಸ್ತುವಿನ ಕನ್ವೆಷನಲ್ ಚಿಹ್ನೆಯನ್ನು ಗುರುತಿಸಿ?



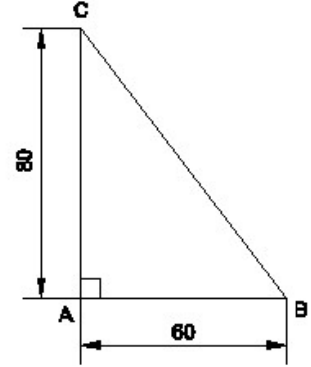
- A) Glass | ಗಾಜು
C) Wood | ಮರ
- B) Steel | ಸ್ಟೀಲ್
D) Concrete | ಕಾಂಕ್ರೀಟ್

16. Identify the correct aligned system dimension? | ಸರಿಯಾದ ಜೋಡಿಸಲಾದ ಸಿಸ್ಟಮ್ ಆಯಾಮವನ್ನು ಗುರುತಿಸುವುದೇ?



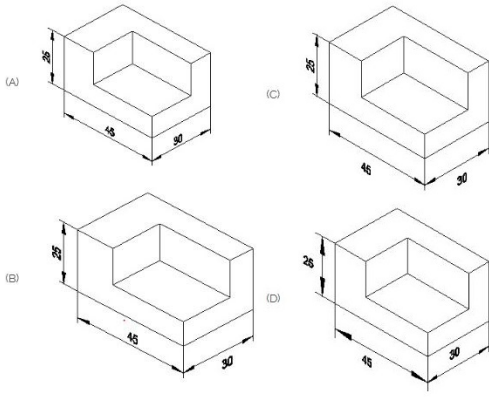
- A) B
C) A
- B) C
D) D

17. Identify the name of the triangle? | ತ್ರಿಕೋನದ ಹೆಸರನ್ನು ಗುರುತಿಸುವುದೇ?



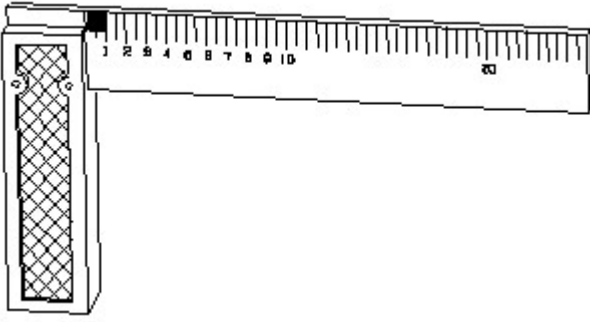
- A) Equilateral triangle | ಸಮಕೋನ ತ್ರಿಕೋನ
C) Scalene triangle | ಸ್ಕೇಲಿನ್ ತ್ರಿಕೋನ
- B) Isosceles triangle | ಸಮದ್ವಿಭಾಹು ತ್ರಿಕೋನ
D) Right angle triangle | ಬಲ ಕೋನ ತ್ರಿಕೋನ

18. Which drawing dimension is correct as per standard drawing practice? | ಸ್ಟಾಂಡರ್ಡ್ ಡ್ರಾಯಿಂಗ್ ಅಭ್ಯಾಸದ ಪ್ರಕಾರ ಯಾವ ಡ್ರಾಯಿಂಗ್ ಆಯಾಮ ಸರಿಯಾಗಿದೆ?



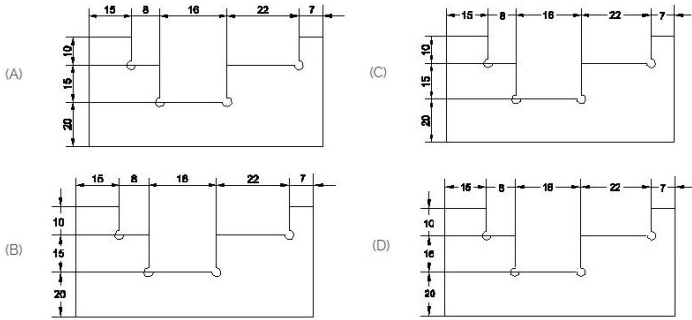
- A) C
C) B
- B) A
D) D

19. 1). Identify the name of tool? | ಉಪಕರಣದ ಹೆಸರನ್ನು ಗುರುತಿಸುವುದೇ?



- A) Try square | ಟ್ರೈ ಸ್ಕ್ವೇರ್
C) Steel rule | ಸ್ಟೀಲ್ ರೂಲ್
- B) Feeler gauge | ಫೀಲರ್ ಗೇಜ್
D) Surface gauge | ಮೇಲ್ಮೈ ಮಾಪಕ

20. Identify the correct aligned system dimension? | ಸರಿಯಾದ ಜೋಡಿಸಲಾದ ಸಿಸ್ಟಮ್ ಆಯಾಮವನ್ನು ಗುರುತಿಸುವುದೇ?



- A) A
C) D
- B) C
D) B

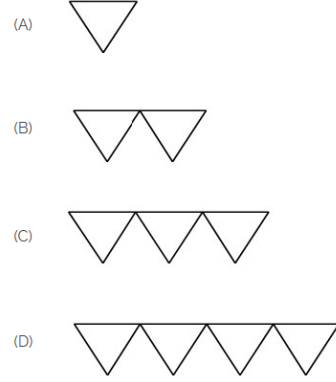
21. What is the trimmed size of A4 sheet? | A4 ಹಾಳೆಯ ಟ್ರಿಮ್ ಮಾಡಿದ ಗಾತ್ರ ಎಷ್ಟು?

- A) 594 x 841
C) 148 x 210
- B) 841 x 1189
D) 210 x 297

22. What is the trimmed size of A4 sheet? | A4 ಹಾಳೆಯ ಟ್ರಿಮ್ ಮಾಡಿದ ಗಾತ್ರ ಎಷ್ಟು?

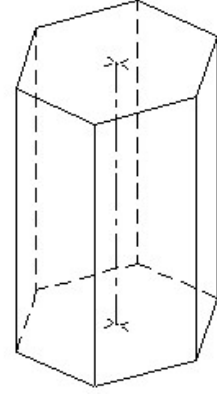
- A) 594 x 841
C) 210 x 297
- B) 841 x 1189
D) 148 x 210

23. Which is roughness symbol for roughness grade N8?



- A) B
C) A
- B) C
D) D

24. Identify the name of prism? | ಪ್ರಿಸ್ಮ್ ಹೆಸರನ್ನು ಗುರುತಿಸುವುದೇ?



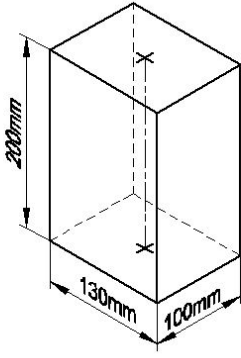
- A) Pentagonal prism | ಪಂಟಾಗೋನಲ್ ಪ್ರಿಸ್ಮ್
C) Hexagonal prism | ಷಡ್ಭುಜೀಯ ಪ್ರಿಸ್ಮ್
- B) Triangular prism | ತ್ರಿಕೋನ ಪ್ರಿಸ್ಮ್
D) Square prism | ಚದರ ಪ್ರಿಸ್ಮ್

25. Identify the name of set square? | ಸೆಟ್ ಚೌಕದ ಹೆಸರನ್ನು ಗುರುತಿಸುವುದೇ?



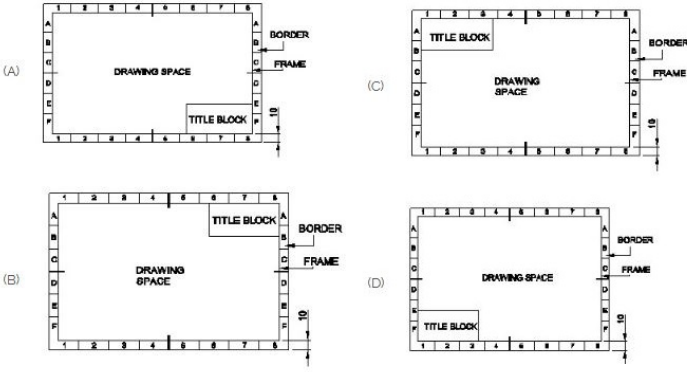
- A) 30° set square | 30° ಸೆಟ್ ಸ್ಕ್ವೇರ್
C) 60° set square | 60° ಸೆಟ್ ಸ್ಕ್ವೇರ್
- B) 45° set square | 45° ಸೆಟ್ ಸ್ಕ್ವೇರ್
D) 15° set square | 15° ಸೆಟ್ ಸ್ಕ್ವೇರ್

26. Identify the name of prism? | ಪ್ರಿಸ್ಮ್ ಹೆಸರನ್ನು ಗುರುತಿಸುವುದೇ?



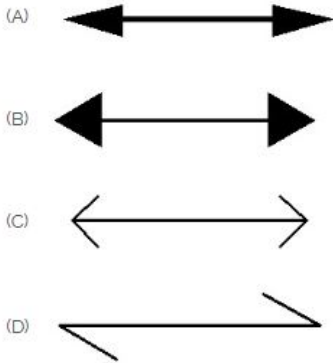
- A) Hexagonal prism | ಷಡ್ಭುಜೀಯ ಪ್ರಿಸ್ಮ್
 B) Square prism | ಚದರ ಪ್ರಿಸ್ಮ್
 C) Triangular prism | ತ್ರಿಕೋನ ಪ್ರಿಸ್ಮ್
 D) Rectangle prism | ಆಯತ ಪ್ರಿಸ್ಮ್

27. Which title block position is correct as standard practice?
 | ಪ್ರಮಾಣಿತ ಅಭ್ಯಾಸದಂತೆ ಯಾವ ಶೀರ್ಷಿಕೆ ಬ್ಲಾಕ್ ಸ್ಥಾನವು ಸರಿಯಾಗಿದೆ?



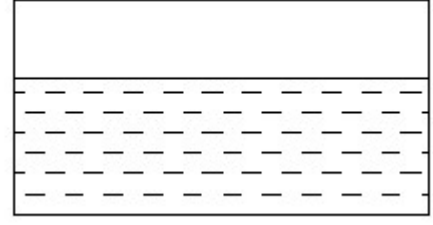
- A) B
 C) C
 B) D
 D) A

28. Which arrow head is correct as per standard?
 | ಮಾನದಂಡದ ಪ್ರಕಾರ ಯಾವ ಬಾಣದ ಹೆಡ್ ಸರಿಯಾಗಿದೆ?



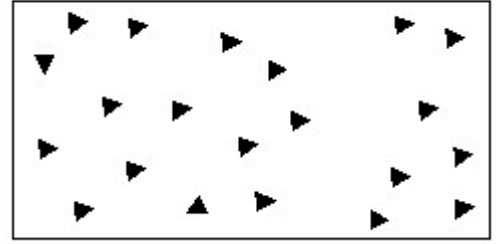
- A) C
 C) A
 B) B
 D) D

29. Identify the conventional symbol of material?
 | ವಸ್ತುವಿನ ಕನ್ವೆಷನಲ್ ಚಿಹ್ನೆಯನ್ನು ಗುರುತಿಸಿ?



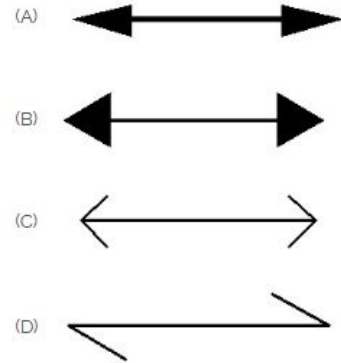
- A) Glass | ಗಾಜು
 C) Concrete | ಕಾಂಕ್ರೀಟ್
 B) Asbestos | ಆಸ್ಟೆಸ್ಟೋಸ್
 D) Water | ನೀರು

30. Identify the conventional symbol of material?
 | ವಸ್ತುವಿನ ಕನ್ವೆಷನಲ್ ಚಿಹ್ನೆಯನ್ನು ಗುರುತಿಸಿ?



- A) Steel | ಸ್ಟೀಲ್
 C) Glass | ಗಾಜು
 B) Concrete | ಕಾಂಕ್ರೀಟ್
 D) Wood | ಮರ

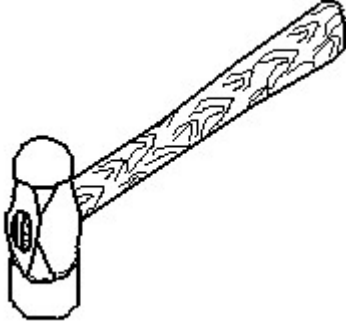
31. Which arrow head is correct as per standard?
 | ಮಾನದಂಡದ ಪ್ರಕಾರ ಯಾವ ಬಾಣದ ಹೆಡ್ ಸರಿಯಾಗಿದೆ?



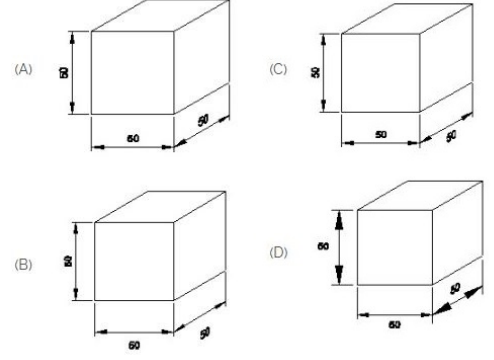
- A) B
 C) C
 B) A
 D) D

32. Identify the name of tool?
 | ಉಪಕರಣದ ಹೆಸರನ್ನು ಗುರುತಿಸುವುದೇ?

IS ಮಾನದಂಡದ ಪ್ರಕಾರ ಯಾವ ರೇಖಾಚಿತ್ರದ ಆಯಾಮವು ಸರಿಯಾಗಿದೆ?

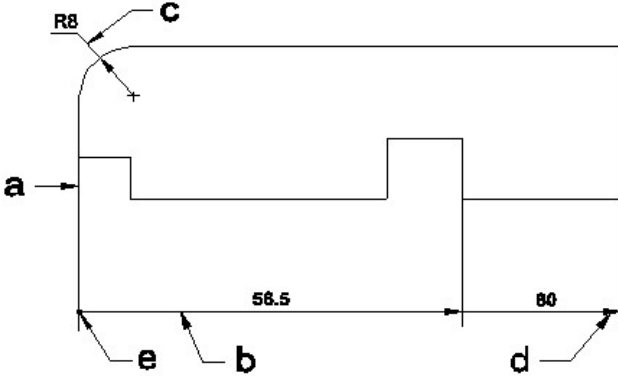


- A) Cross pein hammer | ಕ್ರಾಸ್ ಪೀನ್ ಸುತ್ತಿಗೆ
 B) Ball pein hammer | ಬಾಲ್ ಪೀನ್ ಸುತ್ತಿಗೆ
 C) Sledge hammer | ಸ್ಲೆಡ್ಜ್ ಸುತ್ತಿಗೆ
 D) Straight pein hammer | ನೇರ ಪೀನ್ ಸುತ್ತಿಗೆ



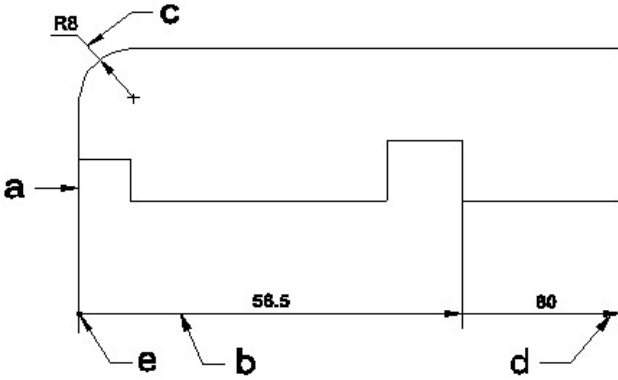
- A) B
 B) A
 C) D
 D) C

33. Identify the line 'a' to 'd' ? | ಸಾಫಲಿನ್ನು ಗುರುತಿಸುವುದೇ?



- A) Termination of dimension line | ಆಯಾಮ ರೇಖೆಯ ಮುಕ್ತಾಯ
 B) Leader line | ಲೀಡರ್ ಲೈನ್
 C) Dimension line | ಡೈಮೆನ್ಷನ್ ಲೈನ್
 D) Extension line | ಎಕ್ಸ್ಟೆನ್ಷನ್ ಲೈನ್


34. Identify the line 'a' to 'd' ? | ಸಾಫಲಿನ್ನು ಗುರುತಿಸುವುದೇ?



- A) Termination of dimension line | ಆಯಾಮ ರೇಖೆಯ ಮುಕ್ತಾಯ
 B) Extension line | ಎಕ್ಸ್ಟೆನ್ಷನ್ ಲೈನ್
 C) Leader line | ಲೀಡರ್ ಲೈನ್
 D) Dimension line | ಡೈಮೆನ್ಷನ್ ಲೈನ್

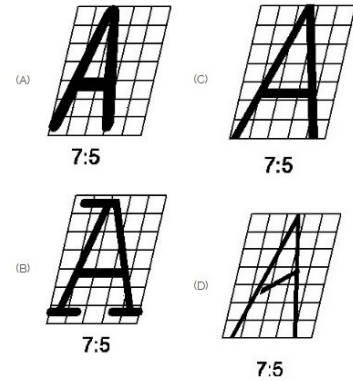
35. Which drawing dimension is correct as per IS standard? |

36. Identify the conventional symbol of material? | ವಸ್ತುವಿನ ಕನ್ವೆಷನಲ್ ಚಿಹ್ನೆಯನ್ನು ಗುರುತಿಸಿ



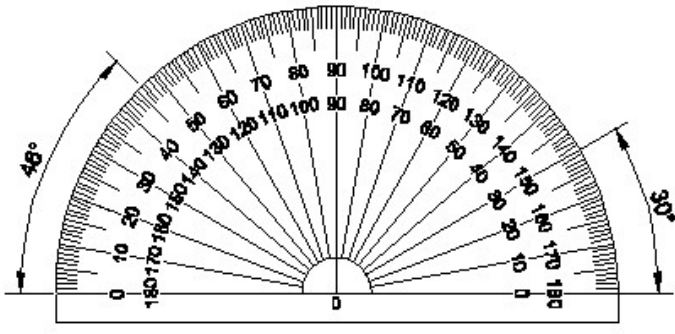
- A) Steel | ಸ್ಟೀಲ್
 B) Concrete | ಕಾಂಕ್ರೀಟ್
 C) Glass | ಗಾಜು
 D) Wood | ಮರ

37. Which single stroke inclined letter 'A' is correct as per IS standard? | IS ಮಾನದಂಡದ ಪ್ರಕಾರ ಯಾವ ಏಕ ಸ್ಟ್ರೋಕ್ ಇಳಿಜಾರಿನ ಅಕ್ಷರ 'A' ಸರಿಯಾಗಿದೆ?



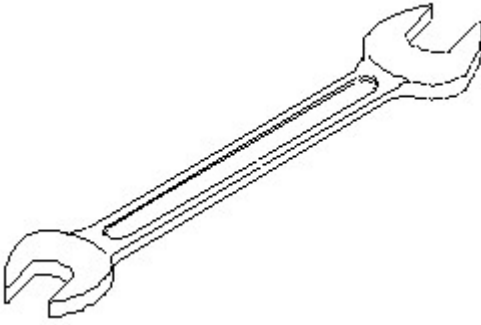
- A) A
 B) B
 C) C
 D) D

38. Identify the name of instrument? | ಉಪಕರಣದ ಹೆಸರನ್ನು ಗುರುತಿಸುವುದೇ?



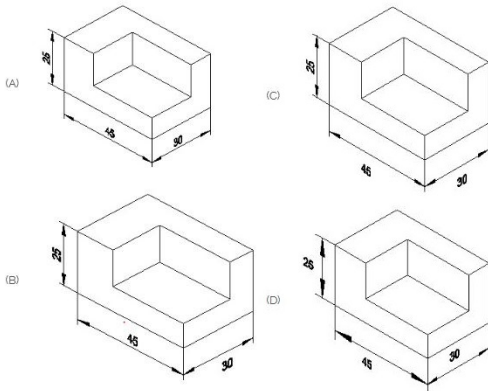
- A) Set square | ಸೆಟ್ ಸ್ಕ್ವೇರ್
B) T square | ಟಿ ಸ್ಕ್ವೇರ್
C) Protractor | ಪ್ರೊಟ್ರಾಕ್ಟರ್
D) French curve | ಫ್ರೆಂಚ್ ಕರ್ವ್

39. Identify the name of tool? | ಉಪಕರಣದ ಹೆಸರನ್ನು ಗುರುತಿಸುವುದೇ?



- A) Ring spanner | ರಿಂಗ್ ಸ್ಪಾನರ್
B) Adjustable spanner | ಹೊಂದಿಸಬಹುದಾದ ಸ್ಪಾನರ್
C) Open end spanner | ಓಪನ್ ಎಂಡ್ ಸ್ಪಾನರ್
D) Combination spanner | ಕಾಂಬಿನೇಶನ್ ಸ್ಪಾನರ್

40. Which drawing dimension is correct as per standard drawing practice? | ಸ್ಟಾಂಡರ್ಡ್ ಡ್ರಾಯಿಂಗ್ ಅಭ್ಯಾಸದ ಪ್ರಕಾರ ಯಾವ ಡ್ರಾಯಿಂಗ್ ಆಯಾಮ ಸರಿಯಾಗಿದೆ?

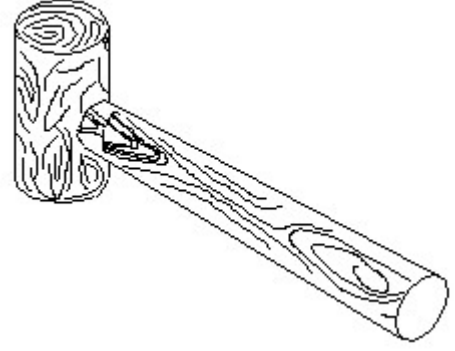


- A) B
B) A
C) D
D) C

41. Compass used to draw for ____. | ಕಂಪಾಸ್ ಅನ್ನು ____ ಗೆ ಸೆಳೆಯಲು ಬಳಸಲಾಗುತ್ತದೆ.


- A) rectangle | ಆಯಾತ
B) square | ಚದರ
C) circle | ವೃತ್ತ
D) triangle | ತ್ರಿಕೋನ

42. Identify the name of tool? | ಉಪಕರಣದ ಹೆಸರನ್ನು ಗುರುತಿಸುವುದೇ?



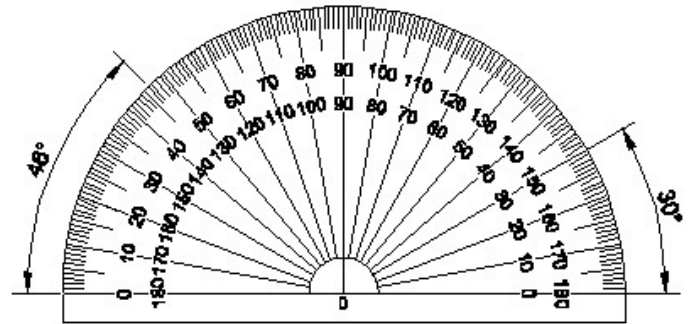
- A) Mallet | ಮ್ಯಾಲೆಟ್
B) Straight peen hammer | ಸ್ಟ್ರೈಟ್ ಪೆನ್ ಸುತ್ತಿಗೆ
C) Ball peen hammer | ಬಾಲ್ ಪೆನ್ ಸುತ್ತಿಗೆ
D) Cross peen hammer | ಕ್ರಾಸ್ ಪೀನ್ ಸುತ್ತಿಗೆ

43. Identify the conventional symbol of material? | ವಸ್ತುವಿನ ಕನ್ವೆಷನಲ್ ಚಿಹ್ನೆಯನ್ನು ಗುರುತಿಸಿ?



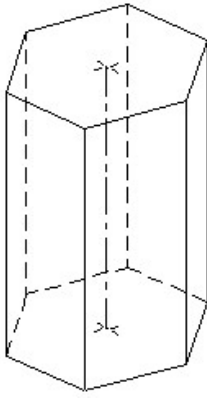
- A) Concrete | ಕಾಂಕ್ರೀಟ್
B) Steel | ಸ್ಟೀಲ್
C) Glass | ಗಾಜು
D) Wood | ಮರ

44. Identify the name of instrument? | ಉಪಕರಣದ ಹೆಸರನ್ನು ಗುರುತಿಸುವುದೇ?



- A) French curve | ಫ್ರೆಂಚ್ ಕರ್ವ್
B) T square | ಟಿ ಸ್ಕ್ವೇರ್
C) Set square | ಸೆಟ್ ಸ್ಕ್ವೇರ್
D) Protractor | ಪ್ರೊಟ್ರಾಕ್ಟರ್

45. Identify the name of prism? | ತ್ರಿಪ್ರಸ್ಮ ಹೆಸರನ್ನು ಗುರುತಿಸುವುದೇ?

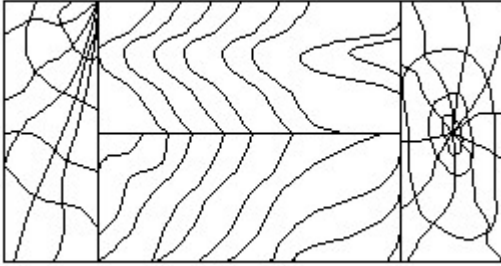


- A) Pentagonal prism | ಪೆಂಟಗೋನಲ್ ಪ್ರಿಸ್ಮ್
 B) Hexagonal prism | ಷಡ್ಭುಜೀಯ ಪ್ರಿಸ್ಮ್
 C) Square prism | ಚದರ ಪ್ರಿಸ್ಮ್
 D) Triangular prism | ತ್ರಿಕೋನ ಪ್ರಿಸ್ಮ್

46. Compass used to draw for ____. | ಕಂಪಾಸ್ ಅನ್ನು ____ ಗೆ ಸೆಳೆಯಲು ಬಳಸಲಾಗುತ್ತದೆ.

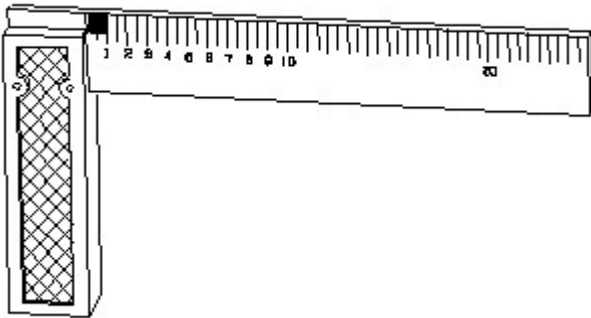
- A) triangle | ತ್ರಿಕೋನ
 B) square | ಚದರ
 C) rectangle | ಆಯಾತ
 D) circle | ವೃತ್ತ

47. Identify the conventional symbol of material? | ವಸ್ತುವಿನ ಕನ್ವೆಷನಲ್ ಚಿಹ್ನೆಯನ್ನು ಗುರುತಿಸಿ?



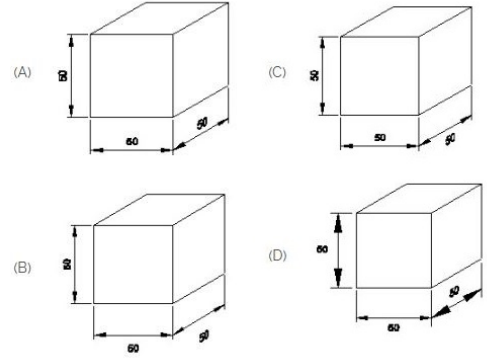
- A) Wood | ಮರ
 B) Lead | ಲೀಡ್
 C) Paper | ಪೇಪರ್
 D) Glass | ಗಾಜು

48. 1). Identify the name of tool? | ಉಪಕರಣದ ಹೆಸರನ್ನು ಗುರುತಿಸುವುದೇ?



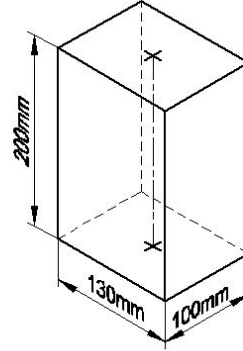
- A) Steel rule | ಸ್ಟೀಲ್ ರೂಲ್
 B) Try square | ಟ್ರೈ ಸ್ಕ್ವೇರ್
 C) Feeler gauge | ಫೀಲರ್ ಗೇಜ್
 D) Surface gauge | ಮೇಲ್ಮೈ ಮಾಪಕ

49. Which drawing dimension is correct as per IS standard? | IS ಮಾನದಂಡದ ಪ್ರಕಾರ ಯಾವ ರೇಖಾಚಿತ್ರದ ಆಯಾಮವು ಸರಿಯಾಗಿದೆ?



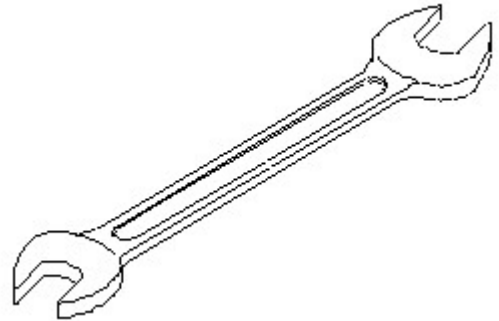
- A) D
 B) A
 C) B
 D) C

50. Identify the name of prism? | ಪ್ರಿಸ್ಮ್ ಹೆಸರನ್ನು ಗುರುತಿಸುವುದೇ?



- A) Hexagonal prism | ಷಡ್ಭುಜೀಯ ಪ್ರಿಸ್ಮ್
 B) Rectangle prism | ಆಯತ ಪ್ರಿಸ್ಮ್
 C) Triangular prism | ತ್ರಿಕೋನ ಪ್ರಿಸ್ಮ್
 D) Square prism | ಚದರ ಪ್ರಿಸ್ಮ್

51. Identify the name of tool? | ಉಪಕರಣದ ಹೆಸರನ್ನು ಗುರುತಿಸುವುದೇ?



- A) Open end spanner | ಓಪನ್ ಎಂಡ್ ಸ್ಪ್ಯಾನರ್
 B) Combination spanner | ಕಾಂಬಿನೇಷನ್ ಸ್ಪ್ಯಾನರ್
 C) Ring spanner | ರಿಂಗ್ ಸ್ಪ್ಯಾನರ್
 D) Adjustable spanner | ಹಾಂದಿಸಬಹುದಾದ ಸ್ಪ್ಯಾನರ್