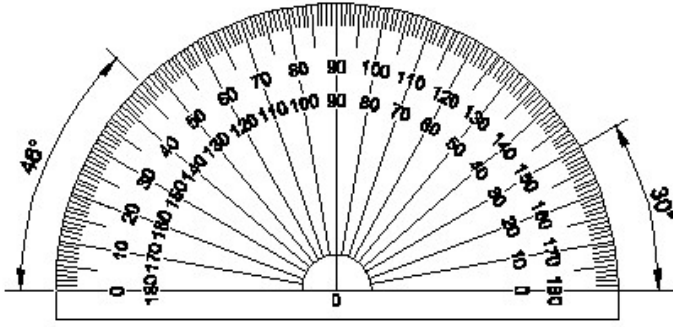


Duration: 30 Mins

Total Marks: 51

Q.ID: ITISKILL773511

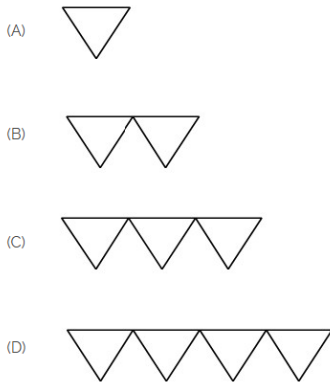
1. Identify the name of instrument? | ಉಪಕರಣದ ಹೆಸರನ್ನು ಗುರುತಿಸುವುದೇ?



- A) Set square | ಸೆಟ್ ಸ್ಕ್ವೇರ್ B) French curve | ಫ್ರೆಂಚ್ ಕರ್ವ್
C) T square | ಟಿ ಸ್ಕ್ವೇರ್ D) Protractor | ಪ್ರೊಟ್ರಾಕ್ಟರ್

Answer: D) Protractor | ಪ್ರೊಟ್ರಾಕ್ಟರ್

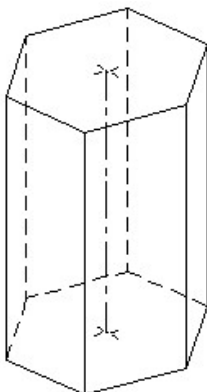
2. Which is roughness symbol for roughness grade N8?



- A) B B) A
C) D D) C

Answer: A) B

3. Identify the name of prism? | ತ್ರಿಸ್ತಂಭ ಹೆಸರನ್ನು ಗುರುತಿಸುವುದೇ?



- A) Triangular prism | ತ್ರಿಕೋನ ತ್ರಿಸ್ತಂಭ
B) Pentagonal prism | ಪಂಚಗೋನಲ್ ತ್ರಿಸ್ತಂಭ
C) Hexagonal prism | ಷಡ್ಭುಜೀಯ ತ್ರಿಸ್ತಂಭ
D) Square prism | ಚದರ ತ್ರಿಸ್ತಂಭ

Answer: C) Hexagonal prism | ಷಡ್ಭುಜೀಯ ತ್ರಿಸ್ತಂಭ

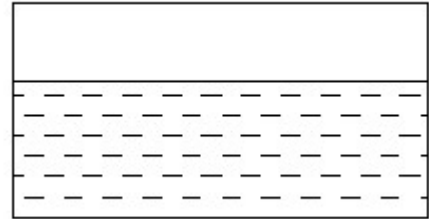
4. Identify the name of set square? | ಸೆಟ್ ಚೌಕದ ಹೆಸರನ್ನು ಗುರುತಿಸುವುದೇ?



- A) 45° set square | 45° ಸೆಟ್ ಸ್ಕ್ವೇರ್ B) 15° set square | 15° ಸೆಟ್ ಸ್ಕ್ವೇರ್
C) 30° set square | 30° ಸೆಟ್ ಸ್ಕ್ವೇರ್ D) 60° set square | 60° ಸೆಟ್ ಸ್ಕ್ವೇರ್

Answer: A) 45° set square | 45° ಸೆಟ್ ಸ್ಕ್ವೇರ್

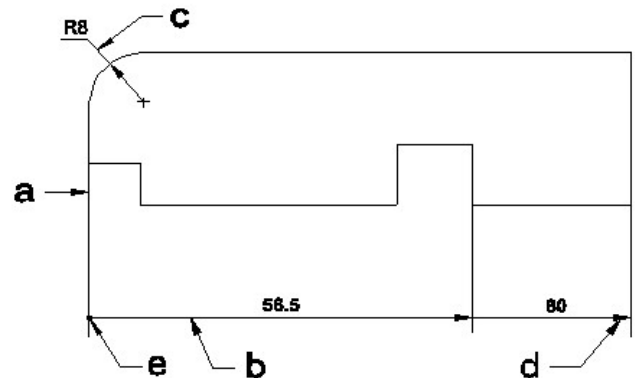
5. Identify the conventional symbol of material? | ವಸ್ತುವಿನ ಕನ್ವೆಷನಲ್ ಚಿಹ್ನೆಯನ್ನು ಗುರುತಿಸಿ?



- A) Water | ನೀರು B) Concrete | ಕಾಂಕ್ರೀಟ್
C) Glass | ಗಾಜು D) Asbestos | ಆಸ್ಟೆಸಿಯೋಸ್

Answer: A) Water | ನೀರು

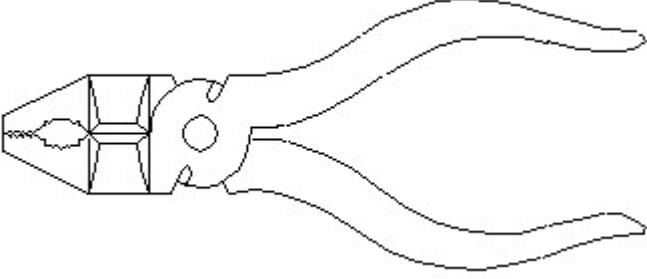
6. Identify the line a, b, c, d, e? | ರೇಖೆಗಳನ್ನು ಗುರುತಿಸುವುದೇ?



- A) Extension line | ಎಕ್ಸ್ಟೆನ್ಷನ್ ಲೈನ್
B) Termination of dimension line | ಆಯಾಮ ರೇಖೆಯ ಮುಕ್ತಾಯ
C) Dimension line | ಡೈಮೆನ್ಷನ್ ಲೈನ್
D) Leader line | ಲೀಡರ್ ಲೈನ್

Answer: C) Dimension line | ಡೈಮೆನ್ಷನ್ ಲೈನ್

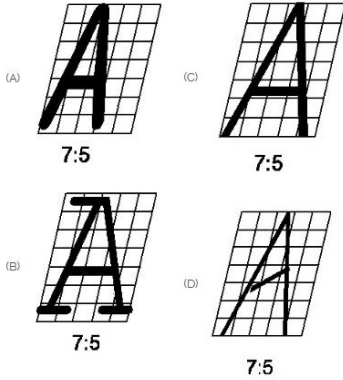
7. Identify the name of tool? | ಉಪಕರಣದ ಹೆಸರನ್ನು ಗುರುತಿಸುವುದೇ?



- A) Hawk-billed shear | ಹಾಕ್-ಬಿಲ್ಡ್ ಸಿಯರ್
B) Aviation shear | ಏವಿಯೇಷನ್ ಸಿಯರ್
C) Double cutting shear | ಡಬಲ್ ಕಟಿಂಗ್ ಸಿಯರ್
D) Cutting plier | ಕಟಿಂಗ್ ಪ್ಲಿಯರ್

Answer: D) Cutting plier | ಕಟಿಂಗ್ ಪ್ಲಿಯರ್

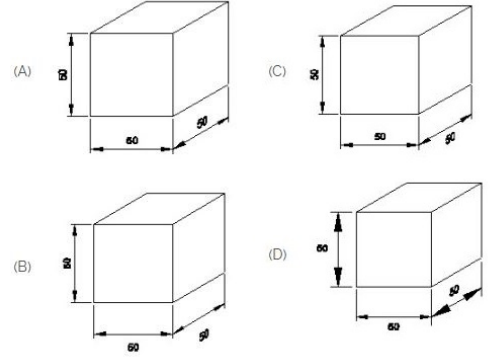
8. Which single stroke inclined letter □ A □ is correct as per IS standard? | IS ಮಾನದಂಡದ ಪ್ರಕಾರ ಯಾವ ಏಕ ಸ್ಟ್ರೋಕ್ ಇಳಿಜಾರಿನ ಅಕ್ಷರ □ A □ ಇರಬೇಕು?



- A) B
B) C
C) D
D) A

Answer: B) C

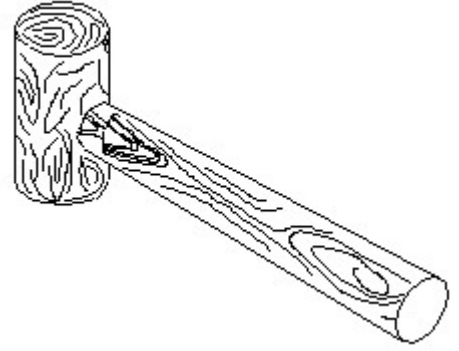
9. Which drawing dimension is correct as per IS standard? | IS ಮಾನದಂಡದ ಪ್ರಕಾರ ಯಾವ ರೇಖಾಚಿತ್ರದ ಆಯಾಮವು ಸರಿಯಾಗಿದೆ?



- A) B
B) D
C) C
D) A

Answer: D) A

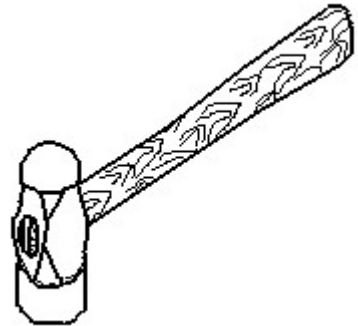
10. Identify the name of tool? | ಉಪಕರಣದ ಹೆಸರನ್ನು ಗುರುತಿಸುವುದೇ?



- A) Cross pein hammer | ಕ್ರಾಸ್ ಪೀನ್ ಹ್ಯಾಮರ್
B) Straight pein hammer | ಸ್ಟ್ರೇಟ್ ಪೀನ್ ಹ್ಯಾಮರ್
C) Mallet | ಮ್ಯಾಲೆಟ್
D) Ball pein hammer | ಬಾಲ್ ಪೀನ್ ಹ್ಯಾಮರ್

Answer: C) Mallet | ಮ್ಯಾಲೆಟ್

11. Identify the name of tool? | ಉಪಕರಣದ ಹೆಸರನ್ನು ಗುರುತಿಸುವುದೇ?

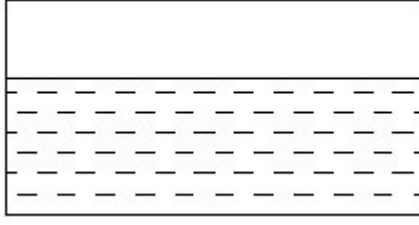


- A) Cross pein hammer | ಕ್ರಾಸ್ ಪೀನ್ ಹ್ಯಾಮರ್
B) Straight pein hammer | ಸ್ಟ್ರೇಟ್ ಪೀನ್ ಹ್ಯಾಮರ್
C) Sledge hammer | ಸ್ಲೆಡ್ಜ್ ಹ್ಯಾಮರ್
D) Ball pein hammer | ಬಾಲ್ ಪೀನ್ ಹ್ಯಾಮರ್

Answer: D) Ball pein hammer | ಬಾಲ್ ಪೀನ್ ಹ್ಯಾಮರ್

12. Identify the conventional symbol of material? | ವಸ್ತುವಿನ

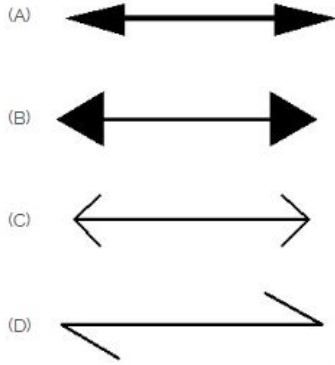
ಕನ್ವೆಷನಲ್ ಚಿಹ್ನೆಯನ್ನು ಗುರುತಿಸಿ?



- A) Concrete | ಕಾಂಕ್ರೀಟ್ B) Water | ನೀರು
C) Asbestos | ಆಸ್ಟೆಸ್ಟೋಸ್ D) Glass | ಗಾಜು

Answer: B) Water | ನೀರು

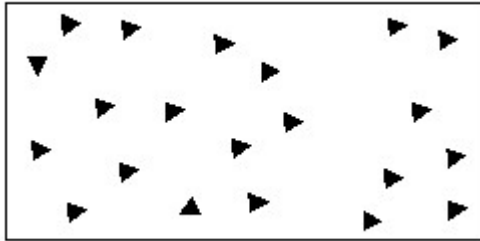
13. Which arrow head is correct as per standard? | ಮಾನದಂಡದ ಪ್ರಕಾರ ಯಾವ ಬಾಣದ ಹೆಡ್ ಸರಿಯಾಗಿದೆ?



- A) D B) C
C) A D) B

Answer: C) A

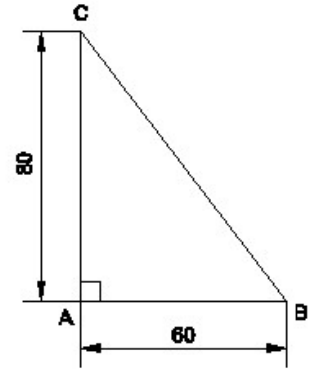
14. Identify the conventional symbol of material? | ವಸ್ತುವಿನ ಕನ್ವೆಷನಲ್ ಚಿಹ್ನೆಯನ್ನು ಗುರುತಿಸಿ?



- A) Steel | ಸ್ಟೀಲ್ B) Glass | ಗಾಜು
C) Wood | ಮರ D) Concrete | ಕಾಂಕ್ರೀಟ್

Answer: D) Concrete | ಕಾಂಕ್ರೀಟ್

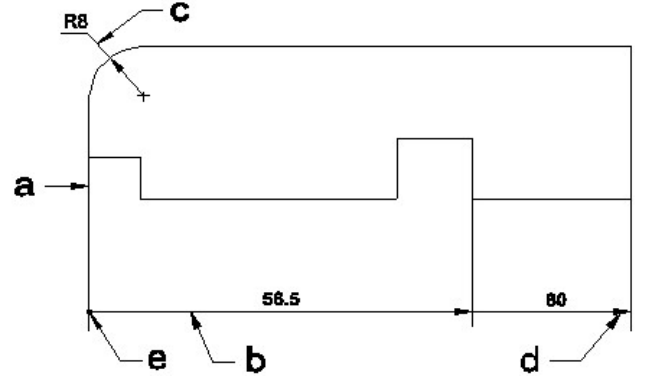
15. Identify the name of the triangle? | ತ್ರಿಕೋನದ ಹೆಸರನ್ನು ಗುರುತಿಸುವುದೇ?



- A) Isosceles triangle | ಸಮದಿಬ್ಬಾಹು ತ್ರಿಭುಜ B) Equilateral triangle | ಸಮಕೋನ ತ್ರಿಕೋನ
C) Scalene triangle | ಸ್ಕೇಲಿನ್ ತ್ರಿಕೋನ D) Right angle triangle | ಬಲ ಕೋನ ತ್ರಿಕೋನ

Answer: D) Right angle triangle | ಬಲ ಕೋನ ತ್ರಿಕೋನ

16. Identify the line □ b□ ? | □ ಸಾಫಿನ್ನು ಗುರುತಿಸುವುದೇ?



- A) Leader line | ಲೀಡರ್ ಲೈನ್ B) Termination of dimension line | ಆಯಾಮ ರೇಖೆಯ ಮುಕ್ತಾಯ
C) Extension line | ಎಕ್ಸ್ಟೆನ್ಷನ್ ಲೈನ್ D) Dimension line | ಡೈಮೆನ್ಷನ್ ಲೈನ್

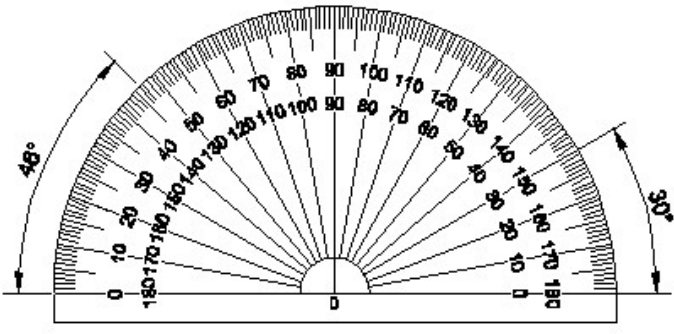
Answer: D) Dimension line | ಡೈಮೆನ್ಷನ್ ಲೈನ್

17. What is the trimmed size of A4 sheet? | A4 ಹಾಳೆಯ ಕ್ರಿಮ್ ಮಾಡಿದ ಗಾತ್ರ ಎಷ್ಟು?

- A) 148 x 210 B) 210 x 297
C) 841 x 1189 D) 594 x 841

Answer: B) 210 x 297

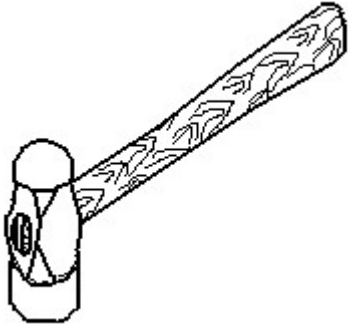
18. Identify the name of instrument? | ಉಪಕರಣದ ಹೆಸರನ್ನು ಗುರುತಿಸುವುದೇ?



- A) French curve | ಫ್ರೆಂಚ್ ಕರ್ವ್ B) Protractor | ಪ್ರೊಟ್ರಾಕ್ಟರ್
C) Set square | ಸೆಟ್ ಸ್ಕ್ವೇರ್ D) T square | ಟಿ ಸ್ಕ್ವೇರ್

Answer: B) Protractor | ಪ್ರೊಟ್ರಾಕ್ಟರ್

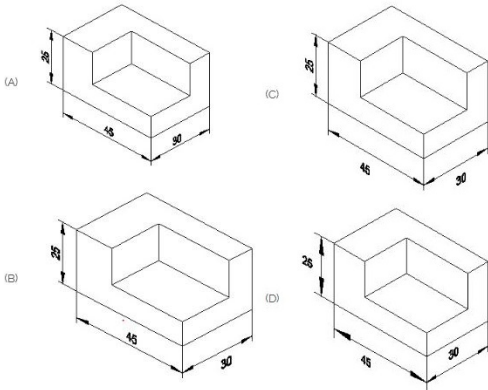
19. Identify the name of tool? | ಉಪಕರಣದ ಹೆಸರನ್ನು ಗುರುತಿಸುವುದೇ?



- A) Ball peen hammer | ಬಾಲ್ ಪೆನ್ ಸುತ್ತಿಗೆ B) Cross peen hammer | ಕ್ರಾಸ್ ಪೀನ್ ಸುತ್ತಿಗೆ
C) Sledge hammer | ಸ್ಲೆಡ್ಜ್ D) Straight peen hammer | ನೇರ ಪೆನ್ ಸುತ್ತಿಗೆ

Answer: A) Ball peen hammer | ಬಾಲ್ ಪೆನ್ ಸುತ್ತಿಗೆ

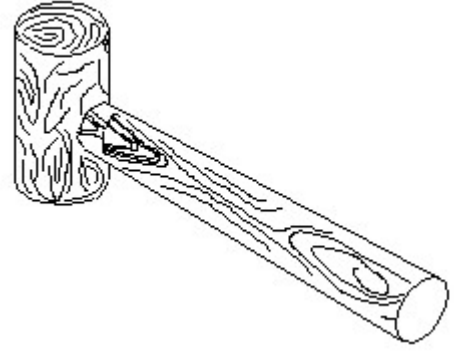
20. Which drawing dimension is correct as per standard drawing practice? | ಸ್ಟಾಂಡರ್ಡ್ ಡ್ರಾಯಿಂಗ್ ಅಭ್ಯಾಸದ ಪ್ರಕಾರ ಯಾವ ಡ್ರಾಯಿಂಗ್ ಆಯಾಮ ಸರಿಯಾಗಿದೆ?



- A) C B) A
C) D D) B

Answer: B) A


21. Identify the name of tool? | ಉಪಕರಣದ ಹೆಸರನ್ನು ಗುರುತಿಸುವುದೇ?



- A) Straight peen hammer | ಸ್ಟ್ರೈಟ್ ಪೆನ್ ಸುತ್ತಿಗೆ B) Mallet | ಮ್ಯಾಲೆಟ್
C) Ball peen hammer | ಬಾಲ್ ಪೆನ್ ಸುತ್ತಿಗೆ D) Cross peen hammer | ಕ್ರಾಸ್ ಪೀನ್ ಸುತ್ತಿಗೆ

Answer: B) Mallet | ಮ್ಯಾಲೆಟ್

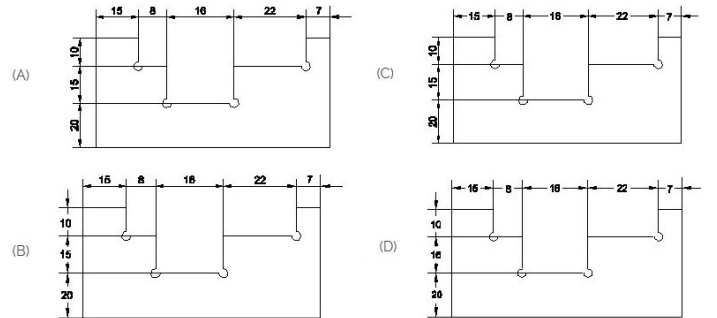
22. Identify the conventional symbol of material? | ವಸ್ತುವಿನ ಕನ್ವೆಷನಲ್ ಚಿಹ್ನೆಯನ್ನು ಗುರುತಿಸಿ?



- A) Glass | ಗಾಜು B) Steel | ಸ್ಟೀಲ್
C) Concrete | ಕಾಂಕ್ರೀಟ್ D) Wood | ಮರ

Answer: A) Glass | ಗಾಜು

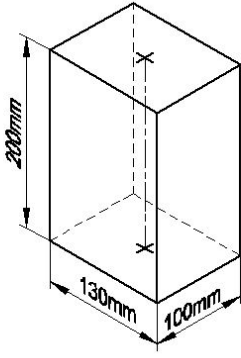
23. Identify the correct aligned system dimension? | ಸರಿಯಾದ ಜೋಡಿಸಲಾದ ಸಿಸ್ಟಮ್ ಆಯಾಮವನ್ನು ಗುರುತಿಸುವುದೇ?



- A) C B) A
C) B D) D

Answer: B) A

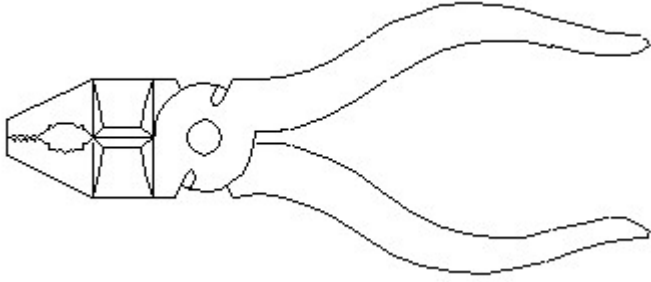
24. Identify the name of prism? | ಪ್ರಿಸ್ಮ್ ಹೆಸರನ್ನು ಗುರುತಿಸುವುದೇ?



- A) Triangular prism | ತ್ರಿಕೋನ ಪ್ರಿಸ್ಮ್
 B) Square prism | ಚದರ ಪ್ರಿಸ್ಮ್
 C) Rectangle prism | ಆಯತ ಪ್ರಿಸ್ಮ್
 D) Hexagonal prism | ಷಡ್ಭುಜೀಯ ಪ್ರಿಸ್ಮ್

Answer: C) Rectangle prism | ಆಯತ ಪ್ರಿಸ್ಮ್

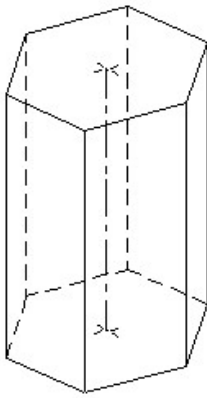
25. Identify the name of tool? | ಉಪಕರಣದ ಹೆಸರನ್ನು ಗುರುತಿಸುವುದೇ?



- A) Cutting plier | ಕಟಿಂಗ್ ಪ್ಲಿಯರ್
 B) Aviation shear | ವಿವಿಯೇಷನ್ ಷಿಯರ್
 C) Hawk-billed shear | ಹಾಕ್-ಬಿಲ್ಡ್ ಷಿಯರ್
 D) Double cutting shear | ಡಬಲ್ ಕಟಿಂಗ್ ಷಿಯರ್

Answer: A) Cutting plier | ಕಟಿಂಗ್ ಪ್ಲಿಯರ್

26. Identify the name of prism? | ಪ್ರಿಸ್ಮ್ ಹೆಸರನ್ನು ಗುರುತಿಸುವುದೇ?

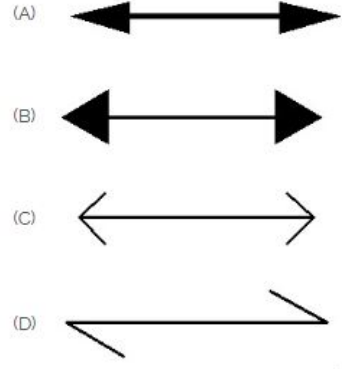


- A) Hexagonal prism | ಷಡ್ಭುಜೀಯ ಪ್ರಿಸ್ಮ್
 B) Triangular prism | ತ್ರಿಕೋನ ಪ್ರಿಸ್ಮ್
 C) Square prism | ಚದರ ಪ್ರಿಸ್ಮ್
 D) Pentagonal prism | ಪೆಂಟಾಗೋನಲ್ ಪ್ರಿಸ್ಮ್

Answer: A) Hexagonal prism | ಷಡ್ಭುಜೀಯ ಪ್ರಿಸ್ಮ್

27. Which arrow head is correct as per standard? | ಮಾನದಂಡದ

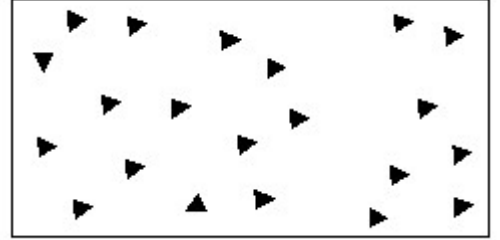
ಪ್ರಕಾರ ಯಾವ ಬಾಣದ ಹೆಡ್ ಸರಿಯಾಗಿದೆ?



- A) A
 B) C
 C) B
 D) D

Answer: A) A

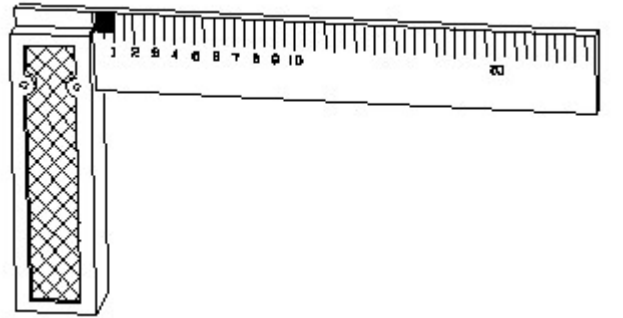
28. Identify the conventional symbol of material? | ವಸ್ತುವಿನ ಕನ್ವೆಷನಲ್ ಚಿಹ್ನೆಯನ್ನು ಗುರುತಿಸಿ?



- A) Wood | ಮರ
 B) Concrete | ಕಾಂಕ್ರೀಟ್
 C) Steel | ಸ್ಟೀಲ್
 D) Glass | ಗಾಜು

Answer: B) Concrete | ಕಾಂಕ್ರೀಟ್

29. 1). Identify the name of tool? | ಉಪಕರಣದ ಹೆಸರನ್ನು ಗುರುತಿಸುವುದೇ?



- A) Feeler gauge | ಫೀಲರ್ ಗೇಜ್
 B) Surface gauge | ಮೇಲ್ಮೈ ಮಾಪಕ
 C) Try square | ಟ್ರೈ ಸ್ಕ್ವೇರ್
 D) Steel rule | ಸ್ಟೀಲ್ ರೂಲ್

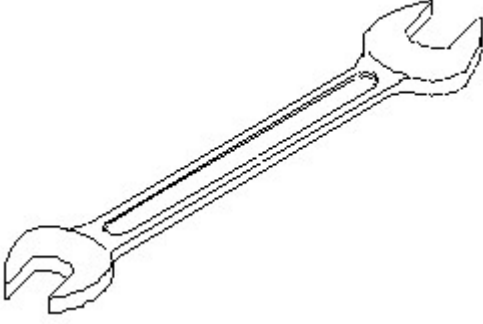
Answer: C) Try square | ಟ್ರೈ ಸ್ಕ್ವೇರ್

30. Compass used to draw for ____. | ಕಂಪಾಸ್ ಅನ್ನು ____ ಗೆ ಸೆಳೆಯಲು ಬಳಸಲಾಗುತ್ತದೆ.

- A) triangle | ತ್ರಿಕೋನ
 B) circle | ವೃತ್ತ
 C) square | ಚದರ
 D) rectangle | ಆಯಾತ

Answer: B) circle | ವೃತ್ತ

31. Identify the name of tool? | ಉಪಕರಣದ ಹೆಸರನ್ನು ಗುರುತಿಸುವುದೇ?



- A) Ring spanner | ರಿಂಗ್ ಸ್ಪಾನರ್
B) Combination spanner | ಕಾಂಬಿನೇಶನ್ ಸ್ಪಾನರ್
C) Adjustable spanner | ಹೊಂದಿಸಬಹುದಾದ ಸ್ಪಾನರ್
D) Open end spanner | ಓಪನ್ ಎಂಡ್ ಸ್ಪಾನರ್

Answer: D) Open end spanner | ಓಪನ್ ಎಂಡ್ ಸ್ಪಾನರ್

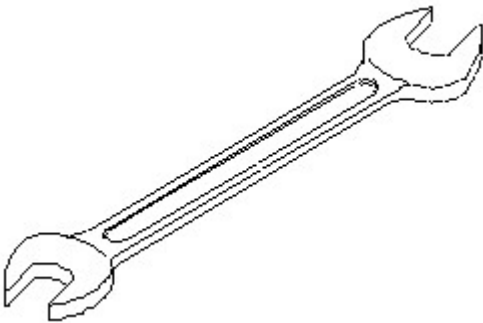
32. Identify the conventional symbol of material? | ವಸ್ತುವಿನ ಕನ್ವೆಷನಲ್ ಚಿಹ್ನೆಯನ್ನು ಗುರುತಿಸಿ?



- A) Wood | ಮರ
B) Steel | ಸ್ಟೀಲ್
C) Concrete | ಕಾಂಕ್ರೀಟ್
D) Glass | ಗಾಜು

Answer: D) Glass | ಗಾಜು

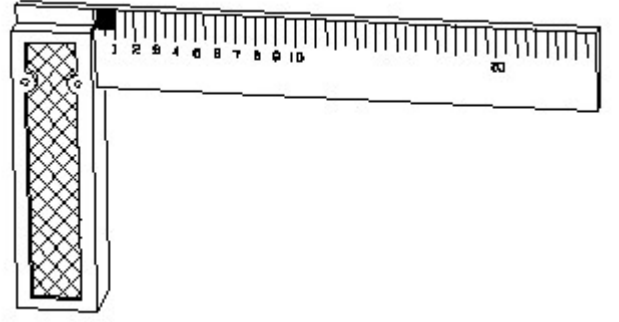
33. Identify the name of tool? | ಉಪಕರಣದ ಹೆಸರನ್ನು ಗುರುತಿಸುವುದೇ?



- A) Ring spanner | ರಿಂಗ್ ಸ್ಪಾನರ್
B) Adjustable spanner | ಹೊಂದಿಸಬಹುದಾದ ಸ್ಪಾನರ್
C) Combination spanner | ಕಾಂಬಿನೇಶನ್ ಸ್ಪಾನರ್
D) Open end spanner | ಓಪನ್ ಎಂಡ್ ಸ್ಪಾನರ್

Answer: D) Open end spanner | ಓಪನ್ ಎಂಡ್ ಸ್ಪಾನರ್

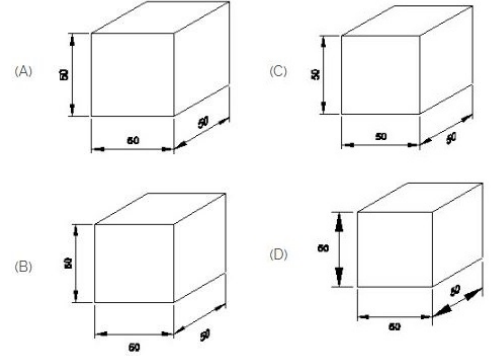
34. 1). Identify the name of tool? | ಉಪಕರಣದ ಹೆಸರನ್ನು ಗುರುತಿಸುವುದೇ?



- A) Steel rule | ಸ್ಟೀಲ್ ರೂಲ್
B) Try square | ಟ್ರೈ ಸ್ಕ್ವೇರ್
C) Feeler gauge | ಫೀಲರ್ ಗೇಜ್
D) Surface gauge | ಮೇಲ್ಮೈ ಮಾಪಕ

Answer: B) Try square | ಟ್ರೈ ಸ್ಕ್ವೇರ್

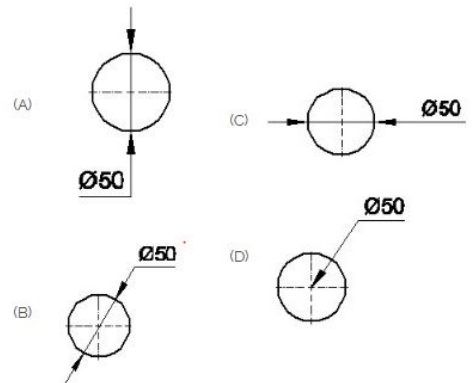
35. Which drawing dimension is correct as per IS standard? | IS ಮಾನದಂಡದ ಪ್ರಕಾರ ಯಾವ ರೇಖಾಚಿತ್ರದ ಆಯಾಮವು ಸರಿಯಾಗಿದೆ?



- A) A
B) C
C) D
D) B

Answer: A) A

36. Which dimension correctly marked in the circle as per standard? | ಮಾನದಂಡದ ಪ್ರಕಾರ ವೃತ್ತದಲ್ಲಿ ಯಾವ ಆಯಾಮವನ್ನು ಸರಿಯಾಗಿ ಗುರುತಿಸಲಾಗಿದೆ?

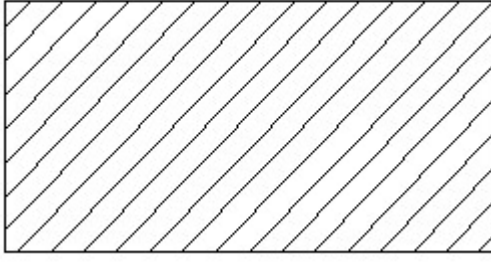


- A) C
B) B
C) D
D) A

Answer: B) B

37. Identify the conventional symbol of material? | ವಸ್ತುವಿನ

ಕನ್ವೇಷನಲ್ ಚಿಹ್ನೆಯನ್ನು ಗುರುತಿಸಿ?



- A) Steel | ಸ್ಟೀಲ್
B) Glass | ಗಾಜು
C) Lead | ಲೀಡ್
D) Porcelain | ಪಿಂಗಾಣಿ

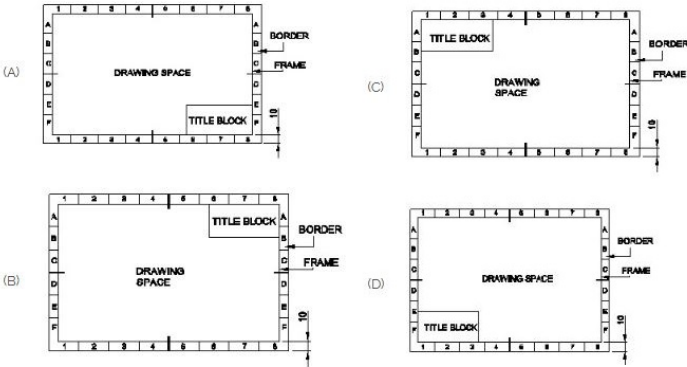
Answer: A) Steel | ಸ್ಟೀಲ್

38. Compass used to draw for ____. | ಕಂಪಾಸ್ ಅನ್ನು _____ ಗೆ ಸೆಳೆಯಲು ಬಳಸಲಾಗುತ್ತದೆ.

- A) triangle | ತ್ರಿಕೋನ
B) rectangle | ಆಯಾತ
C) square | ಚದರ
D) circle | ವೃತ್ತ

Answer: D) circle | ವೃತ್ತ

39. Which title block position is correct as standard practice? | ಪ್ರಮಾಣಿತ ಅಭ್ಯಾಸದಂತೆ ಯಾವ ಶೀರ್ಷಿಕೆ ಬಾಕ್ಸ್ ಸ್ಥಾನವು ಸರಿಯಾಗಿದೆ?



- A) D
B) A
C) C
D) B

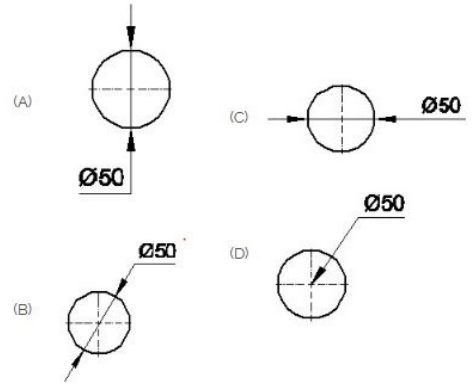
Answer: B) A

40. What is the trimmed size of A4 sheet? | A4 ಹಾಳೆಯ ಕ್ರಿಮ್ ಮಾಡಿದ ಗಾತ್ರ ಎಷ್ಟು?

- A) 148 x 210
B) 841 x 1189
C) 210 x 297
D) 594 x 841

Answer: C) 210 x 297

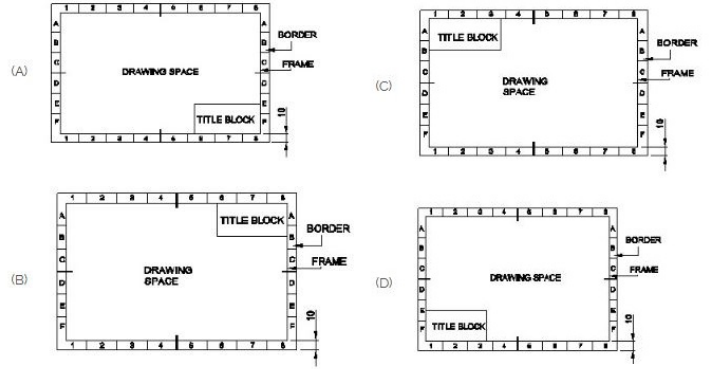
41. Which dimension correctly marked in the circle as per standard? | ಮಾನದಂಡದ ಪ್ರಕಾರ ವೃತ್ತದಲ್ಲಿ ಯಾವ ಆಯಾಮವನ್ನು ಸರಿಯಾಗಿ ಗುರುತಿಸಲಾಗಿದೆ?



- A) C
B) A
C) D
D) B

Answer: D) B

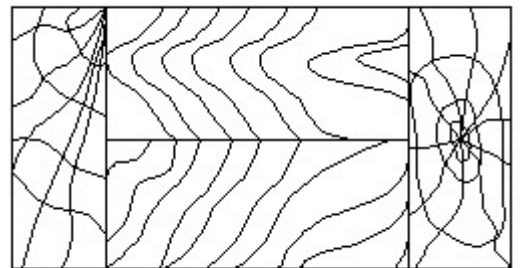
42. Which title block position is correct as standard practice? | ಪ್ರಮಾಣಿತ ಅಭ್ಯಾಸದಂತೆ ಯಾವ ಶೀರ್ಷಿಕೆ ಬಾಕ್ಸ್ ಸ್ಥಾನವು ಸರಿಯಾಗಿದೆ?



- A) D
B) C
C) A
D) B

Answer: C) A

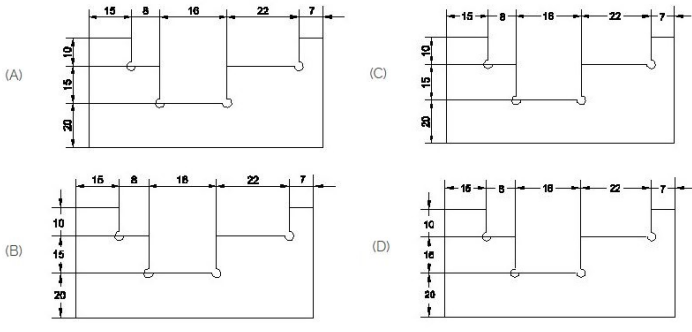
43. Identify the conventional symbol of material? | ವಸ್ತುವಿನ ಕನ್ವೇಷನಲ್ ಚಿಹ್ನೆಯನ್ನು ಗುರುತಿಸಿ?



- A) Lead | ಲೀಡ್
B) Glass | ಗಾಜು
C) Paper | ಪೇಪರ್
D) Wood | ಮರ

Answer: D) Wood | ಮರ

44. Identify the correct aligned system dimension? | ಸರಿಯಾದ ಜೋಡಿಸಲಾದ ಸಿಸ್ಟಮ್ ಆಯಾಮವನ್ನು ಗುರುತಿಸುವುದೇ?



- A) B
C) D
B) C
D) A

Answer: D) A

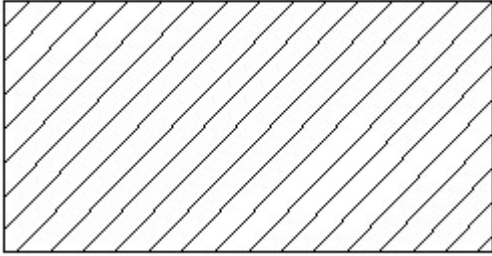
45. Identify the name of set square? | ಸೆಟ್ ಚೌಕದ ಹೆಸರನ್ನು ಗುರುತಿಸುವುದೇ?



- A) 30° set square | 30° ಸೆಟ್ ಸ್ಕ್ವೇರ್
B) 15° set square | 15° ಸೆಟ್ ಸ್ಕ್ವೇರ್
C) 60° set square | 60° ಸೆಟ್ ಸ್ಕ್ವೇರ್
D) 45° set square | 45° ಸೆಟ್ ಸ್ಕ್ವೇರ್

Answer: D) 45° set square | 45° ಸೆಟ್ ಸ್ಕ್ವೇರ್

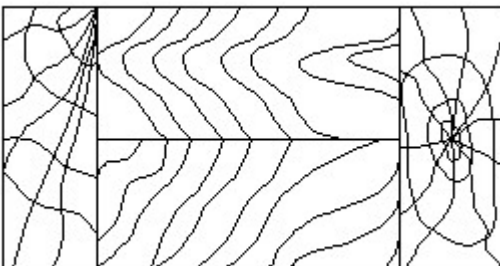
46. Identify the conventional symbol of material? | ವಸ್ತುವಿನ ಕನ್ವೆಷನಲ್ ಚಿಹ್ನೆಯನ್ನು ಗುರುತಿಸಿ?



- A) Porcelain | ಪಿಂಗಾಣಿ
B) Lead | ಲೀಡ್
C) Steel | ಸ್ಟೀಲ್
D) Glass | ಗಾಜು

Answer: C) Steel | ಸ್ಟೀಲ್

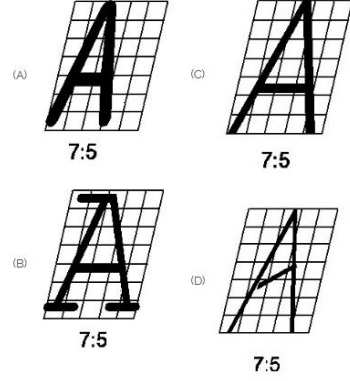
47. Identify the conventional symbol of material? | ವಸ್ತುವಿನ ಕನ್ವೆಷನಲ್ ಚಿಹ್ನೆಯನ್ನು ಗುರುತಿಸಿ?



- A) Paper | ಪೇಪರ್
B) Lead | ಲೀಡ್
C) Glass | ಗಾಜು
D) Wood | ಮರ

Answer: D) Wood | ಮರ

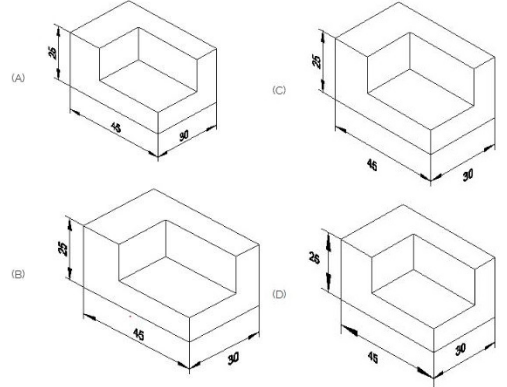
48. Which single stroke inclined letter A is correct as per IS standard? | IS ಮಾನದಂಡದ ಪ್ರಕಾರ ಯಾವ ಏಕ ಸ್ಟ್ರೋಕ್ ಇಳಿಜಾರಿನ ಅಕ್ಷರ A ಠರಿಯಾಗಿದೆ?



- A) C
C) A
B) D
D) B

Answer: A) C

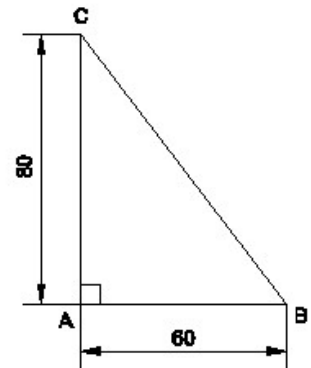
49. Which drawing dimension is correct as per standard drawing practice? | ಸ್ಟಾಂಡರ್ಡ್ ಡ್ರಾಯಿಂಗ್ ಅಭ್ಯಾಸದ ಪ್ರಕಾರ ಯಾವ ಡ್ರಾಯಿಂಗ್ ಆಯಾಮ ಸರಿಯಾಗಿದೆ?



- A) D
C) C
B) A
D) B

Answer: B) A

50. Identify the name of the triangle? | ತ್ರಿಕೋನದ ಹೆಸರನ್ನು ಗುರುತಿಸುವುದೇ?



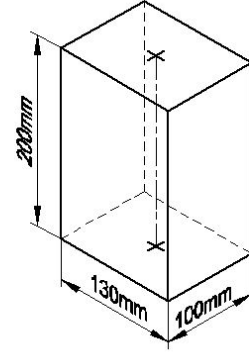
- A) Scalene triangle | ಸ್ಕೇಲಿನ್ ತ್ರಿಕೋನ
B) Isosceles triangle | ಸಮದ್ವಿಬಾಹು ತ್ರಿಕೋನ

C) Equilateral triangle |
ಸಮಕೋನ ತ್ರಿಕೋನ

D) Right angle triangle | ಬಲ
ಕೋನ ತ್ರಿಕೋನ

Answer: D) Right angle triangle | ಬಲ ಕೋನ ತ್ರಿಕೋನ

51. Identify the name of prism? | ಪ್ರಿಸ್ಮ್ ಹೆಸರನ್ನು ಗುರುತಿಸುವುದೇ?



A) Rectangle prism | ಆಯತ
ಪ್ರಿಸ್ಮ್

B) Square prism | ಚದರ ಪ್ರಿಸ್ಮ್

C) Hexagonal prism |
ಷಡ್ಭುಜೀಯ ಪ್ರಿಸ್ಮ್

D) Triangular prism | ತ್ರಿಕೋನ
ಪ್ರಿಸ್ಮ್

Answer: A) Rectangle prism | ಆಯತ ಪ್ರಿಸ್ಮ್