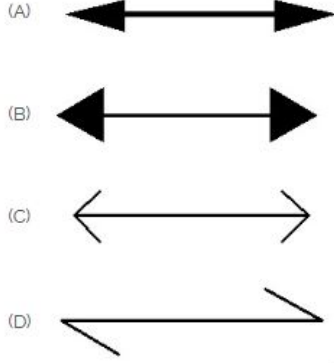


Duration: 20 Mins

Total Marks: 35

Q.ID: ITISKILL76545K

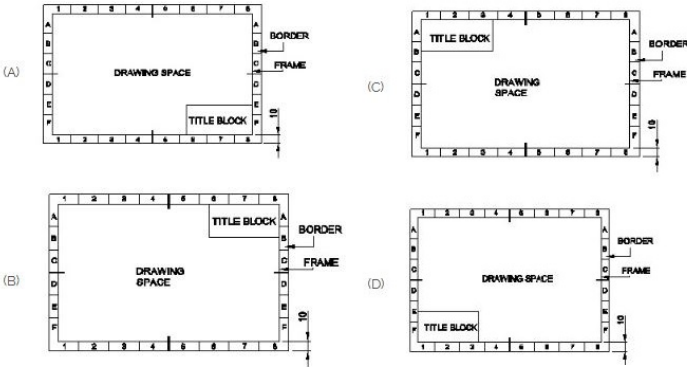
1. Which arrow head is correct as per standard? | ಮಾನದಂಡದ ಪ್ರಕಾರ ಯಾವ ಬಾಣದ ಹೆಡ್ ಸರಿಯಾಗಿದೆ?



- A) A B) C
C) B D) D

Answer: A) A

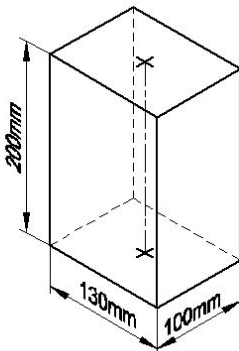
2. Which title block position is correct as standard practice? | ಪ್ರಮಾಣಿತ ಅಭ್ಯಾಸದಂತೆ ಯಾವ ಶೀರ್ಷಿಕೆ ಬ್ಲಾಕ್ ಸ್ಥಾನವು ಸರಿಯಾಗಿದೆ?



- A) C B) A
C) D D) B

Answer: B) A

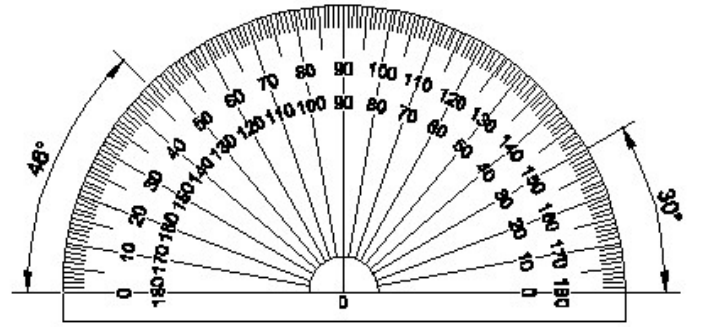
3. Identify the name of prism? | ತ್ರಿಸ್ತಂಭ ಹೆಸರನ್ನು ಗುರುತಿಸುವುದೇ?



- A) Hexagonal prism | ಷಡ್ಭುಜೀಯ ತ್ರಿಸ್ತಂಭ B) Square prism | ಚದರ ತ್ರಿಸ್ತಂಭ
C) Triangular prism | ತ್ರಿಕೋನ ತ್ರಿಸ್ತಂಭ D) Rectangle prism | ಆಯತ ತ್ರಿಸ್ತಂಭ

Answer: D) Rectangle prism | ಆಯತ ತ್ರಿಸ್ತಂಭ

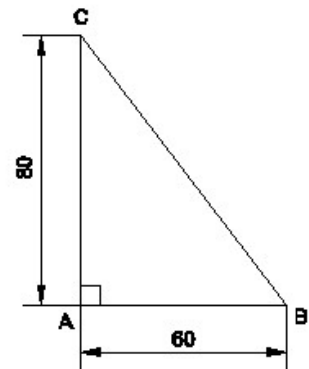
4. Identify the name of instrument? | ಉಪಕರಣದ ಹೆಸರನ್ನು ಗುರುತಿಸುವುದೇ?



- A) Protractor | ಪ್ರೋಟ್ರಾಕ್ಟರ್ B) T square | ಟಿ ಸ್ಕ್ವೇರ್
C) Set square | ಸೆಟ್ ಸ್ಕ್ವೇರ್ D) French curve | ಫ್ರೆಂಚ್ ಕರ್ವ್

Answer: A) Protractor | ಪ್ರೋಟ್ರಾಕ್ಟರ್

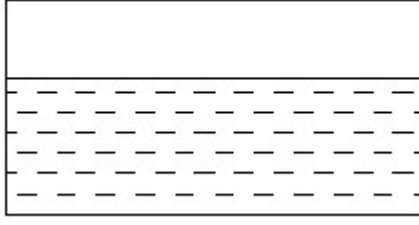
5. Identify the name of the triangle? | ತ್ರಿಕೋನದ ಹೆಸರನ್ನು ಗುರುತಿಸುವುದೇ?



- A) Scalene triangle | ಸ್ಕೇಲಿನ್ ತ್ರಿಕೋನ B) Equilateral triangle | ಸಮಕೋನ ತ್ರಿಕೋನ
C) Right angle triangle | ಬಲ ಕೋನ ತ್ರಿಕೋನ D) Isosceles triangle | ಸಮದ್ವಿಬಾಹು ತ್ರಿಕೋನ

Answer: C) Right angle triangle | ಬಲ ಕೋನ ತ್ರಿಕೋನ

6. Identify the conventional symbol of material? | ವಸ್ತುವಿನ ಕನ್ವೆಷನಲ್ ಚಿಹ್ನೆಯನ್ನು ಗುರುತಿಸಿ?



A) Water | ನೀರು

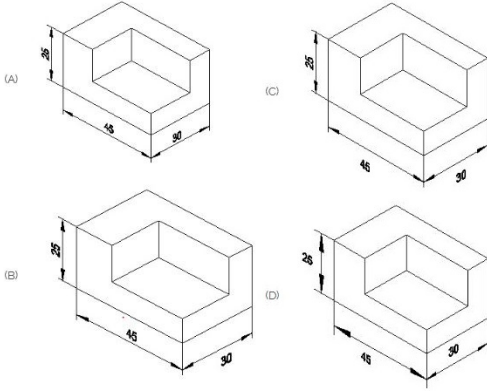
B) Asbestos | ಆಸ್ಟೆಸ್ಟೋಸ್

C) Glass | ಗಾಜು

D) Concrete | ಕಾಂಕ್ರೀಟ್

Answer: A) Water | ನೀರು

7. Which drawing dimension is correct as per standard drawing practice? | ಸ್ಟಾಂಡರ್ಡ್ ಡ್ರಾಯಿಂಗ್ ಅಭ್ಯಾಸದ ಪ್ರಕಾರ ಯಾವ ಡ್ರಾಯಿಂಗ್ ಆಯಾಮ ಸರಿಯಾಗಿದೆ?



A) D

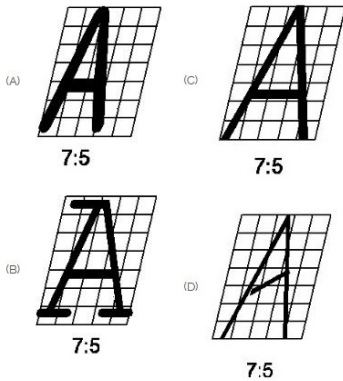
B) B

C) C

D) A

Answer: D) A

8. Which single stroke inclined letter 'A' is correct as per IS standard? | IS ಮಾನದಂಡದ ಪ್ರಕಾರ ಯಾವ ಏಕ ಸ್ಟ್ರೋಕ್ ಇಳಿಜಾರಿನ ಅಕ್ಷರ 'A' ಸರಿಯಾಗಿದೆ?



A) C

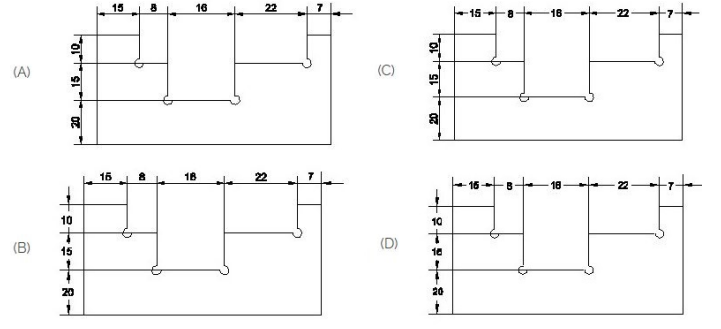
B) D

C) A

D) B

Answer: A) C

9. Identify the correct aligned system dimension? | ಸರಿಯಾದ ಜೋಡಿಸಲಾದ ಸಿಸ್ಟಮ್ ಆಯಾಮವನ್ನು ಗುರುತಿಸುವುದೇ?



A) C

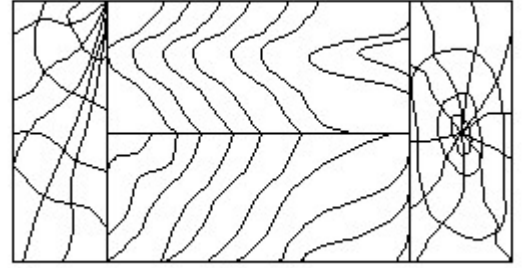
B) A

C) D

D) B

Answer: B) A

10. Identify the conventional symbol of material? | ವಸ್ತುವಿನ ಕನ್ವೆಷನಲ್ ಚಿಹ್ನೆಯನ್ನು ಗುರುತಿಸಿ?



A) Lead | ಲೀಡ್

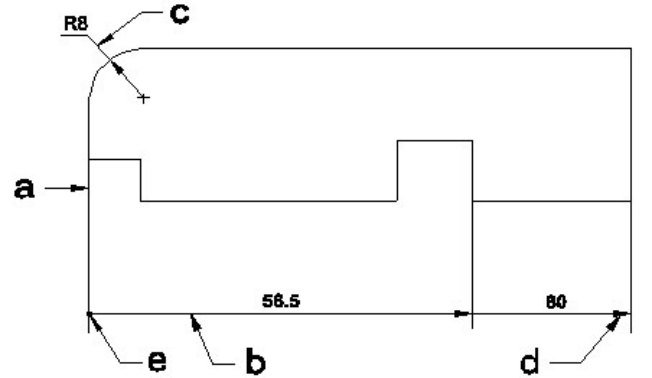
B) Paper | ಪೇಪರ್

C) Glass | ಗಾಜು

D) Wood | ಮರ

Answer: D) Wood | ಮರ

11. Identify the line 'a' or 'b'? | ಸಾಲಿನನ್ನು ಗುರುತಿಸುವುದೇ?



A) Extension line | ಎಕ್ಸ್ಟೆನ್ಷನ್ ಲೈನ್

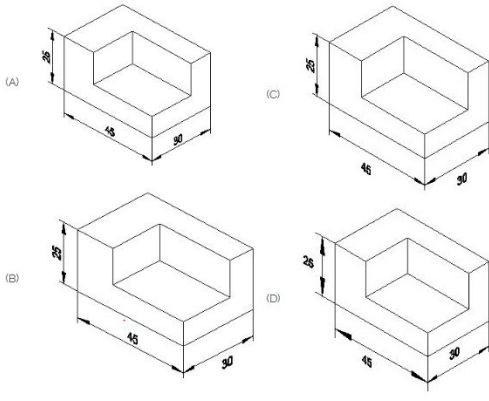
B) Dimension line | ಡೈಮೆನ್ಷನ್ ಲೈನ್

C) Termination of dimension line | ಆಯಾಮ ರೇಖೆಯ ಮುಕ್ತಾಯ

D) Leader line | ಲೀಡರ್ ಲೈನ್

Answer: B) Dimension line | ಡೈಮೆನ್ಷನ್ ಲೈನ್

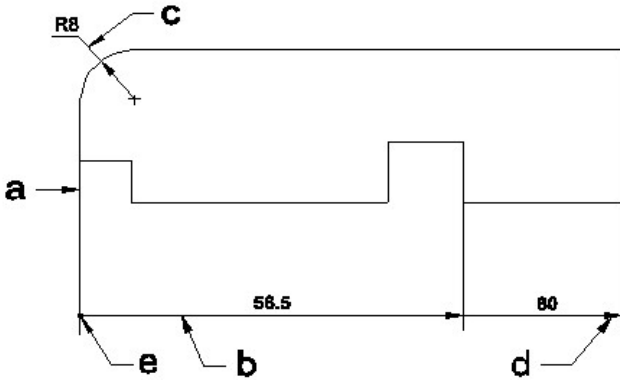
12. Which drawing dimension is correct as per standard drawing practice? | ಸ್ಟಾಂಡರ್ಡ್ ಡ್ರಾಯಿಂಗ್ ಅಭ್ಯಾಸದ ಪ್ರಕಾರ ಯಾವ ಡ್ರಾಯಿಂಗ್ ಆಯಾಮ ಸರಿಯಾಗಿದೆ?



- A) D
C) B
- B) C
D) A

Answer: D) A

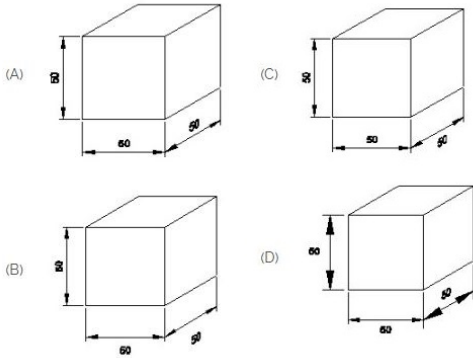
13. Identify the line \square b \square ? | ಸಾಫಲಿನ್ನು ಗುರುತಿಸುವುದೇ?



- A) Leader line | ಲೀಡರ್ ಲೈನ್
C) Extension line | ಎಕ್ಸ್ಟೆನ್ಷನ್ ಲೈನ್
- B) Dimension line | ಡೈಮೆನ್ಷನ್ ಲೈನ್
D) Termination of dimension line | ಆಯಾಮ ರೇಖೆಯ ಮುಕ್ತಾಯ

Answer: B) Dimension line | ಡೈಮೆನ್ಷನ್ ಲೈನ್

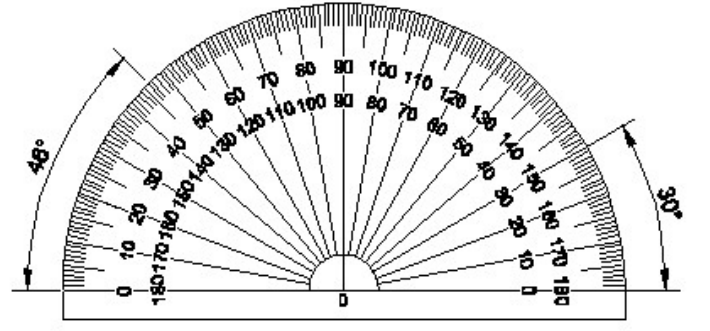
14. Which drawing dimension is correct as per IS standard? | IS ಮಾನದಂಡದ ಪ್ರಕಾರ ಯಾವ ರೇಖಾಚಿತ್ರದ ಆಯಾಮವು ಸರಿಯಾಗಿದೆ?



- A) D
C) C
- B) A
D) B

Answer: B) A

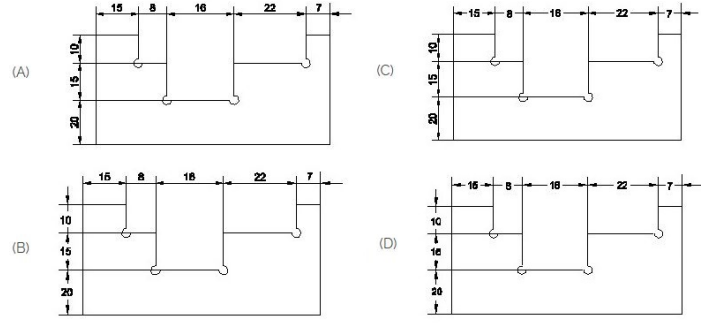
15. Identify the name of instrument? | ಉಪಕರಣದ ಹೆಸರನ್ನು ಗುರುತಿಸುವುದೇ?



- A) Protractor | ಪ್ರೊಟ್ರಾಕ್ಟರ್
C) French curve | ಫ್ರೆಂಚ್ ಕರ್ವ್
- B) Set square | ಸೆಟ್ ಸ್ಕ್ವೇರ್
D) T square | ಟ್ ಸ್ಕ್ವೇರ್

Answer: A) Protractor | ಪ್ರೊಟ್ರಾಕ್ಟರ್

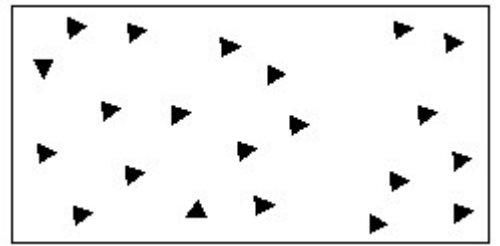
16. Identify the correct aligned system dimension? | ಸರಿಯಾದ ಜೋಡಿಸಲಾದ ಸಿಸ್ಟಮ್ ಆಯಾಮವನ್ನು ಗುರುತಿಸುವುದೇ?



- A) C
C) B
- B) A
D) D

Answer: B) A

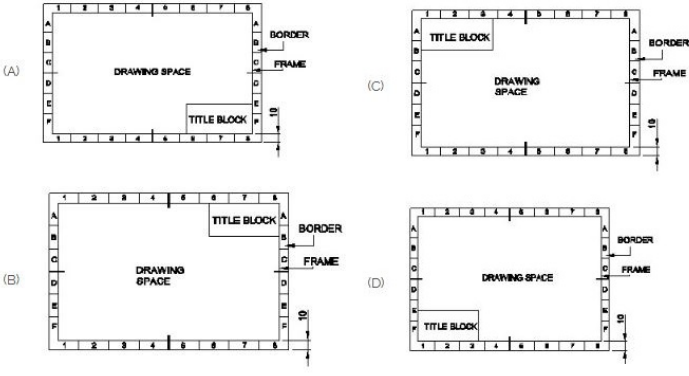
17. Identify the conventional symbol of material? | ವಸ್ತುವಿನ ಕನ್ವೆಷನಲ್ ಚಿಹ್ನೆಯನ್ನು ಗುರುತಿಸಿ?



- A) Steel | ಸ್ಟೀಲ್
C) Glass | ಗಾಜು
- B) Concrete | ಕಾಂಕ್ರೀಟ್
D) Wood | ಮರ

Answer: B) Concrete | ಕಾಂಕ್ರೀಟ್

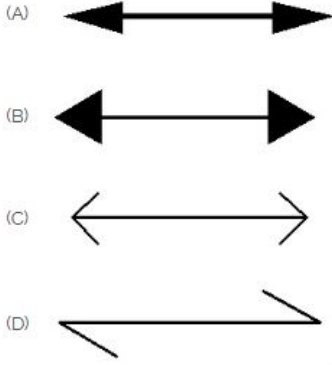
18. Which title block position is correct as standard practice? | ಪ್ರಮಾಣಿತ ಅಭ್ಯಾಸದಂತೆ ಯಾವ ಶೀರ್ಷಿಕೆ ಬಾಕ್ಸ್ ಸ್ಥಾನವು ಸರಿಯಾಗಿದೆ?



- A) D
C) C
- B) A
D) B

Answer: B) A

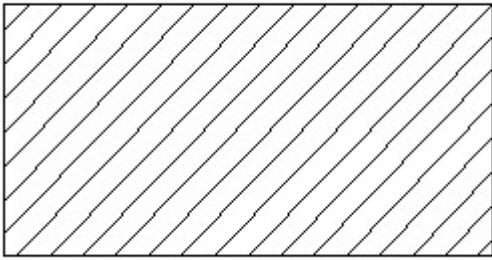
19. Which arrow head is correct as per standard? | ಮಾನದಂಡದ ಪ್ರಕಾರ ಯಾವ ಬಾಣದ ಹೆಡ್ ಸರಿಯಾಗಿದೆ?



- A) D
C) C
- B) B
D) A

Answer: D) A

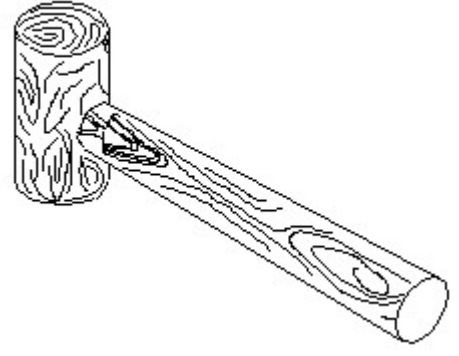
20. Identify the conventional symbol of material? | ವಸ್ತುವಿನ ಕನ್ವೆಷನಲ್ ಚಿಹ್ನೆಯನ್ನು ಗುರುತಿಸಿ?



- A) Steel | ಸ್ಟೀಲ್
C) Lead | ಲೀಡ್
- B) Glass | ಗಾಜು
D) Porcelain | ಪಿಂಗಾಣಿ

Answer: A) Steel | ಸ್ಟೀಲ್

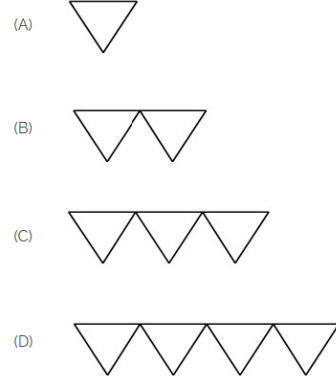
21. Identify the name of tool? | ಉಪಕರಣದ ಹೆಸರನ್ನು ಗುರುತಿಸುವುದೇ?



- A) Cross pein hammer | ಕ್ರಾಸ್ ಪೀನ್ ಸುತ್ತಿಗೆ
C) Ball pein hammer | ಬಾಲ್ ಪೀನ್ ಸುತ್ತಿಗೆ
- B) Straight pein hammer | ಸ್ಟ್ರೈಟ್ ಪೀನ್ ಸುತ್ತಿಗೆ
D) Mallet | ಮ್ಯಾಲೆಟ್

Answer: D) Mallet | ಮ್ಯಾಲೆಟ್

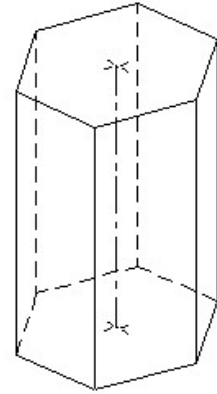
22. Which is roughness symbol for roughness grade N8?



- A) D
C) B
- B) A
D) C

Answer: C) B

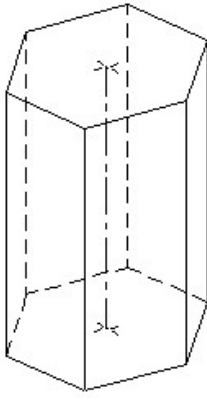
23. Identify the name of prism? | ಪ್ರಿಸ್ಮ್ ಹೆಸರನ್ನು ಗುರುತಿಸುವುದೇ?



- A) Square prism | ಚದರ ಪ್ರಿಸ್ಮ್
C) Hexagonal prism | ಷಡ್ಭುಜೀಯ ಪ್ರಿಸ್ಮ್
- B) Pentagonal prism | ಪೆಂಟಾಗೋನಲ್ ಪ್ರಿಸ್ಮ್
D) Triangular prism | ತ್ರಿಕೋನ ಪ್ರಿಸ್ಮ್

Answer: C) Hexagonal prism | ಷಡ್ಭುಜೀಯ ಪ್ರಿಸ್ಮ್

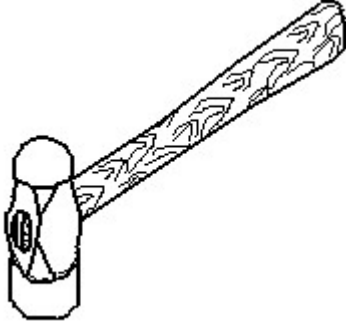
24. Identify the name of prism? | ಪ್ರಿಸ್ಮ್ ಹೆಸರನ್ನು ಗುರುತಿಸುವುದೇ?



- A) Triangular prism | ತ್ರಿಕೋನ ಪ್ರಿಸ್ಮ್
 B) Pentagonal prism | ಪೆಂಟಗೋನಲ್ ಪ್ರಿಸ್ಮ್
 C) Hexagonal prism | ಷಡ್ಭುಜೀಯ ಪ್ರಿಸ್ಮ್
 D) Square prism | ಚದರ ಪ್ರಿಸ್ಮ್

Answer: C) Hexagonal prism | ಷಡ್ಭುಜೀಯ ಪ್ರಿಸ್ಮ್

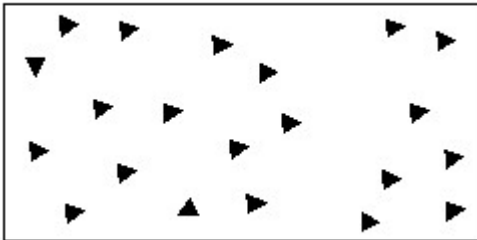
25. Identify the name of tool? | ಉಪಕರಣದ ಹೆಸರನ್ನು ಗುರುತಿಸುವುದೇ?



- A) Cross pein hammer | ಕ್ರಾಸ್ ಪೀನ್ ಸುತ್ತಿಗೆ
 B) Straight pein hammer | ನೇರ ಪೀನ್ ಸುತ್ತಿಗೆ
 C) Ball pein hammer | ಬಾಲ್ ಪೀನ್ ಸುತ್ತಿಗೆ
 D) Sledge hammer | ಸ್ಲೆಡ್ಜ್ ಸುತ್ತಿಗೆ

Answer: C) Ball pein hammer | ಬಾಲ್ ಪೀನ್ ಸುತ್ತಿಗೆ

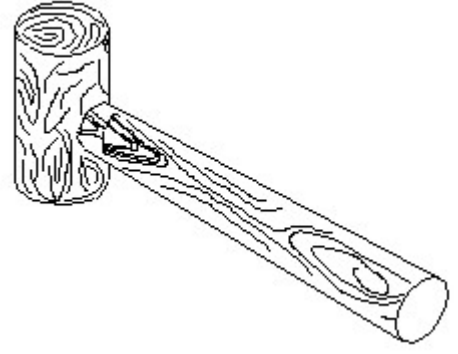
26. Identify the conventional symbol of material? | ವಸ್ತುವಿನ ಕನ್ವೆಷನಲ್ ಚಿಹ್ನೆಯನ್ನು ಗುರುತಿಸಿ?



- A) Glass | ಗಾಜು
 B) Wood | ಮರ
 C) Concrete | ಕಾಂಕ್ರೀಟ್
 D) Steel | ಸ್ಟೀಲ್

Answer: C) Concrete | ಕಾಂಕ್ರೀಟ್

27. Identify the name of tool? | ಉಪಕರಣದ ಹೆಸರನ್ನು ಗುರುತಿಸುವುದೇ?



- A) Ball pein hammer | ಬಾಲ್ ಪೀನ್ ಸುತ್ತಿಗೆ
 B) Straight pein hammer | ಸ್ಟ್ರೈಟ್ ಪೀನ್ ಸುತ್ತಿಗೆ
 C) Mallet | ಮ್ಯಾಲೆಟ್
 D) Cross pein hammer | ಕ್ರಾಸ್ ಪೀನ್ ಸುತ್ತಿಗೆ

Answer: C) Mallet | ಮ್ಯಾಲೆಟ್

28. What is the trimmed size of A4 sheet? | A4 ಹಾಳೆಯು ಟ್ರಿಮ್ ಮಾಡಿದ ಗಾತ್ರ ಎಷ್ಟು?

- A) 148 x 210
 B) 594 x 841
 C) 210 x 297
 D) 841 x 1189

Answer: C) 210 x 297

29. Compass used to draw for ____. | ಕಂಪಾಸ್ ಅನ್ನು ____ ಗೆ ಸೆಳೆಯಲು ಬಳಸಲಾಗುತ್ತದೆ.

- A) square | ಚದರ
 B) circle | ವೃತ್ತ
 C) rectangle | ಆಯಾತ
 D) triangle | ತ್ರಿಕೋನ

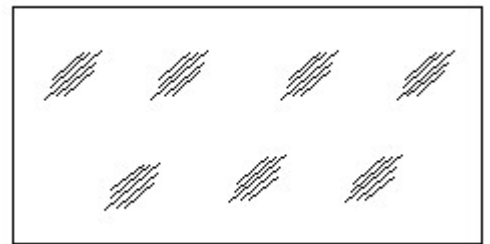
Answer: B) circle | ವೃತ್ತ

30. Compass used to draw for ____. | ಕಂಪಾಸ್ ಅನ್ನು ____ ಗೆ ಸೆಳೆಯಲು ಬಳಸಲಾಗುತ್ತದೆ.

- A) triangle | ತ್ರಿಕೋನ
 B) rectangle | ಆಯಾತ
 C) square | ಚದರ
 D) circle | ವೃತ್ತ

Answer: D) circle | ವೃತ್ತ

31. Identify the conventional symbol of material? | ವಸ್ತುವಿನ ಕನ್ವೆಷನಲ್ ಚಿಹ್ನೆಯನ್ನು ಗುರುತಿಸಿ?



- A) Concrete | ಕಾಂಕ್ರೀಟ್
 B) Wood | ಮರ
 C) Glass | ಗಾಜು
 D) Steel | ಸ್ಟೀಲ್

Answer: C) Glass | ಗಾಜು

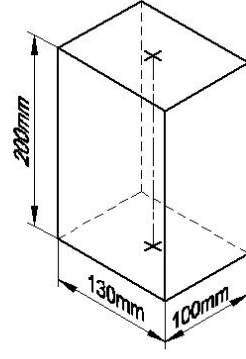
32. Identify the name of set square? | ಸೆಟ್ ಚೌಕದ ಹೆಸರನ್ನು

ಗುರುತಿಸುವುದೇ?

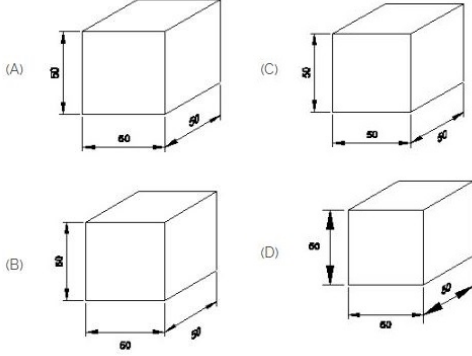


- A) 30° set square | 30° ಸೆಟ್ ಸ್ಕ್ವೇರ್
B) 15° set square | 15° ಸೆಟ್ ಸ್ಕ್ವೇರ್
C) 45° set square | 45° ಸೆಟ್ ಸ್ಕ್ವೇರ್
D) 60° set square | 60° ಸೆಟ್ ಸ್ಕ್ವೇರ್

Answer: C) 45° set square | 45° ಸೆಟ್ ಸ್ಕ್ವೇರ್



33. Which drawing dimension is correct as per IS standard? |
IS ಮಾನದಂಡದ ಪ್ರಕಾರ ಯಾವ ರೇಖಾಚಿತ್ರದ ಆಯಾಮವು ಸರಿಯಾಗಿದೆ?



- A) B
C) D
B) A
D) C

Answer: B) A

34. Identify the name of prism? | ಪ್ರಿಸ್ಮ್ ಹೆಸರನ್ನು ಗುರುತಿಸುವುದೇ?

- A) Rectangle prism | ಆಯತ ಪ್ರಿಸ್ಮ್
B) Triangular prism | ತ್ರಿಕೋನ ಪ್ರಿಸ್ಮ್
C) Square prism | ಚದರ ಪ್ರಿಸ್ಮ್
D) Hexagonal prism | ಷಡ್ಭುಜೀಯ ಪ್ರಿಸ್ಮ್

Answer: A) Rectangle prism | ಆಯತ ಪ್ರಿಸ್ಮ್

35. Identify the name of set square? | ಸೆಟ್ ಚೌಕದ ಹೆಸರನ್ನು ಗುರುತಿಸುವುದೇ?



- A) 30° set square | 30° ಸೆಟ್ ಸ್ಕ್ವೇರ್
B) 60° set square | 60° ಸೆಟ್ ಸ್ಕ್ವೇರ್
C) 15° set square | 15° ಸೆಟ್ ಸ್ಕ್ವೇರ್
D) 45° set square | 45° ಸೆಟ್ ಸ್ಕ್ವೇರ್

Answer: D) 45° set square | 45° ಸೆಟ್ ಸ್ಕ್ವೇರ್