

# ITI Quiz - 15-Apr-2026

## 08:43 AM

Q. ID: ITISKILL73854C

February 2026

Question Paper

Duration: 30 Mins

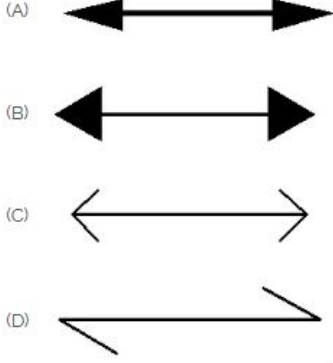
Total Marks: 26

ID: ITISKILL73854C

Student Name: \_\_\_\_\_

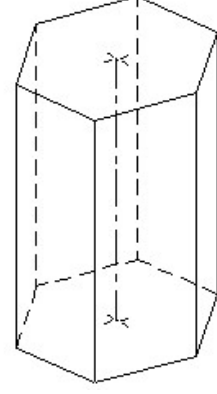
Roll No: \_\_\_\_\_

1. Which arrow head is correct as per standard? | ಮಾನದಂಡದ ಪ್ರಕಾರ ಯಾವ ಬಾಣದ ಹೆಡ್ ಸರಿಯಾಗಿದೆ?



A) B  
C) C

B) A  
D) D



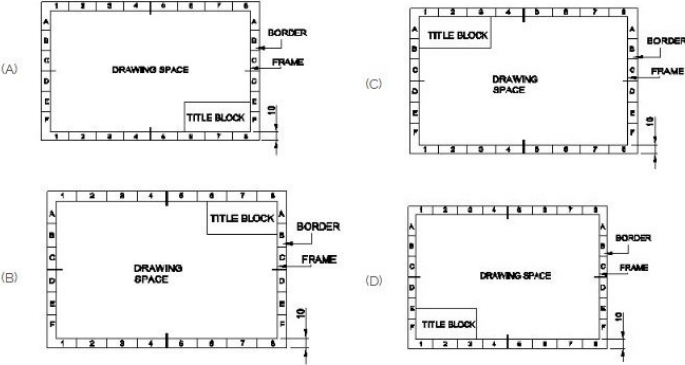
A) Pentagonal prism | ಪಂಟಾಗೋನಲ್ ಪ್ರಿಸ್ಮ್

B) Triangular prism | ತ್ರಿಕೋನ ಪ್ರಿಸ್ಮ್

C) Square prism | ಚದರ ಪ್ರಿಸ್ಮ್

D) Hexagonal prism | ಷಡ್ಭುಜೀಯ ಪ್ರಿಸ್ಮ್

2. Which title block position is correct as standard practice? | ಪ್ರಮಾಣಿತ ಅಭ್ಯಾಸದಂತೆ ಯಾವ ಶೀರ್ಷಿಕೆ ಬ್ಲಾಕ್ ಸ್ಥಾನವು ಸರಿಯಾಗಿದೆ?




A) C  
C) A

B) D  
D) B

3. Identify the name of prism? | ಪ್ರಿಸ್ಮ್ ಹೆಸರನ್ನು ಗುರುತಿಸುವುದೇ?

4. Identify the conventional symbol of material? | ವಸ್ತುವಿನ ಕನ್ವೆಷನಲ್ ಚಿಹ್ನೆಯನ್ನು ಗುರುತಿಸಿ?



A) Wood | ಮರ  
C) Glass | ಗಾಜು

B) Steel | ಸ್ಟೀಲ್  
D) Concrete | ಕಾಂಕ್ರೀಟ್

5. Compass used to draw for \_\_\_\_. | ಕಂಪಾಸ್ ಅನ್ನು \_\_\_\_ ಗೆ ಸೆಳೆಯಲು ಬಳಸಲಾಗುತ್ತದೆ.

A) triangle | ತ್ರಿಕೋನ  
C) square | ಚದರ

B) rectangle | ಆಯಾತ  
D) circle | ವೃತ್ತ

6. Identify the name of set square? | ಸೆಟ್ ಚೌಕದ ಹೆಸರನ್ನು ಗುರುತಿಸುವುದೇ?

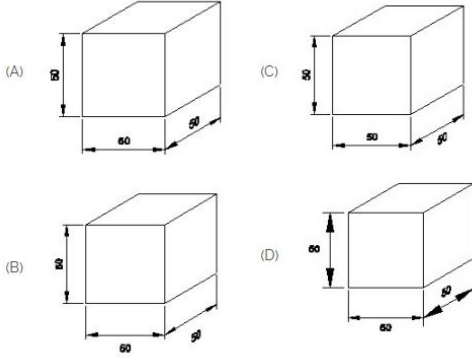


A) 30° set square | 30° ಸೆಟ್ ಸ್ಕೇರ್

B) 45° set square | 45° ಸೆಟ್ ಸ್ಕೇರ್

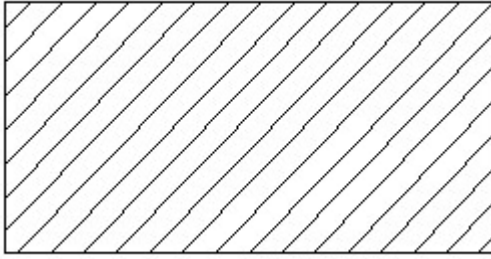
C) 15° set square | 15° ಸೆಟ್ ಸ್ಕ್ವೇರ್  
D) 60° set square | 60° ಸೆಟ್ ಸ್ಕ್ವೇರ್

7. Which drawing dimension is correct as per IS standard? | IS ಮಾನದಂಡದ ಪ್ರಕಾರ ಯಾವ ರೇಖಾಚಿತ್ರದ ಆಯಾಮವು ಸರಿಯಾಗಿದೆ?



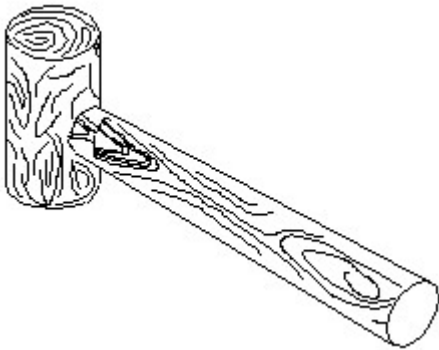
- A) B  
C) A  
B) C  
D) D

8. Identify the conventional symbol of material? | ವಸ್ತುವಿನ ಕನ್ವೆಷನಲ್ ಚಿಹ್ನೆಯನ್ನು ಗುರುತಿಸಿ?



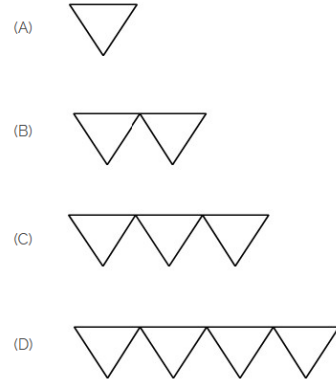
- A) Lead | ಲೀಡ್  
C) Glass | ಗಾಜು  
B) Steel | ಸ್ಟೀಲ್  
D) Porcelain | ಪಿಂಗಾಣಿ

9. Identify the name of tool? | ಉಪಕರಣದ ಹೆಸರನ್ನು ಗುರುತಿಸುವುದೇ?



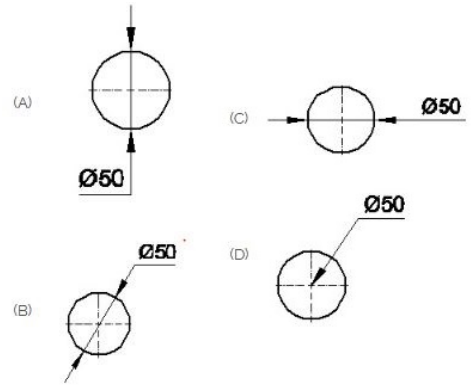
- A) Straight pein hammer | ಸ್ಟ್ರೇಟ್ ಪೆಯಿನ್ ಸುತ್ತಿಗೆ  
C) Ball pein hammer | ಬಾಲ್ ಪೆನ್ ಸುತ್ತಿಗೆ  
B) Mallet | ಮ್ಯಾಲೆಟ್  
D) Cross pein hammer | ಕ್ರಾಸ್ ಪೀನ್ ಸುತ್ತಿಗೆ

10. Which is roughness symbol for roughness grade N8?



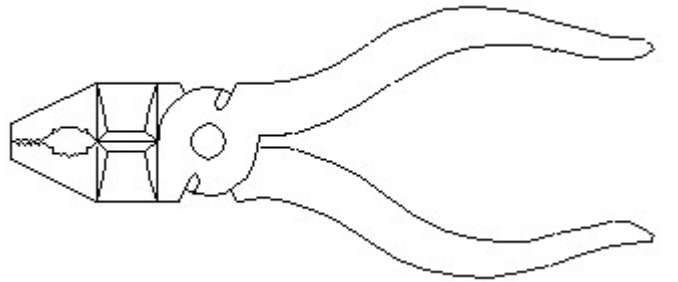
- A) B  
C) C  
B) D  
D) A

11. Which dimension correctly marked in the circle as per standard? | ಮಾನದಂಡದ ಪ್ರಕಾರ ವೃತ್ತದಲ್ಲಿ ಯಾವ ಆಯಾಮವನ್ನು ಸರಿಯಾಗಿ ಗುರುತಿಸಲಾಗಿದೆ?



- A) A  
C) C  
B) B  
D) D

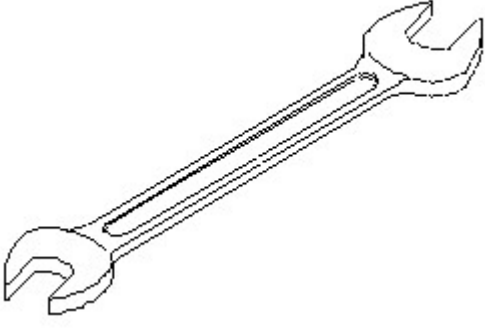
12. Identify the name of tool? | ಉಪಕರಣದ ಹೆಸರನ್ನು ಗುರುತಿಸುವುದೇ?



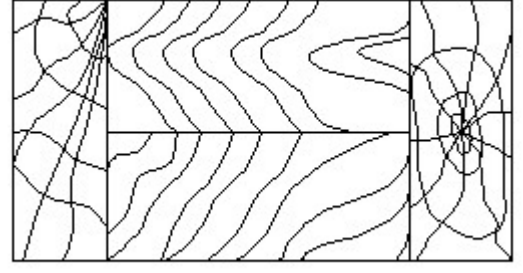
- A) Hawk-billed shear | ಹಾಕ್-ಬಿಲ್ಡ್ ಶಿಯರ್  
C) Aviation shear | ಏವಿಯೇಷನ್ ಶಿಯರ್  
B) Cutting plier | ಕಟಿಂಗ್ ಪ್ಲಿಯರ್  
D) Double cutting shear | ಡಬಲ್ ಕಟಿಂಗ್ ಶಿಯರ್

13. Identify the name of tool? | ಉಪಕರಣದ ಹೆಸರನ್ನು ಗುರುತಿಸುವುದೇ?

ಕನ್ನಡನಲ್ ಚಿಹ್ನೆಯನ್ನು ಗುರುತಿಸಿ?

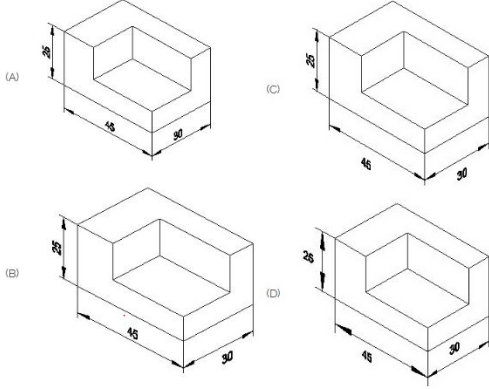


- A) Ring spanner | ರಿಂಗ್ ಸ್ಪ್ಯಾನರ್ B) Combination spanner | ಕಾಂಬಿನೇಶನ್ ಸ್ಪ್ಯಾನರ್  
C) Open end spanner | ಓಪನ್ ಎಂಡ್ ಸ್ಪ್ಯಾನರ್ D) Adjustable spanner | ಹೊಂದಿಸಬಹುದಾದ ಸ್ಪ್ಯಾನರ್



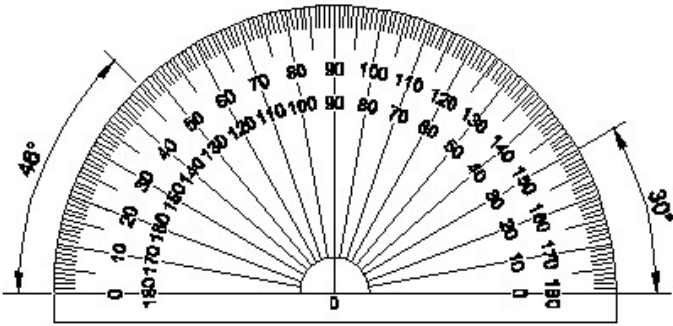
- A) Paper | ಪೇಪರ್ B) Lead | ಲೀಡ್  
C) Wood | ಮರ D) Glass | ಗಾಜು

14. Which drawing dimension is correct as per standard drawing practice? | ಸ್ಟಾಂಡರ್ಡ್ ಡ್ರಾಯಿಂಗ್ ಅಭ್ಯಾಸದ ಪ್ರಕಾರ ಯಾವ ಡ್ರಾಯಿಂಗ್ ಆಯಾಮ ಸರಿಯಾಗಿದೆ?



- A) B B) D  
C) C D) A

15. Identify the name of instrument? | ಉಪಕರಣದ ಹೆಸರನ್ನು ಗುರುತಿಸುವುದೇ?



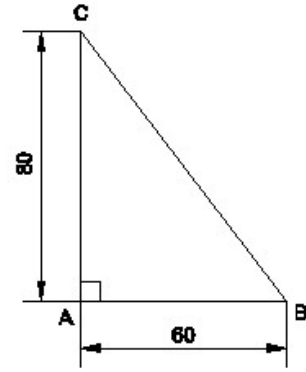
- A) Set square | ಸೆಟ್ ಸ್ಕ್ವೇರ್ B) Protractor | ಪ್ರೊಟ್ರಾಕ್ಟರ್  
C) T square | ಟಿ ಸ್ಕ್ವೇರ್ D) French curve | ಫ್ರೆಂಚ್ ಕರ್ವ್

16. What is the trimmed size of A4 sheet? | A4 ಹಾಳೆಯ ಟ್ರಿಮ್ ಮಾಡಿದ ಗಾತ್ರ ಎಷ್ಟು?

- A) 841 x 1189 B) 148 x 210  
C) 210 x 297 D) 594 x 841

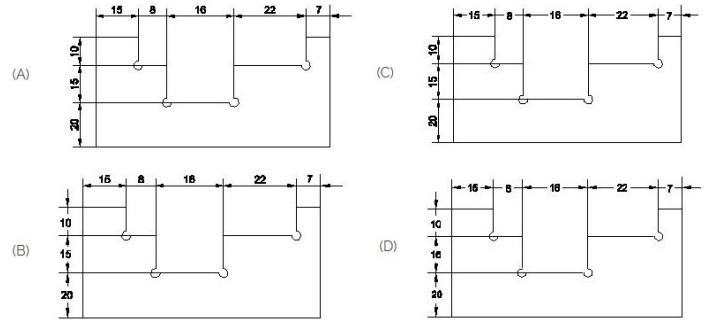
17. Identify the conventional symbol of material? | ವಸ್ತುವಿನ

18. Identify the name of the triangle? | ತ್ರಿಕೋನದ ಹೆಸರನ್ನು ಗುರುತಿಸುವುದೇ?



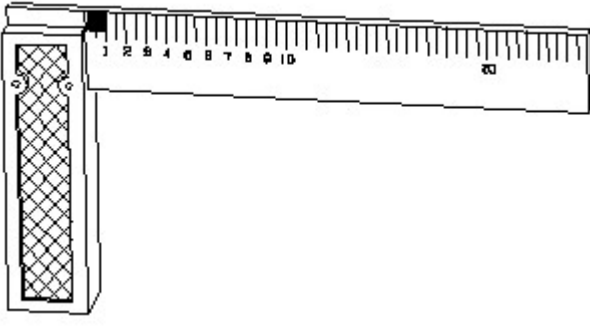
- A) Isosceles triangle | ಸಮದ್ವಿಭುಜ ತ್ರಿಭುಜ B) Right angle triangle | ಬಲ ಕೋನ ತ್ರಿಕೋನ  
C) Scalene triangle | ಸ್ಕೇಲಿನ್ ತ್ರಿಕೋನ D) Equilateral triangle | ಸಮಕೋನ ತ್ರಿಕೋನ

19. Identify the correct aligned system dimension? | ಸರಿಯಾದ ಜೋಡಿಸಲಾದ ಸಿಸ್ಟಮ್ ಆಯಾಮವನ್ನು ಗುರುತಿಸುವುದೇ?



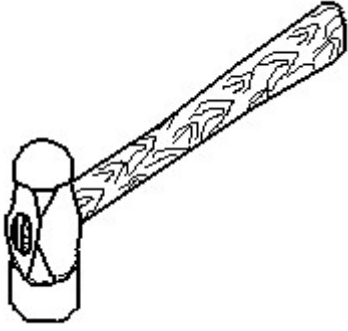
- A) A B) D  
C) C D) B

20. 1). Identify the name of tool? | ಉಪಕರಣದ ಹೆಸರನ್ನು ಗುರುತಿಸುವುದೇ?



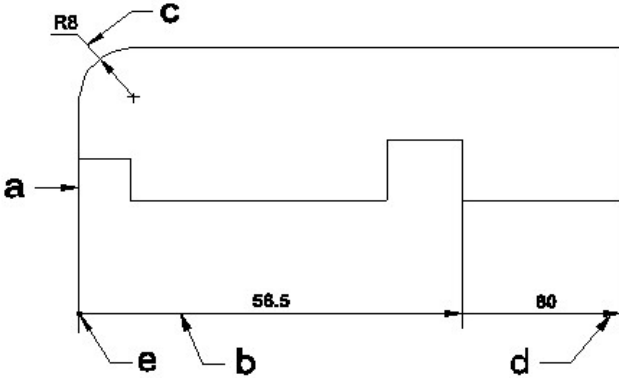
- A) Surface gauge | ಮೇಲ್ಮೈ ಮಾಪಕ  
 B) Try square | ಟ್ರೈ ಸ್ಕ್ವೇರ್  
 C) Feeler gauge | ಫೀಲರ್ ಗೇಜ್  
 D) Steel rule | ಸ್ಟೀಲ್ ರೂಲ್

21. Identify the name of tool? | ಉಪಕರಣದ ಹೆಸರನ್ನು ಗುರುತಿಸುವುದೇ?




- A) Straight peen hammer | ನೇರ ಪೆನ್ ಸುತ್ತಿಗೆ  
 B) Sledge hammer | ಸ್ಲೆಡ್ಜ್ ಸುತ್ತಿಗೆ  
 C) Ball peen hammer | ಬಾಲ್ ಪೆನ್ ಸುತ್ತಿಗೆ  
 D) Cross peen hammer | ಕ್ರಾಸ್ ಪೀನ್ ಸುತ್ತಿಗೆ

22. Identify the line a b c d e ? | ಸಾಲುನ್ನು ಗುರುತಿಸುವುದೇ?



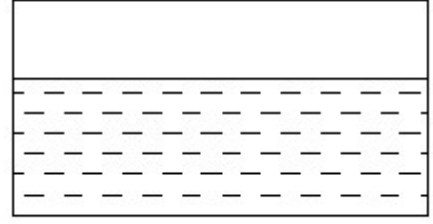
- A) Dimension line | ಡೈಮೆನ್ಷನ್ ಲೈನ್  
 B) Leader line | ಲೀಡರ್ ಲೈನ್  
 C) Extension line | ಎಕ್ಸ್ಟೆನ್ಷನ್ ಲೈನ್  
 D) Termination of dimension line | ಆಯಾಮ ರೇಖೆಯ ಮುಕ್ತಾಯ

23. Identify the conventional symbol of material? | ವಸ್ತುವಿನ ಕನ್ವೆಷನಲ್ ಚಿಹ್ನೆಯನ್ನು ಗುರುತಿಸಿ?



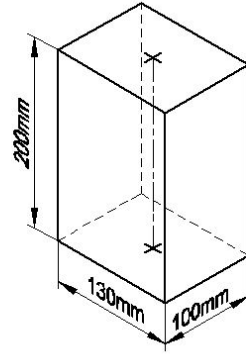
- A) Wood | ಮರ  
 B) Glass | ಗಾಜು  
 C) Concrete | ಕಾಂಕ್ರೀಟ್  
 D) Steel | ಸ್ಟೀಲ್

24. Identify the conventional symbol of material? | ವಸ್ತುವಿನ ಕನ್ವೆಷನಲ್ ಚಿಹ್ನೆಯನ್ನು ಗುರುತಿಸಿ?



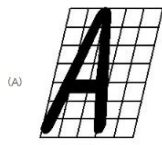
- A) Asbestos | ಅಸ್ಟೆಸಿಯೋಸ್  
 B) Glass | ಗಾಜು  
 C) Water | ನೀರು  
 D) Concrete | ಕಾಂಕ್ರೀಟ್

25. Identify the name of prism? | ಪ್ರಿಸ್ಮ್ ಹೆಸರನ್ನು ಗುರುತಿಸುವುದೇ?




- A) Rectangle prism | ಆಯತ ಪ್ರಿಸ್ಮ್  
 B) Hexagonal prism | ಷಡ್ಭುಜೀಯ ಪ್ರಿಸ್ಮ್  
 C) Square prism | ಚದರ ಪ್ರಿಸ್ಮ್  
 D) Triangular prism | ತ್ರಿಕೋನ ಪ್ರಿಸ್ಮ್

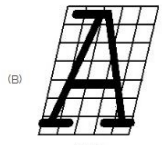
26. Which single stroke inclined letter A is correct as per IS standard? | IS ಮಾನದಂಡದ ಪ್ರಕಾರ ಯಾವ ಏಕ ಸ್ಟ್ರೋಕ್ ಇಳಿಜಾರಿನ ಅಕ್ಷರ A ಡರಿಯಾಗಿದೆ?



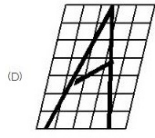
7:5



7:5



7:5



7:5

A) C

B) D

C) B

D) A

---