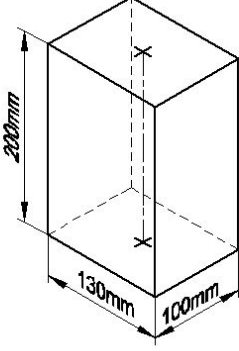


Duration: 30 Mins

Total Marks: 26

Q.ID: ITISKILL73854C


1. Identify the name of prism? | ಪ್ರಿಸ್ಮ್ ಹೆಸರನ್ನು ಗುರುತಿಸುವುದೇ?



- A) Square prism | ಚದರ ಪ್ರಿಸ್ಮ್  
B) Hexagonal prism | ಷಡ್ಭುಜೀಯ ಪ್ರಿಸ್ಮ್  
C) Triangular prism | ತ್ರಿಕೋನ ಪ್ರಿಸ್ಮ್  
D) Rectangle prism | ಆಯತ ಪ್ರಿಸ್ಮ್

Answer: D) Rectangle prism | ಆಯತ ಪ್ರಿಸ್ಮ್

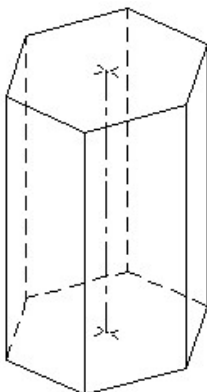
2. Identify the conventional symbol of material? | ವಸ್ತುವಿನ ಕನ್ವೆಷನಲ್ ಚಿಹ್ನೆಯನ್ನು ಗುರುತಿಸಿ?



- A) Concrete | ಕಾಂಕ್ರೀಟ್  
B) Glass | ಗಾಜು  
C) Steel | ಸ್ಟೀಲ್  
D) Wood | ಮರ

Answer: B) Glass | ಗಾಜು

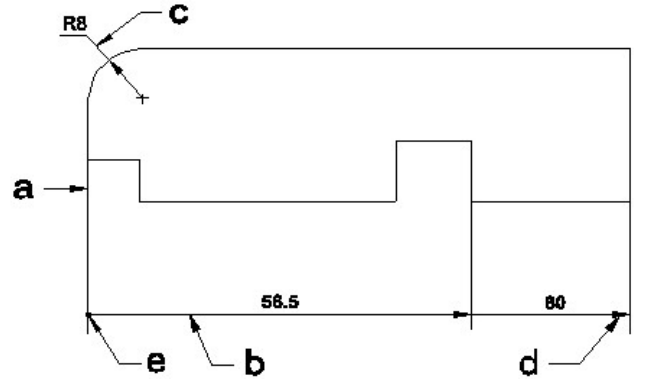
3. Identify the name of prism? | ಪ್ರಿಸ್ಮ್ ಹೆಸರನ್ನು ಗುರುತಿಸುವುದೇ?



- A) Hexagonal prism | ಷಡ್ಭುಜೀಯ ಪ್ರಿಸ್ಮ್  
B) Square prism | ಚದರ ಪ್ರಿಸ್ಮ್  
C) Triangular prism | ತ್ರಿಕೋನ ಪ್ರಿಸ್ಮ್  
D) Pentagonal prism | ಪೆಂಟಗೋನಲ್ ಪ್ರಿಸ್ಮ್

Answer: A) Hexagonal prism | ಷಡ್ಭುಜೀಯ ಪ್ರಿಸ್ಮ್

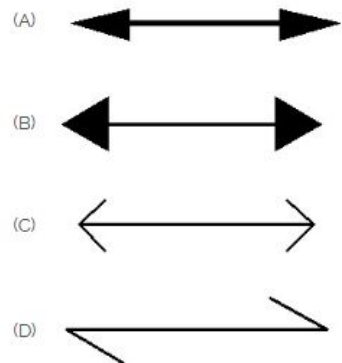
4. Identify the line a b c d e ? | ರೇಖೆಯನ್ನು ಗುರುತಿಸುವುದೇ?



- A) Extension line | ಎಕ್ಸ್ಟೆನ್ಷನ್ ಲೈನ್  
B) Leader line | ಲೀಡರ್ ಲೈನ್  
C) Termination of dimension line | ಆಯಾಮ ರೇಖೆಯ ಮುಕ್ತಾಯ  
D) Dimension line | ಡೈಮೆನ್ಷನ್ ಲೈನ್

Answer: D) Dimension line | ಡೈಮೆನ್ಷನ್ ಲೈನ್

5. Which arrow head is correct as per standard? | ಮಾನದಂಡದ ಪ್ರಕಾರ ಯಾವ ಬಾಣದ ಹೆಡ್ ಸರಿಯಾಗಿದೆ?

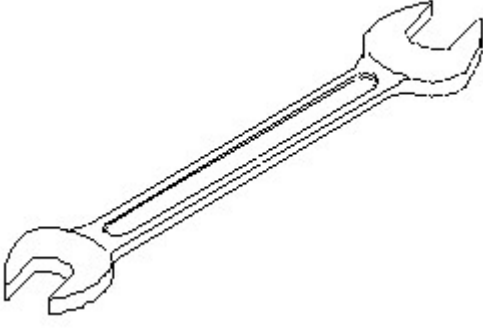


- A) D  
B) A  
C) C  
D) B

Answer: B) A

6. Identify the name of tool? | ಉಪಕರಣದ ಹೆಸರನ್ನು ಗುರುತಿಸುವುದೇ?

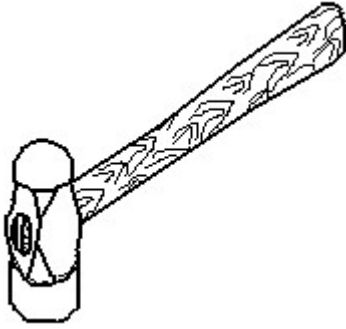
ಗುರುತಿಸುವುದೇ?



- A) Adjustable spanner | ಹೊಂದಿಸಬಹುದಾದ ಸ್ಪ್ಯಾನರ್  
 B) Combination spanner | ಕಾಂಬಿನೇಶನ್ ಸ್ಪ್ಯಾನರ್  
 C) Open end spanner | ಓಪನ್ ಎಂಡ್ ಸ್ಪ್ಯಾನರ್  
 D) Ring spanner | ರಿಂಗ್ ಸ್ಪ್ಯಾನರ್

Answer: C) Open end spanner | ಓಪನ್ ಎಂಡ್ ಸ್ಪ್ಯಾನರ್

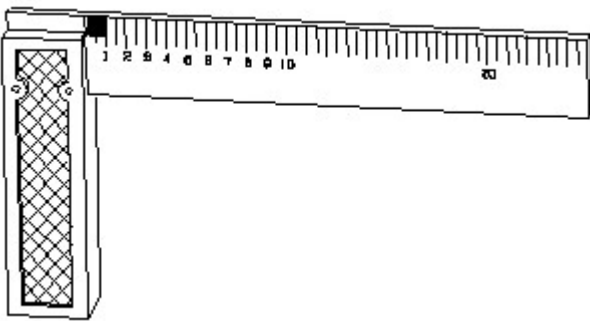
7. Identify the name of tool? | ಉಪಕರಣದ ಹೆಸರನ್ನು ಗುರುತಿಸುವುದೇ?



- A) Straight peen hammer | ನೇರ ಪೆನ್ ಸುತ್ತಿಗೆ  
 B) Sledge hammer | ಸ್ಲೆಡ್ಜ್ ಸುತ್ತಿಗೆ  
 C) Ball peen hammer | ಬಾಲ್ ಪೆನ್ ಸುತ್ತಿಗೆ  
 D) Cross peen hammer | ಕ್ರಾಸ್ ಪೀನ್ ಸುತ್ತಿಗೆ

Answer: C) Ball peen hammer | ಬಾಲ್ ಪೆನ್ ಸುತ್ತಿಗೆ

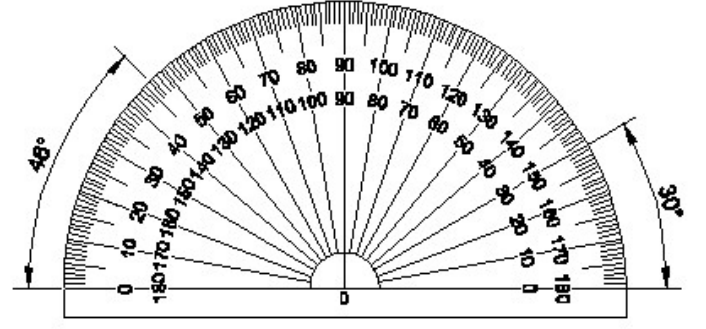
8. 1). Identify the name of tool? | ಉಪಕರಣದ ಹೆಸರನ್ನು ಗುರುತಿಸುವುದೇ?



- A) Try square | ಟ್ರೈ ಸ್ಕ್ವೇರ್  
 B) Steel rule | ಸ್ಟೀಲ್ ರೂಲ್  
 C) Surface gauge | ಮೇಲ್ಮೈ ಮಾಪಕ  
 D) Feeler gauge | ಫೀಲರ್ ಗೇಜ್

Answer: A) Try square | ಟ್ರೈ ಸ್ಕ್ವೇರ್

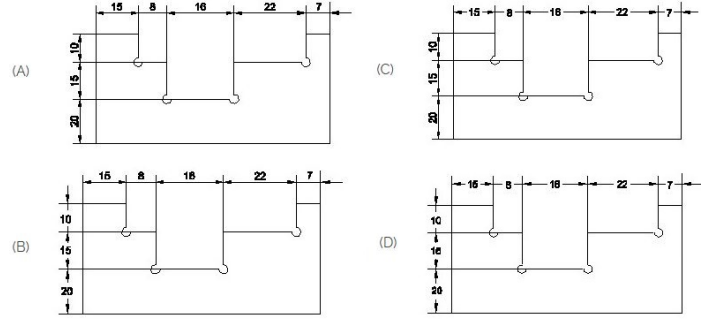
9. Identify the name of instrument? | ಉಪಕರಣದ ಹೆಸರನ್ನು



- A) T square | ಟಿ ಸ್ಕ್ವೇರ್  
 B) French curve | ಫ್ರೆಂಚ್ ಕರ್ವ್  
 C) Protractor | ಪ್ರೊಟ್ರಾಕ್ಟರ್  
 D) Set square | ಸೆಟ್ ಸ್ಕ್ವೇರ್

Answer: C) Protractor | ಪ್ರೊಟ್ರಾಕ್ಟರ್

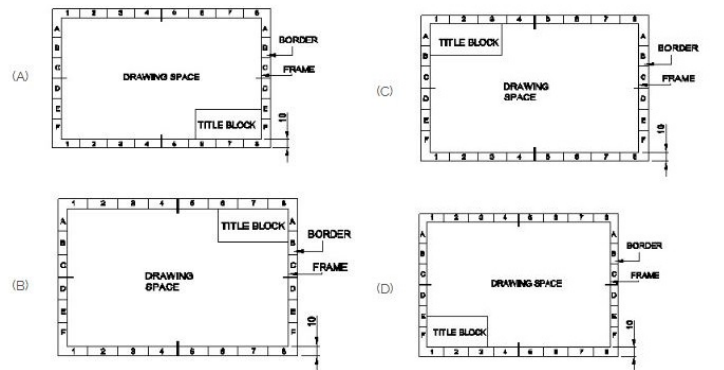
10. Identify the correct aligned system dimension? | ಸರಿಯಾದ ಜೋಡಿಸಲಾದ ಸಿಸ್ಟಮ್ ಆಯಾಮವನ್ನು ಗುರುತಿಸುವುದೇ?



- A) A  
 B) D  
 C) B  
 D) C

Answer: A) A

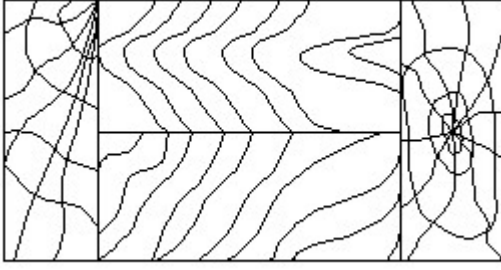
11. Which title block position is correct as standard practice? | ಪ್ರಮಾಣಿತ ಅಭ್ಯಾಸದಂತೆ ಯಾವ ಶೀರ್ಷಿಕೆ ಬಾಕ್ಸ್ ಸ್ಥಾನವು ಸರಿಯಾಗಿದೆ?



- A) A  
 B) C  
 C) D  
 D) B

Answer: A) A

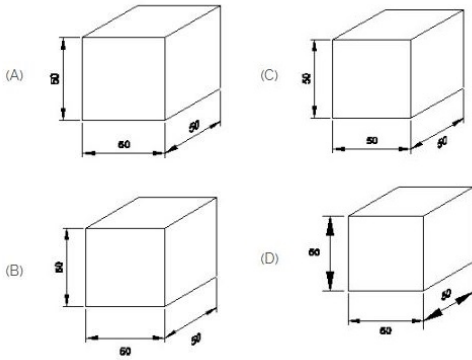
12. Identify the conventional symbol of material? | ವಸ್ತುವಿನ ಕನ್ವೆಷನಲ್ ಚಿಹ್ನೆಯನ್ನು ಗುರುತಿಸಿ?



- A) Lead | ಲೀಡ್                      B) Paper | ಪೇಪರ್  
C) Glass | ಗಾಜು                      D) Wood | ಮರ

**Answer: D) Wood | ಮರ**

**13. Which drawing dimension is correct as per IS standard? | IS ಮಾನದಂಡದ ಪ್ರಕಾರ ಯಾವ ರೇಖಾಚಿತ್ರದ ಆಯಾಮವು ಸರಿಯಾಗಿದೆ?**



- A) B                                      B) A  
C) D                                      D) C

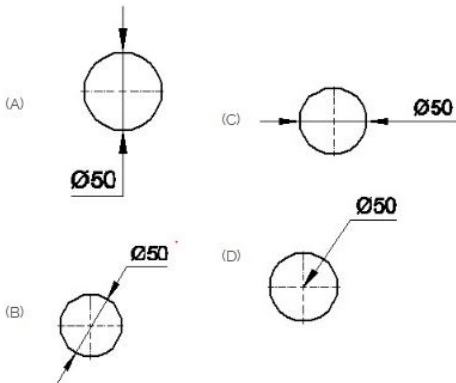
**Answer: B) A**

**14. Compass used to draw for \_\_\_\_. | ಕಂಪಾಸ್ ಅನ್ನು \_\_\_\_ ಗೆ ಸೆಳೆಯಲು ಬಳಸಲಾಗುತ್ತದೆ.**

- A) circle | ವೃತ್ತ                      B) rectangle | ಆಯಾತ  
C) square | ಚದರ                      D) triangle | ತ್ರಿಕೋನ

**Answer: A) circle | ವೃತ್ತ**

**15. Which dimension correctly marked in the circle as per standard? | ಮಾನದಂಡದ ಪ್ರಕಾರ ವೃತ್ತದಲ್ಲಿ ಯಾವ ಆಯಾಮವನ್ನು ಸರಿಯಾಗಿ ಗುರುತಿಸಲಾಗಿದೆ?**

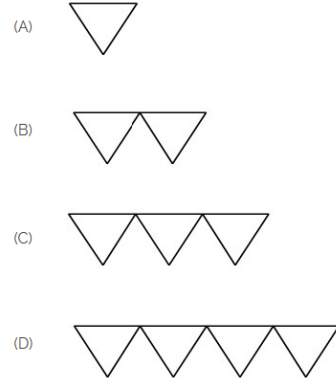


- A) C                                      B) A

- C) B                                      D) D

**Answer: C) B**

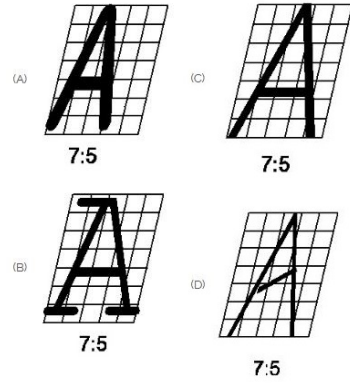
**16. Which is roughness symbol for roughness grade N8?**



- A) D                                      B) B  
C) C                                      D) A

**Answer: B) B**

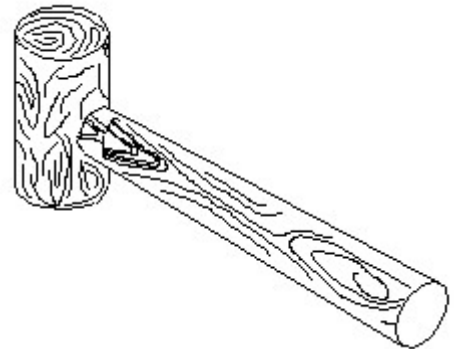
**17. Which single stroke inclined letter A is correct as per IS standard? | IS ಮಾನದಂಡದ ಪ್ರಕಾರ ಯಾವ ಏಕ ಸ್ವಲ್ಪ ಇಳಿಜಾರಿನ ಅಕ್ಷರ A ಸರಿಯಾಗಿದೆ?**



- A) D                                      B) A  
C) C                                      D) B

**Answer: C) C**

**18. Identify the name of tool? | ಉಪಕರಣದ ಹೆಸರನ್ನು ಗುರುತಿಸುವುದೇ?**

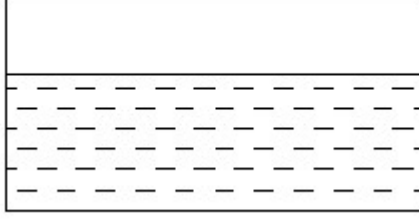


- A) Straight peen hammer | ಸ್ವೈಟ್ ಪೆನಿನ್ ಸುತ್ತಿಗೆ                      B) Ball peen hammer | ಬಾಲ್ ಪೆನ್ ಸುತ್ತಿಗೆ

C) Cross pein hammer | ಕ್ರಾಸ್ ಪೀನ್ ಸುತ್ತಿಗೆ  
D) Mallet | ಮ್ಯಾಲೆಟ್

Answer: D) Mallet | ಮ್ಯಾಲೆಟ್

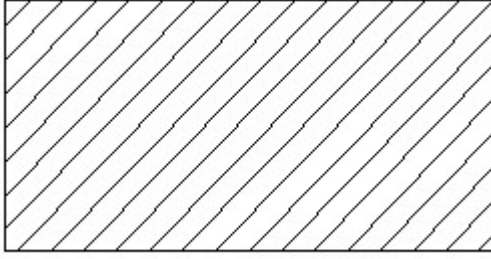
19. Identify the conventional symbol of material? | ವಸ್ತುವಿನ ಕನ್ವೆಷನಲ್ ಚಿಹ್ನೆಯನ್ನು ಗುರುತಿಸಿ?



A) Water | ನೀರು  
B) Concrete | ಕಾಂಕ್ರೀಟ್  
C) Asbestos | ಆಸ್ಟೆಸ್ಟೋಸ್  
D) Glass | ಗಾಜು

Answer: A) Water | ನೀರು

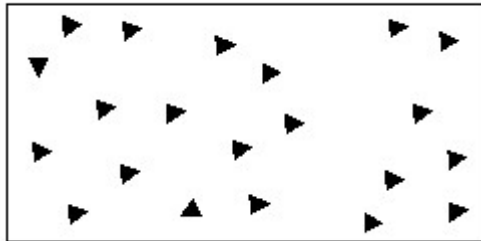
20. Identify the conventional symbol of material? | ವಸ್ತುವಿನ ಕನ್ವೆಷನಲ್ ಚಿಹ್ನೆಯನ್ನು ಗುರುತಿಸಿ?



A) Steel | ಸ್ಟೀಲ್  
B) Lead | ಲೀಡ್  
C) Porcelain | ಪಿಂಗಾಣಿ  
D) Glass | ಗಾಜು

Answer: A) Steel | ಸ್ಟೀಲ್

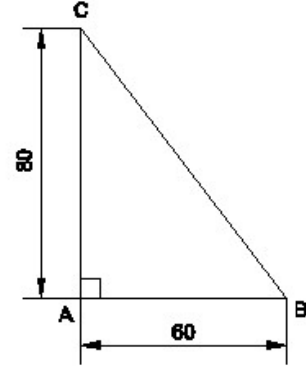
21. Identify the conventional symbol of material? | ವಸ್ತುವಿನ ಕನ್ವೆಷನಲ್ ಚಿಹ್ನೆಯನ್ನು ಗುರುತಿಸಿ?



A) Concrete | ಕಾಂಕ್ರೀಟ್  
B) Glass | ಗಾಜು  
C) Steel | ಸ್ಟೀಲ್  
D) Wood | ಮರ

Answer: A) Concrete | ಕಾಂಕ್ರೀಟ್

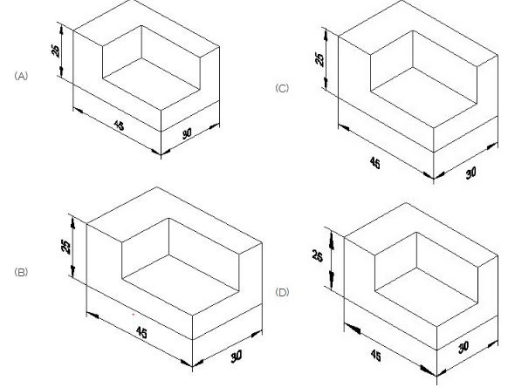
22. Identify the name of the triangle? | ತ್ರಿಕೋನದ ಹೆಸರನ್ನು ಗುರುತಿಸುವುದೇ?



A) Scalene triangle | ಸ್ಕೇಲಿನ್ ತ್ರಿಕೋನ  
B) Right angle triangle | ಬಲ ಕೋನ ತ್ರಿಕೋನ  
C) Isosceles triangle | ಸಮದ್ವಿಬಾಹು ತ್ರಿಭುಜ  
D) Equilateral triangle | ಸಮಕೋನ ತ್ರಿಕೋನ

Answer: B) Right angle triangle | ಬಲ ಕೋನ ತ್ರಿಕೋನ

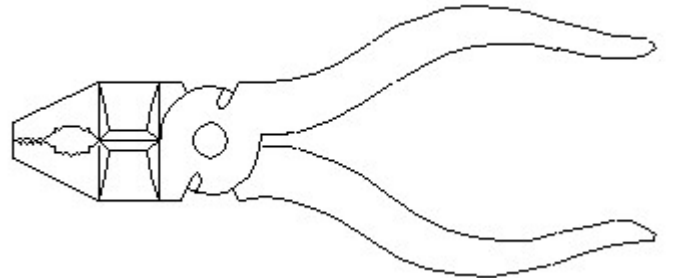
23. Which drawing dimension is correct as per standard drawing practice? | ಸ್ಟ್ಯಾಂಡರ್ಡ್ ಡ್ರಾಯಿಂಗ್ ಅಭ್ಯಾಸದ ಪ್ರಕಾರ ಯಾವ ಡ್ರಾಯಿಂಗ್ ಆಯಾಮ ಸರಿಯಾಗಿದೆ?



A) C  
B) D  
C) A  
D) B

Answer: C) A

24. Identify the name of tool? | ಉಪಕರಣದ ಹೆಸರನ್ನು ಗುರುತಿಸುವುದೇ?



A) Double cutting shear | ಡಬಲ್ ಕಟಿಂಗ್ ಸಿಯರ್  
B) Aviation shear | ಏವಿಯೇಷನ್ ಸಿಯರ್  
C) Cutting plier | ಕಟಿಂಗ್ ಪ್ಲಿಯರ್  
D) Hawk-billed shear | ಹಾಕ್-ಬಿಲ್ಡ್ ಸಿಯರ್

Answer: C) Cutting plier | ಕಟಿಂಗ್ ಪ್ಲಿಯರ್

25. Identify the name of set square? | ಸೆಟ್ ಚೌಕದ ಹೆಸರನ್ನು ಗುರುತಿಸುವುದೇ?



- A) 45° set square | 45° ಸೆಟ್ ಸ್ಕ್ವೇರ್      B) 30° set square | 30° ಸೆಟ್ ಸ್ಕ್ವೇರ್  
C) 60° set square | 60° ಸೆಟ್ ಸ್ಕ್ವೇರ್      D) 15° set square | 15° ಸೆಟ್ ಸ್ಕ್ವೇರ್

**Answer: A) 45° set square | 45° ಸೆಟ್ ಸ್ಕ್ವೇರ್**

**26. What is the trimmed size of A4 sheet? | A4 ಹಾಳೆಯ ಟ್ರಿಮ್ ಮಾಡಿದ ಗಾತ್ರ ಎಷ್ಟು?**

- A) 594 x 841      B) 148 x 210  
C) 210 x 297      D) 841 x 1189

**Answer: C) 210 x 297**