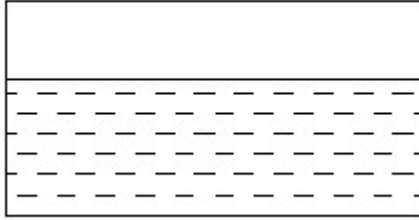


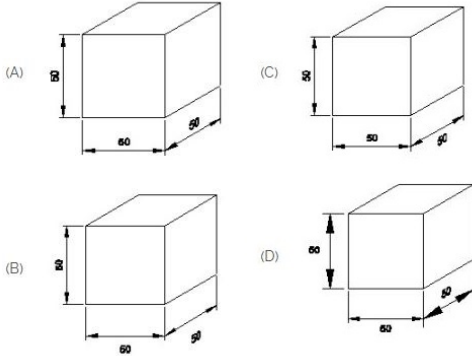
Student Name: _____ Roll No: _____

1. Identify the conventional symbol of material? | ವಸ್ತುವಿನ ಕನ್ವೆಷನಲ್ ಚಿಹ್ನೆಯನ್ನು ಗುರುತಿಸಿ?



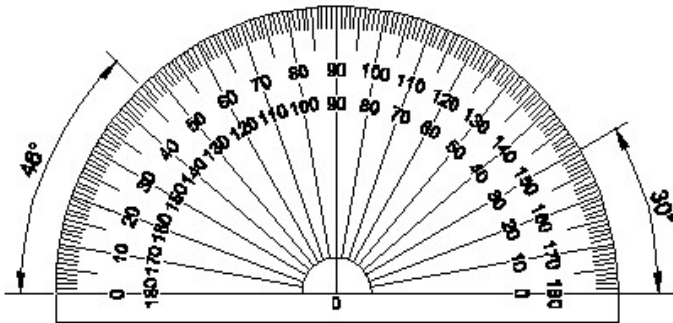
- A) Asbestos | ಆಸ್ಬೆಸ್ಟೋಸ್ B) Concrete | ಕಾಂಕ್ರೀಟ್
C) Water | ನೀರು D) Glass | ಗಾಜು

2. Which drawing dimension is correct as per IS standard? | IS ಮಾನದಂಡದ ಪ್ರಕಾರ ಯಾವ ರೇಖಾಚಿತ್ರದ ಆಯಾಮವು ಸರಿಯಾಗಿದೆ?



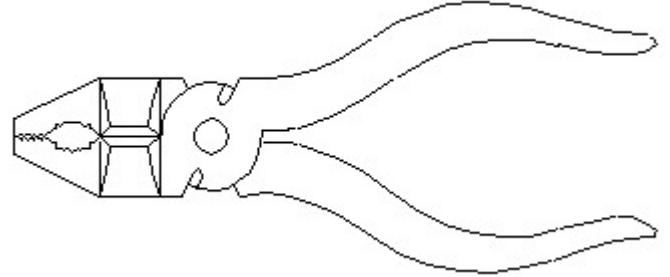
- A) B B) A
C) D D) C

3. Identify the name of instrument? | ಉಪಕರಣದ ಹೆಸರನ್ನು ಗುರುತಿಸುವುದೇ?



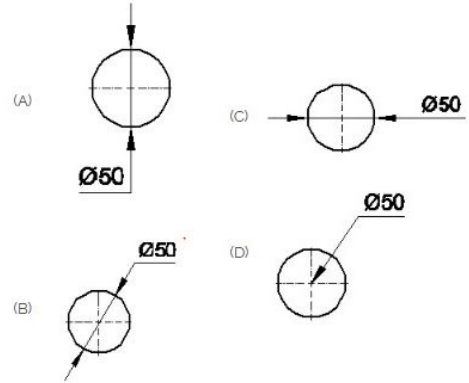
- A) French curve | ಫ್ರೆಂಚ್ ಕರ್ವ್ B) Protractor | ಪ್ರೊಟ್ರಾಕ್ಟರ್
C) T square | ಟ್ ಸ್ಕ್ವೇರ್ D) Set square | ಸೆಟ್ ಸ್ಕ್ವೇರ್

4. Identify the name of tool? | ಉಪಕರಣದ ಹೆಸರನ್ನು ಗುರುತಿಸುವುದೇ?



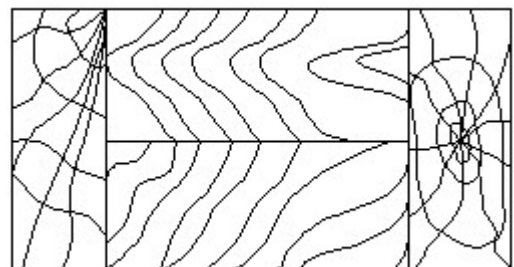
- A) Double cutting shear | ಡಬಲ್ ಕಟಿಂಗ್ ಶಿಯರ್ B) Aviation shear | ಏವಿಯೇಷನ್ ಶಿಯರ್
C) Cutting plier | ಕಟಿಂಗ್ ಪ್ಲಿಯರ್ D) Hawk-billed shear | ಹಾಕ್-ಬಿಲ್ಡ್ ಶಿಯರ್

5. Which dimension correctly marked in the circle as per standard? | ಮಾನದಂಡದ ಪ್ರಕಾರ ವೃತ್ತದಲ್ಲಿ ಯಾವ ಆಯಾಮವನ್ನು ಸರಿಯಾಗಿ ಗುರುತಿಸಲಾಗಿದೆ?



- A) B B) D
C) A D) C

6. Identify the conventional symbol of material? | ವಸ್ತುವಿನ ಕನ್ವೆಷನಲ್ ಚಿಹ್ನೆಯನ್ನು ಗುರುತಿಸಿ?



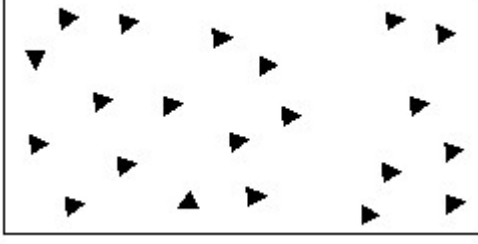
A) Wood | ಮರ

B) Glass | ಗಾಜು

C) Lead | ಲೀಡ್

D) Paper | ಪೇಪರ್

7. Identify the conventional symbol of material? | ವಸ್ತುವಿನ ಕನ್ವೆಷನಲ್ ಚಿಹ್ನೆಯನ್ನು ಗುರುತಿಸಿ?



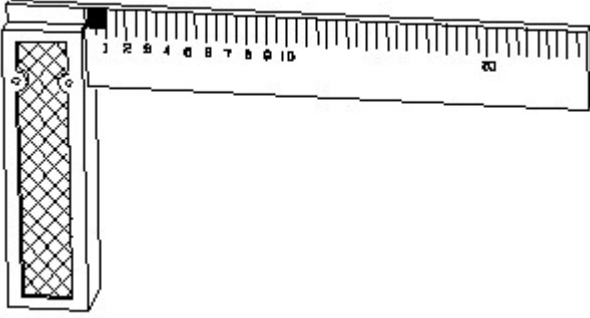
A) Concrete | ಕಾಂಕ್ರೀಟ್

B) Wood | ಮರ

C) Steel | ಸ್ಟೀಲ್

D) Glass | ಗಾಜು

8. 1). Identify the name of tool? | ಉಪಕರಣದ ಹೆಸರನ್ನು ಗುರುತಿಸುವುದೇ?



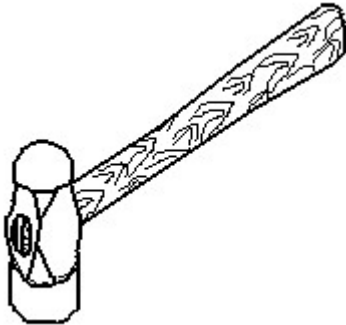
A) Feeler gauge | ಫೀಲರ್ ಗೇಜ್

B) Surface gauge | ಮೇಲ್ಮೈ ಮಾಪಕ

C) Steel rule | ಸ್ಟೀಲ್ ರೂಲ್

D) Try square | ಟ್ರೈ ಸ್ಕ್ವೇರ್

9. Identify the name of tool? | ಉಪಕರಣದ ಹೆಸರನ್ನು ಗುರುತಿಸುವುದೇ?



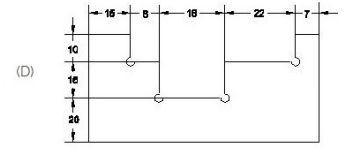
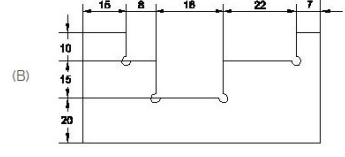
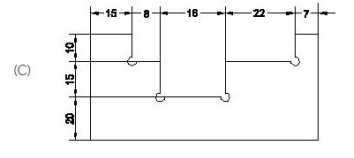
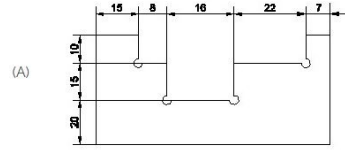
A) Straight pein hammer | ನೇರ ಪೆನ್ ಸುತ್ತಿಗೆ

B) Sledge hammer | ಸ್ಲೆಡ್ಜ್ ಸುತ್ತಿಗೆ

C) Ball pein hammer | ಬಾಲ್ ಪೆನ್ ಸುತ್ತಿಗೆ

D) Cross pein hammer | ಕ್ರಾಸ್ ಪೆನ್ ಸುತ್ತಿಗೆ

10. Identify the correct aligned system dimension? | ಸರಿಯಾದ ಜೋಡಿಸಲಾದ ಸಿಸ್ಟಮ್ ಆಯಾಮವನ್ನು ಗುರುತಿಸುವುದೇ?



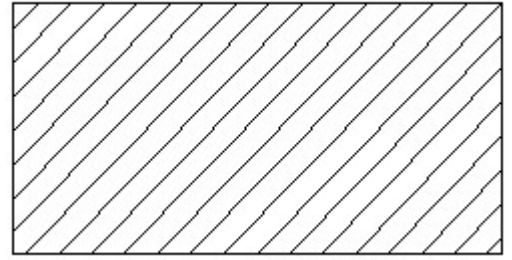
A) C

B) A

C) D

D) B

11. Identify the conventional symbol of material? | ವಸ್ತುವಿನ ಕನ್ವೆಷನಲ್ ಚಿಹ್ನೆಯನ್ನು ಗುರುತಿಸಿ?



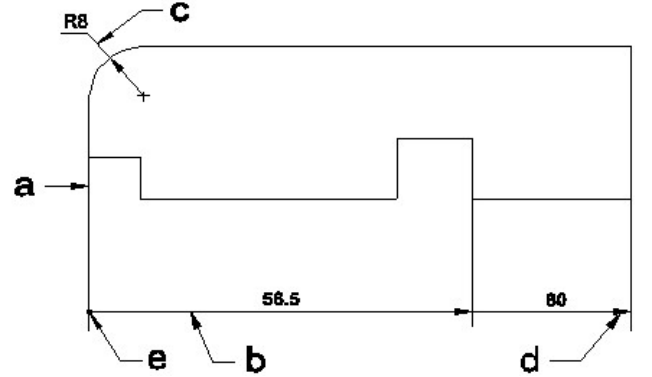
A) Porcelain | ಪಿಂಗಾಣಿ

B) Steel | ಸ್ಟೀಲ್

C) Lead | ಲೀಡ್

D) Glass | ಗಾಜು

12. Identify the line a b c d e ? | ಸಾಲಿನನ್ನು ಗುರುತಿಸುವುದೇ?



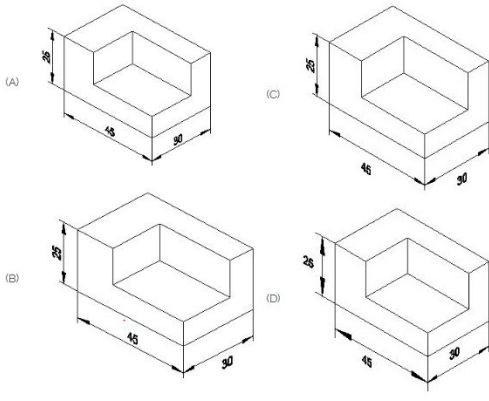
A) Leader line | ಲೀಡರ್ ಲೈನ್

B) Dimension line | ಡೈಮೆನ್ಷನ್ ಲೈನ್

C) Extension line | ಎಕ್ಸ್ಟೆನ್ಷನ್ ಲೈನ್

D) Termination of dimension line | ಆಯಾಮ ರೇಖೆಯ ಮುಕ್ತಾಯ

13. Which drawing dimension is correct as per standard drawing practice? | ಸ್ಟಾಂಡರ್ಡ್ ಡ್ರಾಯಿಂಗ್ ಅಭ್ಯಾಸದ ಪ್ರಕಾರ ಯಾವ ಡ್ರಾಯಿಂಗ್ ಆಯಾಮ ಸರಿಯಾಗಿದೆ?

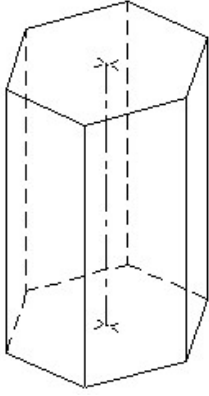


- A) D
C) B
- B) A
D) C

14. Compass used to draw for ____. | ಕಂಪಾಸ್ ಅನ್ನು ____ ಗೆ ಸೆಳೆಯಲು ಬಳಸಲಾಗುತ್ತದೆ.

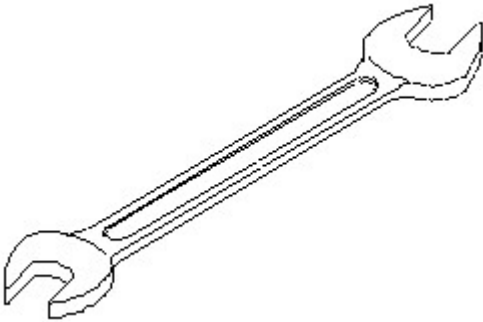
- A) circle | ವೃತ್ತ
C) rectangle | ಆಯಾತ
- B) triangle | ತ್ರಿಕೋನ
D) square | ಚದರ

15. Identify the name of prism? | ಪ್ರಿಸ್ಮ್ ಹೆಸರನ್ನು ಗುರುತಿಸುವುದೇ?



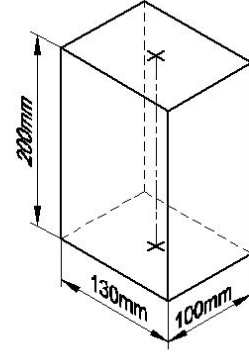
- A) Pentagonal prism | ಪೆಂಟಾಗೋನಲ್ ಪ್ರಿಸ್ಮ್
C) Triangular prism | ತ್ರಿಕೋನ ಪ್ರಿಸ್ಮ್
- B) Hexagonal prism | ಷಡ್ಭುಜೀಯ ಪ್ರಿಸ್ಮ್
D) Square prism | ಚದರ ಪ್ರಿಸ್ಮ್

16. Identify the name of tool? | ಉಪಕರಣದ ಹೆಸರನ್ನು ಗುರುತಿಸುವುದೇ?



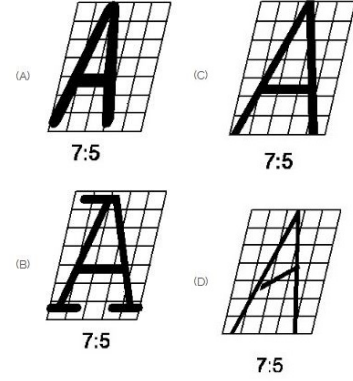
- A) Adjustable spanner | ಹೊಂದಿಸಬಹುದಾದ ಸ್ಪ್ಯಾನರ್
C) Combination spanner | ಕಾಂಬಿನೇಷನ್ ಸ್ಪ್ಯಾನರ್
- B) Open end spanner | ಓಪನ್ ಎಂಡ್ ಸ್ಪ್ಯಾನರ್
D) Ring spanner | ರಿಂಗ್ ಸ್ಪ್ಯಾನರ್

17. Identify the name of prism? | ಪ್ರಿಸ್ಮ್ ಹೆಸರನ್ನು ಗುರುತಿಸುವುದೇ?



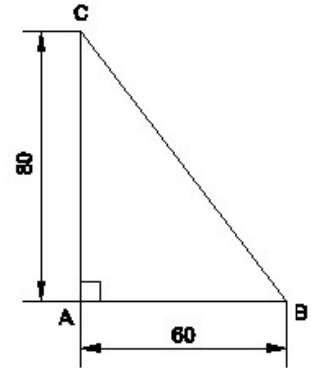
- A) Hexagonal prism | ಷಡ್ಭುಜೀಯ ಪ್ರಿಸ್ಮ್
C) Rectangle prism | ಆಯಾತ ಪ್ರಿಸ್ಮ್
- B) Square prism | ಚದರ ಪ್ರಿಸ್ಮ್
D) Triangular prism | ತ್ರಿಕೋನ ಪ್ರಿಸ್ಮ್

18. Which single stroke inclined letter A is correct as per IS standard? | IS ಮಾನದಂಡದ ಪ್ರಕಾರ ಯಾವ ಏಕ ಸ್ಟ್ರೋಕ್ ಇಳಿಜಾರಿನ ಅಕ್ಷರ A ಠರಿಯಾಗಿದೆ?



- A) B
C) A
- B) C
D) D

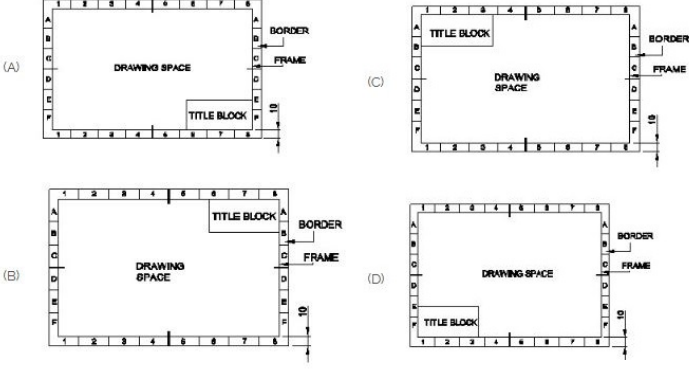
19. Identify the name of the triangle? | ತ್ರಿಕೋನದ ಹೆಸರನ್ನು ಗುರುತಿಸುವುದೇ?



- A) Right angle triangle | ಬಲ ಕೋನ ತ್ರಿಕೋನ
C) Equilateral triangle | ಸಮಕೋನ ತ್ರಿಕೋನ
- B) Isosceles triangle | ಸಮದ್ವಿಭಾಹು ತ್ರಿಕೋನ
D) Scalene triangle | ಸ್ಕೇಲಿನ್ ತ್ರಿಕೋನ


20. Which title block position is correct as standard practice?

ಪ್ರಮಾಣಿತ ಅಭ್ಯಾಸದಂತೆ ಯಾವ ಶೀರ್ಷಿಕೆ ಬಾಕ್ಸ್ ಸ್ಥಾನವು ಸರಿಯಾಗಿದೆ?



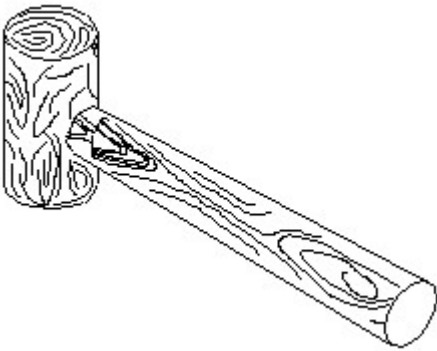
- A) D
B) C
C) B
D) A

21. Identify the conventional symbol of material? | ವಸ್ತುವಿನ ಕನ್ವೆಷನಲ್ ಚಿಹ್ನೆಯನ್ನು ಗುರುತಿಸಿ?



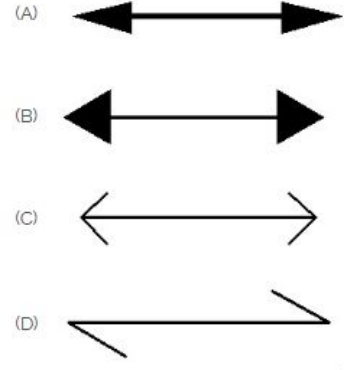
- A) Glass | ಗಾಜು
B) Concrete | ಕಾಂಕ್ರೀಟ್
C) Steel | ಸ್ಟೀಲ್
D) Wood | ಮರ

22. Identify the name of tool? | ಉಪಕರಣದ ಹೆಸರನ್ನು ಗುರುತಿಸುವುದೇ?



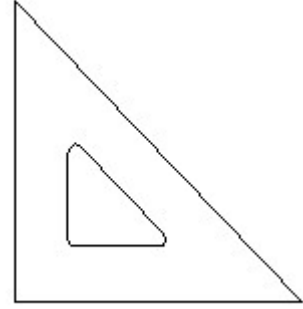
- A) Straight pein hammer | ಸ್ಟ್ರೇಟ್ ಪೆಯಿನ್ ಸುತ್ತಿಗೆ
B) Cross pein hammer | ಕ್ರಾಸ್ ಪೀನ್ ಸುತ್ತಿಗೆ
C) Ball pein hammer | ಬಾಲ್ ಪೆನ್ ಸುತ್ತಿಗೆ
D) Mallet | ಮ್ಯಾಲೆಟ್

23. Which arrow head is correct as per standard? | ಮಾನದಂಡದ ಪ್ರಕಾರ ಯಾವ ಬಾಣದ ಹೆಡ್ ಸರಿಯಾಗಿದೆ?



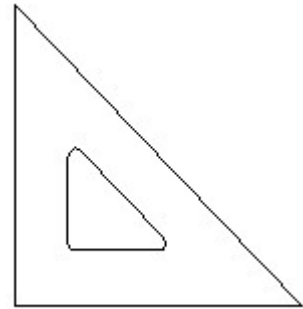
- A) D
B) C
C) A
D) B

24. Identify the name of set square? | ಸೆಟ್ ಚೌಕದ ಹೆಸರನ್ನು ಗುರುತಿಸುವುದೇ?



- A) 15° set square | 15° ಸೆಟ್ ಸ್ಕ್ವೇರ್
B) 30° set square | 30° ಸೆಟ್ ಸ್ಕ್ವೇರ್
C) 60° set square | 60° ಸೆಟ್ ಸ್ಕ್ವೇರ್
D) 45° set square | 45° ಸೆಟ್ ಸ್ಕ್ವೇರ್

25. Identify the name of set square? | ಸೆಟ್ ಚೌಕದ ಹೆಸರನ್ನು ಗುರುತಿಸುವುದೇ?



- A) 30° set square | 30° ಸೆಟ್ ಸ್ಕ್ವೇರ್
B) 15° set square | 15° ಸೆಟ್ ಸ್ಕ್ವೇರ್
C) 60° set square | 60° ಸೆಟ್ ಸ್ಕ್ವೇರ್
D) 45° set square | 45° ಸೆಟ್ ಸ್ಕ್ವೇರ್

26. What is the trimmed size of A4 sheet? | A4 ಹಾಳೆಯು ಟ್ರಿಮ್ ಮಾಡಿದ ಗಾತ್ರ ಎಷ್ಟು?

- A) 210 x 297
B) 594 x 841
C) 148 x 210
D) 841 x 1189

