

Duration: 60 Mins

Total Marks: 10

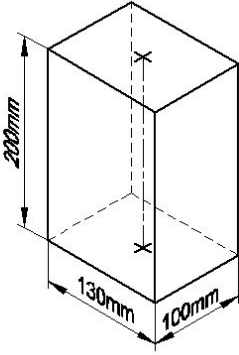
ID: ITISKILL6345KH

Student Name: _____ Roll No: _____

1. What is the trimmed size of A4 sheet? | A4 ಹಾಳೆಯ ಕ್ರಿಮ್ ಮಾಡಿದ ಗಾತ್ರ ಎಷ್ಟು?

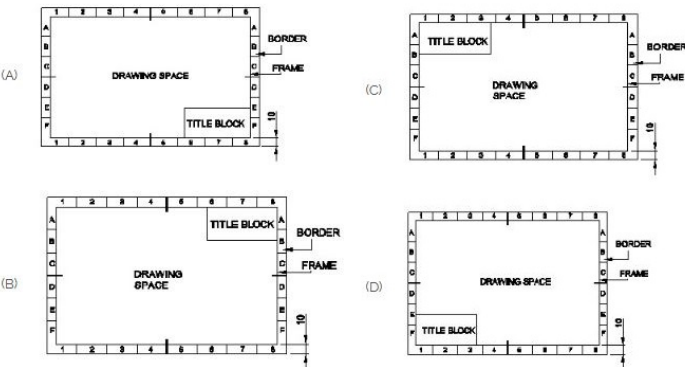
- A) 148 x 210
B) 841 x 1189
C) 210 x 297
D) 594 x 841

2. Identify the name of prism? | ಪ್ರಿಸ್ಮ್ ಹೆಸರನ್ನು ಗುರುತಿಸುವುದೇ?



- A) Rectangle prism | ಆಯತ ಪ್ರಿಸ್ಮ್
B) Square prism | ಚದರ ಪ್ರಿಸ್ಮ್
C) Hexagonal prism | ಷಡ್ಭುಜೀಯ ಪ್ರಿಸ್ಮ್
D) Triangular prism | ತ್ರಿಕೋನ ಪ್ರಿಸ್ಮ್

3. Which title block position is correct as standard practice? | ಪ್ರಮಾಣಿತ ಅಭ್ಯಾಸದಂತೆ ಯಾವ ಶೀರ್ಷಿಕೆ ಬ್ಲಾಕ್ ಸ್ಥಾನವು ಸರಿಯಾಗಿದೆ?



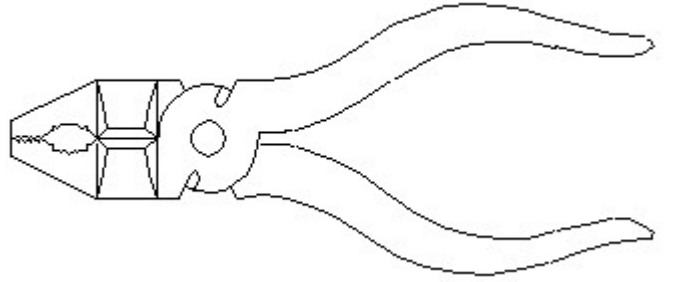
- A) B
B) D
C) A
D) C

4. Compass used to draw for _____. | ಕಂಪಾಸ್ ಅನ್ನು _____ ಗೆ ಸೆಳೆಯಲು ಬಳಸಲಾಗುತ್ತದೆ.

- A) triangle | ತ್ರಿಕೋನ
B) circle | ವೃತ್ತ

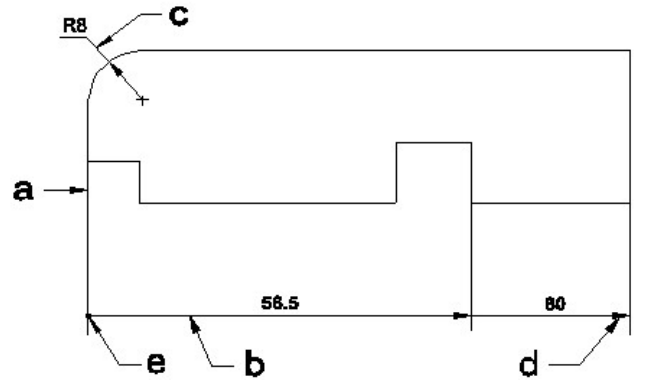
- C) rectangle | ಆಯತ
D) square | ಚದರ

5. Identify the name of tool? | ಉಪಕರಣದ ಹೆಸರನ್ನು ಗುರುತಿಸುವುದೇ?



- A) Hawk-billed shear | ಹಾಕ್-ಬಿಲ್ಡ್ ಸ್ಷಿಯರ್
B) Double cutting shear | ಡಬಲ್ ಕಟಿಂಗ್ ಸ್ಷಿಯರ್
C) Aviation shear | ಏವಿಯೇಷನ್ ಸ್ಷಿಯರ್
D) Cutting plier | ಕಟಿಂಗ್ ಪ್ಲಿಯರ್

6. Identify the line a, b, c, d, e? | ರೇಖೆಗಳನ್ನು ಗುರುತಿಸುವುದೇ?



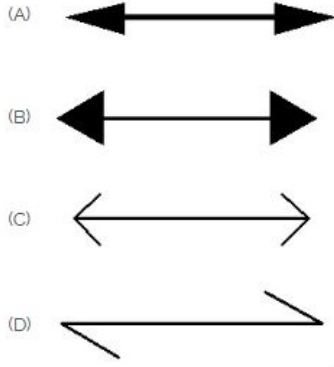
- A) Extension line | ವಿಸ್ತರಣೆ ರೇಖೆ
B) Dimension line | ಡೈಮೆನ್ಷನ್ ರೇಖೆ
C) Leader line | ಲೀಡರ್ ರೇಖೆ
D) Termination of dimension line | ಆಯಾಮ ರೇಖೆಯ ಮುಕ್ತಾಯ

7. Identify the correct aligned system dimension? | ಸರಿಯಾದ ಜೋಡಿಸಲಾದ ಸಿಸ್ಟಮ್ ಆಯಾಮವನ್ನು ಗುರುತಿಸುವುದೇ?



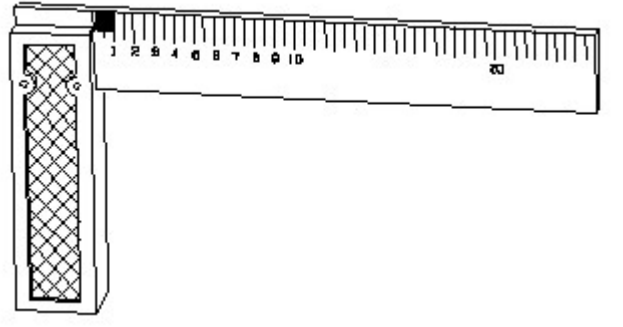
- A) A
B) D
C) C
D) B

8. Which arrow head is correct as per standard? | ಮಾನದಂಡದ ಪ್ರಕಾರ ಯಾವ ಬಾಣದ ಹೆಡ್ ಸರಿಯಾಗಿದೆ?



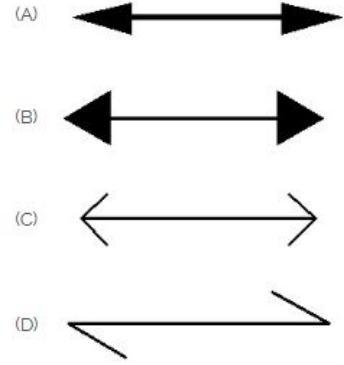
- A) B
B) A
C) D
D) C

9. 1). Identify the name of tool? | ಉಪಕರಣದ ಹೆಸರನ್ನು ಗುರುತಿಸುವುದೇ?



- A) Feeler gauge | ಫೀಲರ್ ಗೇಜ್
B) Steel rule | ಸ್ಟೀಲ್ ರೂಲ್
C) Try square | ಟ್ರೈ ಸ್ಕ್ವೇರ್
D) Surface gauge | ಮೇಲ್ಮೈ ಮಾಪಕ

10. Which arrow head is correct as per standard? | ಮಾನದಂಡದ ಪ್ರಕಾರ ಯಾವ ಬಾಣದ ಹೆಡ್ ಸರಿಯಾಗಿದೆ?



- A) B
B) C
C) D
D) A