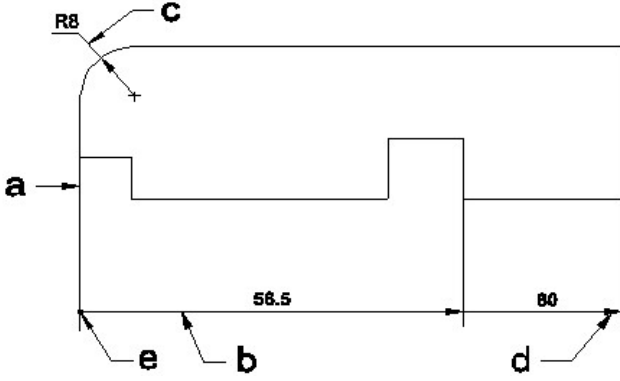


Duration: 60 Mins

Total Marks: 10

Q.ID: ITISKILL6345KH

1. Identify the line □ b□ ? | □ ಸಾಫಿನ್ನು ಗುರುತಿಸುವುದೇ?



- A) Termination of dimension line | ಆಯಾಮ ರೇಖೆಯ ಮುಕ್ತಾಯ
 B) Leader line | ಲೀಡರ್ ಲೈನ್
 C) Extension line | ಎಕ್ಸ್ಟೆನ್ಷನ್ ಲೈನ್
 D) Dimension line | ಡೈಮೆನ್ಷನ್ ಲೈನ್

Answer: D) Dimension line | ಡೈಮೆನ್ಷನ್ ಲೈನ್

2. Compass used to draw for ___. | ಕಂಪಾಸ್ ಅನ್ನು ___ ಗೆ ಸೆಳೆಯಲು ಬಳಸಲಾಗುತ್ತದೆ.

- A) rectangle | ಆಯಾತ
 B) triangle | ತ್ರಿಕೋನ
 C) square | ಚದರ
 D) circle | ವೃತ್ತ

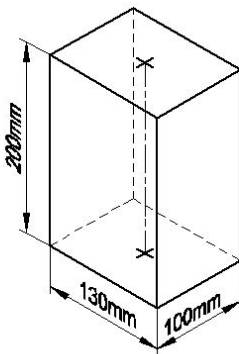
Answer: D) circle | ವೃತ್ತ

3. What is the trimmed size of A4 sheet? | A4 ಹಾಳೆಯ ಕ್ರಿಮ್ ಮಾಡಿದ ಗಾತ್ರ ಎಷ್ಟು?

- A) 841 x 1189
 B) 210 x 297
 C) 148 x 210
 D) 594 x 841

Answer: B) 210 x 297

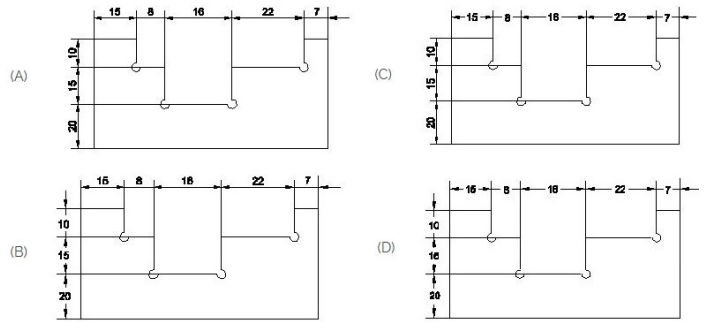
4. Identify the name of prism? | ಪ್ರಿಸ್ಮ್ ಹೆಸರನ್ನು ಗುರುತಿಸುವುದೇ?



- A) Triangular prism | ತ್ರಿಕೋನ ಪ್ರಿಸ್ಮ್
 B) Rectangle prism | ಆಯತ ಪ್ರಿಸ್ಮ್
 C) Hexagonal prism | ಷಡ್ಭುಜೀಯ ಪ್ರಿಸ್ಮ್
 D) Square prism | ಚದರ ಪ್ರಿಸ್ಮ್

Answer: B) Rectangle prism | ಆಯತ ಪ್ರಿಸ್ಮ್

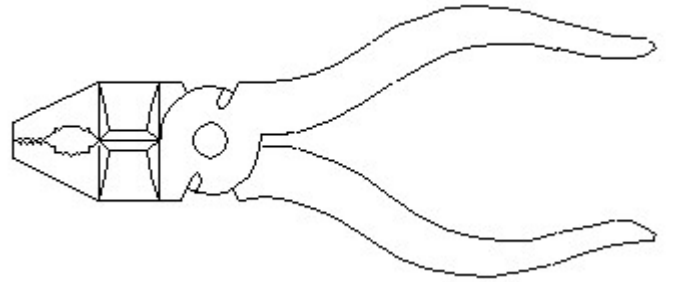
5. Identify the correct aligned system dimension? | ಸರಿಯಾದ ಜೋಡಿಸಲಾದ ಸಿಸ್ಟಮ್ ಆಯಾಮವನ್ನು ಗುರುತಿಸುವುದೇ?



- A) D
 B) A
 C) B
 D) C

Answer: B) A

6. Identify the name of tool? | ಉಪಕರಣದ ಹೆಸರನ್ನು ಗುರುತಿಸುವುದೇ?

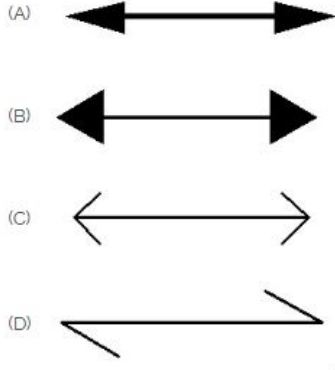


- A) Aviation shear | ಏವಿಯೇಷನ್ ಸಿಯರ್
 B) Double cutting shear | ಡಬಲ್ ಕಟಿಂಗ್ ಸಿಯರ್
 C) Hawk-billed shear | ಹಾಕ್-ಬಿಲ್ಡ್ ಸಿಯರ್
 D) Cutting plier | ಕಟಿಂಗ್ ಪ್ಲಿಯರ್

Answer: D) Cutting plier | ಕಟಿಂಗ್ ಪ್ಲಿಯರ್

7. Which arrow head is correct as per standard? | ಮಾನದಂಡದ ಪ್ರಕಾರ ಯಾವ ಬಾಣದ ಹೆಡ್ ಸರಿಯಾಗಿದೆ?

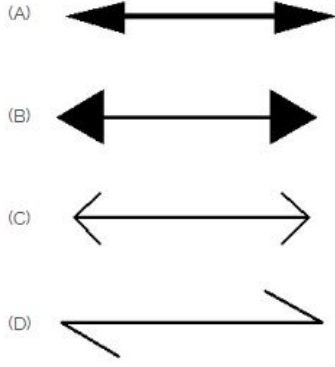
ಪ್ರಮಾಣಿತ ಅಭ್ಯಾಸದಂತೆ ಯಾವ ತೀರ್ಪಿಕ್ ಬಾಕ್ಸ್ ಸ್ಥಾನವು ಸರಿಯಾಗಿದೆ?



- A) D B) A
C) C D) B

Answer: B) A

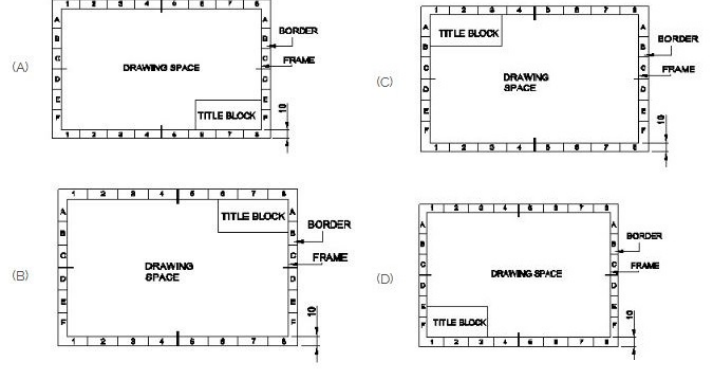
8. Which arrow head is correct as per standard? | ಮಾನದಂಡದ ಪ್ರಕಾರ ಯಾವ ಬಾಣದ ಹೆಡ್ ಸರಿಯಾಗಿದೆ?



- A) B B) A
C) D D) C

Answer: B) A

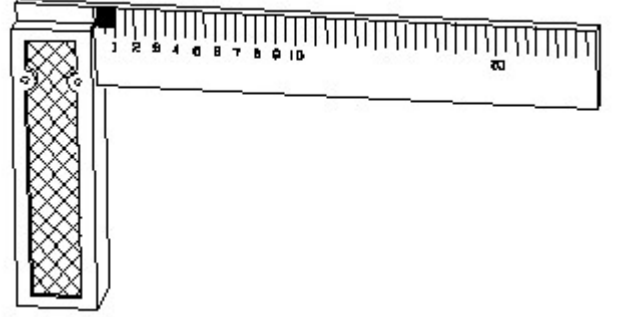
9. Which title block position is correct as standard practice? |



- A) C B) D
C) A D) B

Answer: C) A

10. 1). Identify the name of tool? | ಉಪಕರಣದ ಹೆಸರನ್ನು ಗುರುತಿಸುವುದೇ?



- A) Try square | ಟ್ರೈ ಸ್ಕ್ವೇರ್ B) Steel rule | ಸ್ಟೀಲ್ ರೂಲ್
C) Feeler gauge | ಫೀಲರ್ ಗೇಜ್ D) Surface gauge | ಮೇಲ್ಮೈ ಮಾಪಕ

Answer: A) Try square | ಟ್ರೈ ಸ್ಕ್ವೇರ್