

MONTHLY TEST MARCH 2026

Q. ID: ITISKILL6131LT

March 2026

Govt ITI T. Narasipura

Question Paper

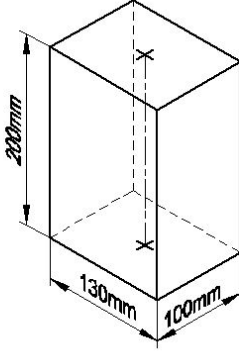
Duration: 30 Mins

Total Marks: 5

ID: ITISKILL6131LT

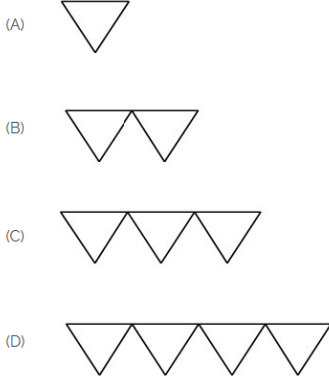
Student Name: _____ Roll No: _____

1. Identify the name of prism? | ಪ್ರಿಸ್ಮ್ ಹೆಸರನ್ನು ಗುರುತಿಸುವುದೇ?



- A) Rectangle prism | ಆಯತ ಪ್ರಿಸ್ಮ್
B) Hexagonal prism | ಷಡ್ಭುಜೀಯ ಪ್ರಿಸ್ಮ್
C) Triangular prism | ತ್ರಿಕೋನ ಪ್ರಿಸ್ಮ್
D) Square prism | ಚದರ ಪ್ರಿಸ್ಮ್

2. Which is roughness symbol for roughness grade N8?



- A) C
B) D
C) A
D) B

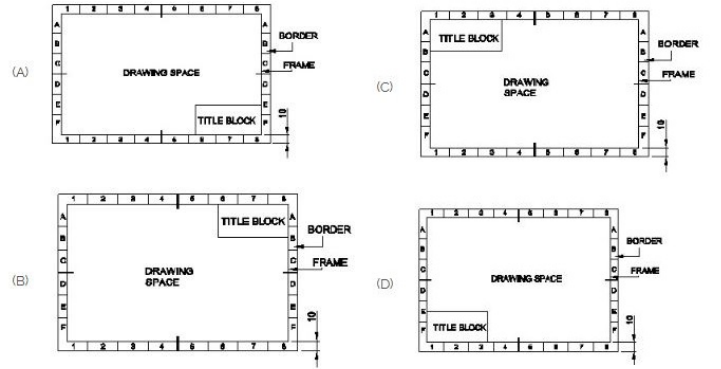
3. Compass used to draw for ____. | ಕಂಪಾಸ್ ಅನ್ನು _____ ಗೆ ಸೆಳೆಯಲು ಬಳಸಲಾಗುತ್ತದೆ.

- A) circle | ವೃತ್ತ
B) triangle | ತ್ರಿಕೋನ
C) square | ಚದರ
D) rectangle | ಆಯತ

4. Identify the name of set square? | ಸೆಟ್ ಚೌಕದ ಹೆಸರನ್ನು ಗುರುತಿಸುವುದೇ?

- A) 15° set square | 15° ಸೆಟ್ ಸ್ಕೇರ್
B) 30° set square | 30° ಸೆಟ್ ಸ್ಕೇರ್
C) 45° set square | 45° ಸೆಟ್ ಸ್ಕೇರ್
D) 60° set square | 60° ಸೆಟ್ ಸ್ಕೇರ್

5. Which title block position is correct as standard practice? | ಪ್ರಮಾಣಿತ ಅಭ್ಯಾಸದಂತೆ ಯಾವ ಶೀರ್ಷಿಕೆ ಬ್ಲಾಕ್ ಸ್ಥಾನವು ಸರಿಯಾಗಿದೆ?



- A) C
B) B
C) D
D) A