

MONTHLY TEST MARCH 2026

Q. ID: ITISKILL6131LT

March 2026

Govt ITI T. Narasipura

Answer Key

Duration: 30 Mins

Total Marks: 5

Q.ID: ITISKILL6131LT

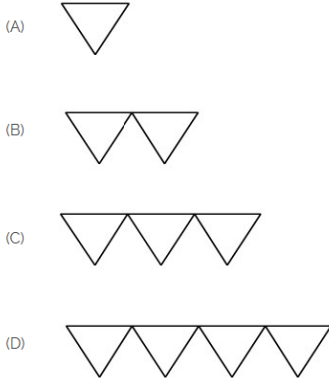
1. Identify the name of set square? | ಸೆಟ್ ಚೌಕದ ಹೆಸರನ್ನು ಗುರುತಿಸುವುದೇ?



- A) 45° set square | 45° ಸೆಟ್ ಸ್ಕ್ವೇರ್
B) 60° set square | 60° ಸೆಟ್ ಸ್ಕ್ವೇರ್
C) 30° set square | 30° ಸೆಟ್ ಸ್ಕ್ವೇರ್
D) 15° set square | 15° ಸೆಟ್ ಸ್ಕ್ವೇರ್

Answer: A) 45° set square | 45° ಸೆಟ್ ಸ್ಕ್ವೇರ್

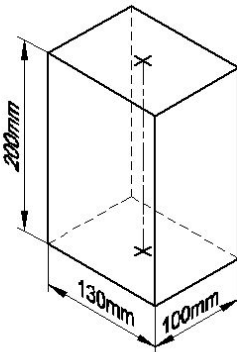
2. Which is roughness symbol for roughness grade N8?



- A) A
B) D
C) B
D) C

Answer: C) B

3. Identify the name of prism? | ಪ್ರಿಸ್ಮ್ ಹೆಸರನ್ನು ಗುರುತಿಸುವುದೇ?



- A) Hexagonal prism | ಷಡ್ಭುಜೀಯ ಪ್ರಿಸ್ಮ್
B) Square prism | ಚದರ ಪ್ರಿಸ್ಮ್
C) Triangular prism | ತ್ರಿಕೋನ ಪ್ರಿಸ್ಮ್
D) Rectangle prism | ಆಯತ ಪ್ರಿಸ್ಮ್

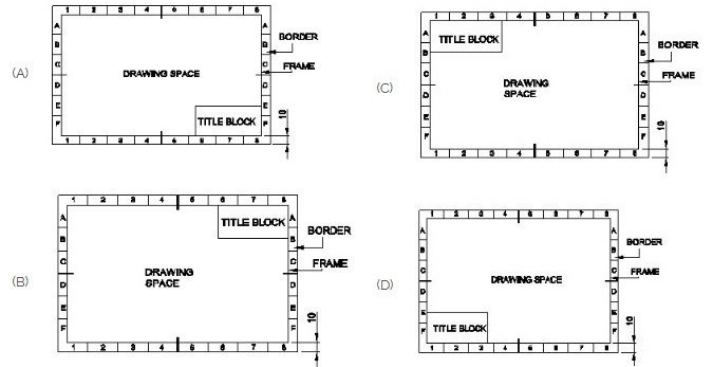
Answer: D) Rectangle prism | ಆಯತ ಪ್ರಿಸ್ಮ್

4. Compass used to draw for ___. | ಕಂಪಾಸ್ ಅನ್ನು _____ ಗೆ ಸೆಳೆಯಲು ಬಳಸಲಾಗುತ್ತದೆ.

- A) rectangle | ಆಯಾತ
B) triangle | ತ್ರಿಕೋನ
C) square | ಚದರ
D) circle | ವೃತ್ತ

Answer: D) circle | ವೃತ್ತ

5. Which title block position is correct as standard practice? | ಪ್ರಮಾಣಿತ ಅಭ್ಯಾಸದಂತೆ ಯಾವ ಶೀರ್ಷಿಕೆ ಬಾಕ್ಸ್ ಸ್ಥಾನವು ಸರಿಯಾಗಿದೆ?



- A) D
B) B
C) C
D) A

Answer: D) A