

March 2026

Sri Mahalingeswara ITI

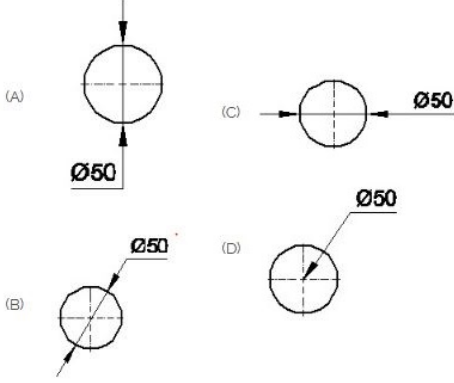
Answer Key

Duration: 30 Mins

Total Marks: 98

Q.ID: ITISKILL6096JW

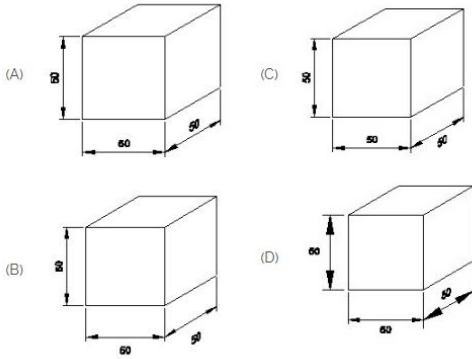
1. Which dimension correctly marked in the circle as per standard? | ಮಾನದಂಡದ ಪ್ರಕಾರ ವೃತ್ತದಲ್ಲಿ ಯಾವ ಆಯಾಮವನ್ನು ಸರಿಯಾಗಿ ಗುರುತಿಸಲಾಗಿದೆ?



- A) B
C) A
B) D
D) C

Answer: A) B


2. Which drawing dimension is correct as per IS standard? | IS ಮಾನದಂಡದ ಪ್ರಕಾರ ಯಾವ ರೇಖಾಚಿತ್ರದ ಆಯಾಮವು ಸರಿಯಾಗಿದೆ?



- A) A
C) B
B) C
D) D

Answer: A) A

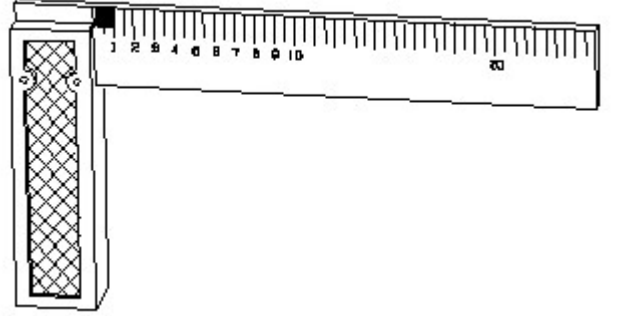
3. The rivet head for a general purpose shown in the figure below is ____ | ಕೆಳಗಿನ ಚಿತ್ರದಲ್ಲಿ ತೋರಿಸಿರುವ ಸಾಮಾನ್ಯ ಉದ್ದೇಶಕ್ಕಾಗಿ ರಿವೆಟ್ ಹೆಡ್.



- A) flat | ಫ್ಲಾಟ್
C) pan | ಪ್ಯಾನ್
B) snap | ಸ್ನಾಪ್
D) counter sunk | ಕೌಂಟರ್ ಸುಂಕ್

Answer: D) counter sunk | ಕೌಂಟರ್ ಸುಂಕ್

4. 1). Identify the name of tool? | ಉಪಕರಣದ ಹೆಸರನ್ನು ಗುರುತಿಸುವುದೇ?



- A) Try square | ಟ್ರೈ ಸ್ಕ್ವೇರ್
C) Surface gauge | ಮೇಲ್ಮೈ ಮಾಪಕ
B) Feeler gauge | ಫೀಲರ್ ಗೇಜ್
D) Steel rule | ಸ್ಟೀಲ್ ರೂಲ್

Answer: A) Try square | ಟ್ರೈ ಸ್ಕ್ವೇರ್

5. Rivets are generally, specified by _____. | ರಿವೆಟ್‌ಗಳನ್ನು ಸಾಮಾನ್ಯವಾಗಿ, _____ ಮೂಲಕ ನಿರ್ದಿಷ್ಟಪಡಿಸಲಾಗುತ್ತದೆ.

- A) nominal diameter | ನಾಮಮಾತ್ರದ ವ್ಯಾಸ.
C) all of these | ಇವೆಲ್ಲವೂ
B) length of rivet | ರಿವೆಟ್ ಉದ್ದ
D) diameter of head | ಹೆಡ್ ವ್ಯಾಸ

Answer: A) nominal diameter | ನಾಮಮಾತ್ರದ ವ್ಯಾಸ.

6. Which is ball peen hammer? | ಬಾಲ್ ಪೀನ್ ಸುತ್ತುಗೆ ಯಾವುದು?

C) B

D) C

Answer: C) B

10. Which of the following is used to block the pipe at one end? | ಒಂದು ತುದಿಯಲ್ಲಿ ಪೈಪ್ ಅನ್ನು ನಿರ್ಬಂಧಿಸಲು ಕೆಳಗಿನವುಗಳಲ್ಲಿ ಯಾವುದನ್ನು ಬಳಸಲಾಗುತ್ತದೆ?

A) Reducer | ರೆಡ್ಯೂಸರ್

B) Plug | ಪ್ಲಗ್

C) Couplings | ಕಪ್ಲಿಂಗ್ಸ್

D) Union | ಯೂನಿಯನ್

Answer: B) Plug | ಪ್ಲಗ್

11. Pipe cutting die is generally _____ | ಪೈಪ್ ಕಟಿಂಗ್ ಡೈ ಸಾಮಾನ್ಯವಾಗಿ _____

A) divided in two parts | ಎರಡು ಭಾಗಗಳಾಗಿ ವಿಂಗಡಿಸಲಾಗಿದೆ

B) undivided | ಅವಿಭಜಿತ


C) divided in four parts. | ನಾಲ್ಕು ಭಾಗಗಳಾಗಿ ವಿಂಗಡಿಸಲಾಗಿದೆ.

D) divided in three parts | ಮೂರು ಭಾಗಗಳಾಗಿ ವಿಂಗಡಿಸಲಾಗಿದೆ


Answer: A) divided in two parts | ಎರಡು ಭಾಗಗಳಾಗಿ ವಿಂಗಡಿಸಲಾಗಿದೆ

12. Choose the symbol for main fuse board without switches (P). | ಸಿಬ್ಬೆಗಳು (ಪಿ) ಇಲ್ಲದೆ ಮುಖ್ಯ ಫ್ಯೂಸ್ ಬೋರ್ಡ್‌ಗಾಗಿ ಚಿಹ್ನೆಯನ್ನು ಆರಿಸಿ.


(A)



(C)



(B)



(D)



A) B

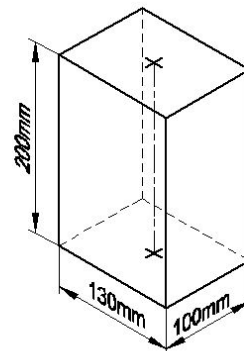
B) A

C) C

D) D

Answer: C) C

13. Identify the name of prism? | ಪ್ರಿಸ್ಮ್ ಹೆಸರನ್ನು ಗುರುತಿಸುವುದೇ?



A) Square prism | ಚದರ ಪ್ರಿಸ್ಮ್

B) Hexagonal prism | ಷಡ್ಭುಜೀಯ ಪ್ರಿಸ್ಮ್



(A)



(C)



(B)



(D)

A) C

B) A

C) D

D) B

Answer: D) B

7. Which of the following is not a main part of rivet? | ಕೆಳಗಿನವುಗಳಲ್ಲಿ ಯಾವುದು ರಿವೆಟ್‌ನ ಮುಖ್ಯ ಭಾಗವಲ್ಲ?

A) Tail | ಟೈಲ್

B) Point | ಪಾಯಿಂಟ್

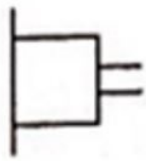
C) Head | ಹೆಡ್

D) Shank | ಶ್ಯಾಂಕ್

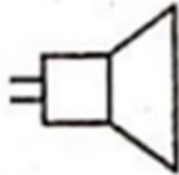
Answer: B) Point | ಪಾಯಿಂಟ್

8. Identify the symbol used for microphone (general) in electrical and electronic circuits. | ಎಲೆಕ್ಟ್ರಿಕಲ್ ಮತ್ತು ಎಲೆಕ್ಟ್ರಾನಿಕ್ ಸರ್ಕ್ಯೂಟ್‌ಗಳಲ್ಲಿ ಮೈಕ್ರೋಫೋನ್ (ಸಾಮಾನ್ಯ) ಗಾಗಿ ಬಳಸುವ ಚಿಹ್ನೆಯನ್ನು ಗುರುತಿಸಿ.

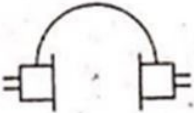
(A)



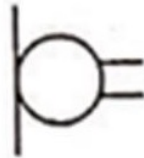
(C)



(B)



(D)



A) B

B) C

C) D

D) A

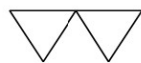
Answer: C) D

9. Which is roughness symbol for roughness grade N8?

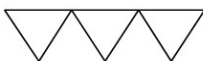
(A)



(B)



(C)



(D)



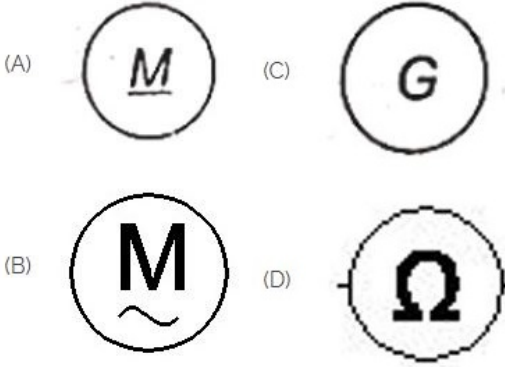
A) A

B) D

C) Rectangle prism | ಆಯತ ಪ್ರಿಸ್ಮ್ D) Triangular prism | ತ್ರಿಕೋನ ಪ್ರಿಸ್ಮ್

Answer: C) Rectangle prism | ಆಯತ ಪ್ರಿಸ್ಮ್

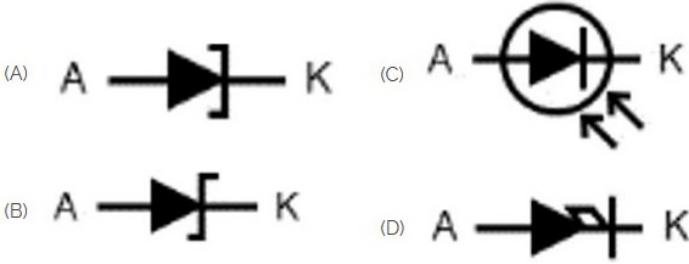
14. Which is a symbol of DC motor? | DC ಮೋಟರ್‌ನ ಸಂಕೇತ ಯಾವುದು?



A) C B) A
C) D D) B

Answer: B) A

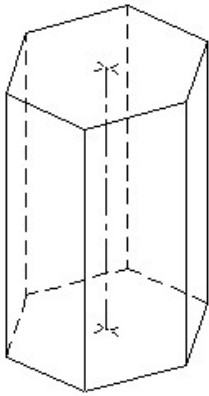
15. Which is photo diode? | ಫೋಟೋ ಡಯೋಡ್ ಯಾವುದು?



A) B B) D
C) C D) A

Answer: C) C

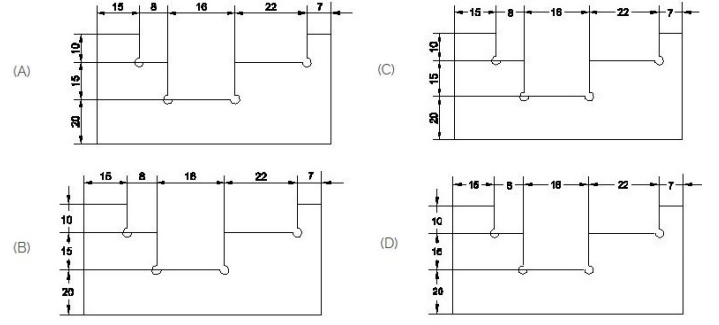
16. Identify the name of prism? | ಪ್ರಿಸ್ಮ್ ಹೆಸರನ್ನು ಗುರುತಿಸುವುದೇ?



A) Hexagonal prism | ಷಡ್ಭುಜೀಯ ಪ್ರಿಸ್ಮ್ B) Pentagonal prism | ಪೆಂಟಗೋನಲ್ ಪ್ರಿಸ್ಮ್
C) Square prism | ಚದರ ಪ್ರಿಸ್ಮ್ D) Triangular prism | ತ್ರಿಕೋನ ಪ್ರಿಸ್ಮ್

Answer: A) Hexagonal prism | ಷಡ್ಭುಜೀಯ ಪ್ರಿಸ್ಮ್

17. Identify the correct aligned system dimension? | ಸರಿಯಾದ ಜೋಡಿಸಲಾದ ಸಿಸ್ಟಮ್ ಆಯಾಮವನ್ನು ಗುರುತಿಸುವುದೇ?



A) C B) D
C) B D) A

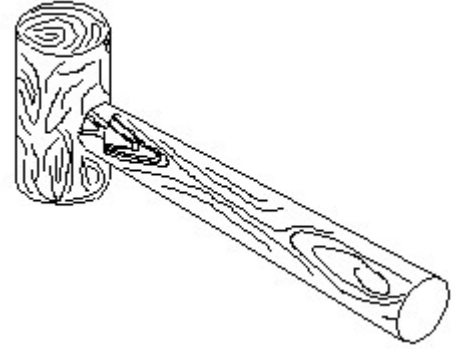
Answer: D) A

18. What is the trimmed size of A4 sheet? | A4 ಹಾಳೆಯ ಟ್ರಿಮ್ ಮಾಡಿದ ಗಾತ್ರ ಎಷ್ಟು?

A) 148 x 210 B) 210 x 297
C) 594 x 841 D) 841 x 1189

Answer: B) 210 x 297

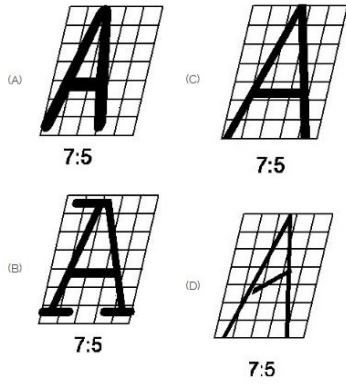
19. Identify the name of tool? | ಉಪಕರಣದ ಹೆಸರನ್ನು ಗುರುತಿಸುವುದೇ?



A) Mallet | ಮ್ಯಾಲೆಟ್ B) Ball pein hammer | ಬಾಲ್ ಪೆನ್ ಸುತ್ತಿಗೆ
C) Straight pein hammer | ಸ್ಟ್ರೈಟ್ ಪೆನ್ ಸುತ್ತಿಗೆ D) Cross pein hammer | ಕ್ರಾಸ್ ಪೆನ್ ಸುತ್ತಿಗೆ

Answer: A) Mallet | ಮ್ಯಾಲೆಟ್

20. Which single stroke inclined letter □ A□ is correct as per IS standard? | IS ಮಾನದಂಡದ ಪ್ರಕಾರ ಯಾವ ಏಕ ಸ್ಟ್ರೋಕ್ ಇಳಿಜಾರಿನ ಅಕ್ಷರ □ A□ ಯಾಗಿದೆ?



- A) B
C) D
- B) A
D) C

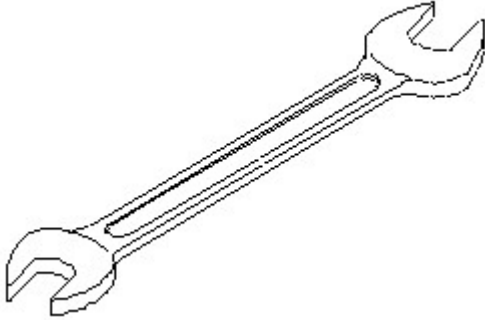
Answer: D) C

21. CPRF stands for _____ | CPRF ಎಂದರೆ _____

- A) Combined Plain Round Foundation
B) Combined Pile Raft Foundation.
C) Corrosion Proof Raft Foundation
D) Connected Pile Round Foundation

Answer: B) Combined Pile Raft Foundation.

22. Identify the name of tool? | ಉಪಕರಣದ ಹೆಸರನ್ನು ಗುರುತಿಸುವುದೇ?



- A) Ring spanner | ರಿಂಗ್ ಸ್ಪ್ಯಾನರ್
B) Adjustable spanner | ಹೊಂದಿಸಬಹುದಾದ ಸ್ಪ್ಯಾನರ್
C) Open end spanner | ಓಪನ್ ಎಂಡ್ ಸ್ಪ್ಯಾನರ್
D) Combination spanner | ಕಾಂಬಿನೇಷನ್ ಸ್ಪ್ಯಾನರ್

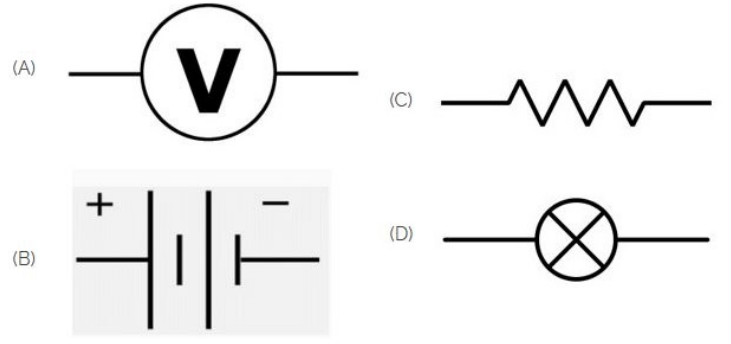
Answer: C) Open end spanner | ಓಪನ್ ಎಂಡ್ ಸ್ಪ್ಯಾನರ್

23. Riveted joints is a _____ | ರಿವೆಟೆಡ್ ಜಂಟಿಗಳು

- A) temporary joints | ತಾತ್ಕಾಲಿಕ ಜಂಟಿಗಳು
B) permanent joints | ಶಾಶ್ವತ ಜಂಟಿಗಳು
C) none of these | ಇದ್ದಾವುದೂ ಅಲ್ಲ
D) semi permanent | ಅರೆ ಶಾಶ್ವತ

Answer: D) semi permanent | ಅರೆ ಶಾಶ್ವತ

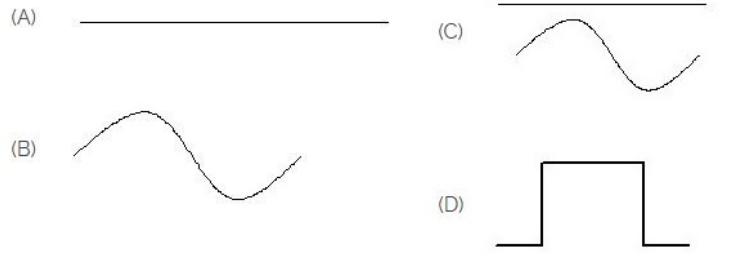
24. Identify the symbol of battery. | ಬ್ಯಾಟರಿಯ ಚಿಹ್ನೆಯನ್ನು ಗುರುತಿಸಿ.



- A) A
C) D
- B) C
D) B

Answer: D) B

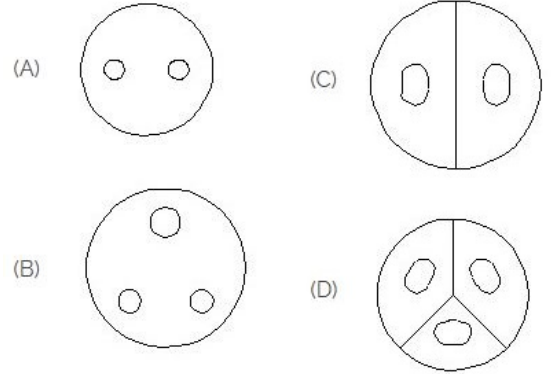
25. Identify the symbol for direct and alternating current. | ನೇರ ಮತ್ತು ಪರ್ಯಾಯ ಪ್ರವಾಹದ ಚಿಹ್ನೆಯನ್ನು ಗುರುತಿಸಿ.



- A) D
C) A
- B) B
D) C

Answer: D) C

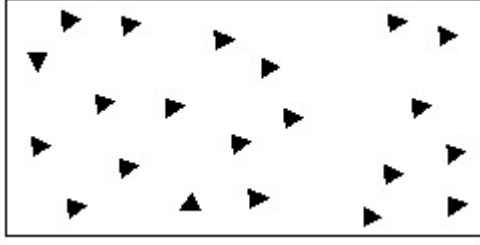
26. Identify the 3 pin socket. | 3 ಪಿನ್ ಸಾಕೆಟ್ ಅನ್ನು ಗುರುತಿಸಿ.



- A) A
C) B
- B) D
D) C

Answer: C) B

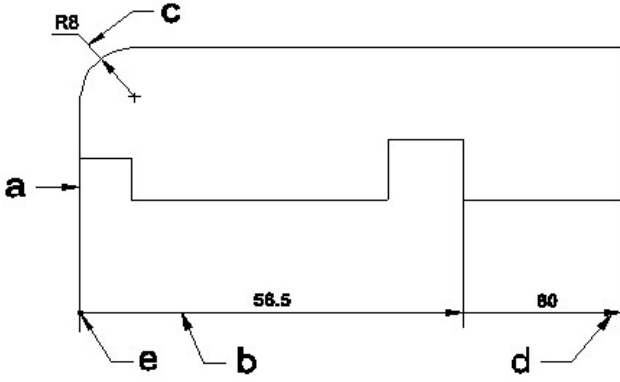
27. Identify the conventional symbol of material? | ವಸ್ತುವಿನ ಕನ್ವೆಷನಲ್ ಚಿಹ್ನೆಯನ್ನು ಗುರುತಿಸಿ?



- A) Steel | ಸ್ಟೀಲ್
B) Concrete | ಕಾಂಕ್ರೀಟ್
C) Glass | ಗಾಜು
D) Wood | ಮರ

Answer: B) Concrete | ಕಾಂಕ್ರೀಟ್

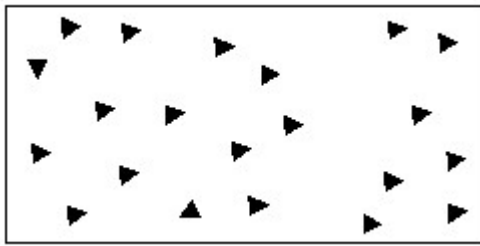
28. Identify the line □ b □ ? | □ ಸಾಠಿನ್ನು ಗುರುತಿಸುವುದೇ?



- A) Leader line | ಲೀಡರ್ ಲೈನ್
B) Termination of dimension line | ಆಯಾಮ ರೇಖೆಯ ಮುಕ್ತಾಯ
C) Extension line | ಎಕ್ಸ್ಟೆನ್ಷನ್ ಲೈನ್
D) Dimension line | ಡೈಮೆನ್ಷನ್ ಲೈನ್

Answer: D) Dimension line | ಡೈಮೆನ್ಷನ್ ಲೈನ್

29. Identify the conventional symbol of material? | ವಸ್ತುವಿನ ಕನ್ವೆಷನಲ್ ಚಿಹ್ನೆಯನ್ನು ಗುರುತಿಸಿ?



- A) Wood | ಮರ
B) Glass | ಗಾಜು
C) Concrete | ಕಾಂಕ್ರೀಟ್
D) Steel | ಸ್ಟೀಲ್

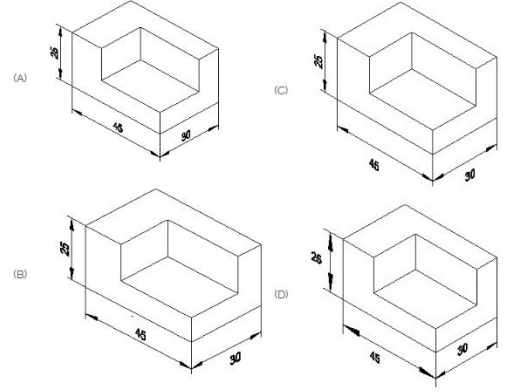
Answer: C) Concrete | ಕಾಂಕ್ರೀಟ್

30. Which one of the following accommodates four pipes in a pipe fitting? | ಕೆಳಗಿನವುಗಳಲ್ಲಿ ಯಾವುದು ಫೈಪ್ ಫಿಟಿಂಗ್‌ನಲ್ಲಿ ನಾಲ್ಕು ಫೈಪ್‌ಗಳನ್ನು ಅಳವಡಿಸುತ್ತದೆ?

- A) Elbow | ಎಲ್ಬೋ
B) Union | ಯೂನಿಯನ್
C) Cross | ಅಡ್ಡ
D) Tee | ಟೀ

Answer: C) Cross | ಅಡ್ಡ

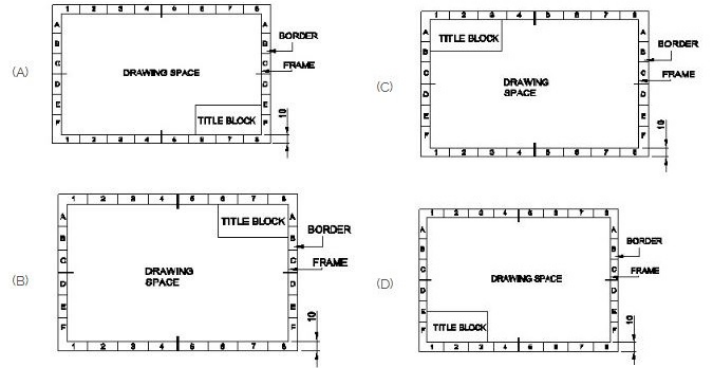
31. Which drawing dimension is correct as per standard drawing practice? | ಸ್ಟ್ಯಾಂಡರ್ಡ್ ಡ್ರಾಯಿಂಗ್ ಅಭ್ಯಾಸದ ಪ್ರಕಾರ ಯಾವ ಡ್ರಾಯಿಂಗ್ ಆಯಾಮ ಸರಿಯಾಗಿದೆ?



- A) C
B) A
C) B
D) D

Answer: B) A

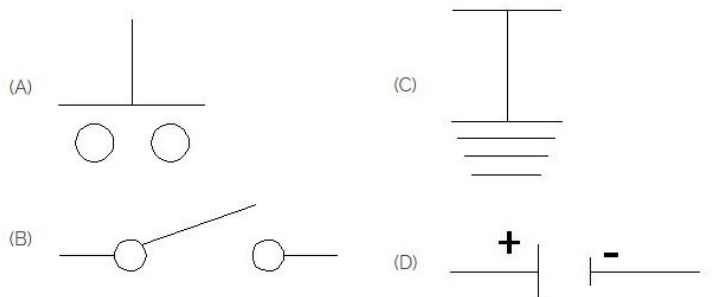
32. Which title block position is correct as standard practice? | ಪ್ರಮಾಣಿತ ಅಭ್ಯಾಸದಂತೆ ಯಾವ ಶೀರ್ಷಿಕೆ ಬಾಕ್ಸ್ ಸ್ಥಾನವು ಸರಿಯಾಗಿದೆ?



- A) C
B) A
C) B
D) D

Answer: B) A

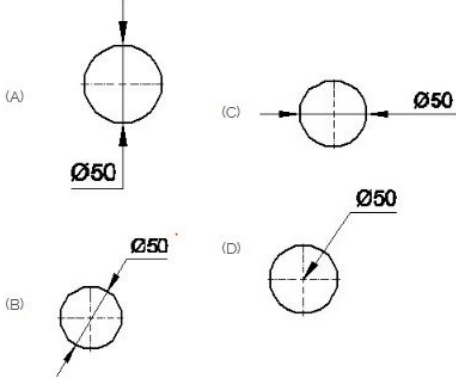
33. Which is the symbol of earth? | ಭೂಮಿಯ ಸಂಕೇತ ಯಾವುದು?



- A) B
B) C
C) D
D) A

Answer: B) C

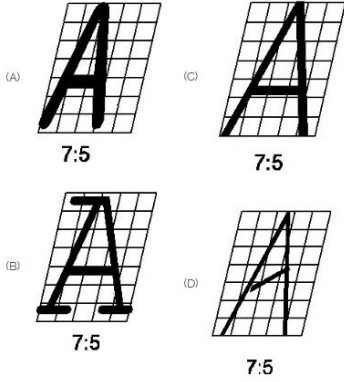
34. Which dimension correctly marked in the circle as per standard? | ಮಾನದಂಡದ ಪ್ರಕಾರ ವೃತ್ತದಲ್ಲಿ ಯಾವ ಆಯಾಮವನ್ನು ಸರಿಯಾಗಿ ಗುರುತಿಸಲಾಗಿದೆ?



- A) C
B) D
C) B
D) A

Answer: C) B

35. Which single stroke inclined letter A is correct as per IS standard? | IS ಮಾನದಂಡದ ಪ್ರಕಾರ ಯಾವ ಏಕ ಸ್ಟ್ರೋಕ್ ಇಳಿಜಾರಿನ ಅಕ್ಷರ A ಇರಬೇಕು?



- A) B
B) C
C) A
D) D

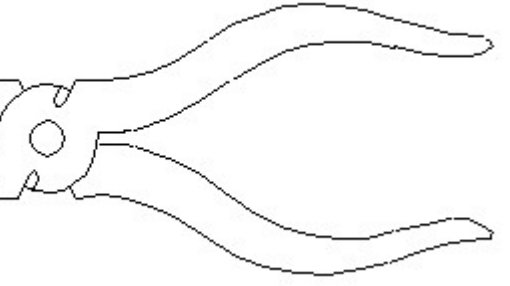
Answer: B) C

36. Lock nut or check-nut is chamfered on _____. | ಲಾಕ್ ನಟ್ ಅಥವಾ ಚೆಕ್-ನಟ್ ಅನ್ನು _____ ರಂದು ಚೀಂಫರ್ ಮಾಡಲಾಗಿದೆ.

- A) none sides | ಯಾವುದೇ ಬದಿಗಳಿಲ್ಲ
B) lower side | ಕೆಳಗಿನ ಭಾಗ
C) both side | ಎರಡೂ ಕಡೆ
D) upper side | ಮೇಲಿನ ಭಾಗ

Answer: C) both side | ಎರಡೂ ಕಡೆ

37. Identify the name of tool? | ಉಪಕರಣದ ಹೆಸರನ್ನು ಗುರುತಿಸುವುದೇ?



- A) Cutting plier | ಕಟಿಂಗ್ ಪ್ಲಿಯರ್
B) Hawk-billed shear | ಹಾಕ್-ಬಿಲ್ಡ್ ಸಿಯರ್
C) Aviation shear | ಏವಿಯೇಷನ್ ಸಿಯರ್
D) Double cutting shear | ಡಬಲ್ ಕಟಿಂಗ್ ಸಿಯರ್

Answer: A) Cutting plier | ಕಟಿಂಗ್ ಪ್ಲಿಯರ್

38. Identify the given symbol | ನೀಡಿರುವ ಚಿಹ್ನೆಯನ್ನು ಗುರುತಿಸಿ



- A) Ohms | ಓಮ್ಸ್
B) AC
C) Inductance | ಇಂಡಕ್ಟೆನ್ಸ್
D) DC

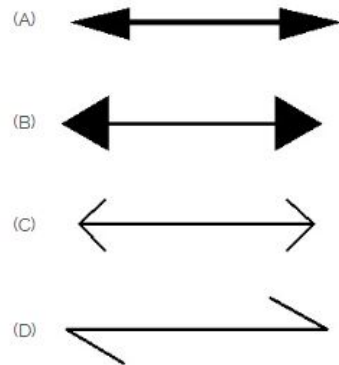
Answer: B) AC

39. GMAW stands for _____ | GMAW ಎಂದರೆ _____

- A) Gun Metal Arc Welding
B) Germanium Metal Arc Welding
C) Gas Tungsten Arc Welding
D) Gas Metal Arc Welding

Answer: D) Gas Metal Arc Welding

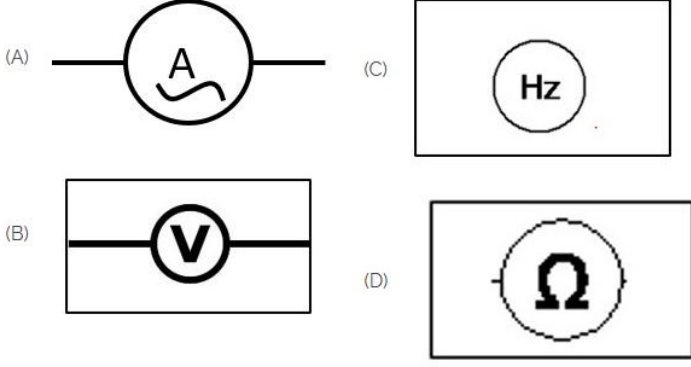
40. Which arrow head is correct as per standard? | ಮಾನದಂಡದ ಪ್ರಕಾರ ಯಾವ ಬಾಣದ ಹೆಡ್ ಸರಿಯಾಗಿದೆ?



- A) A
B) B
C) D
D) C

Answer: A) A

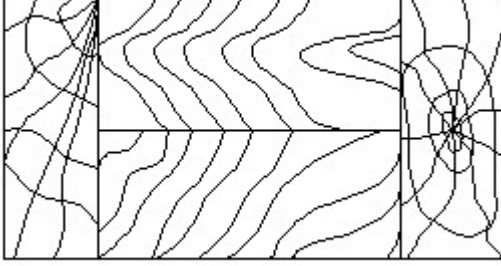
41. Which of the following is AC ammeter? | ಈ ಕೆಳಗಿನವುಗಳಲ್ಲಿ ಯಾವುದು AC ಅಮ್ಮೀಟರ್ ಆಗಿದೆ?



- A) B
C) D
B) A
D) C

Answer: B) A

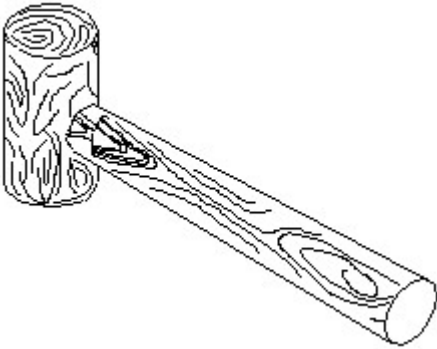
42. Identify the conventional symbol of material? | ವಸ್ತುವಿನ ಕನ್ವೆಷನಲ್ ಚಿಹ್ನೆಯನ್ನು ಗುರುತಿಸಿ?



- A) Paper | ಪೇಪರ್
C) Glass | ಗಾಜು
B) Lead | ಲೀಡ್
D) Wood | ಮರ

Answer: D) Wood | ಮರ

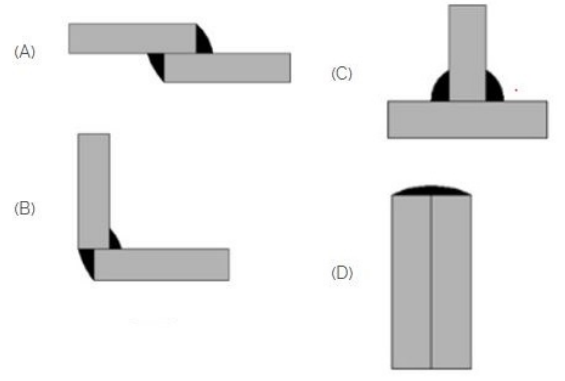
43. Identify the name of tool? | ಉಪಕರಣದ ಹೆಸರನ್ನು ಗುರುತಿಸುವುದೇ?



- A) Mallet | ಮ್ಯಾಲೆಟ್
C) Ball pein hammer | ಬಾಲ್ ಪೆನ್ ಸುತ್ತಿಗೆ
B) Straight pein hammer | ಸ್ಟ್ರೈಟ್ ಪೆಯಿನ್ ಸುತ್ತಿಗೆ
D) Cross pein hammer | ಕ್ರಾಸ್ ಪೀನ್ ಸುತ್ತಿಗೆ

Answer: A) Mallet | ಮ್ಯಾಲೆಟ್

44. Which symbol is used for lap joint? | ಲ್ಯಾಪ್ ಜಾಯಿಂಟ್‌ಗೆ ಯಾವ ಚಿಹ್ನೆಯನ್ನು ಬಳಸಲಾಗುತ್ತದೆ?



- A) D
C) A
B) C
D) B

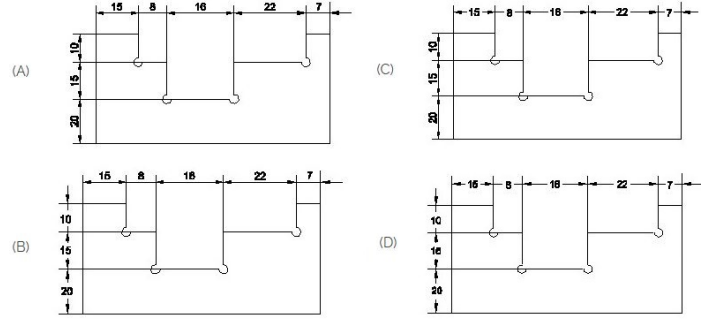
Answer: C) A

45. The thread angle of B.S.W screw threads are ____. | BSW ಸ್ಕ್ರೂ ಥ್ರೆಡ್‌ಗಳ ಥ್ರೆಡ್ ಕೋನವು ____.

- A) 30°
C) 55°
B) 45°
D) 60°

Answer: C) 55°

46. Identify the correct aligned system dimension? | ಸರಿಯಾದ ಜೋಡಿಸಲಾದ ಸಿಸ್ಟಮ್ ಆಯಾಮವನ್ನು ಗುರುತಿಸುವುದೇ?



- A) C
C) A
B) B
D) D

Answer: C) A

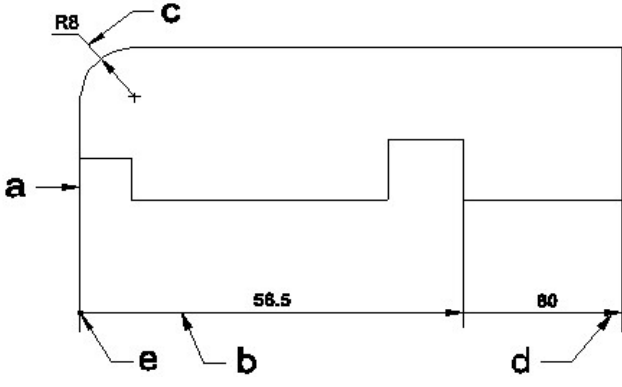
47. What is the name of the gate | ಗೇಟ್ ಹೆಸರೇನು?



- A) AND Gate | AND ಗೇಟ್
C) Ex-NOR Gate | Ex-NOR ಗೇಟ್
B) OR Gate | OR ಗೇಟ್
D) NOT Gate | NOT ಗೇಟ್

Answer: A) AND Gate | AND ಗೇಟ್

48. Identify the line □ b□ ? | □ ಸಾಠಿನ್ನು ಗುರುತಿಸುವುದೇ?



- A) Extension line | ಎಕ್ಸ್ಟೆನ್ಷನ್ ಲೈನ್
 B) Leader line | ಲೀಡರ್ ಲೈನ್
 C) Termination of dimension line | ಆಯಾಮ ರೇಖೆಯ ಮುಕ್ತಾಯ
 D) Dimension line | ಡೈಮೆನ್ಷನ್ ಲೈನ್

Answer: D) Dimension line | ಡೈಮೆನ್ಷನ್ ಲೈನ್

49. Which of the following is temporary fastening? | ಕೆಳಗಿನವುಗಳಲ್ಲಿ ಯಾವುದು ತಾತ್ಕಾಲಿಕ ಫಾಸ್ಟನಿಂಗ್ ?

- A) Welded | ವೆಲ್ಡೆಡ್
 B) Rivets | ರಿವೆಟ್ಸ್
 C) Keys | ಕೀಲಿಗಳು
 D) Screw | ತಿರುಪು

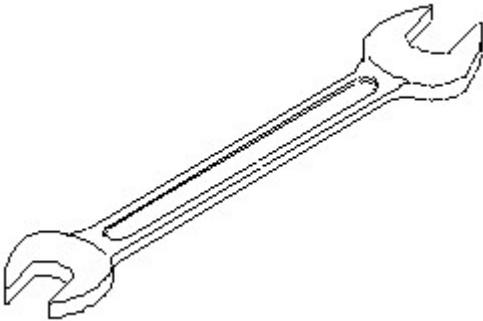
Answer: D) Screw | ತಿರುಪು

50. Which part regulates the heat in automatic iron? | ಆಟೋಮೇಟಿಕ್ ಐರನ್‌ನಲ್ಲಿನ ಶಾಖವನ್ನು ಯಾವ ಭಾಗವು ನಿಯಂತ್ರಿಸುತ್ತದೆ?

- A) Pressure plate | ಪ್ರೆಶರ್ ಪ್ಲೇಟ್
 B) Heating element | ಹೀಟಿಂಗ್ ಎಲಿಮೆಂಟ್
 C) Asbestos sheet | ಆಸ್ಟೆಸ್ಟೋಸ್ ಷೀಟ್
 D) Thermostatic switch | ಥರ್ಮೋಸ್ಟಾಟಿಕ್ ಸ್ವಿಚ್

Answer: D) Thermostatic switch | ಥರ್ಮೋಸ್ಟಾಟಿಕ್ ಸ್ವಿಚ್

51. Identify the name of tool? | ಉಪಕರಣದ ಹೆಸರನ್ನು ಗುರುತಿಸುವುದೇ?



- A) Adjustable spanner | ಹೊಂದಿಸಬಹುದಾದ ಸ್ಪಾನರ್
 B) Ring spanner | ರಿಂಗ್ ಸ್ಪಾನರ್
 C) Combination spanner | ಕಾಂಬಿನೇಶನ್ ಸ್ಪಾನರ್
 D) Open end spanner | ಓಪನ್ ಎಂಡ್ ಸ್ಪಾನರ್

Answer: D) Open end spanner | ಓಪನ್ ಎಂಡ್ ಸ್ಪಾನರ್

52. The Included angle of pipe thread is around _____ | ಪೈಪ್ ಥ್ರೆಡ್ ಒಳಗೊಂಡಿರುವ ಕೋನವು ಸುಮಾರು _____ ಆಗಿದೆ

- A) 75°
 B) 55°
 C) 15°
 D) 10°

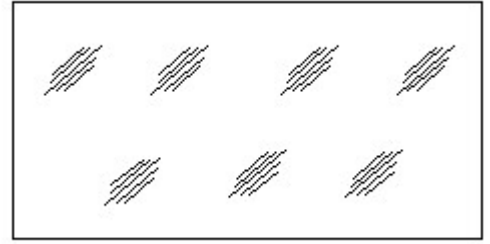
Answer: B) 55°

53. Which is the static machine that increase or decrease the AC voltage? | AC ವೋಲ್ಟೇಜ್ ಅನ್ನು ಹೆಚ್ಚಿಸುವ ಅಥವಾ ಕಡಿಮೆ ಮಾಡುವ ಸ್ಟಾಟಿಕ್ ಯಂತ್ರ ಯಾವುದು?

- A) Alternator | ಆಲ್ಟರ್ನೇಟರ್
 B) Induction motor | ಇಂಡಕ್ಷನ್ ಮೋಟಾರ್
 C) Generator | ಜನರೇಟರ್
 D) Transformer | ಟ್ರಾನ್ಸ್‌ಫಾರ್ಮರ್

Answer: D) Transformer | ಟ್ರಾನ್ಸ್‌ಫಾರ್ಮರ್

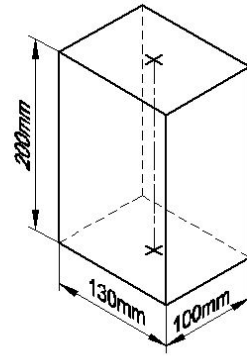
54. Identify the conventional symbol of material? | ವಸ್ತುವಿನ ಕನ್ವೆಂಷನಲ್ ಚಿಹ್ನೆಯನ್ನು ಗುರುತಿಸಿ?



- A) Steel | ಸ್ಟೀಲ್
 B) Concrete | ಕಾಂಕ್ರೀಟ್
 C) Wood | ಮರ
 D) Glass | ಗಾಜು

Answer: D) Glass | ಗಾಜು

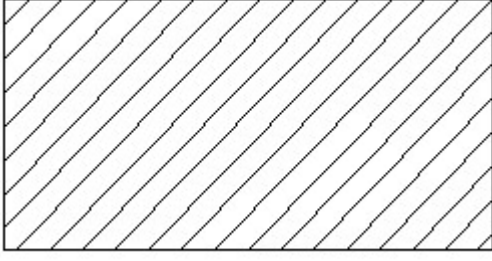
55. Identify the name of prism? | ಪ್ರಿಸ್ಮ್ ಹೆಸರನ್ನು ಗುರುತಿಸುವುದೇ?



- A) Triangular prism | ತ್ರಿಕೋನ ಪ್ರಿಸ್ಮ್
 B) Hexagonal prism | ಷಡ್ಭುಜೀಯ ಪ್ರಿಸ್ಮ್
 C) Rectangle prism | ಆಯತ ಪ್ರಿಸ್ಮ್
 D) Square prism | ಚದರ ಪ್ರಿಸ್ಮ್

Answer: C) Rectangle prism | ಆಯತ ಪ್ರಿಸ್ಮ್

56. Identify the conventional symbol of material? | ವಸ್ತುವಿನ ಕನ್ವೆಂಷನಲ್ ಚಿಹ್ನೆಯನ್ನು ಗುರುತಿಸಿ?



- A) Porcelain | ಪಿಂಗಾಣಿ
B) Glass | ಗಾಜು
C) Lead | ಲೀಡ್
D) Steel | ಸ್ಟೀಲ್


Answer: D) Steel | ಸ್ಟೀಲ್

57. Compass used to draw for ____. | ಕಂಪಾಸ್ ಅನ್ನು _____ ಗೆ ಸೆಳೆಯಲು ಬಳಸಲಾಗುತ್ತದೆ.

- A) triangle | ತ್ರಿಕೋನ
B) rectangle | ಆಯಾತ
C) square | ಚದರ
D) circle | ವೃತ್ತ

Answer: D) circle | ವೃತ್ತ

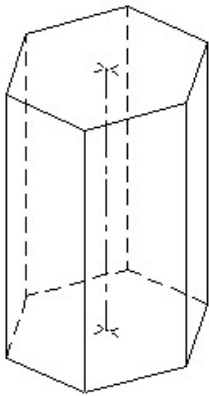
58. Identify the conventional symbol of material? | ವಸ್ತುವಿನ ಕನ್ವೆಷನಲ್ ಚಿಹ್ನೆಯನ್ನು ಗುರುತಿಸಿ?



- A) Wood | ಮರ
B) Steel | ಸ್ಟೀಲ್
C) Glass | ಗಾಜು
D) Concrete | ಕಾಂಕ್ರೀಟ್

Answer: C) Glass | ಗಾಜು

59. Identify the name of prism? | ಪ್ರಿಸ್ಮ್ ಹೆಸರನ್ನು ಗುರುತಿಸುವುದೇ?



- A) Square prism | ಚದರ ಪ್ರಿಸ್ಮ್
B) Triangular prism | ತ್ರಿಕೋನ ಪ್ರಿಸ್ಮ್
C) Pentagonal prism | ಪೆಂಟಾಗೋನಲ್ ಪ್ರಿಸ್ಮ್
D) Hexagonal prism | ಷಡ್ಭುಜೀಯ ಪ್ರಿಸ್ಮ್

Answer: D) Hexagonal prism | ಷಡ್ಭುಜೀಯ ಪ್ರಿಸ್ಮ್

60. This type of section is limited by a break line ____ | ಈ ರೀತಿಯ ವಿಭಾಗವು ಬ್ರೇಕ್ ಲೈನ್ _____ ಮೂಲಕ ಸೀಮಿತವಾಗಿದೆ

- A) removed section | ತೆಗೆದುಹಾಕಲಾದ ವಿಭಾಗ
B) revolved section. | ಸುತ್ತುವ ವಿಭಾಗ.
C) broken-out section | ಮುರಿದ ವಿಭಾಗ
D) half section | ಅರ್ಧ ವಿಭಾಗ

Answer: C) broken-out section | ಮುರಿದ ವಿಭಾಗ

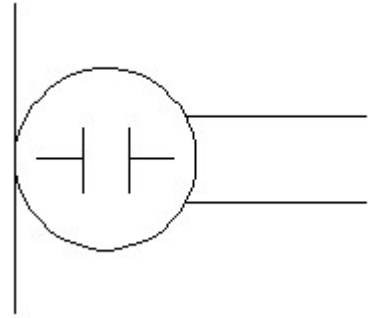
61. Identify the switch in the given picture. | ನೀಡಿರುವ ಚಿತ್ರದಲ್ಲಿ ಸ್ವಿಚ್ ಅನ್ನು ಗುರುತಿಸಿ.



- A) Intermediate Switch | ಮಧ್ಯಂತರ ಸ್ವಿಚ್
B) Flux type switch | ಫ್ಲಕ್ಸ್ ಪ್ರಕಾರದ ಸ್ವಿಚ್
C) Toggle Switch | ಟಾಗಲ್ ಸ್ವಿಚ್
D) Tumbler Switch | ಟಂಬ್ಲರ್ ಸ್ವಿಚ್

Answer: D) Tumbler Switch | ಟಂಬ್ಲರ್ ಸ್ವಿಚ್

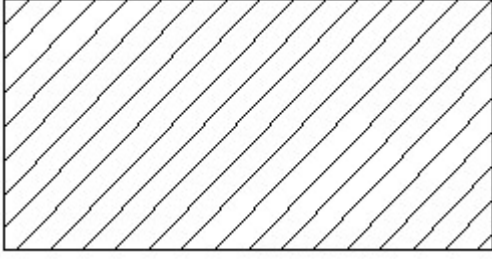
62. What is the name of the symbol? | ಚಿಹ್ನೆಯ ಹೆಸರೇನು?



- A) Condenser microphone | ಕಂಡೆನ್ಸರ್ ಮೈಕ್ರೋಫೋನ್
B) Loud speaker | ಲೌಡ್ ಸ್ಪೀಕರ್
C) Dynamic microphone | ಡೈನಾಮಿಕ್ ಮೈಕ್ರೋಫೋನ್
D) Microphone | ಮೈಕ್ರೋಫೋನ್

Answer: A) Condenser microphone | ಕಂಡೆನ್ಸರ್ ಮೈಕ್ರೋಫೋನ್

63. Identify the conventional symbol of material? | ವಸ್ತುವಿನ ಕನ್ವೆಷನಲ್ ಚಿಹ್ನೆಯನ್ನು ಗುರುತಿಸಿ?



- A) Glass | ಗಾಜು
B) Lead | ಲೀಡ್
C) Porcelain | ಪಿಂಗಾಣಿ
D) Steel | ಸ್ಟೀಲ್

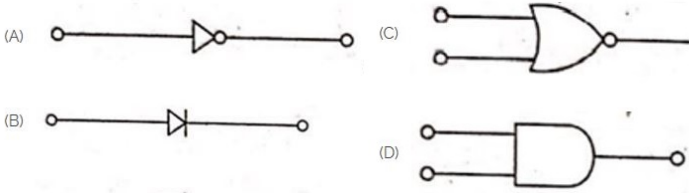
Answer: D) Steel | ಸ್ಟೀಲ್

64. Which materials pipe is used for drainage pipe line? | ಡ್ರೈನೇಜ್ ಪೈಪ್ ಲೈನ್‌ಗೆ ಯಾವ ವಸ್ತುಗಳ ಪೈಪ್ ಅನ್ನು ಬಳಸಲಾಗುತ್ತದೆ?

- A) Brass Pipe | ಹಿತ್ತಾಳೆ ಪೈಪ್
B) PVC pipe | PVC ಪೈಪ್
C) G.I. Pipe | ಜಿಐ ಪೈಪ್
D) Steel pipe | ಉಕ್ಕಿನ ಕೊಳವೆ.

Answer: B) PVC pipe | PVC ಪೈಪ್

65. Which is the NOT gate in the following picture? | ಕೆಳಗಿನ ಚಿತ್ರದಲ್ಲಿ NOT ಗೇಟ್ ಯಾವುದು?



- A) B
B) D
C) C
D) A

Answer: D) A

66. The thread angle of metric thread is _____. | ಮೆಟ್ರಿಕ್ ಥ್ರೆಡ್ ಥ್ರೆಡ್ ಕೋನವು _____ ಆಗಿದೆ.

- A) 120°
B) 30°
C) 90°
D) 60°

Answer: D) 60°

67. Identify the name of set square? | ಸೆಟ್ ಚೌಕದ ಹೆಸರನ್ನು ಗುರುತಿಸುವುದೇ?



- A) 60° set square | 60° ಸೆಟ್ ಸ್ಕ್ವೇರ್
B) 45° set square | 45° ಸೆಟ್ ಸ್ಕ್ವೇರ್
C) 30° set square | 30° ಸೆಟ್ ಸ್ಕ್ವೇರ್
D) 15° set square | 15° ಸೆಟ್ ಸ್ಕ್ವೇರ್

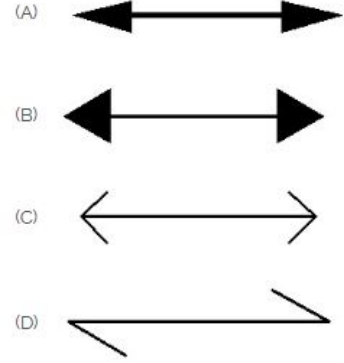
Answer: B) 45° set square | 45° ಸೆಟ್ ಸ್ಕ್ವೇರ್

68. Which device is used to start and stop a motor? | ಮೋಟಾರ್ ಅನ್ನು ಪ್ರಾರಂಭಿಸಲು ಮತ್ತು ನಿಲ್ಲಿಸಲು ಯಾವ ಸಾಧನವನ್ನು ಬಳಸಲಾಗುತ್ತದೆ?

- A) Rotor | ರೋಟರ್
B) Stator | ಸ್ಟೇಟರ್
C) Slip ring | ಸ್ಲಿಪ್ ರಿಂಗ್
D) Starter | ಸ್ಟಾರ್ಟರ್

Answer: D) Starter | ಸ್ಟಾರ್ಟರ್

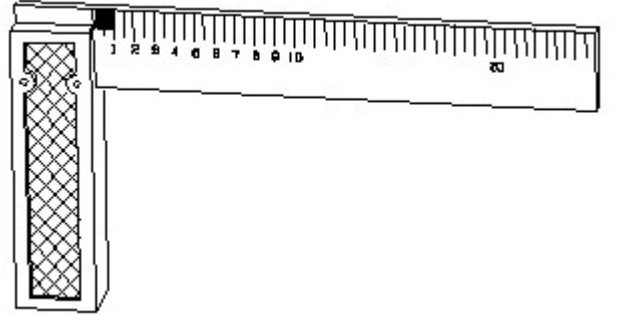
69. Which arrow head is correct as per standard? | ಮಾನದಂಡದ ಪ್ರಕಾರ ಯಾವ ಬಾಣದ ಹೆಡ್ ಸರಿಯಾಗಿದೆ?



- A) D
B) C
C) B
D) A

Answer: D) A

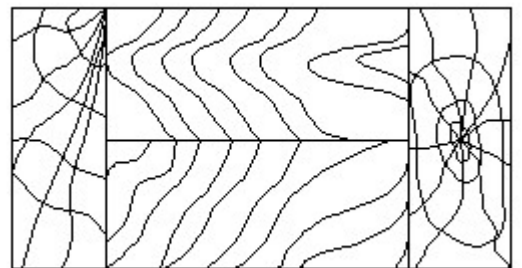
70. 1). Identify the name of tool? | ಉಪಕರಣದ ಹೆಸರನ್ನು ಗುರುತಿಸುವುದೇ?



- A) Surface gauge | ಮೇಲ್ಮೈ ಮಾಪಕ
B) Steel rule | ಸ್ಟೀಲ್ ರೂಲ್
C) Feeler gauge | ಫೀಲರ್ ಗೇಜ್
D) Try square | ಟ್ರೈ ಸ್ಕ್ವೇರ್

Answer: D) Try square | ಟ್ರೈ ಸ್ಕ್ವೇರ್

71. Identify the conventional symbol of material? | ವಸ್ತುವಿನ ಕನ್ವೆಷನಲ್ ಚಿಹ್ನೆಯನ್ನು ಗುರುತಿಸಿ?



- A) Lead | ಲೀಡ್
B) Wood | ಮರ
C) Glass | ಗಾಜು
D) Paper | ಪೇಪರ್

Answer: B) Wood | ಮರ

72. Nut and bolts are _____ | ನಟ್ ಮತ್ತು ಬೋಲ್ಟ್ಸ್ _____

- A) semi permanent | ಅರ್ಧ ಶಾಶ್ವತ B) temporary fastening | ತಾತ್ಕಾಲಿಕ ಜೋಡಣೆ
C) semi temporary | ಅರ್ಧ ತಾತ್ಕಾಲಿಕ D) permanent fastening | ಶಾಶ್ವತ ಜೋಡಣೆ

Answer: B) temporary fastening | ತಾತ್ಕಾಲಿಕ ಜೋಡಣೆ

73. Compass used to draw for _____. | ಕಂಪಾಸ್ ಅನ್ನು _____ ಗೆ ಸೆಳೆಯಲು ಬಳಸಲಾಗುತ್ತದೆ.

- A) rectangle | ಆಯಾತ B) triangle | ತ್ರಿಕೋನ
C) square | ಚದರ D) circle | ವೃತ್ತ

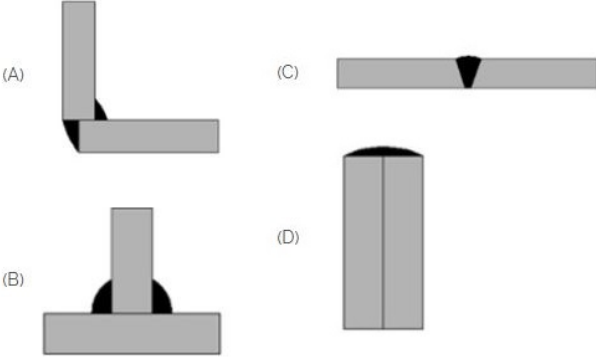
Answer: D) circle | ವೃತ್ತ

74. Which nut can be easily operated with thumb and finger? | ಯಾವ ಅಡಿಕೆಯನ್ನು ಹೆಬ್ಬೆರಳು ಮತ್ತು ಬೆರಳಿನಿಂದ ಸುಲಭವಾಗಿ ನಿರ್ವಹಿಸಬಹುದು?

- A) Dome nut | ಗುಮ್ಮಟ ನಟ್ B) Capstan nut | ಕ್ಯಾಪ್ಸ್ಟಾನ್ ನಟ್
C) Lock nut | ಲಾಕ್ ನಟ್ D) Wing nut | ರೆಕ್ಕೆ ನಟ್

Answer: D) Wing nut | ರೆಕ್ಕೆ ನಟ್

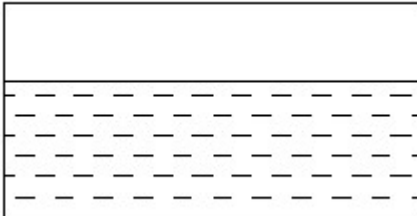
75. Which symbol is used for butt joints? | ಬಟ್ ಕೀಲುಗಳಿಗೆ ಯಾವ ಚಿಹ್ನೆಯನ್ನು ಬಳಸಲಾಗುತ್ತದೆ?



- A) D B) B
C) A D) C

Answer: D) C

76. Identify the conventional symbol of material? | ವಸ್ತುವಿನ ಕನ್ವೆಷನಲ್ ಚಿಹ್ನೆಯನ್ನು ಗುರುತಿಸಿ?



A) Water | ನೀರು

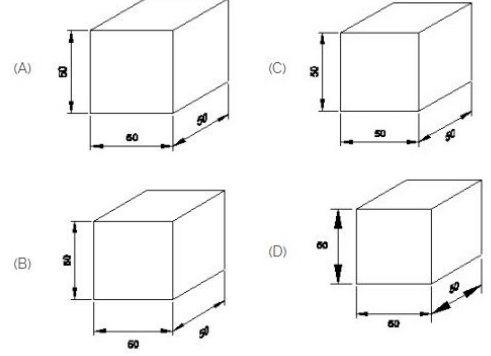
B) Concrete | ಕಾಂಕ್ರೀಟ್

C) Asbestos | ಆಸ್ಟೆಬ್ಲೆಸ್ಟ್

D) Glass | ಗಾಜು

Answer: A) Water | ನೀರು

77. Which drawing dimension is correct as per IS standard? | IS ಮಾನದಂಡದ ಪ್ರಕಾರ ಯಾವ ರೇಖಾಚಿತ್ರದ ಆಯಾಮವು ಸರಿಯಾಗಿದೆ?



A) C

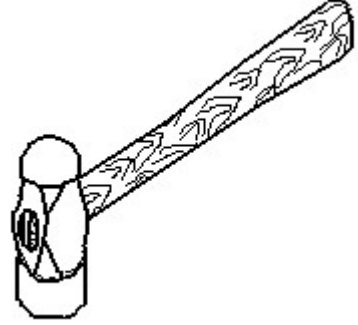
B) D

C) B

D) A

Answer: D) A

78. Identify the name of tool? | ಉಪಕರಣದ ಹೆಸರನ್ನು ಗುರುತಿಸುವುದೇ?



A) Ball peen hammer | ಬಾಲ್ ಪೆನ್ ಸುತ್ತಿಗೆ

B) Sledge hammer | ಸ್ಲೆಡ್ಜ್ ಹ್ಯಾಮರ್

C) Straight peen hammer | ನೇರ ಪೆನ್ ಸುತ್ತಿಗೆ

D) Cross peen hammer | ಕ್ರಾಸ್ ಪೆನ್ ಸುತ್ತಿಗೆ

Answer: A) Ball peen hammer | ಬಾಲ್ ಪೆನ್ ಸುತ್ತಿಗೆ

79. What is the material of line insulator? | ಲೈನ್ ಇನ್ಸುಲೇಟರ್‌ನ ಮೇಟೀರಿಯಲ್ ಯಾವುದು?

A) Porcelain clay | ಪಿಂಗಾಣಿ ಮಣ್ಣಿನ

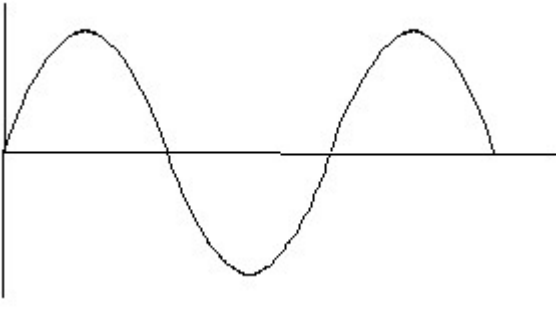
B) Aluminium | ಅಲ್ಯೂಮಿನಿಯಂ

C) Copper | ತಾಮ್ರ

D) Rubber | ರಬ್ಬರ್

Answer: A) Porcelain clay | ಪಿಂಗಾಣಿ ಮಣ್ಣಿನ

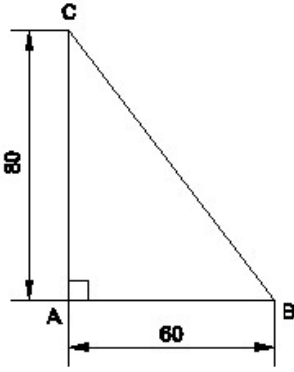
80. Identify the wave form. | ವೇವ್ ಫಾರ್ಮ್ ವನ್ನು ಗುರುತಿಸಿ.



- A) Saw-tooth wave | ಸಾ-ಟೂತ್ ವೇವ
 B) Square wave | ಸ್ಕ್ವೇರ್ ವೇವ್
 C) Sine wave | ಸೈನ್ ವೇವ್
 D) Triangle wave | ತ್ರಿಕೋನ ವೇವ್

Answer: C) Sine wave | ಸೈನ್ ವೇವ್

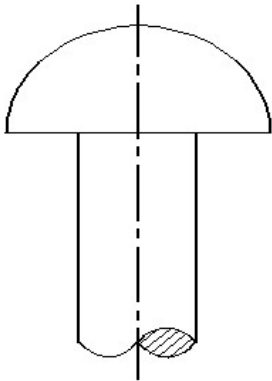
81. Identify the name of the triangle? | ತ್ರಿಕೋನದ ಹೆಸರನ್ನು ಗುರುತಿಸುವುದೇ?



- A) Scalene triangle | ಸ್ಕೇಲಿನ್ ತ್ರಿಕೋನ
 B) Right angle triangle | ಬಲ ಕೋನ ತ್ರಿಕೋನ
 C) Isosceles triangle | ಸಮದ್ವಿಬಾಹು ತ್ರಿಕೋನ
 D) Equilateral triangle | ಸಮಕೋನ ತ್ರಿಕೋನ

Answer: B) Right angle triangle | ಬಲ ಕೋನ ತ್ರಿಕೋನ

82. Identify the given rivet. | ನೀಡಿರುವ ರಿವೆಟ್ ಅನ್ನು ಗುರುತಿಸಿ.



- A) Pan head | ಪ್ಯಾನ್ ಹೆಡ್
 B) Flat head | ಫ್ಲಾಟ್ ಹೆಡ್
 C) Snap head | ಸ್ನಾಪ್ ಹೆಡ್
 D) Counter sunk | ಕೌಂಟರ್ ಸುಂಕ್

Answer: C) Snap head | ಸ್ನಾಪ್ ಹೆಡ್

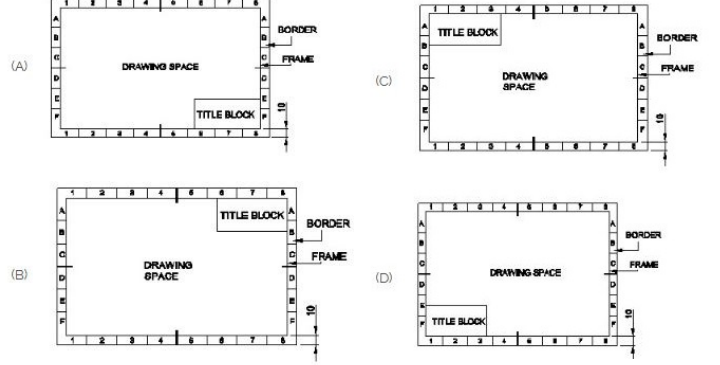
83. How many types of foundation□ s are there based on

depth? | ಆಳದ ಆಧಾರದ ಮೇಲೆ ಎಷ್ಟು ರೀತಿಯ ಅಡಿಪಾಯಗಳಿವೆ?

- A) 3
 B) 2
 C) 2
 D) 5

Answer: B) 2

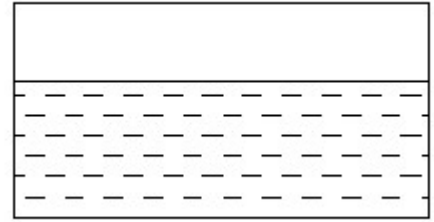
84. Which title block position is correct as standard practice? | ಪ್ರಮಾಣಿತ ಅಭ್ಯಾಸದಂತೆ ಯಾವ ಶೀರ್ಷಿಕೆ ಬಾಕ್ಸ್ ಸ್ಥಾನವು ಸರಿಯಾಗಿದೆ?



- A) B
 B) D
 C) C
 D) A

Answer: D) A

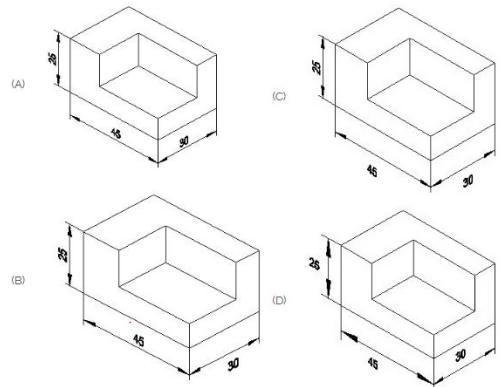
85. Identify the conventional symbol of material? | ವಸ್ತುವಿನ ಕನ್ವೆಷನಲ್ ಚಿಹ್ನೆಯನ್ನು ಗುರುತಿಸಿ?



- A) Asbestos | ಆಸ್ಟೆಸ್ಟೋಸ್
 B) Glass | ಗಾಜು
 C) Water | ನೀರು
 D) Concrete | ಕಾಂಕ್ರೀಟ್

Answer: C) Water | ನೀರು

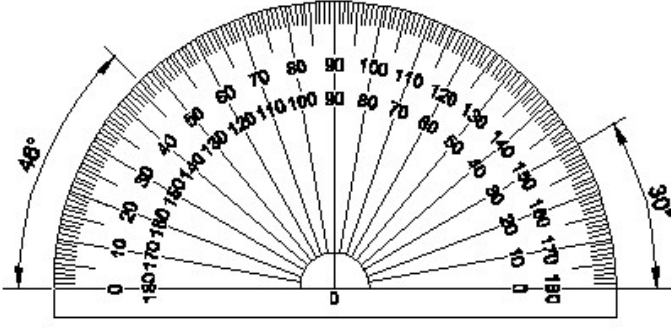
86. Which drawing dimension is correct as per standard drawing practice? | ಸ್ಟಾಂಡರ್ಡ್ ಡ್ರಾಯಿಂಗ್ ಅಭ್ಯಾಸದ ಪ್ರಕಾರ ಯಾವ ಡ್ರಾಯಿಂಗ್ ಆಯಾಮ ಸರಿಯಾಗಿದೆ?



- A) D
 B) B
 C) C
 D) A

Answer: D) A

87. Identify the name of instrument? | ಉಪಕರಣದ ಹೆಸರನ್ನು ಗುರುತಿಸುವುದೇ?



- A) Protractor | ಪ್ರೋಟ್ರಾಕ್ಟರ್ B) Set square | ಸೆಟ್ ಸ್ಕ್ವೇರ್
C) T square | ಟಿ ಸ್ಕ್ವೇರ್ D) French curve | ಫ್ರೆಂಚ್ ಕರ್ವ್

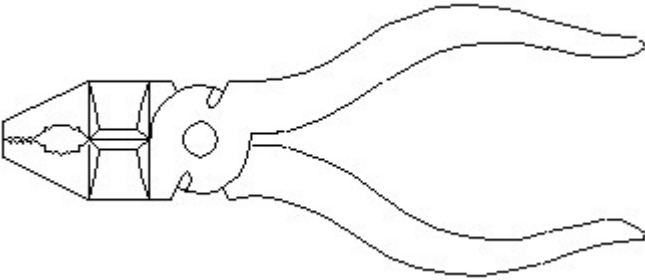
Answer: A) Protractor | ಪ್ರೋಟ್ರಾಕ್ಟರ್

88. Voltage less than 250 volt is called _____. | 250 ವೋಲ್ಟ್‌ಗಿಂತ ಕಡಿಮೆ ವೋಲ್ಟೇಜ್ ಅನ್ನು _____ ಎಂದು ಕರೆಯಲಾಗುತ್ತದೆ.

- A) LT (Low Tension) | LT (ಕಡಿಮೆ ಒತ್ತಡ) B) MT (Medium Tension) | MT (ಮಧ್ಯಮ ಒತ್ತಡ)
C) EHT (Extra High Tension) | EHT (ಹೆಚ್ಚುವರಿ ಅಧಿಕ ಒತ್ತಡ) D) HT (High Tension) | HT (ಅಧಿಕ ಒತ್ತಡ)

Answer: A) LT (Low Tension) | LT (ಕಡಿಮೆ ಒತ್ತಡ)

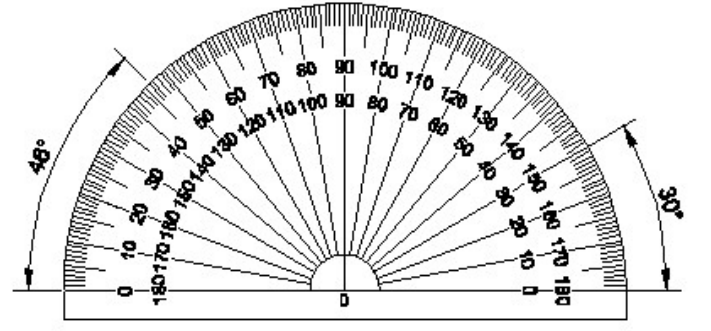
89. Identify the name of tool? | ಉಪಕರಣದ ಹೆಸರನ್ನು ಗುರುತಿಸುವುದೇ?



- A) Hawk-billed shear | ಹಾಕ್-ಬಿಲ್ಡ್ ಸಿಯರ್ B) Aviation shear | ಏವಿಯೇಷನ್ ಸಿಯರ್
C) Cutting plier | ಕಟಿಂಗ್ ಪ್ಲಿಯರ್ D) Double cutting shear | ಡಬಲ್ ಕಟಿಂಗ್ ಸಿಯರ್

Answer: C) Cutting plier | ಕಟಿಂಗ್ ಪ್ಲಿಯರ್


90. Identify the name of instrument? | ಉಪಕರಣದ ಹೆಸರನ್ನು ಗುರುತಿಸುವುದೇ?



- A) Set square | ಸೆಟ್ ಸ್ಕ್ವೇರ್ B) French curve | ಫ್ರೆಂಚ್ ಕರ್ವ್
C) Protractor | ಪ್ರೋಟ್ರಾಕ್ಟರ್ D) T square | ಟಿ ಸ್ಕ್ವೇರ್

Answer: C) Protractor | ಪ್ರೋಟ್ರಾಕ್ಟರ್

91. Which is nose pliers? | ನೋಸ್ ಪ್ಲಿಯರ್ ಯಾವುದು?



- A) C B) B
C) A D) D

Answer: A) C

92. Which is protective device? | ರಕ್ಷಣಾತ್ಮಕ ಸಾಧನ ಯಾವುದು?

- A) Resistor | ರೆಸಿಸ್ಟರ್ B) Capacitor | ಕೆಪಾಸಿಟರ್
C) Fuse | ಫ್ಯೂಸ್ D) Magnet | ಮ್ಯಾಗ್ನೆಟ್

Answer: C) Fuse | ಫ್ಯೂಸ್

93. Identify the name of set square? | ಸೆಟ್ ಚೌಕದ ಹೆಸರನ್ನು ಗುರುತಿಸುವುದೇ?

- A) 15° set square | 15° ಸೆಟ್ ಸ್ಕ್ವೇರ್ B) 30° set square | 30° ಸೆಟ್ ಸ್ಕ್ವೇರ್
C) 60° set square | 60° ಸೆಟ್ ಸ್ಕ್ವೇರ್ D) 45° set square | 45° ಸೆಟ್ ಸ್ಕ್ವೇರ್

Answer: D) 45° set square | 45° ಸೆಟ್ ಸ್ಕ್ವೇರ್

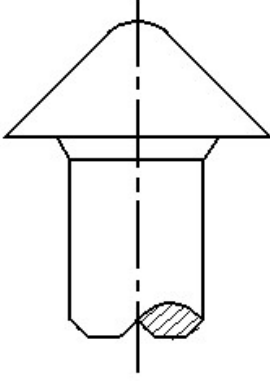
94. What is the trimmed size of A4 sheet? | A4 ಹಾಳೆಯ ಟ್ರಿಮ್ ಮಾಡಿದ ಗಾತ್ರ ಎಷ್ಟು?

- A) 210 x 297 B) 148 x 210
C) 594 x 841 D) 841 x 1189

Answer: A) 210 x 297

95. The head for boiler application is shown in the figure

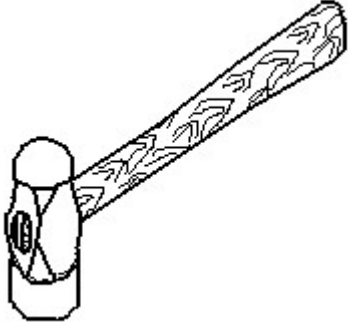
given below is _____ | ಕೆಲಗಿನ ಚಿತ್ರದಲ್ಲಿ ತೋರಿಸಿರುವ ಬಾಯ್ಲರ್ ಅಪ್ಪಿಕೇಶನ್‌ನ ಹೆಡ್:



- A) conical | ಶಂಕುವಿನಾಕಾರದ
B) snap | ಸ್ನಾಪ್
C) pan | ಪ್ಯಾನ್
D) steeple | ಸ್ಟೀಪಲ್

Answer: D) steeple | ಸ್ಟೀಪಲ್

96. Identify the name of tool? | ಉಪಕರಣದ ಹೆಸರನ್ನು ಗುರುತಿಸುವುದೇ?



- A) Cross pein hammer | ಕ್ರಾಸ್ ಪೀನ್ ಸುತ್ತಿಗೆ
B) Straight pein hammer | ನೇರ ಪೀನ್ ಸುತ್ತಿಗೆ
C) Ball pein hammer | ಬಾಲ್ ಪೀನ್ ಸುತ್ತಿಗೆ
D) Sledge hammer | ಸ್ಲೆಡ್ಜ್ ಸುತ್ತಿಗೆ

Answer: C) Ball pein hammer | ಬಾಲ್ ಪೀನ್ ಸುತ್ತಿಗೆ

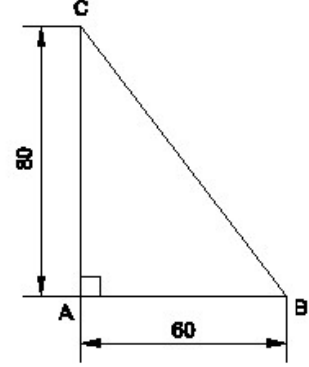
97. Which is the single pole MCB? | ಸಿಂಗಲ್ ಪೋಲ್ MCB ಯಾವುದು?



- A) D
B) B
C) A
D) C

Answer: D) C

98. Identify the name of the triangle? | ತ್ರಿಕೋನದ ಹೆಸರನ್ನು ಗುರುತಿಸುವುದೇ?



- A) Isosceles triangle | ಸಮದ್ವಿಬಾಹು ತ್ರಿಭುಜ
B) Right angle triangle | ಬಲ ಕೋನ ತ್ರಿಕೋನ
C) Equilateral triangle | ಸಮಕೋನ ತ್ರಿಕೋನ
D) Scalene triangle | ಸ್ಕೇಲಿನ್ ತ್ರಿಕೋನ

Answer: B) Right angle triangle | ಬಲ ಕೋನ ತ್ರಿಕೋನ