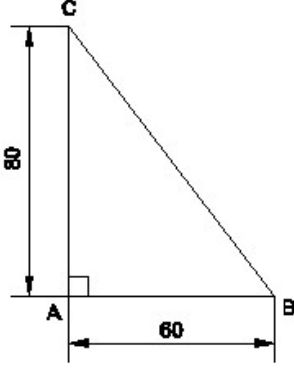


Student Name: _____

Roll No: _____

1. Identify the name of the triangle? | ತ್ರಿಕೋನದ ಹೆಸರನ್ನು ಗುರುತಿಸುವುದೇ?



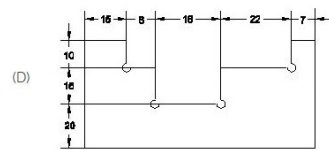
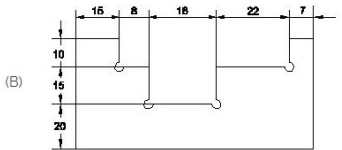
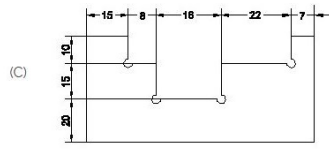
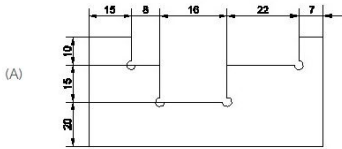
A) Isosceles triangle | ಸಮದ್ವಿಭಾಹು ತ್ರಿಕೋನ

B) Right angle triangle | ಬಲ ಕೋನ ತ್ರಿಕೋನ

C) Scalene triangle | ಸ್ಕೇಲಿನ್ ತ್ರಿಕೋನ

D) Equilateral triangle | ಸಮಕೋನ ತ್ರಿಕೋನ

2. Identify the correct aligned system dimension? | ಸರಿಯಾದ ಜೋಡಿಸಲಾದ ಸಿಸ್ಟಮ್ ಆಯಾಮವನ್ನು ಗುರುತಿಸುವುದೇ?



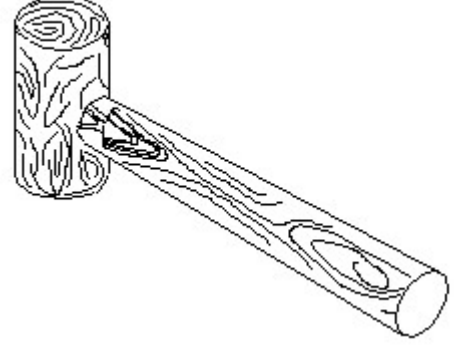
A) D

B) B

C) A

D) C

3. Identify the name of tool? | ಉಪಕರಣದ ಹೆಸರನ್ನು ಗುರುತಿಸುವುದೇ?




A) Ball pein hammer | ಬಾಲ್ ಪೆನ್ ಸುತ್ತಿಗೆ

B) Straight pein hammer | ಸ್ಟ್ರೈಟ್ ಪೆನಿನ್ ಸುತ್ತಿಗೆ

C) Cross pein hammer | ಕ್ರಾಸ್ ಪೆನ್ ಸುತ್ತಿಗೆ

D) Mallet | ಮ್ಯಾಲೆಟ್

4. Identify the conventional symbol of material? | ವಸ್ತುವಿನ ಕನ್ವೆಷನಲ್ ಚಿಹ್ನೆಯನ್ನು ಗುರುತಿಸಿ?



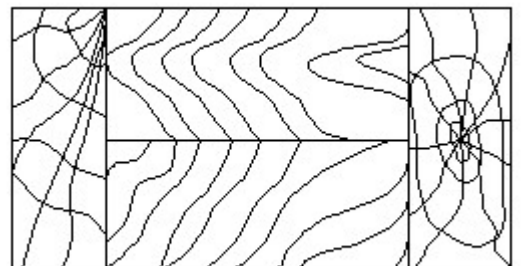
A) Wood | ಮರ

B) Concrete | ಕಾಂಕ್ರೀಟ್

C) Glass | ಗಾಜು

D) Steel | ಸ್ಟೀಲ್

5. Identify the conventional symbol of material? | ವಸ್ತುವಿನ ಕನ್ವೆಷನಲ್ ಚಿಹ್ನೆಯನ್ನು ಗುರುತಿಸಿ?



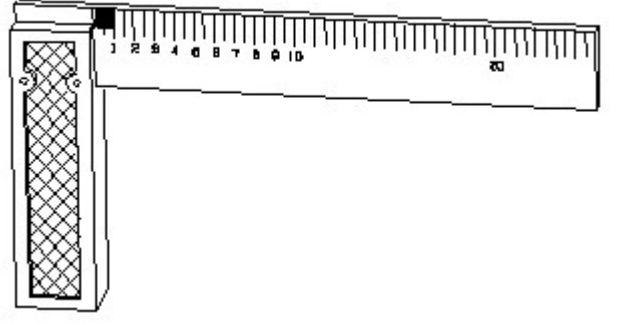
A) Lead | ಲೀಡ್

B) Glass | ಗಾಜು

C) Paper | ಪೆಪರ್

D) Wood | ಮರ

6. 1). Identify the name of tool? | ಉಪಕರಣದ ಹೆಸರನ್ನು ಗುರುತಿಸುವುದೇ?



A) Feeler gauge | ಫೀಲರ್ ಗೇಜ್

B) Try square | ಟ್ರೈ ಸ್ಕ್ವೇರ್

C) Surface gauge | ಮೇಲ್ಮೈ ಮಾಪಕ

D) Steel rule | ಸ್ಟೀಲ್ ರೂಲ್