

Duration: 30 Mins

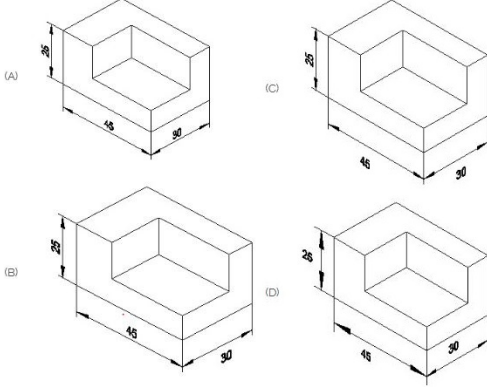
Total Marks: 26

ID: ITISKILL5952MZ

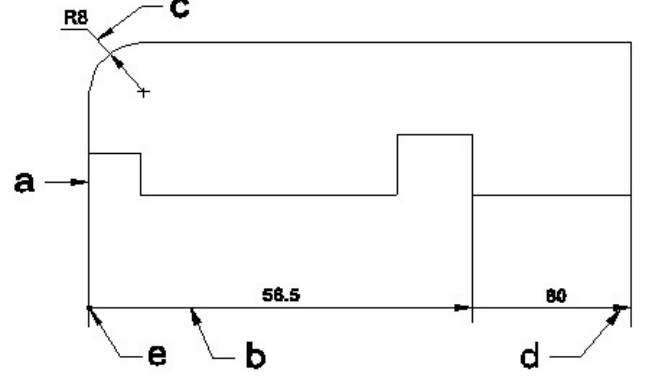
Student Name: \_\_\_\_\_

Roll No: \_\_\_\_\_

1. Which drawing dimension is correct as per standard drawing practice? | ಸ್ಪಾಂಡರ್ಡ್ ಡ್ರಾಯಿಂಗ್ ಅಭ್ಯಾಸದ ಪ್ರಕಾರ ಯಾವ ಡ್ರಾಯಿಂಗ್ ಆಯಾಮ ಸರಿಯಾಗಿದೆ?

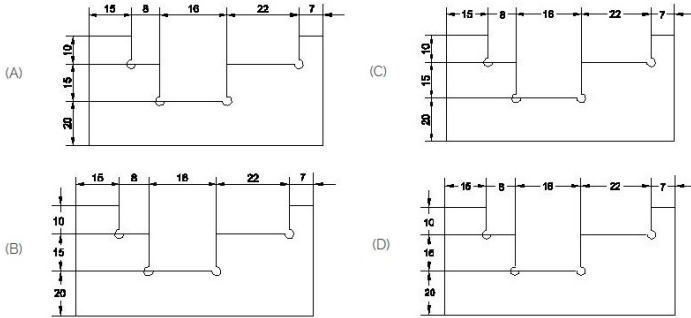


- A) D  
B) A  
C) B  
D) C



- A) Extension line | ಎಕ್ಸ್ಟೆನ್ಷನ್ ಲೈನ್  
B) Termination of dimension line | ಆಯಾಮ ರೇಖೆಯ ಮುಕ್ತಾಯ  
C) Dimension line | ಡೈಮೆನ್ಷನ್ ಲೈನ್  
D) Leader line | ಲೀಡರ್ ಲೈನ್

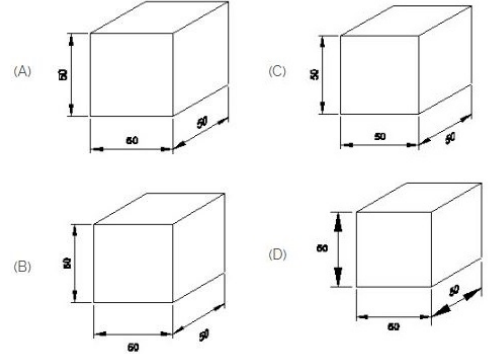
2. Identify the correct aligned system dimension? | ಸರಿಯಾದ ಜೋಡಿಸಲಾದ ಸಿಸ್ಟಮ್ ಆಯಾಮವನ್ನು ಗುರುತಿಸುವುದೇ?



- A) C  
B) D  
C) B  
D) A

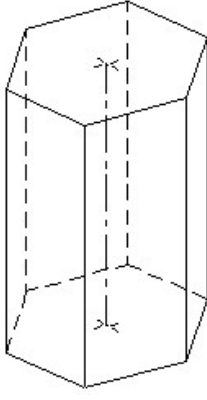
3. Identify the line □ b□ ? | □ ಸಾಲುನ್ನು ಗುರುತಿಸುವುದೇ?

4. Which drawing dimension is correct as per IS standard? | IS ಮಾನದಂಡದ ಪ್ರಕಾರ ಯಾವ ರೇಖಾಚಿತ್ರದ ಆಯಾಮವು ಸರಿಯಾಗಿದೆ?

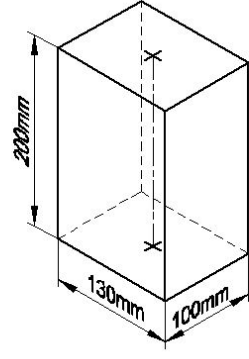


- A) D  
B) B  
C) C  
D) A

5. Identify the name of prism? | ಪ್ರಿಸ್ಮ್ ಹೆಸರನ್ನು ಗುರುತಿಸುವುದೇ?

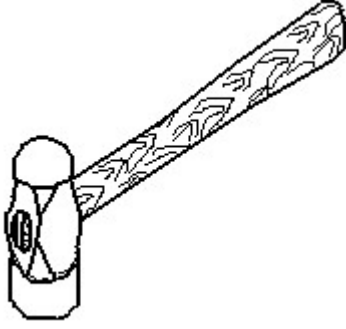


- A) Hexagonal prism | ಷಡ್ಭುಜೀಯ ಪ್ರಿಸ್ಮ್  
 B) Pentagonal prism | ಪೆಂಟಗೋನಲ್ ಪ್ರಿಸ್ಮ್  
 C) Triangular prism | ತ್ರಿಕೋನ ಪ್ರಿಸ್ಮ್  
 D) Square prism | ಚದರ ಪ್ರಿಸ್ಮ್



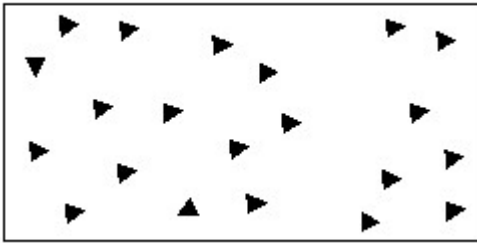
- A) Hexagonal prism | ಷಡ್ಭುಜೀಯ ಪ್ರಿಸ್ಮ್  
 B) Triangular prism | ತ್ರಿಕೋನ ಪ್ರಿಸ್ಮ್  
 C) Square prism | ಚದರ ಪ್ರಿಸ್ಮ್  
 D) Rectangle prism | ಆಯತ ಪ್ರಿಸ್ಮ್

6. Identify the name of tool? | ಉಪಕರಣದ ಹೆಸರನ್ನು ಗುರುತಿಸುವುದೇ?



- A) Straight peen hammer | ನೇರ ಪೆನ್ ಸುತ್ತಿಗೆ  
 B) Cross peen hammer | ಕ್ರಾಸ್ ಪೀನ್ ಸುತ್ತಿಗೆ  
 C) Sledge hammer | ಸ್ಲೆಡ್ಜ್ ಸುತ್ತಿಗೆ  
 D) Ball peen hammer | ಬಾಲ್ ಪೆನ್ ಸುತ್ತಿಗೆ

7. Identify the conventional symbol of material? | ವಸ್ತುವಿನ ಕನ್ವೆಷನಲ್ ಚಿಹ್ನೆಯನ್ನು ಗುರುತಿಸಿ?



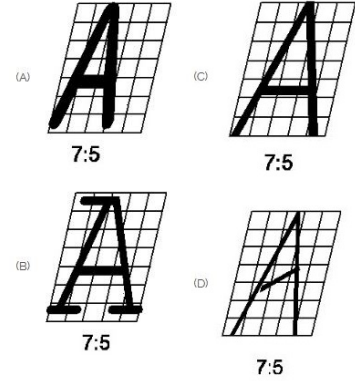
- A) Steel | ಸ್ಟೀಲ್  
 B) Concrete | ಕಾಂಕ್ರೀಟ್  
 C) Glass | ಗಾಜು  
 D) Wood | ಮರ

8. Identify the name of prism? | ಪ್ರಿಸ್ಮ್ ಹೆಸರನ್ನು ಗುರುತಿಸುವುದೇ?

9. What is the trimmed size of A4 sheet? | A4 ಹಾಳೆಯ ಟ್ರಿಮ್ ಮಾಡಿದ ಗಾತ್ರ ಎಷ್ಟು?

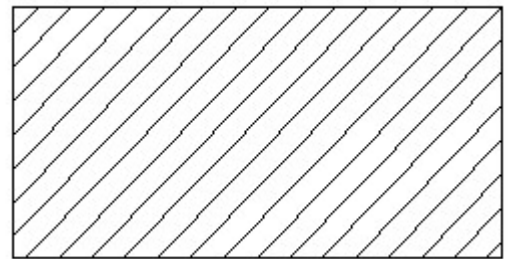
- A) 841 x 1189  
 B) 594 x 841  
 C) 210 x 297  
 D) 148 x 210

10. Which single stroke inclined letter A is correct as per IS standard? | IS ಮಾನದಂಡದ ಪ್ರಕಾರ ಯಾವ ಏಕ ಸ್ಟ್ರೋಕ್ ಇಳಿಜಾರಿನ ಅಕ್ಷರ A ಡ್ರಿಯಾಗಿದೆ?



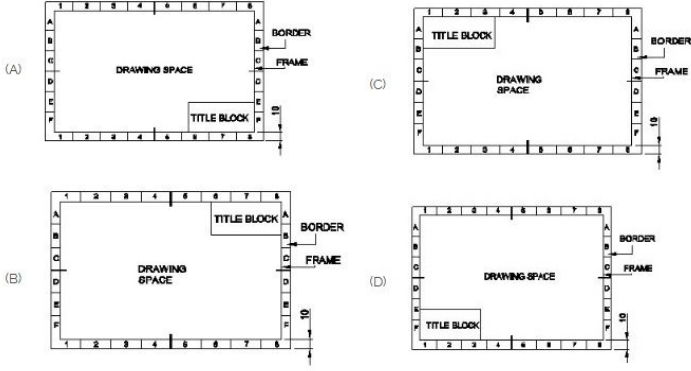
- A) B  
 B) A  
 C) D  
 D) C

11. Identify the conventional symbol of material? | ವಸ್ತುವಿನ ಕನ್ವೆಷನಲ್ ಚಿಹ್ನೆಯನ್ನು ಗುರುತಿಸಿ?

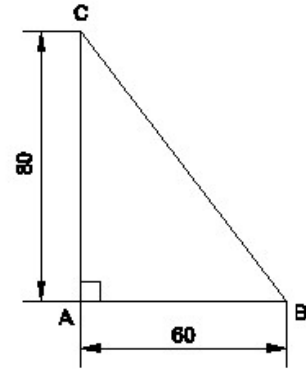


- A) Lead | ಲೀಡ್  
 B) Glass | ಗಾಜು  
 C) Porcelain | ಪಿಂಗಾಣಿ  
 D) Steel | ಸ್ಟೀಲ್

12. Which title block position is correct as standard practice?  
| ಪ್ರಮಾಣಿತ ಅಭ್ಯಾಸದಂತೆ ಯಾವ ಶೀರ್ಷಿಕೆ ಬಾಕ್ಸ್ ಸ್ಥಾನವು ಸರಿಯಾಗಿದೆ?

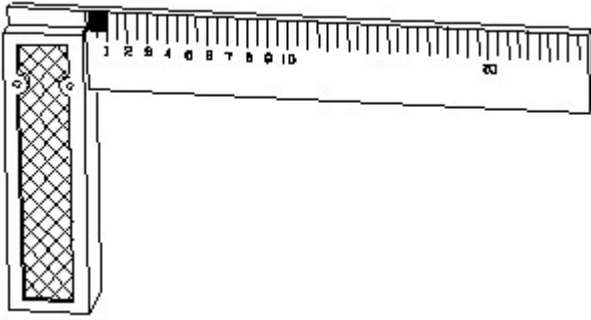


- A) D  
C) A  
B) C  
D) B



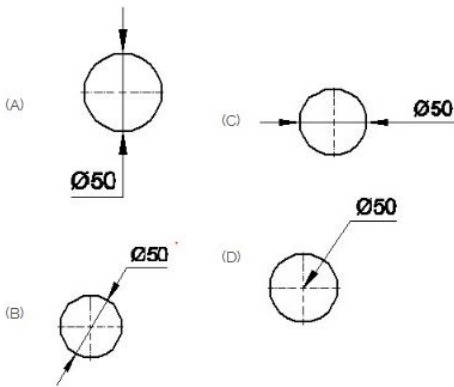
- A) Equilateral triangle | ಸಮಕೋನ ತ್ರಿಕೋನ  
C) Isosceles triangle | ಸಮದ್ವಿಬಾಹು ತ್ರಿಭುಜ  
B) Right angle triangle | ಬಲ ಕೋನ ತ್ರಿಕೋನ  
D) Scalene triangle | ಸ್ಕೇಲಿನ್ ತ್ರಿಕೋನ

13. 1). Identify the name of tool? | ಉಪಕರಣದ ಹೆಸರನ್ನು ಗುರುತಿಸುವುದೇ?



- A) Feeler gauge | ಫೀಲರ್ ಗೇಜ್  
C) Try square | ಟ್ರೈ ಸ್ಕ್ವೇರ್  
B) Steel rule | ಸ್ಟೀಲ್ ರೂಲ್  
D) Surface gauge | ಮೇಲ್ಮೈ ಮಾಪಕ

14. Which dimension correctly marked in the circle as per standard? | ಮಾನದಂಡದ ಪ್ರಕಾರ ವೃತ್ತದಲ್ಲಿ ಯಾವ ಆಯಾಮವನ್ನು ಸರಿಯಾಗಿ ಗುರುತಿಸಲಾಗಿದೆ?



- A) C  
C) A  
B) B  
D) D


15. Identify the name of the triangle? | ತ್ರಿಕೋನದ ಹೆಸರನ್ನು ಗುರುತಿಸುವುದೇ?

16. Identify the name of set square? | ಸೆಟ್ ಚೌಕದ ಹೆಸರನ್ನು ಗುರುತಿಸುವುದೇ?



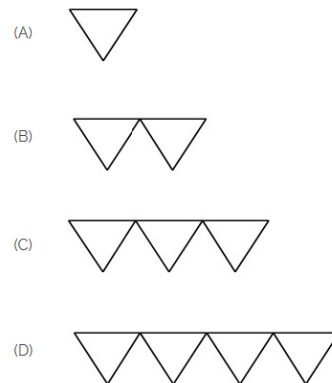
- A) 60° set square | 60° ಸೆಟ್ ಸ್ಕ್ವೇರ್  
C) 15° set square | 15° ಸೆಟ್ ಸ್ಕ್ವೇರ್  
B) 45° set square | 45° ಸೆಟ್ ಸ್ಕ್ವೇರ್  
D) 30° set square | 30° ಸೆಟ್ ಸ್ಕ್ವೇರ್

17. Identify the conventional symbol of material? | ವಸ್ತುವಿನ ಕನ್ವೆಷನಲ್ ಚಿಹ್ನೆಯನ್ನು ಗುರುತಿಸಿ?



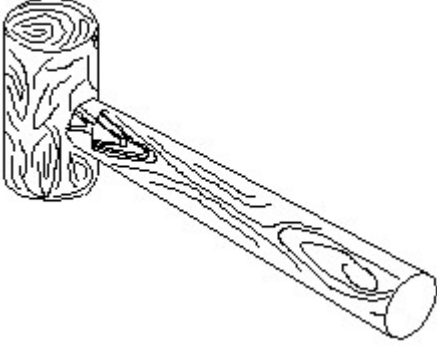
- A) Wood | ಮರ  
C) Concrete | ಕಾಂಕ್ರೀಟ್  
B) Steel | ಸ್ಟೀಲ್  
D) Glass | ಗಾಜು

18. Which is roughness symbol for roughness grade N8?



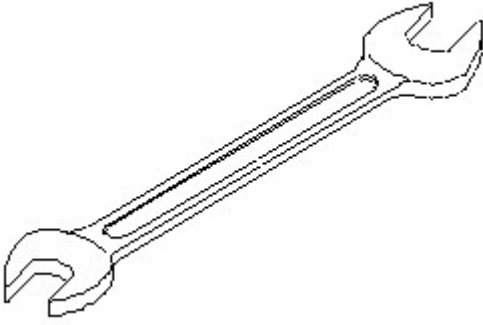
- A) C  
C) D  
B) B  
D) A

19. Identify the name of tool? | ಉಪಕರಣದ ಹೆಸರನ್ನು ಗುರುತಿಸುವುದೇ?



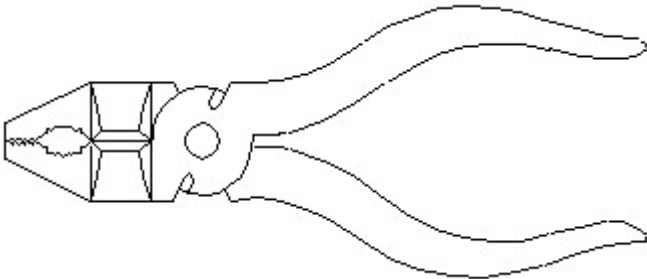
- A) Mallet | ಮ್ಯಾಲೆಟ್  
 B) Cross pein hammer | ಕ್ರಾಸ್ ಪೀನ್ ಸುತ್ತಿಗೆ  
 C) Straight pein hammer | ಸ್ಟ್ರೇಟ್ ಪೆನಿನ್ ಸುತ್ತಿಗೆ  
 D) Ball pein hammer | ಬಾಲ್ ಪೆನ್ ಸುತ್ತಿಗೆ

20. Identify the name of tool? | ಉಪಕರಣದ ಹೆಸರನ್ನು ಗುರುತಿಸುವುದೇ?



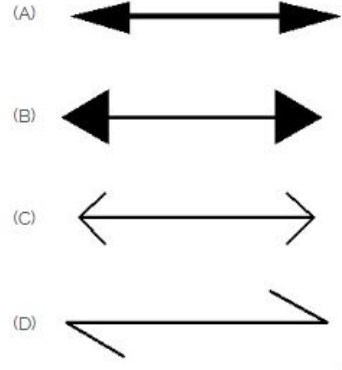
- A) Open end spanner | ಓಪನ್ ಎಂಡ್ ಸ್ಪಾನ್ಸರ್  
 B) Ring spanner | ರಿಂಗ್ ಸ್ಪಾನ್ಸರ್  
 C) Combination spanner | ಕಾಂಬಿನೇಶನ್ ಸ್ಪಾನ್ಸರ್  
 D) Adjustable spanner | ಹೊಂದಿಸಬಹುದಾದ ಸ್ಪಾನ್ಸರ್

21. Identify the name of tool? | ಉಪಕರಣದ ಹೆಸರನ್ನು ಗುರುತಿಸುವುದೇ?



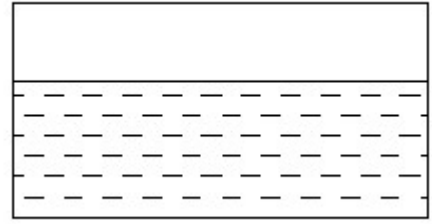
- A) Cutting plier | ಕಟಿಂಗ್ ಪ್ಲಿಯರ್  
 B) Aviation shear | ಏವಿಯೇಷನ್ ಸಿಯರ್  
 C) Hawk-billed shear | ಹಾಕ್-ಬಿಲ್ಡ್ ಸಿಯರ್  
 D) Double cutting shear | ಡಬಲ್ ಕಟಿಂಗ್ ಸಿಯರ್

22. Which arrow head is correct as per standard? | ಮಾನದಂಡದ ಪ್ರಕಾರ ಯಾವ ಬಾಣದ ಹೆಡ್ ಸರಿಯಾಗಿದೆ?



- A) A  
 B) B  
 C) C  
 D) D

23. Identify the conventional symbol of material? | ವಸ್ತುವಿನ ಕನ್ವೆಷನಲ್ ಚಿಹ್ನೆಯನ್ನು ಗುರುತಿಸಿ?

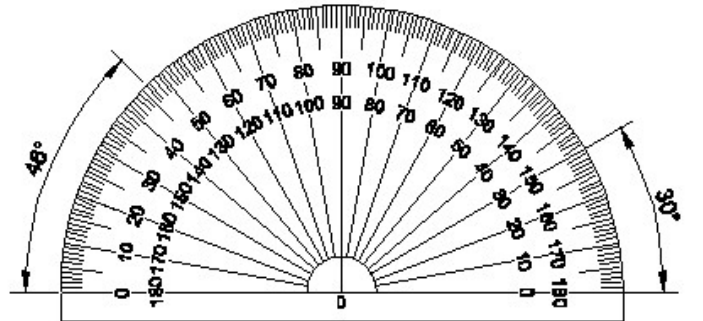


- A) Water | ನೀರು  
 B) Concrete | ಕಾಂಕ್ರೀಟ್  
 C) Asbestos | ಆಸ್ಟೆಸ್ಟೋಸ್  
 D) Glass | ಗಾಜು

24. Compass used to draw for \_\_\_\_. | ಕಂಪಾಸ್ ಅನ್ನು \_\_\_\_\_ ಗೆ ಸೆಳೆಯಲು ಬಳಸಲಾಗುತ್ತದೆ.

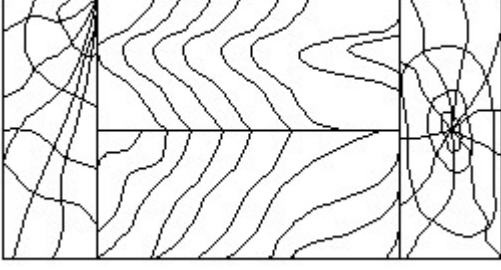
- A) square | ಚದರ  
 B) rectangle | ಆಯಾತ  
 C) triangle | ತ್ರಿಕೋನ  
 D) circle | ವೃತ್ತ

25. Identify the name of instrument? | ಉಪಕರಣದ ಹೆಸರನ್ನು ಗುರುತಿಸುವುದೇ?



- A) French curve | ಫ್ರೆಂಚ್ ಕರ್ವ್  
 B) Protractor | ಪ್ರೊಟ್ರಾಕ್ಟರ್  
 C) Set square | ಸೆಟ್ ಸ್ಕ್ವೇರ್  
 D) T square | ಟ್ ಸ್ಕ್ವೇರ್

26. Identify the conventional symbol of material? | ವಸ್ತುವಿನ ಕನ್ವೆಷನಲ್ ಚಿಹ್ನೆಯನ್ನು ಗುರುತಿಸಿ?



A) Wood | ಮರ

B) Glass | ಗಾಜು

C) Paper | ಪೇಪರ್

D) Lead | ಲೀಡ್

---