

Duration: 30 Mins

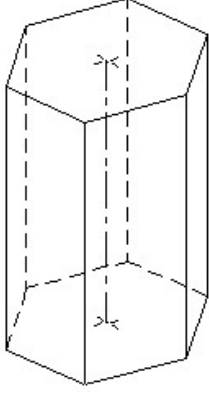
Total Marks: 3

ID: ITISKILL5563TB

Student Name: _____

Roll No: _____

1. Identify the name of prism? | ಪ್ರಿಸ್ಮ್ ಹೆಸರನ್ನು ಗುರುತಿಸುವುದೇ?



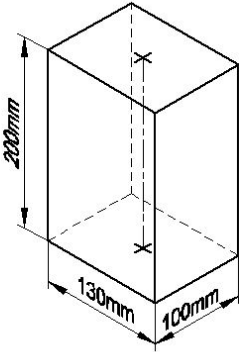
A) Hexagonal prism | ಷಡ್ಭುಜೀಯ ಪ್ರಿಸ್ಮ್

B) Pentagonal prism | ಪಂಚಗೋನಲ್ ಪ್ರಿಸ್ಮ್

C) Triangular prism | ತ್ರಿಕೋನ ಪ್ರಿಸ್ಮ್

D) Square prism | ಚದರ ಪ್ರಿಸ್ಮ್

2. Identify the name of prism? | ಪ್ರಿಸ್ಮ್ ಹೆಸರನ್ನು ಗುರುತಿಸುವುದೇ?



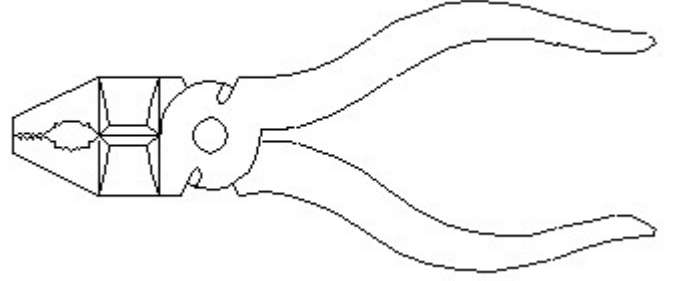
A) Hexagonal prism | ಷಡ್ಭುಜೀಯ ಪ್ರಿಸ್ಮ್

B) Square prism | ಚದರ ಪ್ರಿಸ್ಮ್

C) Rectangle prism | ಆಯತ ಪ್ರಿಸ್ಮ್

D) Triangular prism | ತ್ರಿಕೋನ ಪ್ರಿಸ್ಮ್

3. Identify the name of tool? | ಉಪಕರಣದ ಹೆಸರನ್ನು ಗುರುತಿಸುವುದೇ?



A) Double cutting shear | ಡಬಲ್ ಕಟಿಂಗ್ ಷಿಯರ್

B) Hawk-billed shear | ಹಾಕ್-ಬಿಲ್ಡ್ ಷಿಯರ್

C) Aviation shear | ಏವಿಯೇಷನ್ ಷಿಯರ್

D) Cutting plier | ಕಟಿಂಗ್ ಪ್ಲಿಯರ್