

Duration: 30 Mins

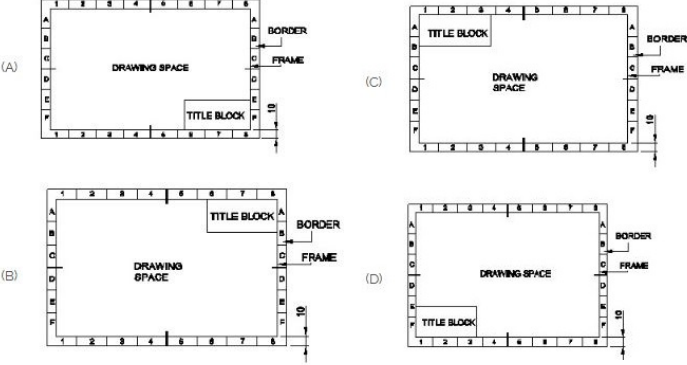
Total Marks: 10

ID: ITISKILL5474BB

Student Name: \_\_\_\_\_

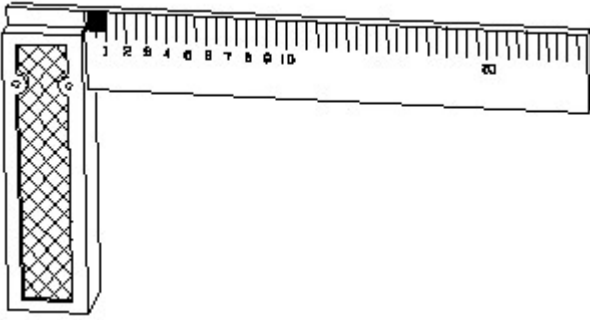
Roll No: \_\_\_\_\_

1. Which title block position is correct as standard practice? | ಪ್ರಮಾಣಿತ ಅಭ್ಯಾಸದಂತೆ ಯಾವ ಶೀರ್ಷಿಕೆ ಬ್ಲಾಕ್ ಸ್ಥಾನವು ಸರಿಯಾಗಿದೆ?



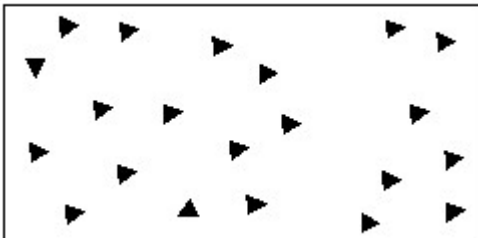
- A) D  
B) B  
C) A  
D) C

2. 1). Identify the name of tool? | ಉಪಕರಣದ ಹೆಸರನ್ನು ಗುರುತಿಸುವುದೇ?



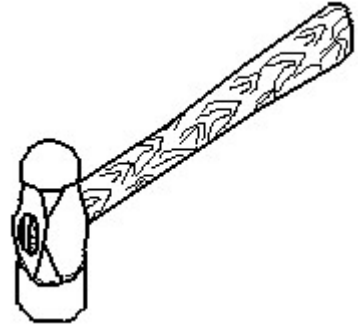
- A) Steel rule | ಸ್ಟೀಲ್ ರೂಲ್  
B) Surface gauge | ಮೇಲ್ಮೈ ಮಾಪಕ  
C) Try square | ಟ್ರೈ ಸ್ಕ್ವೇರ್  
D) Feeler gauge | ಫೀಲರ್ ಗೇಜ್

3. Identify the conventional symbol of material? | ವಸ್ತುವಿನ ಕನ್ವೆಷನಲ್ ಚಿಹ್ನೆಯನ್ನು ಗುರುತಿಸಿ?



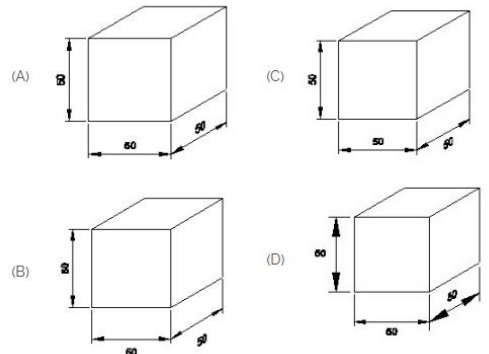
- A) Glass | ಗಾಜು  
B) Concrete | ಕಾಂಕ್ರೀಟ್  
C) Steel | ಸ್ಟೀಲ್  
D) Wood | ಮರ

4. Identify the name of tool? | ಉಪಕರಣದ ಹೆಸರನ್ನು ಗುರುತಿಸುವುದೇ?



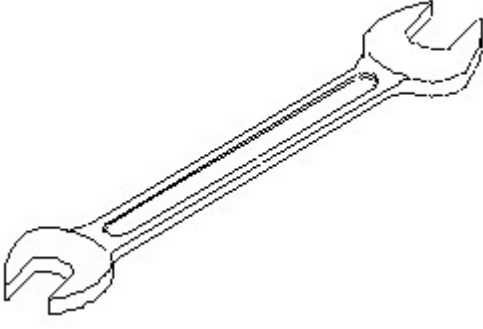
- A) Straight peen hammer | ನೇರ ಪೆನ್ ಸುತ್ತಿಗೆ  
B) Cross peen hammer | ಕ್ರಾಸ್ ಪೀನ್ ಸುತ್ತಿಗೆ  
C) Sledge hammer | ಸ್ಲೆಡ್ಜ್ ಸುತ್ತಿಗೆ  
D) Ball peen hammer | ಬಾಲ್ ಪೆನ್ ಸುತ್ತಿಗೆ

5. Which drawing dimension is correct as per IS standard? | IS ಮಾನದಂಡದ ಪ್ರಕಾರ ಯಾವ ರೇಖಾಚಿತ್ರದ ಆಯಾಮವು ಸರಿಯಾಗಿದೆ?



- A) A  
B) D  
C) B  
D) C

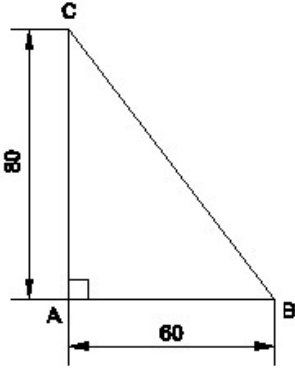
6. Identify the name of tool? | ಉಪಕರಣದ ಹೆಸರನ್ನು ಗುರುತಿಸುವುದೇ?



A) Combination spanner | ಕಾಂಬಿನೇಶನ್ ಸ್ಪ್ಯಾನರ್  
C) Adjustable spanner | ಹೊಂದಿಸಬಹುದಾದ ಸ್ಪ್ಯಾನರ್

B) Open end spanner | ಓಪನ್ ಎಂಡ್ ಸ್ಪ್ಯಾನರ್  
D) Ring spanner | ರಿಂಗ್ ಸ್ಪ್ಯಾನರ್

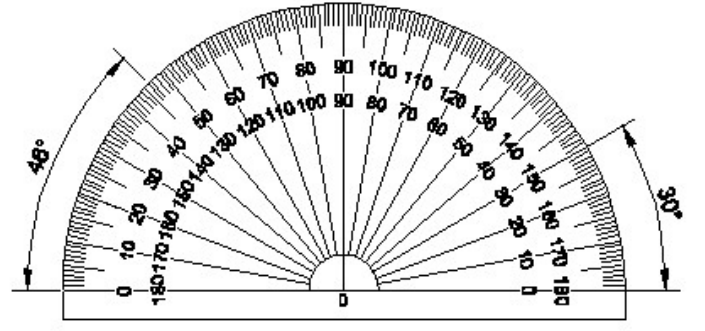
7. Identify the name of the triangle? | ತ್ರಿಕೋನದ ಹೆಸರನ್ನು ಗುರುತಿಸುವುದೇ?



A) Scalene triangle | ಸ್ಕೇಲಿನ್ ತ್ರಿಕೋನ  
C) Right angle triangle | ಬಲ ಕೋನ ತ್ರಿಕೋನ

B) Equilateral triangle | ಸಮಕೋನ ತ್ರಿಕೋನ  
D) Isosceles triangle | ಸಮದ್ವಿಬಾಹು ತ್ರಿಕೋನ

8. Identify the name of instrument? | ಉಪಕರಣದ ಹೆಸರನ್ನು ಗುರುತಿಸುವುದೇ?

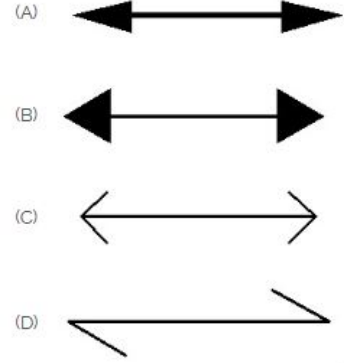


A) French curve | ಫ್ರೆಂಚ್ ಕರ್ವ್  
C) Protractor | ಪ್ರೊಟ್ರಾಕ್ಟರ್

9. Compass used to draw for \_\_\_. | ಕಂಪಾಸ್ ಅನ್ನು \_\_\_ ಗೆ ಸೆಳೆಯಲು ಬಳಸಲಾಗುತ್ತದೆ.

A) rectangle | ಆಯಾತ  
C) triangle | ತ್ರಿಕೋನ

10. Which arrow head is correct as per standard? | ಮಾನದಂಡದ ಪ್ರಕಾರ ಯಾವ ಬಾಣದ ಹೆಡ್ ಸರಿಯಾಗಿದೆ?



A) C  
C) B

B) D  
D) A