

February 2026

GOVT ITI PERDOOR

Question Paper

Duration: 20 Mins


Total Marks: 24

ID: ITISKILL5442SB

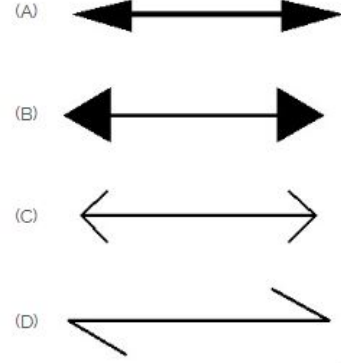
Student Name: \_\_\_\_\_

Roll No: \_\_\_\_\_

1. Identify the conventional symbol of material? | ವಸ್ತುವಿನ  
ಕನ್ವೆಷನಲ್ ಚಿಹ್ನೆಯನ್ನು ಗುರುತಿಸಿ?



- A) Wood | ಮರ  
B) Concrete | ಕಾಂಕ್ರೀಟ್  
C) Glass | ಗಾಜು  
D) Steel | ಸ್ಟೀಲ್

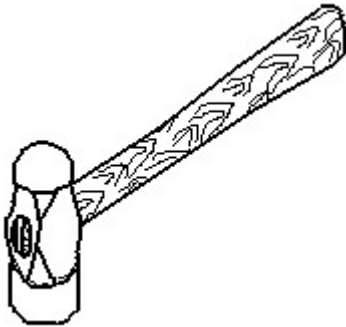


- A) A  
B) B  
C) D  
D) C

2. Compass used to draw for \_\_\_\_\_. | ಕಂಪಾಸ್ ಅನ್ನು \_\_\_\_\_ ಗೆ  
ಸೆಳೆಯಲು ಬಳಸಲಾಗುತ್ತದೆ.

- A) rectangle | ಆಯಾತ  
B) circle | ವೃತ್ತ  
C) triangle | ತ್ರಿಕೋನ  
D) square | ಚದರ

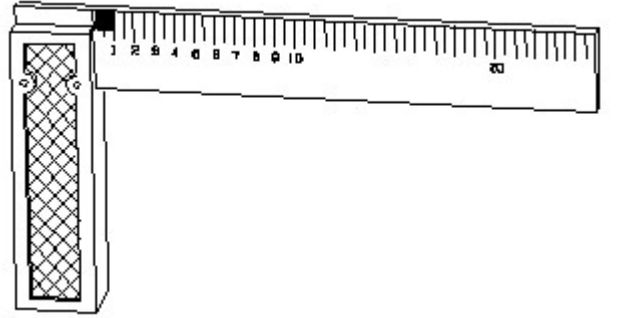
3. Identify the name of tool? | ಉಪಕರಣದ ಹೆಸರನ್ನು  
ಗುರುತಿಸುವುದೇ?



- A) Straight peen hammer | ನೇರ ಪೆನ್ ಸುತ್ತಿಗೆ  
B) Sledge hammer | ಸ್ಲೆಡ್ಜ್  
ಸುತ್ತಿಗೆ  
C) Ball peen hammer | ಬಾಲ್  
ಪೆನ್ ಸುತ್ತಿಗೆ  
D) Cross peen hammer | ಕ್ರಾಸ್  
ಪೀನ್ ಸುತ್ತಿಗೆ

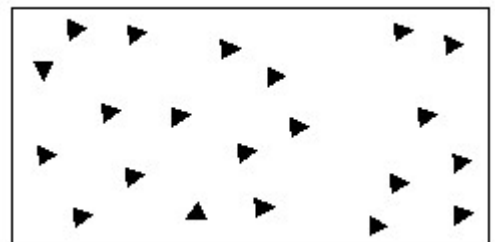
4. Which arrow head is correct as per standard? | ಮಾನದಂಡದ  
ಪ್ರಕಾರ ಯಾವ ಬಾಣದ ಹೆಡ್ ಸರಿಯಾಗಿದೆ?

5. 1). Identify the name of tool? | ಉಪಕರಣದ ಹೆಸರನ್ನು  
ಗುರುತಿಸುವುದೇ?



- A) Surface gauge | ಮೇಲ್ಮೈ  
ಮಾಪಕ  
B) Feeler gauge | ಫೀಲರ್ ಗೇಜ್  
C) Steel rule | ಸ್ಟೀಲ್ ರೂಲ್  
D) Try square | ಟ್ರೈ ಸ್ಕ್ವೇರ್

6. Identify the conventional symbol of material? | ವಸ್ತುವಿನ  
ಕನ್ವೆಷನಲ್ ಚಿಹ್ನೆಯನ್ನು ಗುರುತಿಸಿ?



- A) Wood | ಮರ  
B) Glass | ಗಾಜು

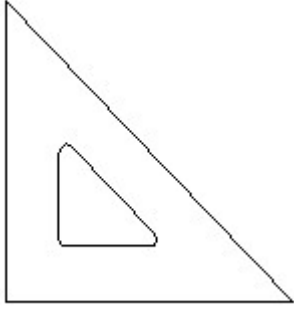
C) Concrete | ಕಾಂಕ್ರೀಟ್

D) Steel | ಸ್ಟೀಲ್

C) Leader line | ಲೀಡರ್ ಲೈನ್

D) Termination of dimension line | ಆಯಾಮ ರೇಖೆಯ ಮುಕ್ತಾಯ

7. Identify the name of set square? | ಸೆಟ್ ಚೌಕದ ಹೆಸರನ್ನು ಗುರುತಿಸುವುದೇ?



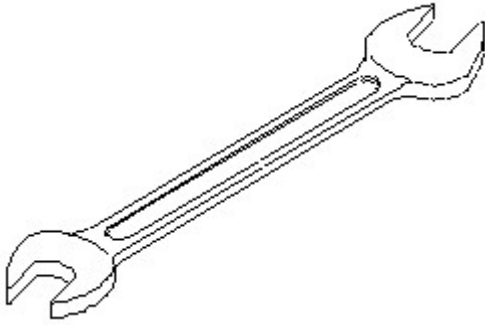
A) 45° set square | 45° ಸೆಟ್ ಸ್ಕ್ವೇರ್

B) 30° set square | 30° ಸೆಟ್ ಸ್ಕ್ವೇರ್

C) 15° set square | 15° ಸೆಟ್ ಸ್ಕ್ವೇರ್

D) 60° set square | 60° ಸೆಟ್ ಸ್ಕ್ವೇರ್

8. Identify the name of tool? | ಉಪಕರಣದ ಹೆಸರನ್ನು ಗುರುತಿಸುವುದೇ?



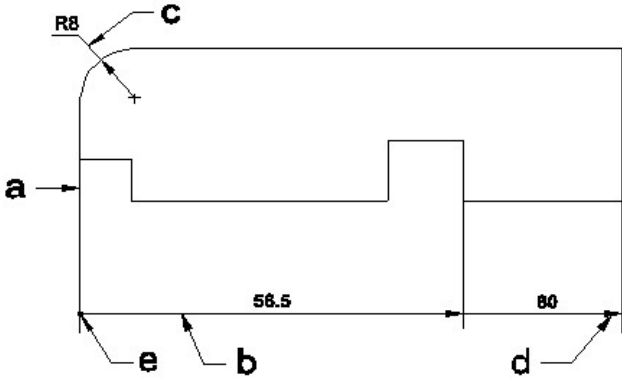
A) Ring spanner | ರಿಂಗ್ ಸ್ಪ್ಯಾನರ್

B) Open end spanner | ಓಪನ್ ಎಂಡ್ ಸ್ಪ್ಯಾನರ್

C) Adjustable spanner | ಹೊಂದಿಸಬಹುದಾದ ಸ್ಪ್ಯಾನರ್

D) Combination spanner | ಕಾಂಬಿನೇಷನ್ ಸ್ಪ್ಯಾನರ್

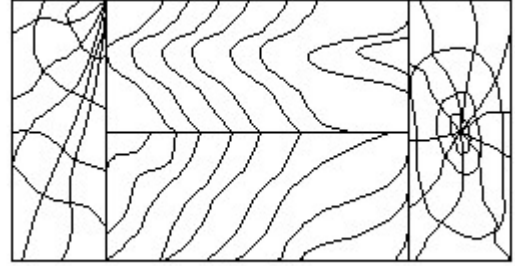
9. Identify the line □ b □ ? | □ ಸಾಲುನ್ನು ಗುರುತಿಸುವುದೇ?



A) Extension line | ಎಕ್ಸ್ಟೆನ್ಷನ್ ಲೈನ್

B) Dimension line | ಡೈಮೆನ್ಷನ್ ಲೈನ್

10. Identify the conventional symbol of material? | ವಸ್ತುವಿನ ಕನ್ವೆಷನಲ್ ಚಿಹ್ನೆಯನ್ನು ಗುರುತಿಸಿ?



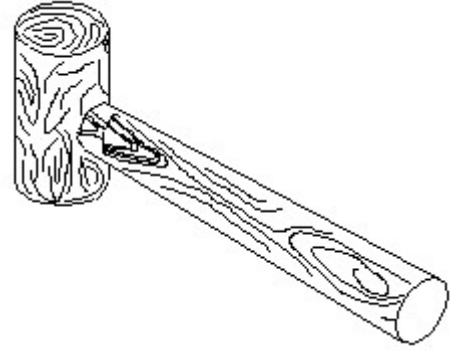
A) Glass | ಗಾಜು

B) Wood | ಮರ

C) Paper | ಪೇಪರ್

D) Lead | ಲೀಡ್

11. Identify the name of tool? | ಉಪಕರಣದ ಹೆಸರನ್ನು ಗುರುತಿಸುವುದೇ?



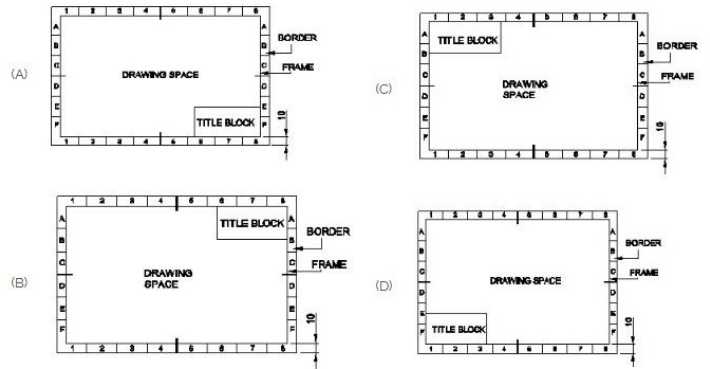
A) Ball peen hammer | ಬಾಲ್ ಪೆನ್ ಸುತ್ತಿಗೆ

B) Cross peen hammer | ಕ್ರಾಸ್ ಪೀನ್ ಸುತ್ತಿಗೆ

C) Straight peen hammer | ಸ್ಟ್ರೈಟ್ ಪೆನ್ ಸುತ್ತಿಗೆ

D) Mallet | ಮ್ಯಾಲೆಟ್

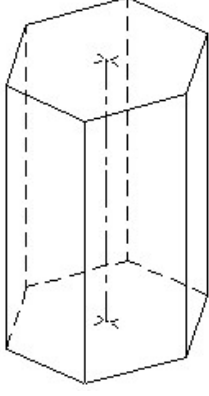
12. Which title block position is correct as standard practice? | ಪ್ರಮಾಣಿತ ಅಭ್ಯಾಸದಂತೆ ಯಾವ ಶೀರ್ಷಿಕೆ ಬಾಕ್ಸ್ ಸ್ಥಾನವು ಸರಿಯಾಗಿದೆ?



A) A  
C) D

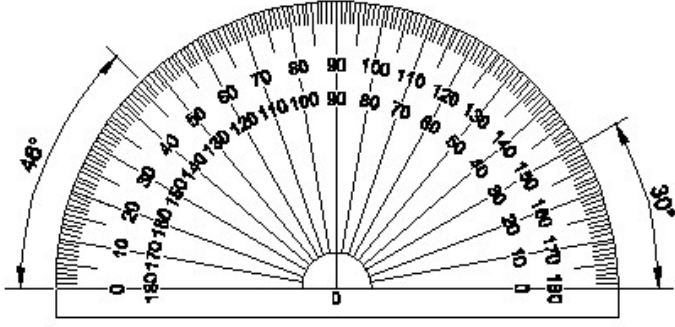
B) B  
D) C

13. Identify the name of prism? | ಪ್ರಿಸ್ಮ್ ಹೆಸರನ್ನು ಗುರುತಿಸುವುದೇ?



- A) Hexagonal prism | ಷಡ್ಭುಜೀಯ ಪ್ರಿಸ್ಮ್  
 B) Pentagonal prism | ಪೆಂಟಗೋನಲ್ ಪ್ರಿಸ್ಮ್  
 C) Triangular prism | ತ್ರಿಕೋನ ಪ್ರಿಸ್ಮ್  
 D) Square prism | ಚದರ ಪ್ರಿಸ್ಮ್

14. Identify the name of instrument? | ಉಪಕರಣದ ಹೆಸರನ್ನು ಗುರುತಿಸುವುದೇ?

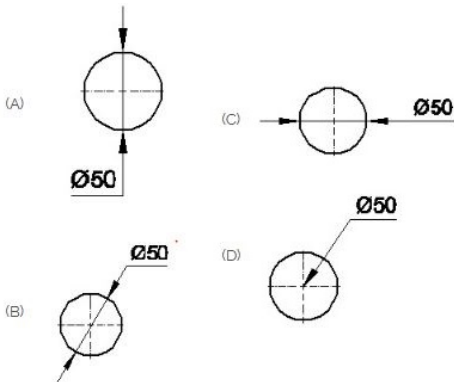


- A) Protractor | ಪ್ರೋಟ್ರಾಕ್ಟರ್  
 B) French curve | ಫ್ರೆಂಚ್ ಕರ್ವ್  
 C) Set square | ಸೆಟ್ ಸ್ಕ್ವೇರ್  
 D) T square | ಟ್ ಸ್ಕ್ವೇರ್

15. What is the trimmed size of A4 sheet? | A4 ಹಾಳೆಯ ಟ್ರಿಮ್ ಮಾಡಿದ ಗಾತ್ರ ಎಷ್ಟು?

- A) 594 x 841  
 B) 210 x 297  
 C) 841 x 1189  
 D) 148 x 210

16. Which dimension correctly marked in the circle as per standard? | ಮಾನದಂಡದ ಪ್ರಕಾರ ವೃತ್ತದಲ್ಲಿ ಯಾವ ಆಯಾಮವನ್ನು ಸರಿಯಾಗಿ ಗುರುತಿಸಲಾಗಿದೆ?

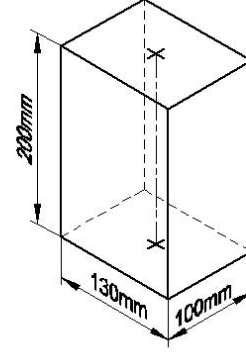


- A) B  
 B) D

C) A

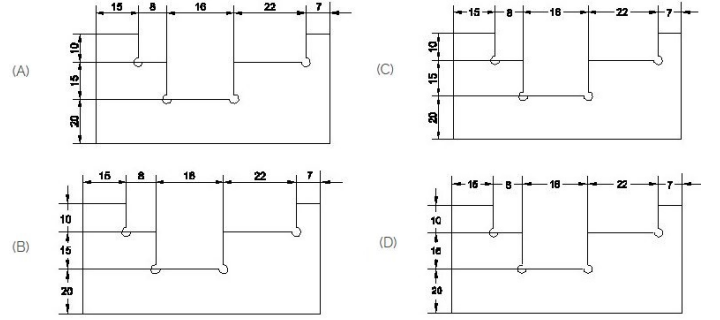
D) C

17. Identify the name of prism? | ಪ್ರಿಸ್ಮ್ ಹೆಸರನ್ನು ಗುರುತಿಸುವುದೇ?



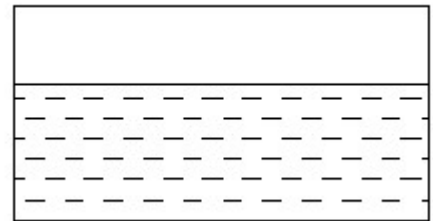
- A) Square prism | ಚದರ ಪ್ರಿಸ್ಮ್  
 B) Hexagonal prism | ಷಡ್ಭುಜೀಯ ಪ್ರಿಸ್ಮ್  
 C) Triangular prism | ತ್ರಿಕೋನ ಪ್ರಿಸ್ಮ್  
 D) Rectangle prism | ಆಯತ ಪ್ರಿಸ್ಮ್

18. Identify the correct aligned system dimension? | ಸರಿಯಾದ ಜೋಡಿಸಲಾದ ಸಿಸ್ಟಮ್ ಆಯಾಮವನ್ನು ಗುರುತಿಸುವುದೇ?



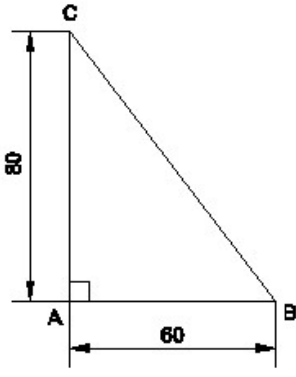
- A) D  
 B) A  
 C) B  
 D) C

19. Identify the conventional symbol of material? | ವಸ್ತುವಿನ ಕನ್ವೆಷನಲ್ ಚಿಹ್ನೆಯನ್ನು ಗುರುತಿಸಿ?



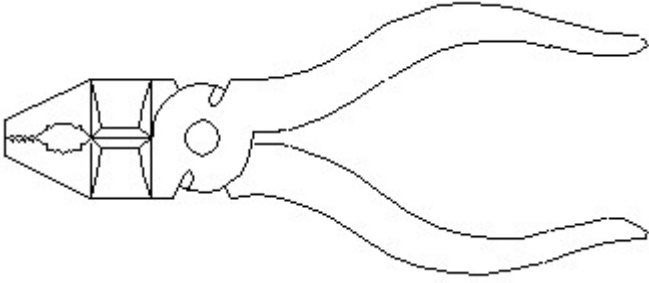
- A) Concrete | ಕಾಂಕ್ರೀಟ್  
 B) Water | ನೀರು  
 C) Asbestos | ಅಸ್ಬೆಸ್ಟೋಸ್  
 D) Glass | ಗಾಜು

20. Identify the name of the triangle? | ತ್ರಿಕೋನದ ಹೆಸರನ್ನು ಗುರುತಿಸುವುದೇ?



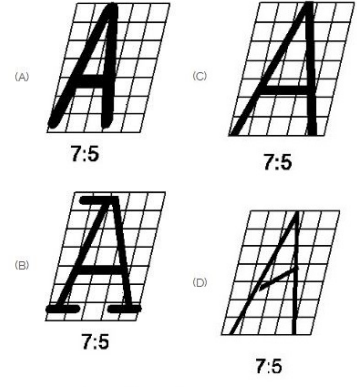
- A) Scalene triangle | ಸ್ಕೇಲಿನ್ ತ್ರಿಕೋನ  
 B) Equilateral triangle | ಸಮಕೋನ ತ್ರಿಕೋನ  
 C) Right angle triangle | ಬಲ ಕೋನ ತ್ರಿಕೋನ  
 D) Isosceles triangle | ಸಮದ್ವಿಭಾಹು ತ್ರಿಕೋನ

21. Identify the name of tool? | ಉಪಕರಣದ ಹೆಸರನ್ನು ಗುರುತಿಸುವುದೇ?



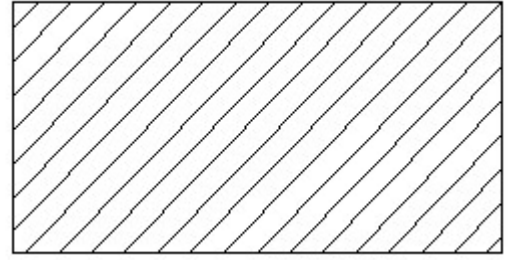
- A) Cutting plier | ಕಟಿಂಗ್ ಪ್ಲಿಯರ್  
 B) Hawk-billed shear | ಹಾಕ್-ಬಿಲ್ಡ್ ಸಿಯರ್  
 C) Double cutting shear | ಡಬಲ್ ಕಟಿಂಗ್ ಸಿಯರ್  
 D) Aviation shear | ಏವಿಯೇಷನ್ ಸಿಯರ್

22. Which single stroke inclined letter □ A□ is correct as per IS standard? | IS ಮಾನದಂಡದ ಪ್ರಕಾರ ಯಾವ ಏಕ ಸ್ಟ್ರೋಕ್ ಇಲಿಜಾರಿನ ಅಕ್ಷರ □ A□ ಇರಿಯಾಗಿದೆ?



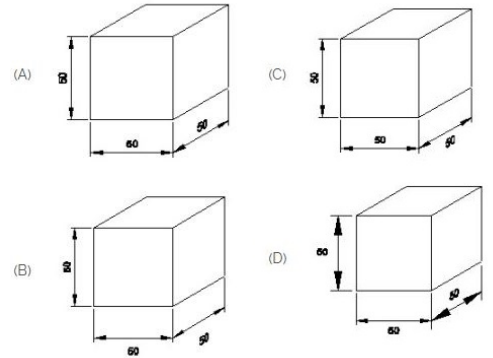
- A) B  
 C) D  
 B) A  
 D) C

23. Identify the conventional symbol of material? | ವಸ್ತುವಿನ ಕನ್ವೆನ್ಷನಲ್ ಚಿಹ್ನೆಯನ್ನು ಗುರುತಿಸಿ?



- A) Glass | ಗಾಜು  
 B) Steel | ಸ್ಟೀಲ್  
 C) Porcelain | ಪಿಂಗಾಣಿ  
 D) Lead | ಲೀಡ್

24. Which drawing dimension is correct as per IS standard? | IS ಮಾನದಂಡದ ಪ್ರಕಾರ ಯಾವ ರೇಖಾಚಿತ್ರದ ಆಯಾಮವು ಸರಿಯಾಗಿದೆ?



- A) D  
 C) A  
 B) C  
 D) B