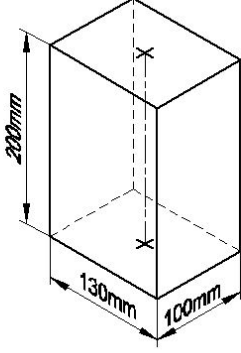


Duration: 20 Mins

Total Marks: 24

Q.ID: ITISKILL5442SB

1. Identify the name of prism? | ಪ್ರಿಸ್ಮ್ ಹೆಸರನ್ನು ಗುರುತಿಸುವುದೇ?



A) Hexagonal prism |  
ಷಡ್ಭುಜೀಯ ಪ್ರಿಸ್ಮ್

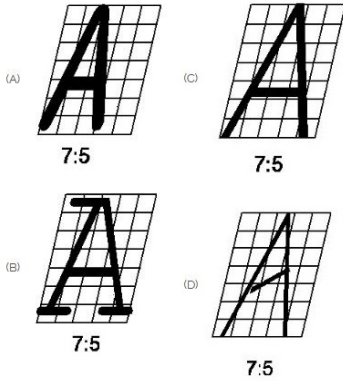
B) Triangular prism | ತ್ರಿಕೋನ  
ಪ್ರಿಸ್ಮ್

C) Square prism | ಚದರ ಪ್ರಿಸ್ಮ್

D) Rectangle prism | ಆಯತ  
ಪ್ರಿಸ್ಮ್

Answer: D) Rectangle prism | ಆಯತ ಪ್ರಿಸ್ಮ್

2. Which single stroke inclined letter 'A' is correct as per IS standard? | IS ಮಾನದಂಡದ ಪ್ರಕಾರ ಯಾವ ಏಕ ಸ್ಟ್ರೋಕ್ ಇಳಿಜಾರಿನ ಅಕ್ಷರ 'A' ಸರಿಯಾಗಿದೆ?



A) B

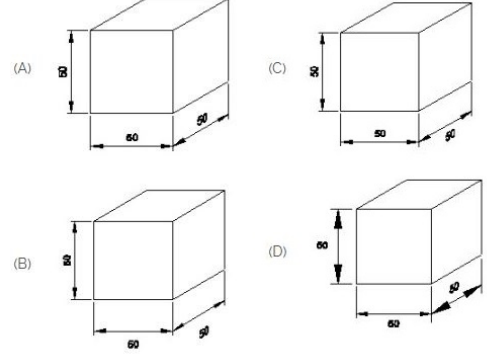
B) C

C) D

D) A

Answer: B) C

3. Which drawing dimension is correct as per IS standard? | IS ಮಾನದಂಡದ ಪ್ರಕಾರ ಯಾವ ರೇಖಾಚಿತ್ರದ ಆಯಾಮವು ಸರಿಯಾಗಿದೆ?



A) A

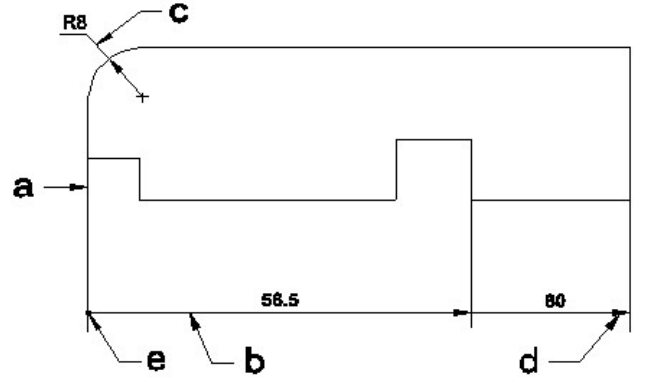
B) C

C) D

D) B

Answer: A) A

4. Identify the line 'a-b'? | ರೇಖೆಯನ್ನು ಗುರುತಿಸುವುದೇ?



A) Leader line | ಲೀಡರ್ ಲೈನ್

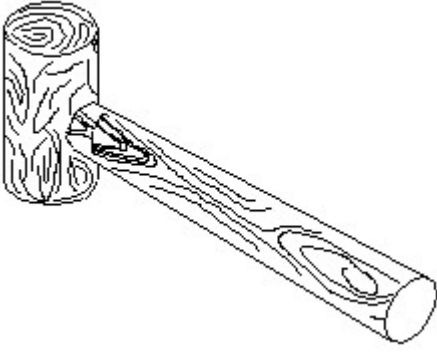
B) Dimension line | ಡೈಮೆನ್ಷನ್ ಲೈನ್

C) Termination of dimension  
line | ಆಯಾಮ ರೇಖೆಯ  
ಮುಕ್ತಾಯ

D) Extension line | ಎಕ್ಸ್ಟೆನ್ಷನ್  
ಲೈನ್

Answer: B) Dimension line | ಡೈಮೆನ್ಷನ್ ಲೈನ್

5. Identify the name of tool? | ಉಪಕರಣದ ಹೆಸರನ್ನು ಗುರುತಿಸುವುದೇ?

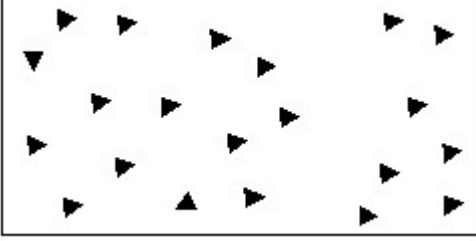


A) Cross pein hammer | ಕ್ರಾಸ್ ಪೀನ್ ಸುತ್ತಿಗೆ  
B) Ball pein hammer | ಬಾಲ್ ಪೀನ್ ಸುತ್ತಿಗೆ

C) Straight pein hammer | ಸ್ಟ್ರೈಟ್ ಪೆಯಿನ್ ಸುತ್ತಿಗೆ  
D) Mallet | ಮ್ಯಾಲೆಟ್

Answer: D) Mallet | ಮ್ಯಾಲೆಟ್

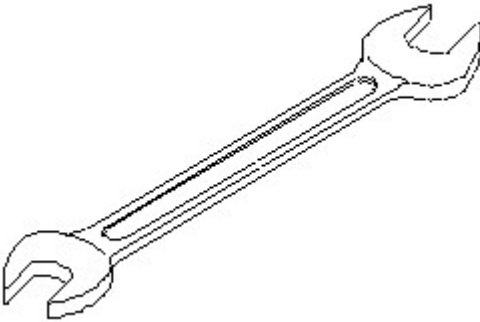
6. Identify the conventional symbol of material? | ವಸ್ತುವಿನ ಕನ್ವೆಷನಲ್ ಚಿಹ್ನೆಯನ್ನು ಗುರುತಿಸಿ?



A) Glass | ಗಾಜು  
B) Concrete | ಕಾಂಕ್ರೀಟ್  
C) Wood | ಮರ  
D) Steel | ಸ್ಟೀಲ್

Answer: B) Concrete | ಕಾಂಕ್ರೀಟ್

7. Identify the name of tool? | ಉಪಕರಣದ ಹೆಸರನ್ನು ಗುರುತಿಸುವುದೇ?

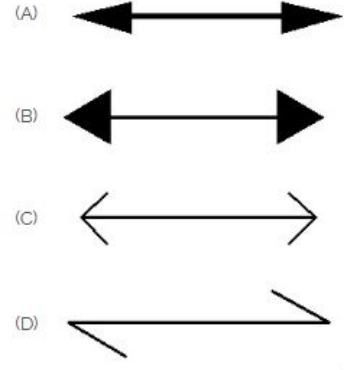


A) Combination spanner | ಕಾಂಬಿನೇಶನ್ ಸ್ಪ್ಯಾನರ್  
B) Open end spanner | ಓಪನ್ ಎಂಡ್ ಸ್ಪ್ಯಾನರ್

C) Adjustable spanner | ಹೊಂದಿಸಬಹುದಾದ ಸ್ಪ್ಯಾನರ್  
D) Ring spanner | ರಿಂಗ್ ಸ್ಪ್ಯಾನರ್

Answer: B) Open end spanner | ಓಪನ್ ಎಂಡ್ ಸ್ಪ್ಯಾನರ್

8. Which arrow head is correct as per standard? | ಮಾನದಂಡದ ಪ್ರಕಾರ ಯಾವ ಬಾಣದ ಹೆಡ್ ಸರಿಯಾಗಿದೆ?



A) C  
C) A

B) B  
D) D

Answer: C) A

9. Compass used to draw for \_\_\_. | ಕಂಪಾಸ್ ಅನ್ನು \_\_\_ ಗೆ ಸೆಳೆಯಲು ಬಳಸಲಾಗುತ್ತದೆ.

A) rectangle | ಆಯಾತ

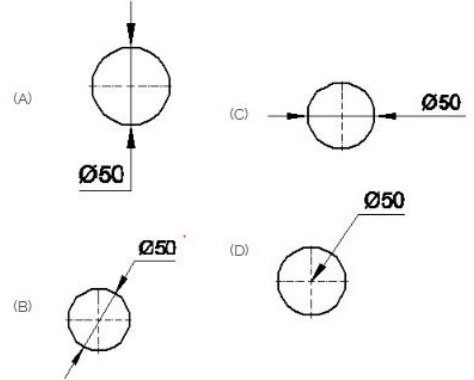
B) square | ಚದರ

C) triangle | ತ್ರಿಕೋನ

D) circle | ವೃತ್ತ

Answer: D) circle | ವೃತ್ತ

10. Which dimension correctly marked in the circle as per standard? | ಮಾನದಂಡದ ಪ್ರಕಾರ ವೃತ್ತದಲ್ಲಿ ಯಾವ ಆಯಾಮವನ್ನು ಸರಿಯಾಗಿ ಗುರುತಿಸಲಾಗಿದೆ?

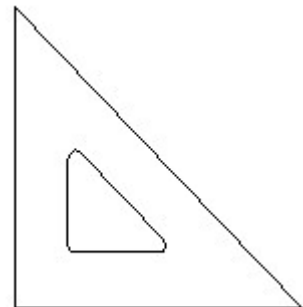


A) A  
C) B

B) C  
D) D

Answer: C) B


11. Identify the name of set square? | ಸೆಟ್ ಚೌಕದ ಹೆಸರನ್ನು ಗುರುತಿಸುವುದೇ?



- A) 30° set square | 30° ಸೆಟ್ ಸ್ಕ್ವೇರ್  
 B) 45° set square | 45° ಸೆಟ್ ಸ್ಕ್ವೇರ್  
 C) 15° set square | 15° ಸೆಟ್ ಸ್ಕ್ವೇರ್  
 D) 60° set square | 60° ಸೆಟ್ ಸ್ಕ್ವೇರ್

Answer: B) 45° set square | 45° ಸೆಟ್ ಸ್ಕ್ವೇರ್

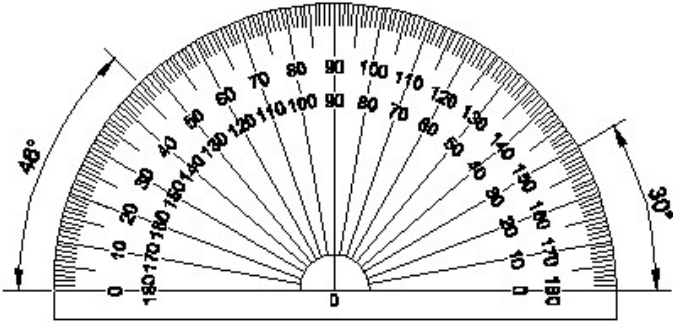
12. Identify the conventional symbol of material? | ವಸ್ತುವಿನ ಕನ್ವೆಷನಲ್ ಚಿಹ್ನೆಯನ್ನು ಗುರುತಿಸಿ?



- A) Concrete | ಕಾಂಕ್ರೀಟ್  
 B) Steel | ಸ್ಟೀಲ್  
 C) Glass | ಗಾಜು  
 D) Wood | ಮರ

Answer: C) Glass | ಗಾಜು

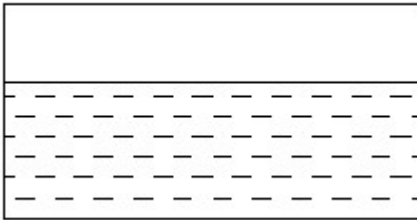
13. Identify the name of instrument? | ಉಪಕರಣದ ಹೆಸರನ್ನು ಗುರುತಿಸುವುದೇ?



- A) T square | ಟಿ ಸ್ಕ್ವೇರ್  
 B) French curve | ಫ್ರೆಂಚ್ ಕರ್ವ್  
 C) Set square | ಸೆಟ್ ಸ್ಕ್ವೇರ್  
 D) Protractor | ಪ್ರೊಟ್ರಾಕ್ಟರ್

Answer: D) Protractor | ಪ್ರೊಟ್ರಾಕ್ಟರ್

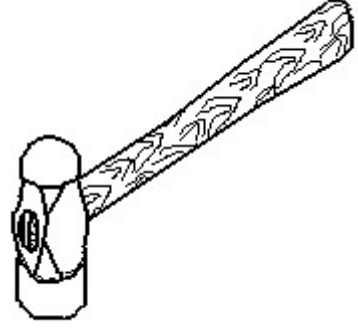
14. Identify the conventional symbol of material? | ವಸ್ತುವಿನ ಕನ್ವೆಷನಲ್ ಚಿಹ್ನೆಯನ್ನು ಗುರುತಿಸಿ?



- A) Glass | ಗಾಜು  
 B) Water | ನೀರು  
 C) Concrete | ಕಾಂಕ್ರೀಟ್  
 D) Asbestos | ಅಸ್ಟೆಸ್ಟೋಸ್

Answer: B) Water | ನೀರು

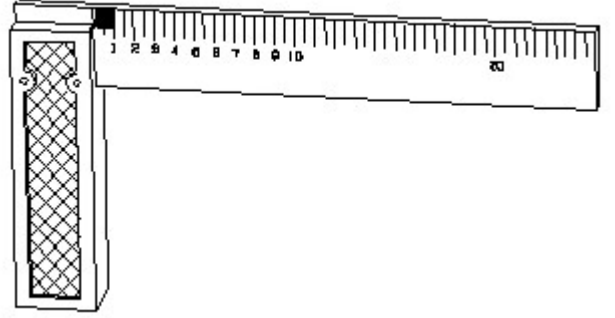
15. Identify the name of tool? | ಉಪಕರಣದ ಹೆಸರನ್ನು ಗುರುತಿಸುವುದೇ?



- A) Ball peen hammer | ಬಾಲ್ ಪೆನ್ ಸುತ್ತಿಗೆ  
 B) Straight peen hammer | ನೇರ ಪೆನ್ ಸುತ್ತಿಗೆ  
 C) Cross peen hammer | ಕ್ರಾಸ್ ಪೀನ್ ಸುತ್ತಿಗೆ  
 D) Sledge hammer | ಸ್ಲೆಡ್ಜ್ ಸುತ್ತಿಗೆ

Answer: A) Ball peen hammer | ಬಾಲ್ ಪೆನ್ ಸುತ್ತಿಗೆ

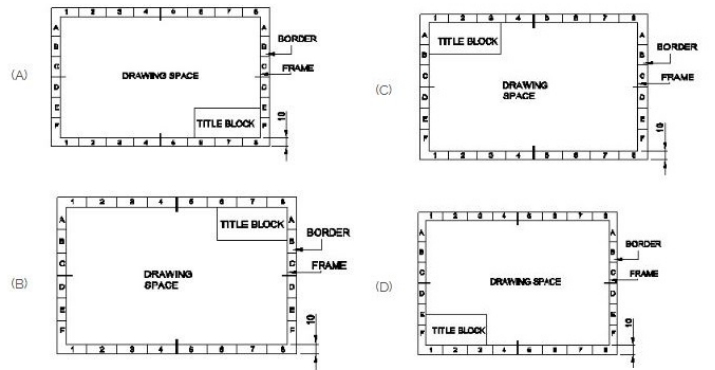
16. 1). Identify the name of tool? | ಉಪಕರಣದ ಹೆಸರನ್ನು ಗುರುತಿಸುವುದೇ?



- A) Feeler gauge | ಫೀಲರ್ ಗೇಜ್  
 B) Steel rule | ಸ್ಟೀಲ್ ರೂಲ್  
 C) Try square | ಟ್ರೈ ಸ್ಕ್ವೇರ್  
 D) Surface gauge | ಮೇಲ್ಮೈ ಮಾಪಕ

Answer: C) Try square | ಟ್ರೈ ಸ್ಕ್ವೇರ್

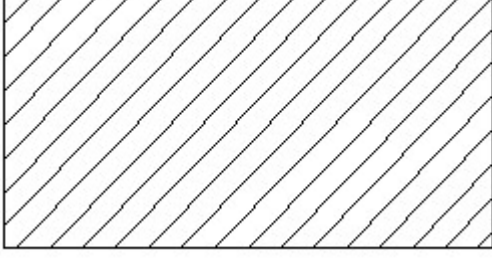
17. Which title block position is correct as standard practice? | ಪ್ರಮಾಣಿತ ಅಭ್ಯಾಸದಂತೆ ಯಾವ ಶೀರ್ಷಿಕೆ ಬಾಕ್ಸ್ ಸ್ಥಾನವು ಸರಿಯಾಗಿದೆ?



- A) B  
 C) C  
 B) A  
 D) D

Answer: B) A

18. Identify the conventional symbol of material? | ವಸ್ತುವಿನ ಕನ್ವೆಷನಲ್ ಚಿಹ್ನೆಯನ್ನು ಗುರುತಿಸಿ?



- A) Porcelain | ಪಿಂಗಾಣಿ  
B) Lead | ಲೀಡ್  
C) Steel | ಸ್ಟೀಲ್  
D) Glass | ಗಾಜು

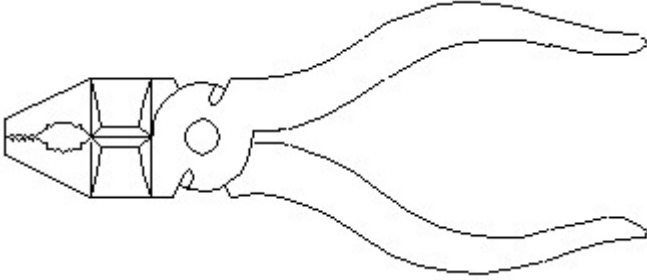
Answer: C) Steel | ಸ್ಟೀಲ್

19. What is the trimmed size of A4 sheet? | A4 ಹಾಳೆಯ ಟ್ರಿಮ್ ಮಾಡಿದ ಗಾತ್ರ ಎಷ್ಟು?

- A) 841 x 1189  
B) 594 x 841  
C) 148 x 210  
D) 210 x 297

Answer: D) 210 x 297

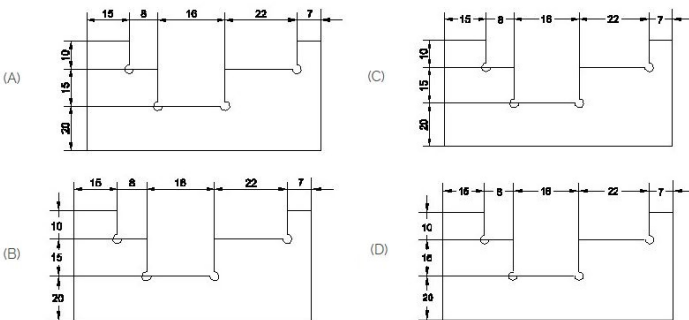
20. Identify the name of tool? | ಉಪಕರಣದ ಹೆಸರನ್ನು ಗುರುತಿಸುವುದೇ?



- A) Hawk-billed shear | ಹಾಕ್-ಬಿಲ್ಡ್ ಸಿಯರ್  
B) Double cutting shear | ಡಬಲ್ ಕಟಿಂಗ್ ಸಿಯರ್  
C) Aviation shear | ಏವಿಯೇಷನ್ ಸಿಯರ್  
D) Cutting plier | ಕಟಿಂಗ್ ಪ್ಲಿಯರ್

Answer: D) Cutting plier | ಕಟಿಂಗ್ ಪ್ಲಿಯರ್

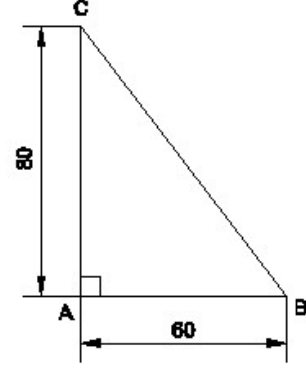
21. Identify the correct aligned system dimension? | ಸರಿಯಾದ ಜೋಡಿಸಲಾದ ಸಿಸ್ಟಮ್ ಆಯಾಮವನ್ನು ಗುರುತಿಸುವುದೇ?



- A) A  
B) B  
C) D  
D) C

Answer: A) A

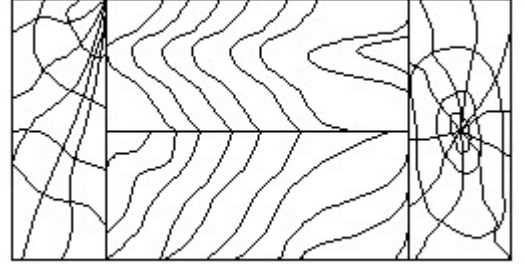
22. Identify the name of the triangle? | ತ್ರಿಕೋನದ ಹೆಸರನ್ನು ಗುರುತಿಸುವುದೇ?



- A) Scalene triangle | ಸ್ಕೇಲಿನ್ ತ್ರಿಕೋನ  
B) Equilateral triangle | ಸಮಕೋನ ತ್ರಿಕೋನ  
C) Isosceles triangle | ಸಮದ್ವಿಭಾಹು ತ್ರಿಭುಜ  
D) Right angle triangle | ಬಲ ಕೋನ ತ್ರಿಕೋನ

Answer: D) Right angle triangle | ಬಲ ಕೋನ ತ್ರಿಕೋನ

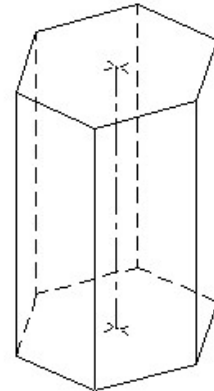
23. Identify the conventional symbol of material? | ವಸ್ತುವಿನ ಕನ್ವೆಷನಲ್ ಚಿಹ್ನೆಯನ್ನು ಗುರುತಿಸಿ?



- A) Lead | ಲೀಡ್  
B) Wood | ಮರ  
C) Paper | ಪೇಪರ್  
D) Glass | ಗಾಜು

Answer: B) Wood | ಮರ

24. Identify the name of prism? | ಪ್ರಿಸ್ಮ್ ಹೆಸರನ್ನು ಗುರುತಿಸುವುದೇ?



- A) Pentagonal prism | ಪೆಂಟಾಗೋನಲ್ ಪ್ರಿಸ್ಮ್  
B) Square prism | ಚದರ ಪ್ರಿಸ್ಮ್  
C) Hexagonal prism | ಷಡ್ಭುಜೀಯ ಪ್ರಿಸ್ಮ್  
D) Triangular prism | ತ್ರಿಕೋನ ಪ್ರಿಸ್ಮ್

Answer: C) Hexagonal prism | ಷಡ್ಭುಜೀಯ ತ್ರಿಸ್ತಂಭ