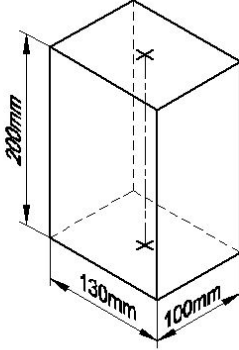


Student Name: _____

Roll No: _____

1. Identify the name of prism? | ಪ್ರಿಸ್ಮ್ ಹೆಸರನ್ನು ಗುರುತಿಸುವುದೇ?




- A) Square prism | ಚದರ ಪ್ರಿಸ್ಮ್
B) Rectangle prism | ಆಯತ ಪ್ರಿಸ್ಮ್
C) Triangular prism | ತ್ರಿಕೋನ ಪ್ರಿಸ್ಮ್
D) Hexagonal prism | ಷಡ್ಭುಜೀಯ ಪ್ರಿಸ್ಮ್

2. The thread angle of metric thread is _____. | ಮೆಟ್ರಿಕ್ ಥ್ರೆಡ್ ಥ್ರೆಡ್ ಕೋನವು _____ ಆಗಿದೆ.

- A) 90°
B) 120°
C) 60°
D) 30°

3. Identify the conventional symbol of material? | ವಸ್ತುವಿನ ಕನ್ವೆಷನಲ್ ಚಿಹ್ನೆಯನ್ನು ಗುರುತಿಸಿ?



- A) Steel | ಸ್ಟೀಲ್
B) Concrete | ಕಾಂಕ್ರೀಟ್
C) Wood | ಮರ
D) Glass | ಗಾಜು

4. This type of section is limited by a break line _____. | ಈ ರೀತಿಯ ವಿಭಾಗವು ಬ್ರೇಕ್ ಲೈನ್ _____ ಮೂಲಕ ಸೀಮಿತವಾಗಿದೆ

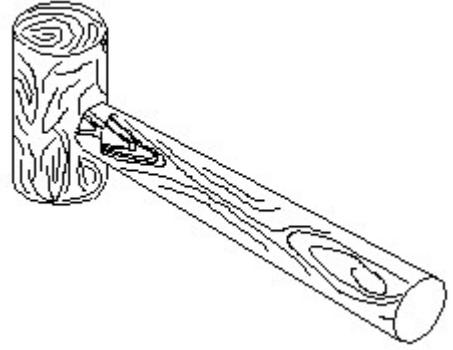
- A) removed section | ತೆಗೆದುಹಾಕಲಾದ ವಿಭಾಗ
B) broken-out section | ಮುರಿದ ವಿಭಾಗ

- C) half section | ಅರ್ಧ ವಿಭಾಗ
D) revolved section. | ಸುತ್ತುವ ವಿಭಾಗ.

5. What is the trimmed size of A4 sheet? | A4 ಹಾಳೆಯು ಟ್ರಿಮ್ ಮಾಡಿದ ಗಾತ್ರ ಎಷ್ಟು?

- A) 594 x 841
B) 148 x 210
C) 210 x 297
D) 841 x 1189

6. Identify the name of tool? | ಉಪಕರಣದ ಹೆಸರನ್ನು ಗುರುತಿಸುವುದೇ?



- A) Straight peen hammer | ಸ್ಟ್ರೇಟ್ ಪೆನಿನ್ ಸುತ್ತಿಗೆ
B) Mallet | ಮ್ಯಾಲೆಟ್
C) Cross peen hammer | ಕ್ರಾಸ್ ಪೆನಿನ್ ಸುತ್ತಿಗೆ
D) Ball peen hammer | ಬಾಲ್ ಪೆನಿನ್ ಸುತ್ತಿಗೆ

7. How many types of foundation□ s are there based on depth? | ಆಳದ ಆಧಾರದ ಮೇಲೆ ಎಷ್ಟು ರೀತಿಯ ಅಡಿಪಾಯಗಳಿವೆ?

- A) 5
B) 2
C) 2
D) 3

8. Which nut can be easily operated with thumb and finger? | ಯಾವ ಅಡಿಕೆಯನ್ನು ಹೆಬ್ಬೆಳು ಮತ್ತು ಬೆರಳಿನಿಂದ ಸುಲಭವಾಗಿ ನಿರ್ವಹಿಸಬಹುದು?

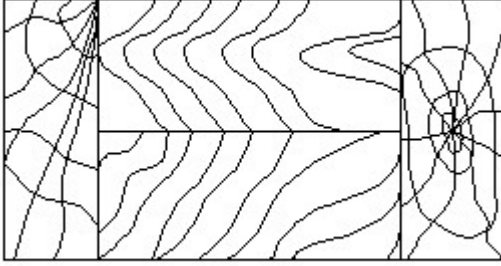
- A) Lock nut | ಲಾಕ್ ನಟ್
B) Wing nut | ರೆಕ್ಕೆ ನಟ್
C) Dome nut | ಗುಮ್ಮಟ ನಟ್
D) Capstan nut | ಕ್ಯಾಪ್ಸ್ಟಾನ್ ನಟ್

9. Identify the correct aligned system dimension? | ಸರಿಯಾದ ಜೋಡಿಸಲಾದ ಸಿಸ್ಟಮ್ ಆಯಾಮವನ್ನು ಗುರುತಿಸುವುದೇ?



- A) A
B) B
C) C
D) D

10. Identify the conventional symbol of material? | ವಸ್ತುವಿನ ಕನ್ವೆಷನಲ್ ಚಿಹ್ನೆಯನ್ನು ಗುರುತಿಸಿ?

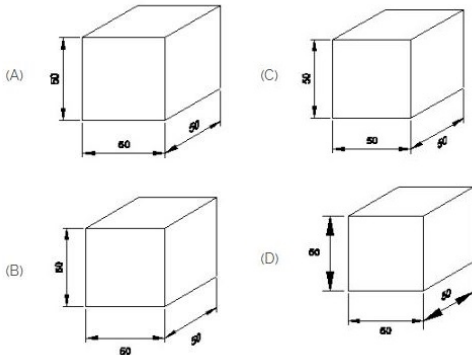


- A) Wood | ಮರ
B) Paper | ಪೇಪರ್
C) Lead | ಲೀಡ್
D) Glass | ಗಾಜು

11. The Included angle of pipe thread is around _____ | ಪೈಪ್ ಥ್ರೆಡ್ ಒಳಗೊಂಡಿರುವ ಕೋನವು ಸುಮಾರು _____ ಆಗಿದೆ

- A) 75°
B) 10°
C) 15°
D) 55°

12. Which drawing dimension is correct as per IS standard? | IS ಮಾನದಂಡದ ಪ್ರಕಾರ ಯಾವ ರೇಖಾಚಿತ್ರದ ಆಯಾಮವು ಸರಿಯಾಗಿದೆ?



- A) C
B) D
C) A
D) B

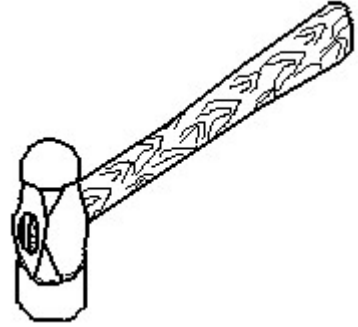
13. Which is the static machine that increase or decrease the AC voltage? | AC ವೋಲ್ಟೇಜ್ ಅನ್ನು ಹೆಚ್ಚಿಸುವ ಅಥವಾ ಕಡಿಮೆ ಮಾಡುವ ಸ್ಟಾಟಿಕ್ ಯಂತ್ರ ಯಾವುದು?

- A) Induction motor | ಇಂಡಕ್ಷನ್ ಮೋಟಾರ್
B) Generator | ಜನರೇಟರ್
C) Transformer | ಟ್ರಾನ್ಸ್‌ಫಾರ್ಮರ್
D) Alternator | ಆಲ್ಟರ್ನೇಟರ್

14. Which of the following is used to block the pipe at one end? | ಒಂದು ತುದಿಯಲ್ಲಿ ಪೈಪ್ ಅನ್ನು ನಿರ್ಬಂಧಿಸಲು ಕೆಳಗಿನವುಗಳಲ್ಲಿ ಯಾವುದನ್ನು ಬಳಸಲಾಗುತ್ತದೆ?

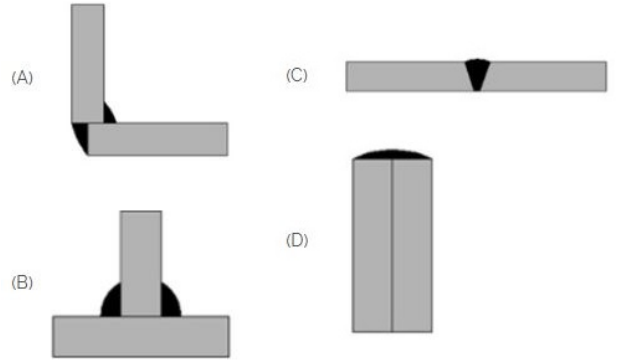
- A) Reducer | ರೆಡ್ಯೂಸರ್
B) Couplings | ಕಪ್ಲಿಂಗ್ಸ್
C) Union | ಯೂನಿಯನ್
D) Plug | ಪ್ಲಗ್

15. Identify the name of tool? | ಉಪಕರಣದ ಹೆಸರನ್ನು ಗುರುತಿಸುವುದೇ?



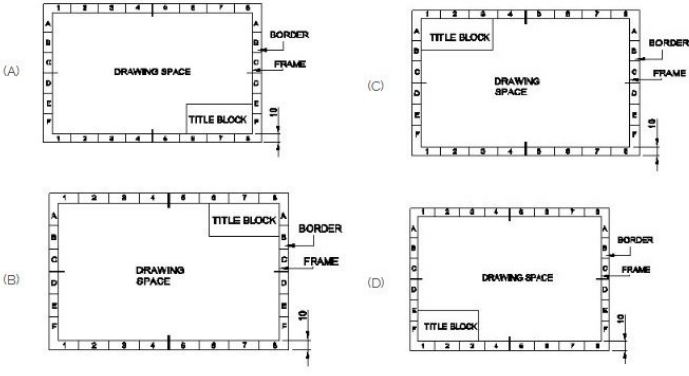
- A) Ball peen hammer | ಬಾಲ್ ಪೆನ್ ಸುತ್ತಿಗೆ
B) Cross peen hammer | ಕ್ರಾಸ್ ಪೀನ್ ಸುತ್ತಿಗೆ
C) Sledge hammer | ಸ್ಲೆಡ್ಜ್ ಸುತ್ತಿಗೆ
D) Straight peen hammer | ನೇರ ಪೆನ್ ಸುತ್ತಿಗೆ

16. Which symbol is used for butt joints? | ಬಟ್ ಕೀಲುಗಳಿಗೆ ಯಾವ ಚಿಹ್ನೆಯನ್ನು ಬಳಸಲಾಗುತ್ತದೆ?



- A) B
B) C
C) D
D) A

17. Which title block position is correct as standard practice? | ಪ್ರಮಾಣಿತ ಅಭ್ಯಾಸದಂತೆ ಯಾವ ಶೀರ್ಷಿಕೆ ಬಾಕ್ಸ್ ಸ್ಥಾನವು ಸರಿಯಾಗಿದೆ?

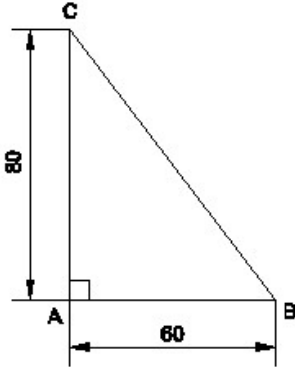


- A) B
C) A
- B) C
D) D

18. Compass used to draw for ____. | ಕಂಪಾಸ್ ಅನ್ನು _____ ಗೆ ಸೆಳೆಯಲು ಬಳಸಲಾಗುತ್ತದೆ.

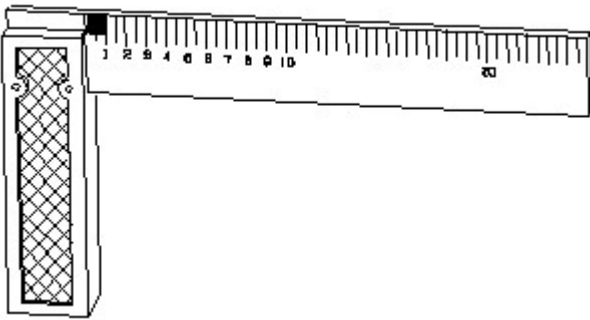
- A) triangle | ತ್ರಿಕೋನ
C) square | ಚದರ
- B) rectangle | ಆಯಾತ
D) circle | ವೃತ್ತ

19. Identify the name of the triangle? | ತ್ರಿಕೋನದ ಹೆಸರನ್ನು ಗುರುತಿಸುವುದೇ?



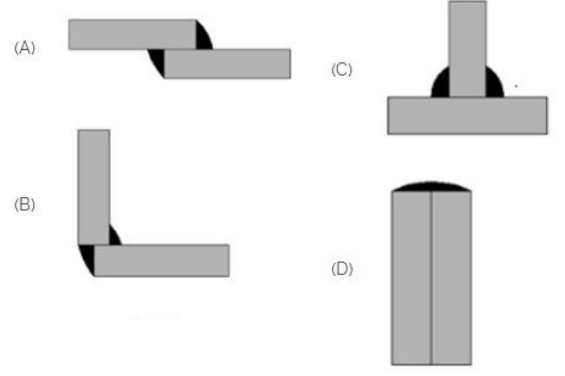
- A) Equilateral triangle | ಸಮಕೋನ ತ್ರಿಕೋನ
C) Scalene triangle | ಸ್ಕೇಲಿನ್ ತ್ರಿಕೋನ
- B) Isosceles triangle | ಸಮದ್ವಿಭಾಹು ತ್ರಿಕೋನ
D) Right angle triangle | ಬಲ ಕೋನ ತ್ರಿಕೋನ

20. 1). Identify the name of tool? | ಉಪಕರಣದ ಹೆಸರನ್ನು ಗುರುತಿಸುವುದೇ?



- A) Feeler gauge | ಫೀಲರ್ ಗೇಜ್
C) Steel rule | ಸ್ಟೀಲ್ ರೂಲ್
- B) Try square | ಟ್ರೈ ಸ್ಕ್ವೇರ್
D) Surface gauge | ಮೇಲ್ಮೈ ಮಾಪಕ

21. Which symbol is used for lap joint? | ಲ್ಯಾಪ್ ಜಾಯಿಂಟ್ ಯಾವ ಚಿಹ್ನೆಯನ್ನು ಬಳಸಲಾಗುತ್ತದೆ?

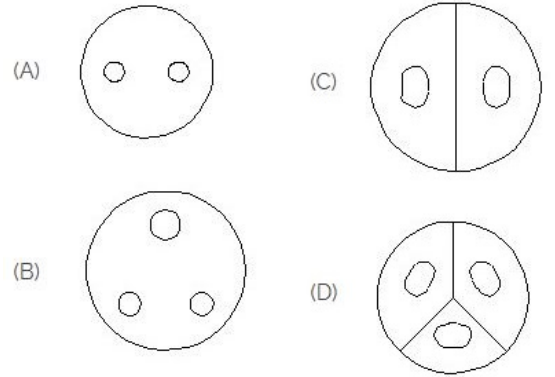


- A) D
C) B
- B) C
D) A

22. Lock nut or check-nut is chamfered on ____. | ಲಾಕ್ ನಟ್ ಅಥವಾ ಚೆಕ್-ನಟ್ ಅನ್ನು _____ ರಂದು ಚೀಂಫರ್ ಮಾಡಲಾಗಿದೆ.

- A) upper side | ಮೇಲಿನ ಭಾಗ
C) both side | ಎರಡೂ ಕಡೆ
- B) lower side | ಕೆಳಗಿನ ಭಾಗ
D) none sides | ಯಾವುದೇ ಬದಿಗಳಿಲ್ಲ

23. Identify the 3 pin socket. | 3 ಪಿನ್ ಸಾಕೆಟ್ ಅನ್ನು ಗುರುತಿಸಿ.



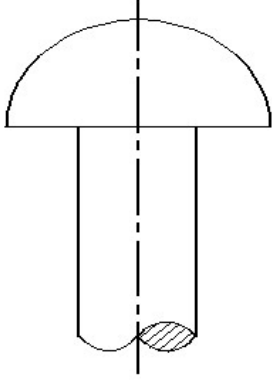
- A) B
C) C
- B) A
D) D

24. Identify the given symbol | ನೀಡಿರುವ ಚಿಹ್ನೆಯನ್ನು ಗುರುತಿಸಿ



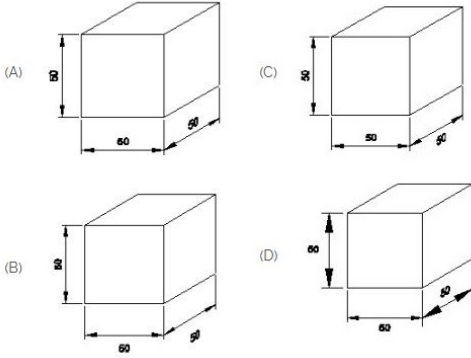
- A) AC
C) Ohms | ಓಮ್ಸ್
- B) DC
D) Inductance | ಇಂಡಕ್ಟನ್ಸ್

25. Identify the given rivet. | ನೀಡಿರುವ ರಿವೆಟ್ ಅನ್ನು ಗುರುತಿಸಿ.



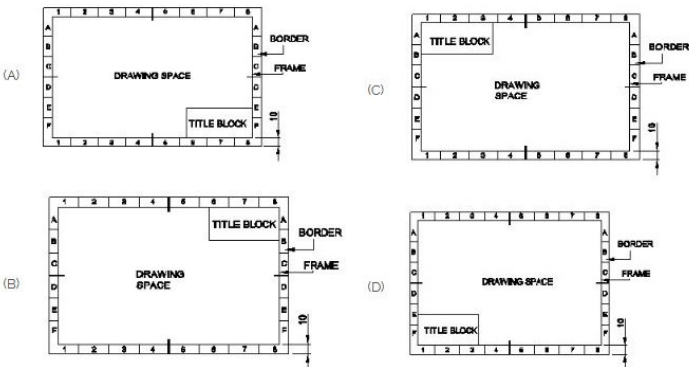
- A) Pan head | ಪ್ಯಾನ್ ಹೆಡ್
B) Flat head | ಫ್ಲಾಟ್ ಹೆಡ್
C) Counter sunk | ಕೌಂಟರ್ ಸುಂಕ್
D) Snap head | ಸ್ನಾಪ್ ಹೆಡ್

26. Which drawing dimension is correct as per IS standard? | IS ಮಾನದಂಡದ ಪ್ರಕಾರ ಯಾವ ರೇಖಾಚಿತ್ರದ ಆಯಾಮವು ಸರಿಯಾಗಿದೆ?



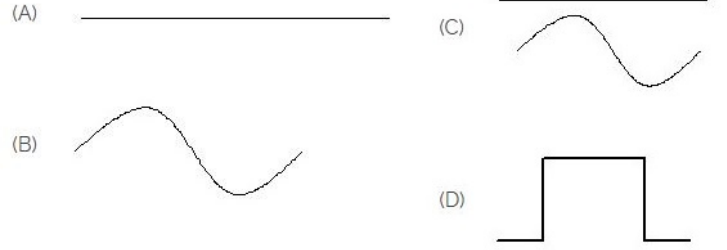
- A) A
B) D
C) B
D) C

27. Which title block position is correct as standard practice? | ಪ್ರಮಾಣಿತ ಅಭ್ಯಾಸದಂತೆ ಯಾವ ಶೀರ್ಷಿಕೆ ಬಾಕ್ಸ್ ಸ್ಥಾನವು ಸರಿಯಾಗಿದೆ?



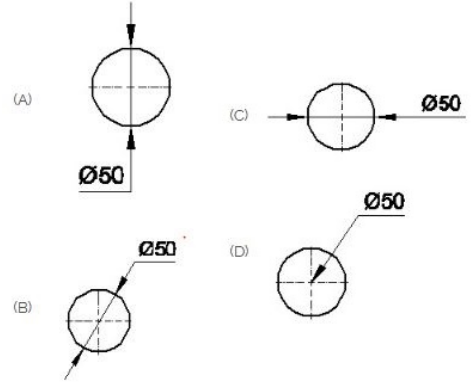
- A) B
B) A
C) D
D) C

28. Identify the symbol for direct and alternating current. | ನೇರ ಮತ್ತು ಪರ್ಯಾಯ ಪ್ರವಾಹದ ಚಿಹ್ನೆಯನ್ನು ಗುರುತಿಸಿ.



- A) C
B) A
C) D
D) B

29. Which dimension correctly marked in the circle as per standard? | ಮಾನದಂಡದ ಪ್ರಕಾರ ವೃತ್ತದಲ್ಲಿ ಯಾವ ಆಯಾಮವನ್ನು ಸರಿಯಾಗಿ ಗುರುತಿಸಲಾಗಿದೆ?



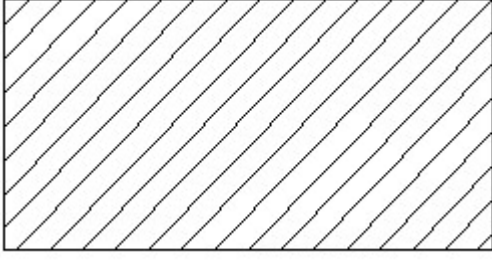
- A) A
B) D
C) C
D) B

30. Which is the single pole MCB? | ಸಿಂಗಲ್ ಪೋಲ್ MCB ಯಾವುದು?



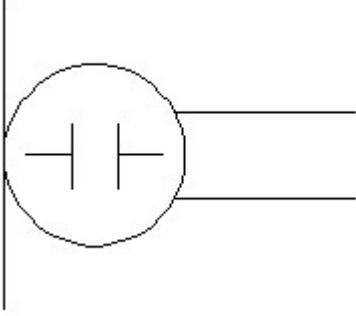
- A) B
B) A
C) D
D) C

31. Identify the conventional symbol of material? | ವಸ್ತುವಿನ ಕನ್ವೆಷನಲ್ ಚಿಹ್ನೆಯನ್ನು ಗುರುತಿಸಿ?



- A) Glass | ಗಾಜು
B) Lead | ಲೀಡ್
C) Porcelain | ಪಿಂಗಾಣಿ
D) Steel | ಸ್ಟೀಲ್

32. What is the name of the symbol? | ಚಿಹ್ನೆಯ ಹೆಸರೇನು?

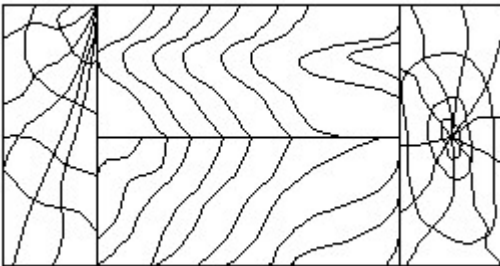


- A) Loud speaker | ಲೌಡ್ ಸ್ವೀಕರ್
B) Condenser microphone | ಕಂಡೆನ್ಸರ್ ಮೈಕ್ರೋಫೋನ್
C) Microphone | ಮೈಕ್ರೋಫೋನ್
D) Dynamic microphone | ಡೈನಾಮಿಕ್ ಮೈಕ್ರೋಫೋನ್

33. What is the material of line insulator? | ಲೈನ್ ಇನ್ಸುಲೇಟರ್‌ನ ಮೇಟೀರಿಯಲ್ ಯಾವುದು?

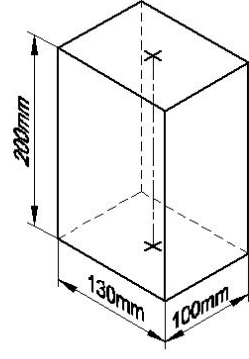
- A) Rubber | ರಬ್ಬರ್
B) Copper | ತಾಮ್ರ
C) Porcelain clay | ಪಿಂಗಾಣಿ ಮಣ್ಣಿನ
D) Aluminium | ಅಲ್ಯೂಮಿನಿಯಂ

34. Identify the conventional symbol of material? | ವಸ್ತುವಿನ ಕನ್ವೆಷನಲ್ ಚಿಹ್ನೆಯನ್ನು ಗುರುತಿಸಿ?




- A) Paper | ಪೇಪರ್
B) Wood | ಮರ
C) Lead | ಲೀಡ್
D) Glass | ಗಾಜು

35. Identify the name of prism? | ಪ್ರಿಸ್ಮ್ ಹೆಸರನ್ನು ಗುರುತಿಸುವುದೇ?



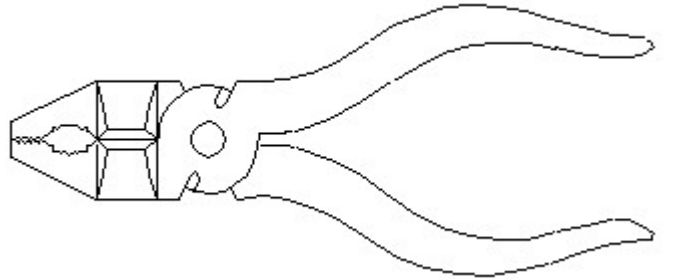
- A) Square prism | ಚದರ ಪ್ರಿಸ್ಮ್
B) Rectangle prism | ಆಯತ ಪ್ರಿಸ್ಮ್
C) Hexagonal prism | ಷಡ್ಭುಜೀಯ ಪ್ರಿಸ್ಮ್
D) Triangular prism | ತ್ರಿಕೋನ ಪ್ರಿಸ್ಮ್

36. Which is ball peen hammer? | ಬಾಲ್ ಪೀನ್ ಸುತ್ತಿಗೆ ಯಾವುದು?



- A) B
B) D
C) A
D) C

37. Identify the name of tool? | ಉಪಕರಣದ ಹೆಸರನ್ನು ಗುರುತಿಸುವುದೇ?



- A) Cutting plier | ಕಟಿಂಗ್ ಪ್ಲಿಯರ್
B) Double cutting shear | ಡಬಲ್ ಕಟಿಂಗ್ ಷಿಯರ್
C) Aviation shear | ಏವಿಯೇಷನ್ ಷಿಯರ್
D) Hawk-billed shear | ಹಾಕ್-ಬಿಲ್ಡ್ ಷಿಯರ್

38. The rivet head for a general purpose shown in the figure below is ____ | ಕೆಳಗಿನ ಚಿತ್ರದಲ್ಲಿ ತೋರಿಸಿರುವ ಸಾಮಾನ್ಯ ಉದ್ದೇಶಕ್ಕಾಗಿ ರಿವೆಟ್ ಹೆಡ್:



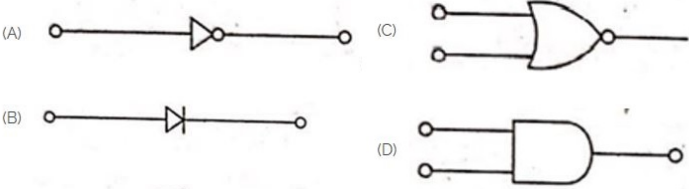
- A) flat | ಫ್ಲಾಟ್
B) counter sunk | ಕೌಂಟರ್ ಸುಂಕ್
C) snap | ಸ್ನಾಪ್
D) pan | ಪ್ಯಾನ್

39. What is the name of the gate | ಗೇಟ್ ಹೆಸರೇನು?



- A) Ex-NOR Gate | Ex-NOR ಗೇಟ್
B) NOT Gate | NOT ಗೇಟ್
C) AND Gate | AND ಗೇಟ್
D) OR Gate | OR ಗೇಟ್

40. Which is the NOT gate in the following picture? | ಕೆಳಗಿನ ಚಿತ್ರದಲ್ಲಿ NOT ಗೇಟ್ ಯಾವುದು?



- A) A
B) D
C) B
D) C

41. Which of the following is not a main part of rivet? | ಕೆಳಗಿನವುಗಳಲ್ಲಿ ಯಾವುದು ರಿವೆಟ್‌ನ ಮುಖ್ಯ ಭಾಗವಲ್ಲ?

- A) Tail | ಟೈಲ್
B) Point | ಪಾಯಿಂಟ್
C) Head | ಹೆಡ್
D) Shank | ಶ್ಯಾಂಕ್

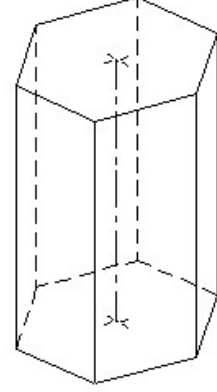
42. Voltage less than 250 volt is called _____. | 250 ವೋಲ್ಟ್‌ಗಿಂತ ಕಡಿಮೆ ವೋಲ್ಟೇಜ್ ಅನ್ನು _____ ಎಂದು ಕರೆಯಲಾಗುತ್ತದೆ.

- A) HT (High Tension) | HT (ಅಧಿಕ ಒತ್ತಡ)
B) EHT (Extra High Tension) | EHT (ಹೆಚ್ಚುವರಿ ಅಧಿಕ ಒತ್ತಡ)
C) LT (Low Tension) | LT (ಕಡಿಮೆ ಒತ್ತಡ)
D) MT (Medium Tension) | MT (ಮಧ್ಯಮ ಒತ್ತಡ)

43. Which is protective device? | ರಕ್ಷಣಾತ್ಮಕ ಸಾಧನ ಯಾವುದು?

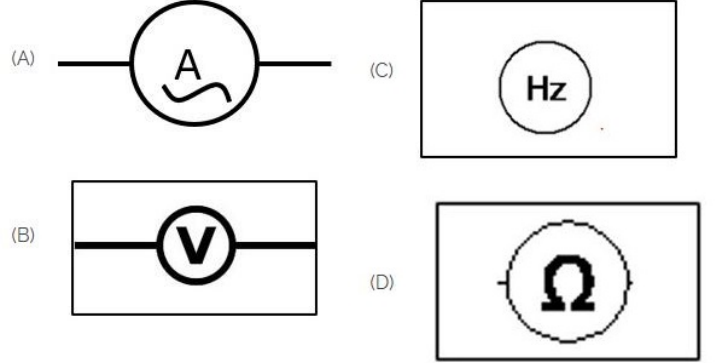
- A) Resistor | ರೆಸಿಸ್ಟರ್
B) Fuse | ಫ್ಯೂಸ್
C) Magnet | ಮ್ಯಾಗ್ನೆಟ್
D) Capacitor | ಕೆಪಾಸಿಟರ್

44. Identify the name of prism? | ಪ್ರಿಸ್ಮ್ ಹೆಸರನ್ನು ಗುರುತಿಸುವುದೇ?



- A) Hexagonal prism | ಷಡ್ಭುಜೀಯ ಪ್ರಿಸ್ಮ್
B) Pentagonal prism | ಪೆಂಟಾಗೋನಲ್ ಪ್ರಿಸ್ಮ್
C) Square prism | ಚದರ ಪ್ರಿಸ್ಮ್
D) Triangular prism | ತ್ರಿಕೋನ ಪ್ರಿಸ್ಮ್

45. Which of the following is AC ammeter? | ಈ ಕೆಳಗಿನವುಗಳಲ್ಲಿ ಯಾವುದು AC ಅಮ್ಮೀಟರ್ ಆಗಿದೆ?

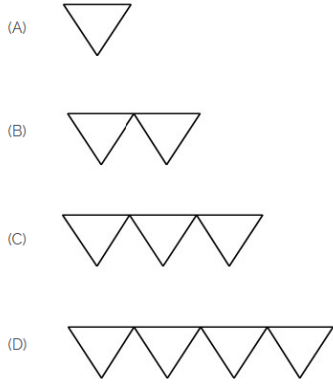


- A) B
B) C
C) A
D) D

46. Rivets are generally, specified by _____. | ರಿವೆಟ್‌ಗಳನ್ನು ಸಾಮಾನ್ಯವಾಗಿ, _____ ಮೂಲಕ ನಿರ್ದಿಷ್ಟಪಡಿಸಲಾಗುತ್ತದೆ.

- A) nominal diameter | ನಾಮಮಾತ್ರದ ವ್ಯಾಸ.
B) all of these | ಇವೆಲ್ಲವೂ
C) diameter of head | ಹೆಡ್ ವ್ಯಾಸ
D) length of rivet | ರಿವೆಟ್ ಉದ್ದ

47. Which is roughness symbol for roughness grade N8?



- A) D
C) C
- B) B
D) A

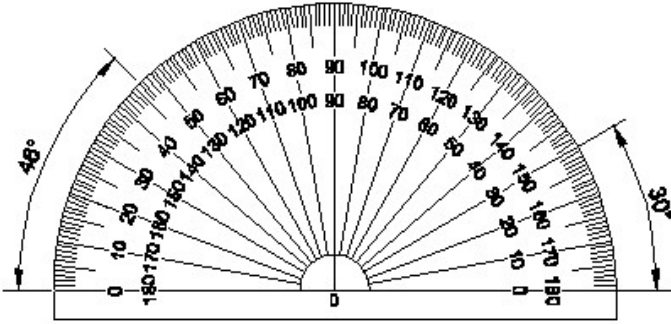
48. Which of the following is temporary fastening? | ಕೆಲಗಿನವುಗಳಲ್ಲಿ ಯಾವುದು ತಾತ್ಕಾಲಿಕ ಫಾಸ್ಟನಿಂಗ್ ?

- A) Keys | ಕೀಲಿಗಳು
C) Welded | ವೆಲ್ಡೆಡ್
- B) Screw | ತಿರುಪು
D) Rivets | ರಿವೆಟ್ಸ್

49. GMAW stands for _____ | GMAW ಎಂದರೆ _____

- A) Gun Metal Arc Welding
C) Gas Metal Arc Welding
- B) Gas Tungsten Arc Welding
D) Germanium Metal Arc Welding

50. Identify the name of instrument? | ಉಪಕರಣದ ಹೆಸರನ್ನು ಗುರುತಿಸುವುದೇ?




- A) Set square | ಸೆಟ್ ಸ್ಕ್ವೇರ್
C) French curve | ಫ್ರೆಂಚ್ ಕರ್ವ್
- B) Protractor | ಪ್ರೊಟ್ರಾಕ್ಟರ್
D) T square | T ಸ್ಕ್ವೇರ್

51. Identify the name of set square? | ಸೆಟ್ ಚೌಕದ ಹೆಸರನ್ನು ಗುರುತಿಸುವುದೇ?



- A) 60° set square | 60° ಸೆಟ್ ಸ್ಕ್ವೇರ್
C) 30° set square | 30° ಸೆಟ್ ಸ್ಕ್ವೇರ್
- B) 45° set square | 45° ಸೆಟ್ ಸ್ಕ್ವೇರ್
D) 15° set square | 15° ಸೆಟ್ ಸ್ಕ್ವೇರ್

52. Identify the conventional symbol of material? | ವಸ್ತುವಿನ ಕನ್ವೆಷನಲ್ ಚಿಹ್ನೆಯನ್ನು ಗುರುತಿಸಿ?

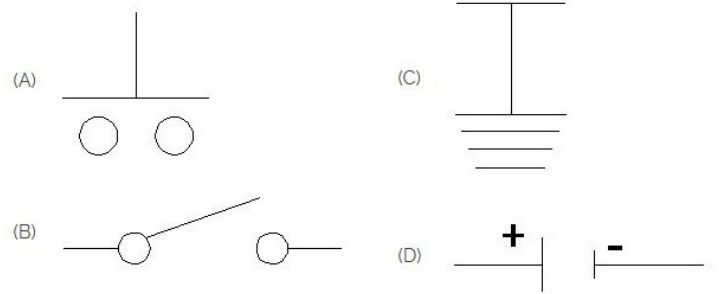


- A) Steel | ಸ್ಟೀಲ್
C) Wood | ಮರ
- B) Concrete | ಕಾಂಕ್ರೀಟ್
D) Glass | ಗಾಜು

53. Which materials pipe is used for drainage pipe line? | ಡ್ರೈನೇಜ್ ಪೈಪ್ ಲೈನ್‌ಗೆ ಯಾವ ವಸ್ತುಗಳ ಪೈಪ್ ಅನ್ನು ಬಳಸಲಾಗುತ್ತದೆ?

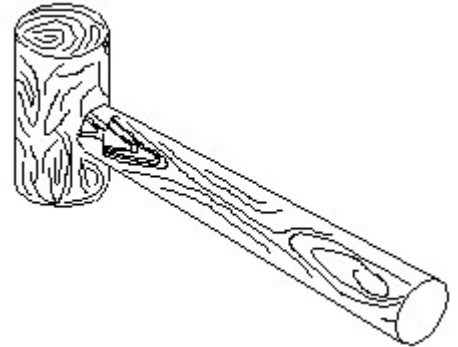
- A) Steel pipe | ಉಕ್ಕಿನ ಕೊಳವೆ
C) Brass Pipe | ಹಿತ್ತಾಳೆ ಪೈಪ್
- B) PVC pipe | PVC ಪೈಪ್
D) G.I. Pipe | ಜಿಐ ಪೈಪ್

54. Which is the symbol of earth? | ಭೂಮಿಯ ಸಂಕೇತ ಯಾವುದು?



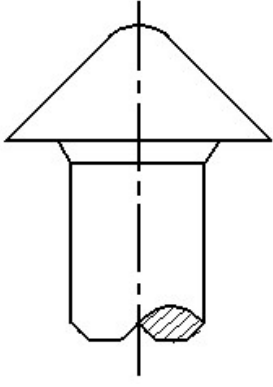
- A) A
C) B
- B) C
D) D

55. Identify the name of tool? | ಉಪಕರಣದ ಹೆಸರನ್ನು ಗುರುತಿಸುವುದೇ?



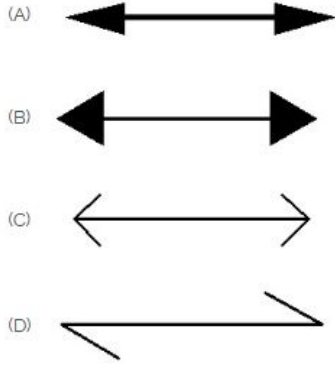
- A) Mallet | ಮ್ಯಾಲೆಟ್
C) Straight pein hammer | ಸ್ಟ್ರೇಟ್ ಪೆಯಿನ್ ಸುತ್ತಿಗೆ
- B) Cross pein hammer | ಕ್ರಾಸ್ ಪೀನ್ ಸುತ್ತಿಗೆ
D) Ball pein hammer | ಬಾಲ್ ಪೆನ್ ಸುತ್ತಿಗೆ

56. The head for boiler application is shown in the figure given below is _____ | ಕೆಲಗಿನ ಚಿತ್ರದಲ್ಲಿ ತೋರಿಸಿರುವ ಬಾಯ್ಲರ್ ಅಪ್ಲಿಕೇಶನ್‌ನ ಹೆಡ್.



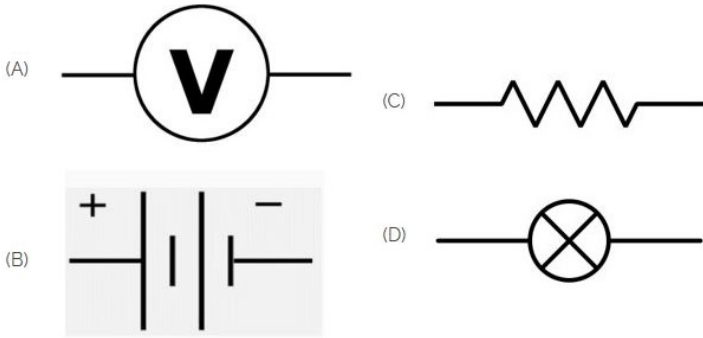
- A) pan | ಪ್ಯಾನ್
B) conical | ಶಂಕುವಿನಾಕಾರದ
C) snap | ಸ್ನಾಪ್
D) steeple | ಸ್ಟೀಪಲ್

57. Which arrow head is correct as per standard? | ಮಾನದಂಡದ ಪ್ರಕಾರ ಯಾವ ಬಾಣದ ಹೆಡ್ ಸರಿಯಾಗಿದೆ?



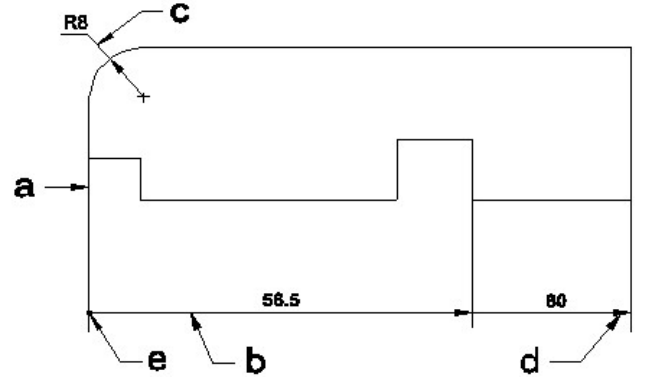
- A) A
B) B
C) D
D) C

58. Identify the symbol of battery. | ಬ್ಯಾಟರಿಯ ಚಿಹ್ನೆಯನ್ನು ಗುರುತಿಸಿ.



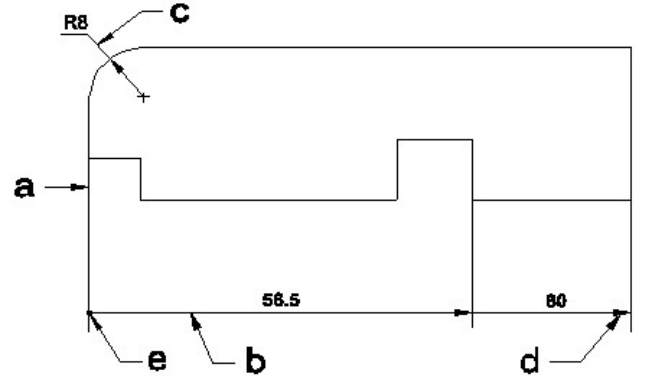
- A) B
B) C
C) A
D) D

59. Identify the line □ b□ ? | ಸಾಠಿನ್ನು ಗುರುತಿಸುವುದೇ?



- A) Extension line | ಎಕ್ಸ್ಟೆನ್ಷನ್ ಲೈನ್
B) Dimension line | ಡೈಮೆನ್ಷನ್ ಲೈನ್
C) Leader line | ಲೀಡರ್ ಲೈನ್
D) Termination of dimension line | ಆಯಾಮ ರೇಖೆಯ ಮುಕ್ತಾಯ

60. Identify the line □ b□ ? | ಸಾಠಿನ್ನು ಗುರುತಿಸುವುದೇ?

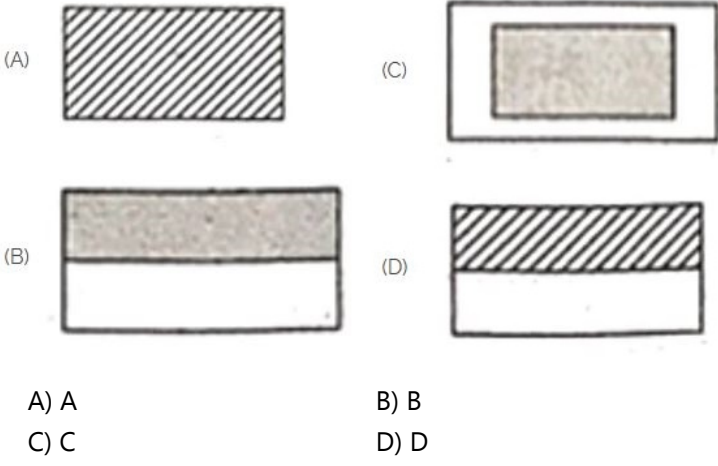


- A) Extension line | ಎಕ್ಸ್ಟೆನ್ಷನ್ ಲೈನ್
B) Leader line | ಲೀಡರ್ ಲೈನ್
C) Termination of dimension line | ಆಯಾಮ ರೇಖೆಯ ಮುಕ್ತಾಯ
D) Dimension line | ಡೈಮೆನ್ಷನ್ ಲೈನ್

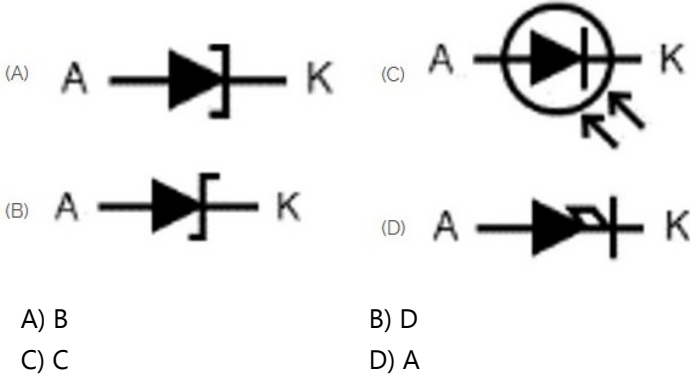
61. Nut and bolts are _____ | ನಟ್ ಮತ್ತು ಬೋಲ್ಟ್ಸ್ _____

- A) temporary fastening | ತಾತ್ಕಾಲಿಕ ಜೋಡಣೆ
B) semi permanent | ಅರ್ಧ ಶಾಶ್ವತ
C) permanent fastening | ಶಾಶ್ವತ ಜೋಡಣೆ
D) semi temporary | ಅರ್ಧ ತಾತ್ಕಾಲಿಕ

62. Choose the symbol for main fuse board without switches (P). | ಸ್ವಿಚ್‌ಗಳ (ಪಿ) ಇಲ್ಲದೆ ಮುಖ್ಯ ಫ್ಯೂಸ್ ಬೋರ್ಡ್‌ಗಾಗಿ ಚಿಹ್ನೆಯನ್ನು ಆರಿಸಿ.



63. Which is photo diode? | ಫೋಟೋ ಡಯೋಡ್ ಯಾವುದು?



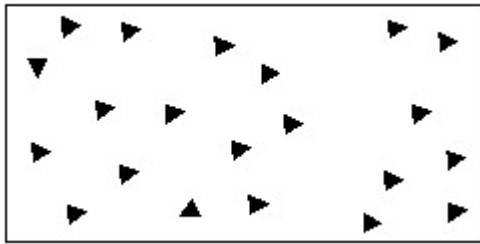
64. The thread angle of B.S.W screw threads are ___. | BSW ಸ್ಕ್ರೂ ಥ್ರೆಡ್‌ಗಳ ಥ್ರೆಡ್ ಕೋನವು _____.

- A) 60°
C) 30°
- B) 55°
D) 45°

65. CPRF stands for _____ | CPRF ಎಂದರೆ _____

- A) Combined Pile Raft Foundation.
C) Combined Plain Round Foundation
- B) Connected Pile Round Foundation
D) Corrosion Proof Raft Foundation

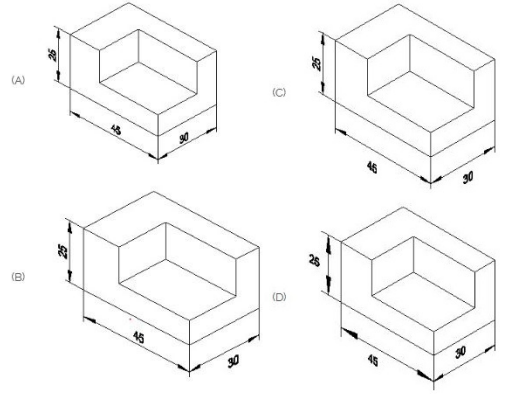
66. Identify the conventional symbol of material? | ವಸ್ತುವಿನ ಕನ್ವೆಷನಲ್ ಚಿಹ್ನೆಯನ್ನು ಗುರುತಿಸಿ?



- A) Glass | ಗಾಜು
C) Steel | ಸ್ಟೀಲ್
- B) Wood | ಮರ
D) Concrete | ಕಾಂಕ್ರೀಟ್

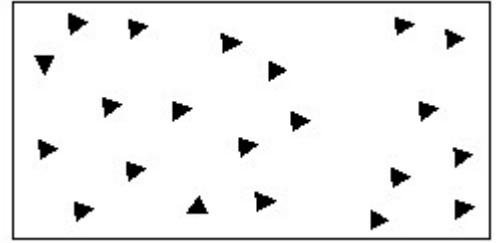
67. Which drawing dimension is correct as per standard

drawing practice? | ಸ್ಟಾಂಡರ್ಡ್ ಡ್ರಾಯಿಂಗ್ ಅಭ್ಯಾಸದ ಪ್ರಕಾರ ಯಾವ ಡ್ರಾಯಿಂಗ್ ಆಯಾಮ ಸರಿಯಾಗಿದೆ?



- A) B
C) D
- B) C
D) A

68. Identify the conventional symbol of material? | ವಸ್ತುವಿನ ಕನ್ವೆಷನಲ್ ಚಿಹ್ನೆಯನ್ನು ಗುರುತಿಸಿ?

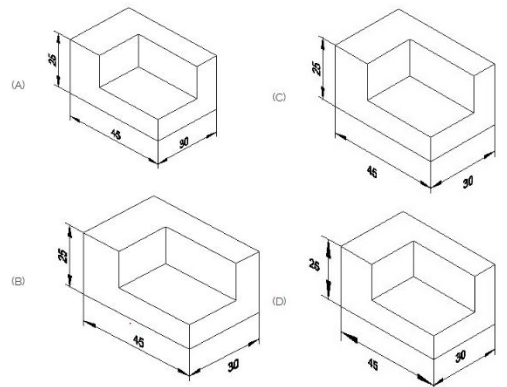


- A) Steel | ಸ್ಟೀಲ್
C) Concrete | ಕಾಂಕ್ರೀಟ್
- B) Glass | ಗಾಜು
D) Wood | ಮರ

69. Identify the name of set square? | ಸೆಟ್ ಚೌಕದ ಹೆಸರನ್ನು ಗುರುತಿಸುವುದೇ?

- A) 30° set square | 30° ಸೆಟ್ ಸ್ಕ್ವೇರ್
C) 60° set square | 60° ಸೆಟ್ ಸ್ಕ್ವೇರ್
- B) 45° set square | 45° ಸೆಟ್ ಸ್ಕ್ವೇರ್
D) 15° set square | 15° ಸೆಟ್ ಸ್ಕ್ವೇರ್

70. Which drawing dimension is correct as per standard drawing practice? | ಸ್ಟಾಂಡರ್ಡ್ ಡ್ರಾಯಿಂಗ್ ಅಭ್ಯಾಸದ ಪ್ರಕಾರ ಯಾವ ಡ್ರಾಯಿಂಗ್ ಆಯಾಮ ಸರಿಯಾಗಿದೆ?

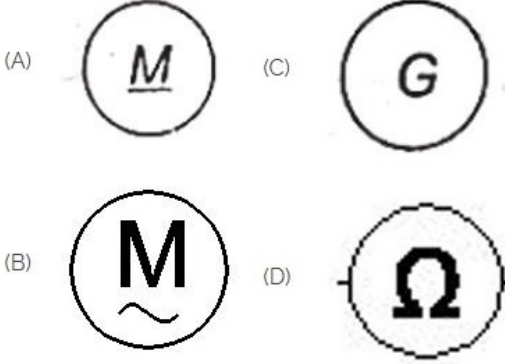


- A) A B) B
C) D D) C

71. Riveted joints is a _____ | ರಿವೆಟೆಡ್ ಜಂಟಿಗಳು

- A) semi permanent | ಅರೆ ಶಾಶ್ವತ
B) temporary joints | ತಾತ್ಕಾಲಿಕ ಜಂಟಿಗಳು
C) permanent joints | ಶಾಶ್ವತ ಜಂಟಿಗಳು
D) none of these | ಇದ್ದಾವುದೂ ಅಲ್ಲ

72. Which is a symbol of DC motor? | DC ಮೋಟರ್‌ನ ಸಂಕೇತ ಯಾವುದು?

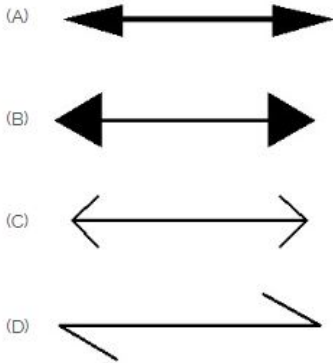


- A) A B) C
C) D D) B

73. Which device is used to start and stop a motor? | ಮೋಟಾರ್ ಅನ್ನು ಪ್ರಾರಂಭಿಸಲು ಮತ್ತು ನಿಲ್ಲಿಸಲು ಯಾವ ಸಾಧನವನ್ನು ಬಳಸಲಾಗುತ್ತದೆ?

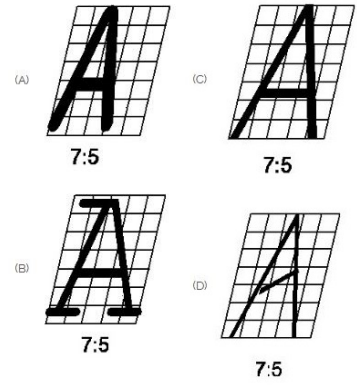
- A) Slip ring | ಸ್ಲಿಪ್ ರಿಂಗ್ B) Stator | ಸ್ಟೇಟರ್
C) Rotor | ರೋಟರ್ D) Starter | ಸ್ಟಾರ್ಟರ್

74. Which arrow head is correct as per standard? | ಮಾನದಂಡದ ಪ್ರಕಾರ ಯಾವ ಬಾಣದ ಹೆಡ್ ಸರಿಯಾಗಿದೆ?



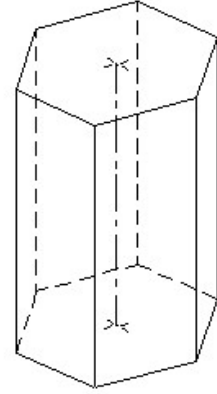
- A) B B) A
C) C D) D

75. Which single stroke inclined letter □ A□ is correct as per IS standard? | IS ಮಾನದಂಡದ ಪ್ರಕಾರ ಯಾವ ಏಕ ಸ್ಟ್ರೋಕ್ ಇಳಿಜಾರಿನ ಅಕ್ಷರ □ A□ ಸರಿಯಾಗಿದೆ?



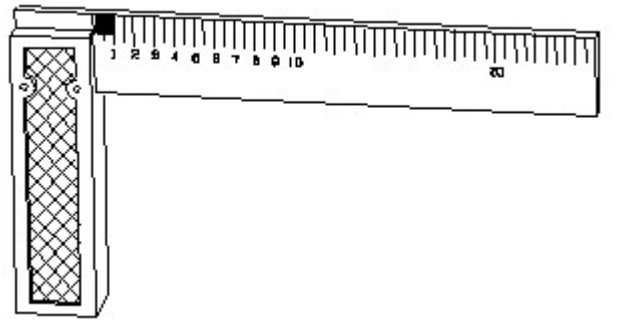
- A) B B) A
C) D D) C

76. Identify the name of prism? | ಪ್ರಿಸ್ಮ್ ಹೆಸರನ್ನು ಗುರುತಿಸುವುದೇ?




- A) Pentagonal prism | ಪೆಂಟಾಗೋನಲ್ ಪ್ರಿಸ್ಮ್ B) Square prism | ಚದರ ಪ್ರಿಸ್ಮ್
C) Hexagonal prism | ಷಡ್ಭುಜೀಯ ಪ್ರಿಸ್ಮ್ D) Triangular prism | ತ್ರಿಕೋನ ಪ್ರಿಸ್ಮ್

77. 1). Identify the name of tool? | ಉಪಕರಣದ ಹೆಸರನ್ನು ಗುರುತಿಸುವುದೇ?




- A) Try square | ಟ್ರೈ ಸ್ಕ್ವೇರ್ B) Surface gauge | ಮೇಲ್ಮೈ ಮಾಪಕ
C) Feeler gauge | ಫೀಲರ್ ಗೇಜ್ D) Steel rule | ಸ್ಟೀಲ್ ರೂಲ್

78. Identify the switch in the given picture. | ನೀಡಿರುವ ಚಿತ್ರದಲ್ಲಿ ಸ್ವಿಚ್ ಅನ್ನು ಗುರುತಿಸಿ.



- A) Flux type switch | ಫ್ಲಕ್ಸ್ ಪ್ರಕಾರದ ಸ್ವಿಚ್
B) Intermediate Switch | ಮಧ್ಯಂತರ ಸ್ವಿಚ್
C) Toggle Switch | ಟಾಗಲ್ ಸ್ವಿಚ್
D) Tumbler Switch | ಟಂಬ್ಲರ್ ಸ್ವಿಚ್

79. Which is nose pliers? | ನೋಸ್ ಪ್ಲಿಯರ್ ಯಾವುದು?

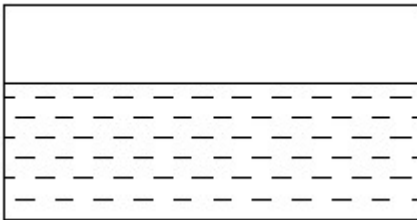


- A) A
B) C
C) B
D) D

80. Compass used to draw for _____. | ಕಂಪಾಸ್ ಅನ್ನು _____ ಗೆ ಸೆಳೆಯಲು ಬಳಸಲಾಗುತ್ತದೆ.

- A) rectangle | ಆಯಾತ
B) circle | ವೃತ್ತ
C) square | ಚದರ
D) triangle | ತ್ರಿಕೋನ

81. Identify the conventional symbol of material? | ವಸ್ತುವಿನ ಕನ್ವೆಷನಲ್ ಚಿಹ್ನೆಯನ್ನು ಗುರುತಿಸಿ?



- A) Glass | ಗಾಜು
B) Asbestos | ಆಸ್ಟೆಸ್ಟೋಸ್
C) Concrete | ಕಾಂಕ್ರೀಟ್
D) Water | ನೀರು

82. Pipe cutting die is generally _____ | ಪೈಪ್ ಕಟಿಂಗ್ ಡೈ ಸಾಮಾನ್ಯವಾಗಿ _____

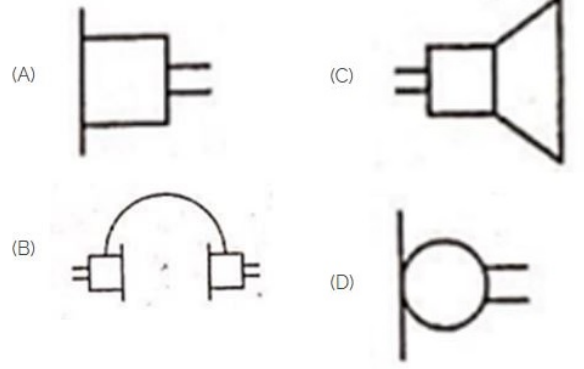
A) divided in two parts | ಎರಡು ಭಾಗಗಳಾಗಿ ವಿಂಗಡಿಸಲಾಗಿದೆ

B) undivided | ಅವಿಭಜಿತ

C) divided in four parts. | ನಾಲ್ಕು ಭಾಗಗಳಾಗಿ ವಿಂಗಡಿಸಲಾಗಿದೆ.

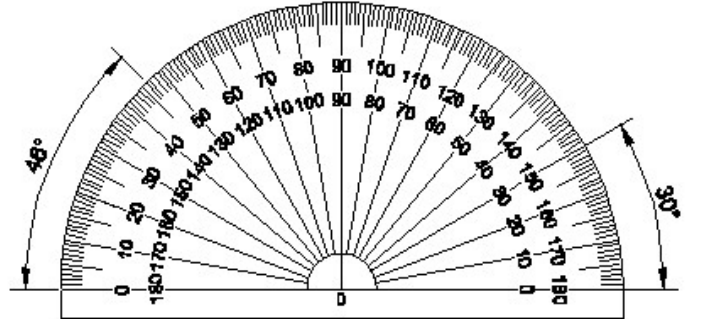
D) divided in three parts | ಮೂರು ಭಾಗಗಳಾಗಿ ವಿಂಗಡಿಸಲಾಗಿದೆ

83. Identify the symbol used for microphone (general) in electrical and electronic circuits. | ಎಲೆಕ್ಟ್ರಿಕಲ್ ಮತ್ತು ಎಲೆಕ್ಟ್ರಾನಿಕ್ ಸರ್ಕ್ಯೂಟ್‌ಗಳಲ್ಲಿ ಮೈಕ್ರೋಫೋನ್ (ಸಾಮಾನ್ಯ) ಗಾಗಿ ಬಳಸುವ ಚಿಹ್ನೆಯನ್ನು ಗುರುತಿಸಿ.



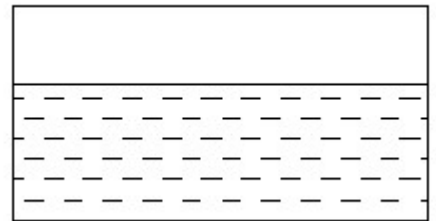
- A) C
B) A
C) D
D) B

84. Identify the name of instrument? | ಉಪಕರಣದ ಹೆಸರನ್ನು ಗುರುತಿಸುವುದೇ?



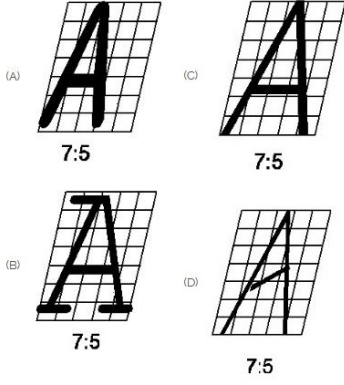
- A) Set square | ಸೆಟ್ ಸ್ಕ್ವೇರ್
B) Protractor | ಪ್ರೊಟ್ರಾಕ್ಟರ್
C) T square | ಟ್ ಸ್ಕ್ವೇರ್
D) French curve | ಫ್ರೆಂಚ್ ಕರ್ವ್

85. Identify the conventional symbol of material? | ವಸ್ತುವಿನ ಕನ್ವೆಷನಲ್ ಚಿಹ್ನೆಯನ್ನು ಗುರುತಿಸಿ?



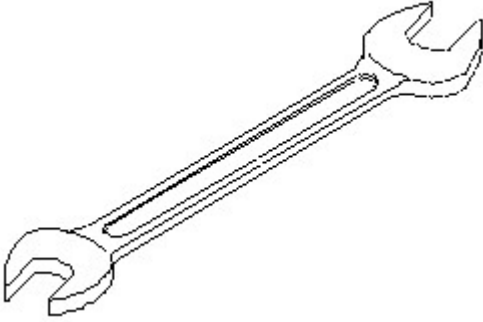
- A) Concrete | ಕಾಂಕ್ರೀಟ್
B) Water | ನೀರು
C) Asbestos | ಆಸ್ಟೆಸ್ಟೋಸ್
D) Glass | ಗಾಜು

86. Which single stroke inclined letter □ A□ is correct as per IS standard? | IS ಮಾನದಂಡದ ಪ್ರಕಾರ ಯಾವ ಏಕ ಸ್ಟ್ರೋಕ್ ಇಳಿಜಾರಿನ ಅಕ್ಷರ □ A□ರಿಯಾಗಿದೆ?



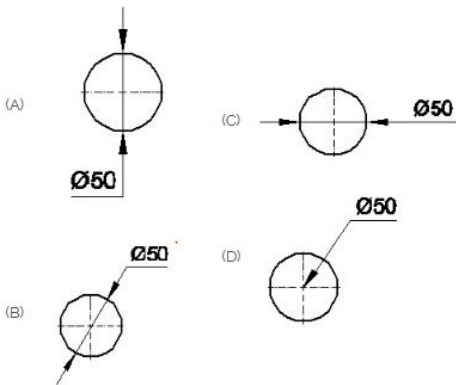
- A) D
C) B
- B) C
D) A

87. Identify the name of tool? | ಉಪಕರಣದ ಹೆಸರನ್ನು ಗುರುತಿಸುವುದೇ?



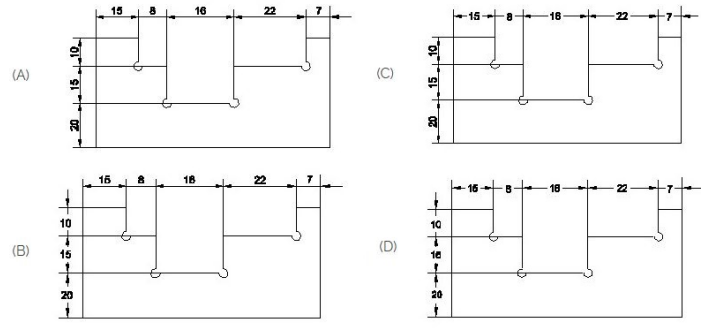
- A) Combination spanner | ಕಾಂಬಿನೇಶನ್ ಸ್ಪಾನರ್
B) Open end spanner | ಓಪನ್ ಎಂಡ್ ಸ್ಪಾನರ್
C) Ring spanner | ರಿಂಗ್ ಸ್ಪಾನರ್
D) Adjustable spanner | ಹೊಂದಿಸಬಹುದಾದ ಸ್ಪಾನರ್

88. Which dimension correctly marked in the circle as per standard? | ಮಾನದಂಡದ ಪ್ರಕಾರ ವೃತ್ತದಲ್ಲಿ ಯಾವ ಆಯಾಮವನ್ನು ಸರಿಯಾಗಿ ಗುರುತಿಸಲಾಗಿದೆ?



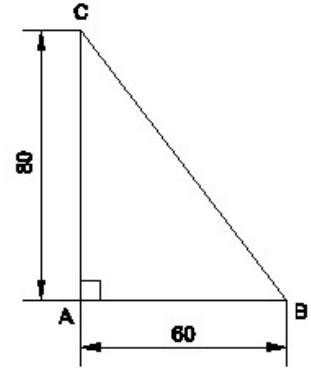
- A) A
C) B
- B) D
D) C

89. Identify the correct aligned system dimension? | ಸರಿಯಾದ ಜೋಡಿಸಲಾದ ಸಿಸ್ಟಮ್ ಆಯಾಮವನ್ನು ಗುರುತಿಸುವುದೇ?



- A) D
C) B
- B) C
D) A

90. Identify the name of the triangle? | ತ್ರಿಕೋನದ ಹೆಸರನ್ನು ಗುರುತಿಸುವುದೇ?

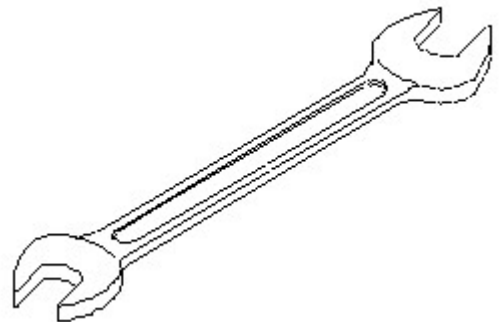


- A) Isosceles triangle | ಸಮದ್ವಿಭಾಹು ತ್ರಿಭುಜ
B) Equilateral triangle | ಸಮಕೋನ ತ್ರಿಕೋನ
C) Scalene triangle | ಸ್ಕೇಲಿನ್ ತ್ರಿಕೋನ
D) Right angle triangle | ಬಲ ಕೋನ ತ್ರಿಕೋನ

91. Which one of the following accommodates four pipes in a pipe fitting? | ಕೆಳಗಿನವುಗಳಲ್ಲಿ ಯಾವುದು ಪೈಪ್ ಫಿಟ್ಟಿಂಗ್‌ನಲ್ಲಿ ನಾಲ್ಕು ಪೈಪ್‌ಗಳನ್ನು ಅಳವಡಿಸುತ್ತದೆ?

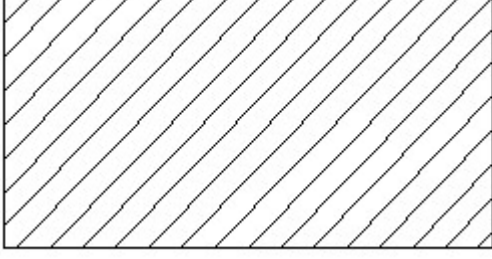
- A) Union | ಯೂನಿಯನ್
B) Elbow | ಎಲ್ಬೋ
C) Tee | ಟೀ
D) Cross | ಅಡ್ಡ

92. Identify the name of tool? | ಉಪಕರಣದ ಹೆಸರನ್ನು ಗುರುತಿಸುವುದೇ?



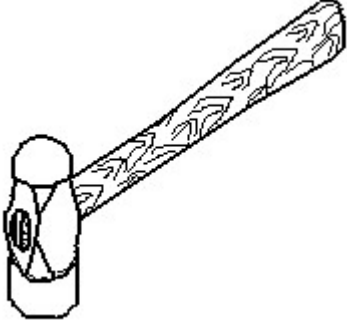
- A) Open end spanner | ಓಪನ್ ಎಂಡ್ ಸ್ಪಾನರ್
B) Ring spanner | ರಿಂಗ್ ಸ್ಪಾನರ್
C) Combination spanner | ಕಾಂಬಿನೇಶನ್ ಸ್ಪಾನರ್
D) Adjustable spanner | ಹೊಂದಿಸಬಹುದಾದ ಸ್ಪಾನರ್

93. Identify the conventional symbol of material? | ವಸ್ತುವಿನ ಕನ್ವೆಷನಲ್ ಚಿಹ್ನೆಯನ್ನು ಗುರುತಿಸಿ?



- A) Porcelain | ಪಿಂಗಾಣಿ
B) Glass | ಗಾಜು
C) Lead | ಲೀಡ್
D) Steel | ಸ್ಟೀಲ್

94. Identify the name of tool? | ಉಪಕರಣದ ಹೆಸರನ್ನು ಗುರುತಿಸುವುದೇ?

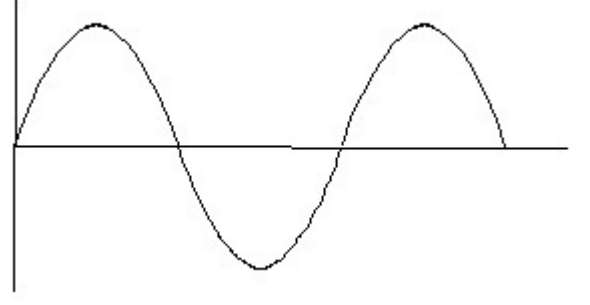


- A) Straight pein hammer | ನೇರ ಪೆನ್ ಸುತ್ತಿಗೆ
B) Cross pein hammer | ಕ್ರಾಸ್ ಪೀನ್ ಸುತ್ತಿಗೆ
C) Ball pein hammer | ಬಾಲ್ ಪೆನ್ ಸುತ್ತಿಗೆ
D) Sledge hammer | ಸ್ಲೆಡ್ಜ್ ಹ್ಯಾಮ್

95. What is the trimmed size of A4 sheet? | A4 ಹಾಳೆಯ ಕ್ರಿಮ್ ಮಾಡಿದ ಗಾತ್ರ ಎಷ್ಟು?

- A) 594 x 841
B) 210 x 297
C) 841 x 1189
D) 148 x 210

96. Identify the wave form. | ವೇವ್ ಫಾರ್ಮ್ ವನ್ನು ಗುರುತಿಸಿ.

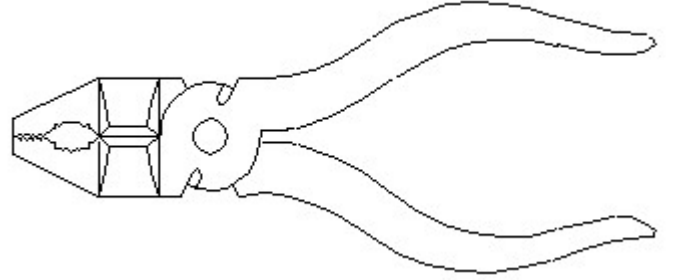


- A) Square wave | ಸ್ಕ್ವೇರ್ ವೇವ್
B) Saw-tooth wave | ಸಾ-ಟೂತ್ ವೇವ್
C) Triangle wave | ತ್ರಿಕೋನ ವೇವ್
D) Sine wave | ಸೈನ್ ವೇವ್

97. Which part regulates the heat in automatic iron? | ಆಟೋಮೇಟಿಕ್ ಐರನ್‌ನಲ್ಲಿನ ಶಾಖವನ್ನು ಯಾವ ಭಾಗವು ನಿಯಂತ್ರಿಸುತ್ತದೆ?

- A) Thermostatic switch | ಥರ್ಮೋಸ್ಟಾಟಿಕ್ ಸ್ವಿಚ್
B) Pressure plate | ಪ್ರೆಶರ್ ಪ್ಲೇಟ್
C) Heating element | ಹೀಟಿಂಗ್ ಎಲಿಮೆಂಟ್
D) Asbestos sheet | ಆಸ್ಟೆಸ್ಟೋಸ್ ಶೀಟ್

98. Identify the name of tool? | ಉಪಕರಣದ ಹೆಸರನ್ನು ಗುರುತಿಸುವುದೇ?



- A) Cutting plier | ಕಟಿಂಗ್ ಪ್ಲೈಯರ್
B) Hawk-billed shear | ಹಾಕ್-ಬಿಲ್ಡ್ ಸಿಯರ್
C) Aviation shear | ಏವಿಯೇಷನ್ ಸಿಯರ್
D) Double cutting shear | ಡಬಲ್ ಕಟಿಂಗ್ ಸಿಯರ್