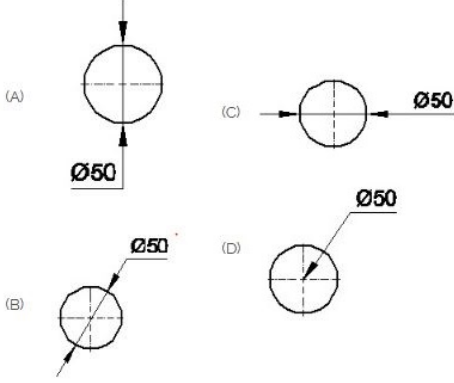


Duration: 30 Mins

Total Marks: 25

Q.ID: ITISKILL5219M2

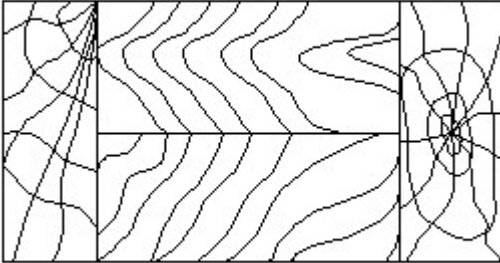
1. Which dimension correctly marked in the circle as per standard? | ಮಾನದಂಡದ ಪ್ರಕಾರ ವೃತ್ತದಲ್ಲಿ ಯಾವ ಆಯಾಮವನ್ನು ಸರಿಯಾಗಿ ಗುರುತಿಸಲಾಗಿದೆ?



- A) B
C) D
B) C
D) A

Answer: A) B

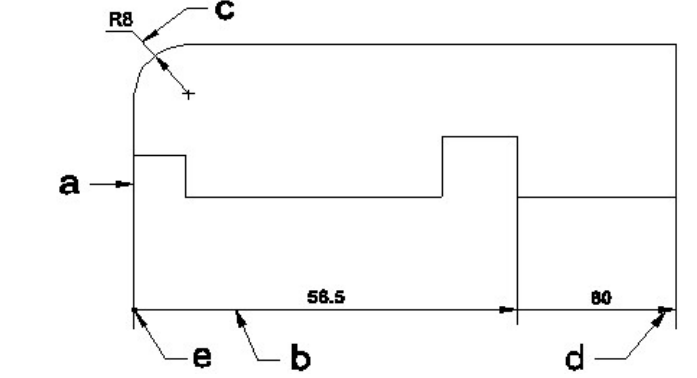
2. Identify the conventional symbol of material? | ವಸ್ತುವಿನ ಕನ್ವೆಷನಲ್ ಚಿಹ್ನೆಯನ್ನು ಗುರುತಿಸಿ?



- A) Wood | ಮರ
C) Paper | ಪೇಪರ್
B) Lead | ಲೀಡ್
D) Glass | ಗಾಜು

Answer: A) Wood | ಮರ

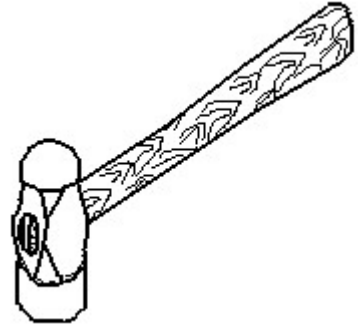
3. Identify the line □ b □ ? | □ ಸಾಫ್ಟಿನ್ನು ಗುರುತಿಸುವುದೇ?



- A) Termination of dimension line | ಆಯಾಮ ರೇಖೆಯ ಮುಕ್ತಾಯ
C) Extension line | ಎಕ್ಸ್ಟೆನ್ಷನ್ ಲೈನ್
B) Leader line | ಲೀಡರ್ ಲೈನ್
D) Dimension line | ಡೈಮೆನ್ಷನ್ ಲೈನ್

Answer: D) Dimension line | ಡೈಮೆನ್ಷನ್ ಲೈನ್

4. Identify the name of tool? | ಉಪಕರಣದ ಹೆಸರನ್ನು ಗುರುತಿಸುವುದೇ?

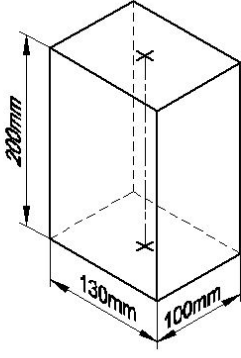


- A) Straight pein hammer | ನೇರ ಪೆನ್ ಸುತ್ತಿಗೆ
C) Cross pein hammer | ಕ್ರಾಸ್ ಪೀನ್ ಸುತ್ತಿಗೆ
B) Sledge hammer | ಸ್ಲೆಡ್ಜ್ ಸುತ್ತಿಗೆ
D) Ball pein hammer | ಬಾಲ್ ಪೆನ್ ಸುತ್ತಿಗೆ

Answer: D) Ball pein hammer | ಬಾಲ್ ಪೆನ್ ಸುತ್ತಿಗೆ

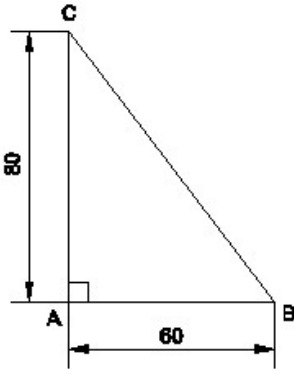
5. Which arrow head is correct as per standard? | ಮಾನದಂಡದ ಪ್ರಕಾರ ಯಾವ ಬಾಣದ ಹೆಡ್ ಸರಿಯಾಗಿದೆ?

12. Identify the name of prism? | ಪ್ರಿಸ್ಮ್ ಹೆಸರನ್ನು ಗುರುತಿಸುವುದೇ?



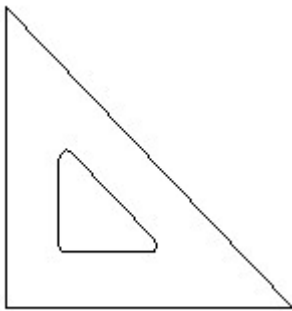
- A) Rectangle prism | ಆಯತ ಪ್ರಿಸ್ಮ್
 B) Hexagonal prism | ಷಡ್ಭುಜೀಯ ಪ್ರಿಸ್ಮ್
 C) Square prism | ಚದರ ಪ್ರಿಸ್ಮ್
 D) Triangular prism | ತ್ರಿಕೋನ ಪ್ರಿಸ್ಮ್
- Answer: A) Rectangle prism | ಆಯತ ಪ್ರಿಸ್ಮ್**

13. Identify the name of the triangle? | ತ್ರಿಕೋನದ ಹೆಸರನ್ನು ಗುರುತಿಸುವುದೇ?



- A) Scalene triangle | ಸ್ಕೇಲಿನ್ ತ್ರಿಕೋನ
 B) Equilateral triangle | ಸಮಕೋನ ತ್ರಿಕೋನ
 C) Isosceles triangle | ಸಮದ್ವಿಭಾಹು ತ್ರಿಭುಜ
 D) Right angle triangle | ಬಲ ಕೋನ ತ್ರಿಕೋನ
- Answer: D) Right angle triangle | ಬಲ ಕೋನ ತ್ರಿಕೋನ**

14. Identify the name of set square? | ಸೆಟ್ ಚೌಕದ ಹೆಸರನ್ನು ಗುರುತಿಸುವುದೇ?

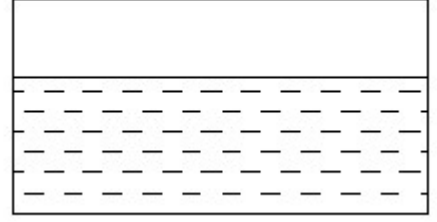


- A) 45° set square | 45° ಸೆಟ್ ಸ್ಕ್ವೇರ್
 B) 30° set square | 30° ಸೆಟ್ ಸ್ಕ್ವೇರ್

- C) 60° set square | 60° ಸೆಟ್ ಸ್ಕ್ವೇರ್
 D) 15° set square | 15° ಸೆಟ್ ಸ್ಕ್ವೇರ್

Answer: A) 45° set square | 45° ಸೆಟ್ ಸ್ಕ್ವೇರ್

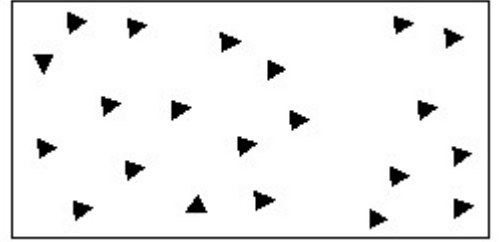
15. Identify the conventional symbol of material? | ವಸ್ತುವಿನ ಕನ್ವೆಷನಲ್ ಚಿಹ್ನೆಯನ್ನು ಗುರುತಿಸಿ?



- A) Glass | ಗಾಜು
 B) Concrete | ಕಾಂಕ್ರೀಟ್
 C) Water | ನೀರು
 D) Asbestos | ಆಸ್ಟೆಸೋಲ್ಯಸ್

Answer: C) Water | ನೀರು

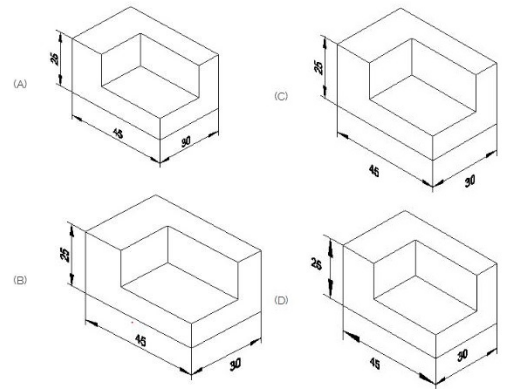
16. Identify the conventional symbol of material? | ವಸ್ತುವಿನ ಕನ್ವೆಷನಲ್ ಚಿಹ್ನೆಯನ್ನು ಗುರುತಿಸಿ?



- A) Steel | ಸ್ಟೀಲ್
 B) Wood | ಮರ
 C) Concrete | ಕಾಂಕ್ರೀಟ್
 D) Glass | ಗಾಜು

Answer: C) Concrete | ಕಾಂಕ್ರೀಟ್

17. Which drawing dimension is correct as per standard drawing practice? | ಸ್ಟಾಂಡರ್ಡ್ ಡ್ರಾಯಿಂಗ್ ಅಭ್ಯಾಸದ ಪ್ರಕಾರ ಯಾವ ಡ್ರಾಯಿಂಗ್ ಆಯಾಮ ಸರಿಯಾಗಿದೆ?

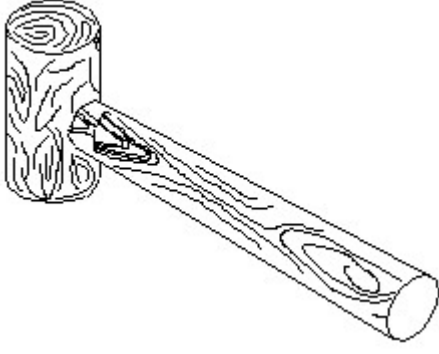


- A) D
 B) A
 C) B
 D) C

Answer: B) A

18. Identify the name of tool? | ಉಪಕರಣದ ಹೆಸರನ್ನು

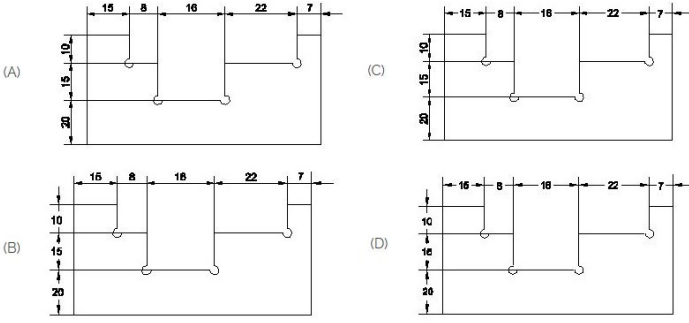
ಗುರುತಿಸುವುದೇ?



- A) Straight pein hammer | ಸ್ಟ್ರೇಟ್ ಪೆಯಿನ್ ಸುತ್ತಿಗೆ
 B) Mallet | ಮ್ಯಾಲೆಟ್
 C) Cross pein hammer | ಕ್ರಾಸ್ ಪೀನ್ ಸುತ್ತಿಗೆ
 D) Ball pein hammer | ಬಾಲ್ ಪೆನ್ ಸುತ್ತಿಗೆ

Answer: B) Mallet | ಮ್ಯಾಲೆಟ್

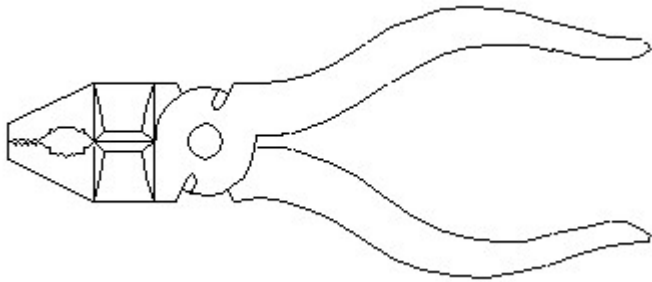
19. Identify the correct aligned system dimension? | ಸರಿಯಾದ ಜೋಡಿಸಲಾದ ಸಿಸ್ಟಮ್ ಆಯಾಮವನ್ನು ಗುರುತಿಸುವುದೇ?



- A) D
 B) B
 C) C
 D) A

Answer: D) A

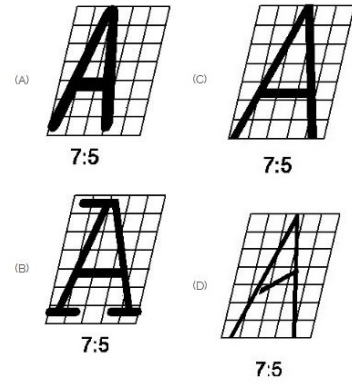
20. Identify the name of tool? | ಉಪಕರಣದ ಹೆಸರನ್ನು ಗುರುತಿಸುವುದೇ?



- A) Hawk-billed shear | ಹಾಕ್-ಬಿಲ್ಡ್ ಸಿಯರ್
 B) Double cutting shear | ಡಬಲ್ ಕಟಿಂಗ್ ಸಿಯರ್
 C) Cutting plier | ಕಟಿಂಗ್ ಪ್ಲಿಯರ್
 D) Aviation shear | ಏವಿಯೇಷನ್ ಸಿಯರ್

Answer: C) Cutting plier | ಕಟಿಂಗ್ ಪ್ಲಿಯರ್

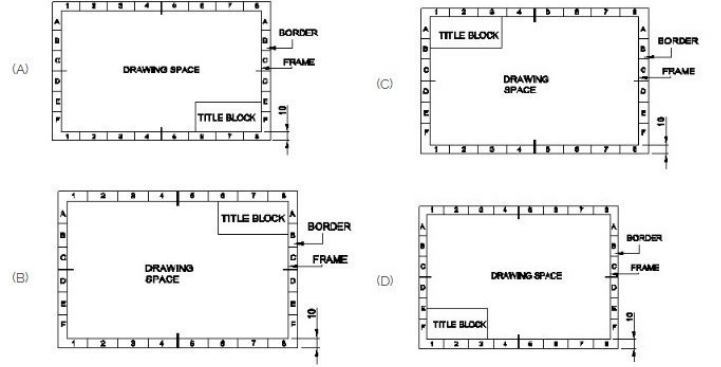
21. Which single stroke inclined letter □ A□ is correct as per IS standard? | IS ಮಾನದಂಡದ ಪ್ರಕಾರ ಯಾವ ಏಕ ಸ್ಟ್ರೋಕ್ ಇಲಿಜಾರಿನ ಅಕ್ಷರ □ A□ ಇರಿಯಾಗಿದೆ?



- A) C
 B) B
 C) A
 D) D

Answer: A) C

22. Which title block position is correct as standard practice? | ಪ್ರಮಾಣಿತ ಅಭ್ಯಾಸದಂತೆ ಯಾವ ಶೀರ್ಷಿಕೆ ಬಾಕ್ಸ್ ಸ್ಥಾನವು ಸರಿಯಾಗಿದೆ?



- A) B
 B) C
 C) A
 D) D

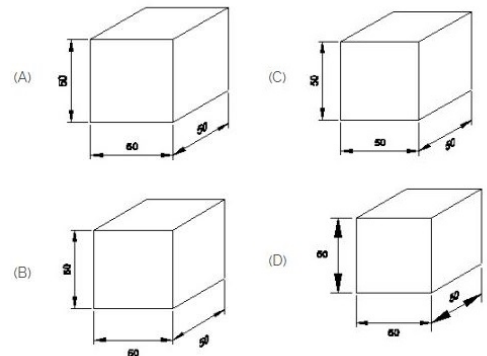
Answer: C) A

23. What is the trimmed size of A4 sheet? | A4 ಹಾಳೆಯ ಟ್ರಿಮ್ ಮಾಡಿದ ಗಾತ್ರ ಎಷ್ಟು?

- A) 841 x 1189
 B) 148 x 210
 C) 594 x 841
 D) 210 x 297

Answer: D) 210 x 297

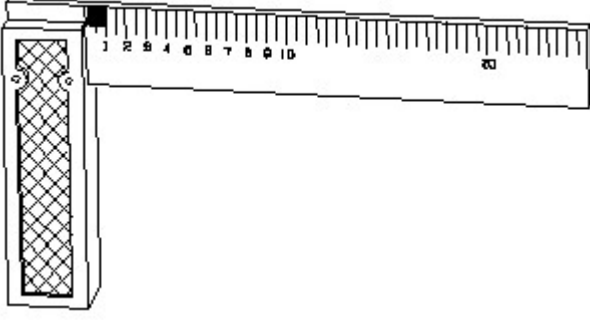
24. Which drawing dimension is correct as per IS standard? | IS ಮಾನದಂಡದ ಪ್ರಕಾರ ಯಾವ ರೇಖಾಚಿತ್ರದ ಆಯಾಮವು ಸರಿಯಾಗಿದೆ?



- A) A
 B) D
 C) C
 D) B

Answer: A) A

25. 1). Identify the name of tool? | ಉಪಕರಣದ ಹೆಸರನ್ನು ಗುರುತಿಸುವುದೇ?



A) Surface gauge | ಮೇಲ್ಮೈ ಮಾಪಕ

B) Steel rule | ಸ್ಟೀಲ್ ರೂಲ್

C) Try square | ಟ್ರೈ ಸ್ಕ್ವೇರ್

D) Feeler gauge | ಫೀಲರ್ ಗೇಜ್

Answer: C) Try square | ಟ್ರೈ ಸ್ಕ್ವೇರ್