

# ITI Quiz - 27-Apr-2026

## 01:49 PM

Q. ID: ITISKILL5203EX

April 2026

Sri MAHALINGESWARA ITI  
KANAKAPURA

Question Paper

Duration: 30 Mins

Total Marks: 51


ID: ITISKILL5203EX

Student Name: \_\_\_\_\_ Roll No: \_\_\_\_\_

1. Compass used to draw for \_\_\_\_. | ಕಂಪಾಸ್ ಅನ್ನು \_\_\_\_\_ ಗೆ ಸೆಳೆಯಲು ಬಳಸಲಾಗುತ್ತದೆ.

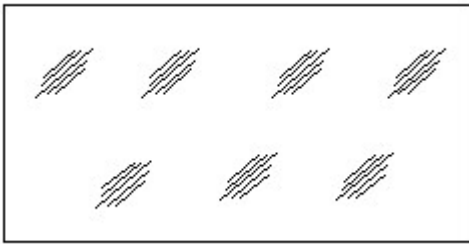
- A) circle | ವೃತ್ತ  
B) triangle | ತ್ರಿಕೋನ  
C) square | ಚರ  
D) rectangle | ಆಯಾತ

2. Identify the conventional symbol of material? | ವಸ್ತುವಿನ ಕನ್ವೆಷನಲ್ ಚಿಹ್ನೆಯನ್ನು ಗುರುತಿಸಿ?



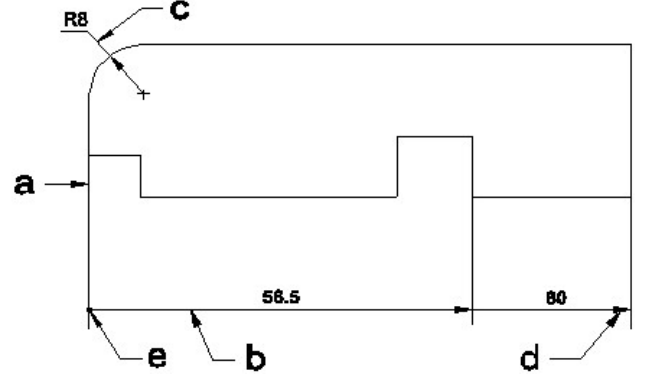
- A) Steel | ಸ್ಟೀಲ್  
B) Glass | ಗಾಜು  
C) Wood | ಮರ  
D) Concrete | ಕಾಂಕ್ರೀಟ್

3. Identify the conventional symbol of material? | ವಸ್ತುವಿನ ಕನ್ವೆಷನಲ್ ಚಿಹ್ನೆಯನ್ನು ಗುರುತಿಸಿ?



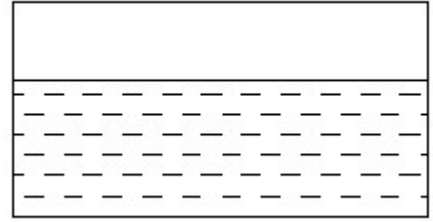
- A) Wood | ಮರ  
B) Concrete | ಕಾಂಕ್ರೀಟ್  
C) Glass | ಗಾಜು  
D) Steel | ಸ್ಟೀಲ್

4. Identify the line □ b□ ? | □ ಸಾಠಿನ್ನು ಗುರುತಿಸುವುದೇ?



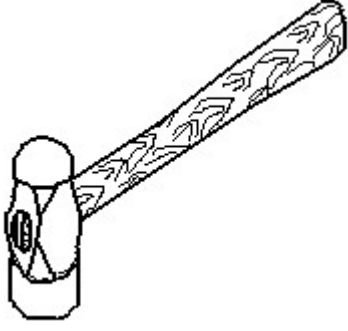
- A) Dimension line | ಡೈಮೆನ್ಷನ್ ಲೈನ್  
B) Leader line | ಲೀಡರ್ ಲೈನ್  
C) Extension line | ಎಕ್ಸ್ಟೆನ್ಷನ್ ಲೈನ್  
D) Termination of dimension line | ಆಯಾಮ ರೇಖೆಯ ಮುಕ್ತಾಯ

5. Identify the conventional symbol of material? | ವಸ್ತುವಿನ ಕನ್ವೆಷನಲ್ ಚಿಹ್ನೆಯನ್ನು ಗುರುತಿಸಿ?



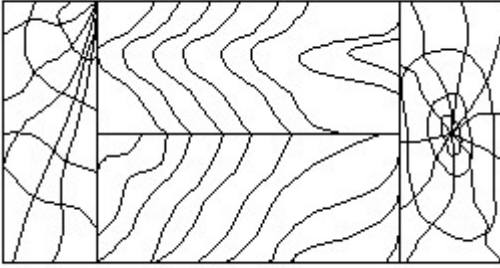
- A) Water | ನೀರು  
B) Concrete | ಕಾಂಕ್ರೀಟ್  
C) Glass | ಗಾಜು  
D) Asbestos | ಆಸ್ಟೆಸ್ಟೋಸ್

6. Identify the name of tool? | ಉಪಕರಣದ ಹೆಸರನ್ನು ಗುರುತಿಸುವುದೇ?



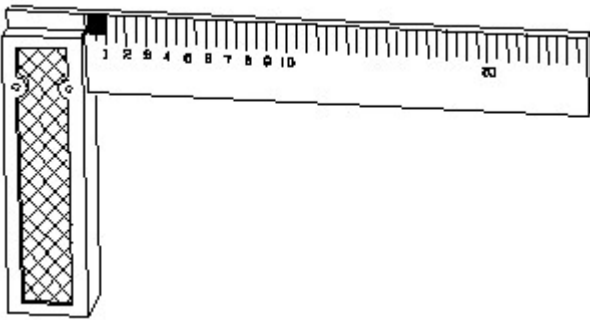
- A) Cross pein hammer | ಕ್ರಾಸ್ ಪೀನ್ ಸುತ್ತಿಗೆ  
 B) Straight pein hammer | ನೇರ ಪೀನ್ ಸುತ್ತಿಗೆ  
 C) Ball pein hammer | ಬಾಲ್ ಪೀನ್ ಸುತ್ತಿಗೆ  
 D) Sledge hammer | ಸ್ಲೆಡ್ಜ್ ಸುತ್ತಿಗೆ

7. Identify the conventional symbol of material? | ವಸ್ತುವಿನ ಕನ್ವೆಷನಲ್ ಚಿಹ್ನೆಯನ್ನು ಗುರುತಿಸಿ?



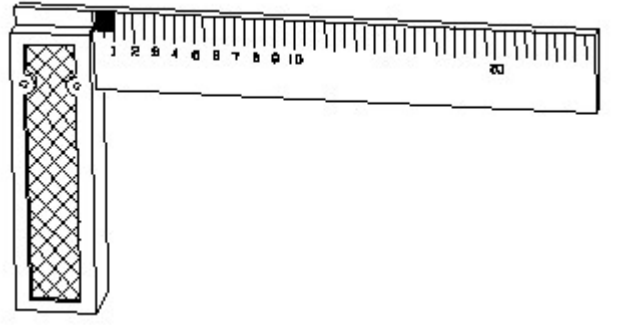
- A) Paper | ಪೇಪರ್  
 B) Wood | ಮರ  
 C) Glass | ಗಾಜು  
 D) Lead | ಲೀಡ್

8. 1). Identify the name of tool? | ಉಪಕರಣದ ಹೆಸರನ್ನು ಗುರುತಿಸುವುದೇ?



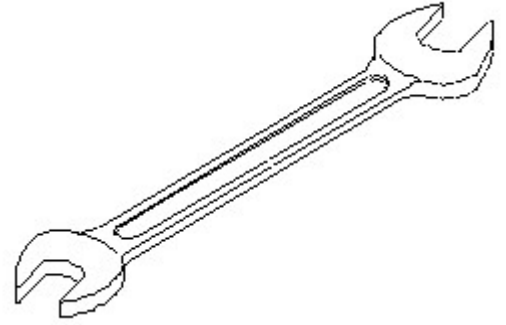
- A) Try square | ಟ್ರೈ ಸ್ಕ್ವೇರ್  
 B) Steel rule | ಸ್ಟೀಲ್ ರೂಲ್  
 C) Surface gauge | ಮೇಲ್ಮೈ ಮಾಪಕ  
 D) Feeler gauge | ಫೀಲರ್ ಗೇಜ್

9. 1). Identify the name of tool? | ಉಪಕರಣದ ಹೆಸರನ್ನು ಗುರುತಿಸುವುದೇ?



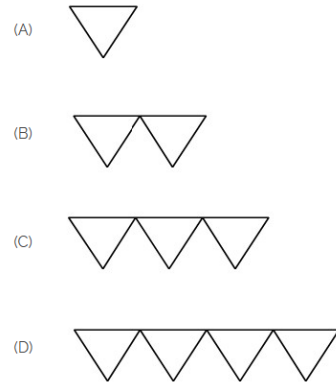
- A) Try square | ಟ್ರೈ ಸ್ಕ್ವೇರ್  
 B) Feeler gauge | ಫೀಲರ್ ಗೇಜ್  
 C) Surface gauge | ಮೇಲ್ಮೈ ಮಾಪಕ  
 D) Steel rule | ಸ್ಟೀಲ್ ರೂಲ್

10. Identify the name of tool? | ಉಪಕರಣದ ಹೆಸರನ್ನು ಗುರುತಿಸುವುದೇ?



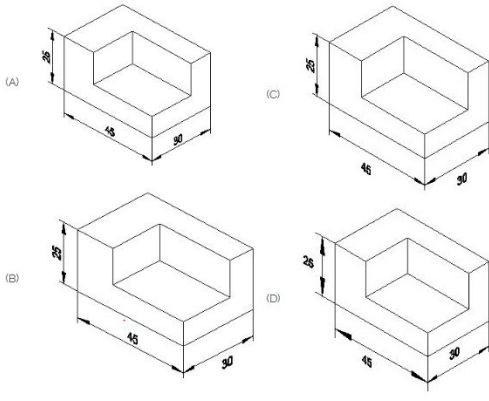
- A) Ring spanner | ರಿಂಗ್ ಸ್ಪ್ಯಾನರ್  
 B) Open end spanner | ಓಪನ್ ಎಂಡ್ ಸ್ಪ್ಯಾನರ್  
 C) Adjustable spanner | ಹೊಂದಿಸಬಹುದಾದ ಸ್ಪ್ಯಾನರ್  
 D) Combination spanner | ಕಾಂಬಿನೇಷನ್ ಸ್ಪ್ಯಾನರ್

11. Which is roughness symbol for roughness grade N8?

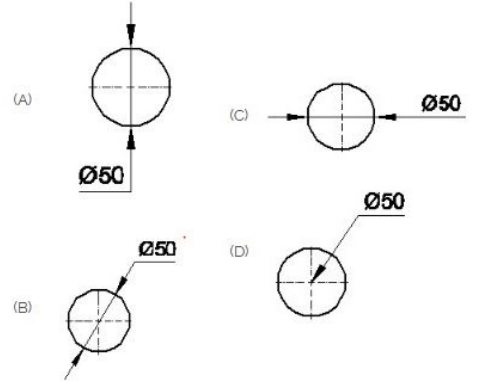


- A) D  
 B) B  
 C) A  
 D) C

12. Which drawing dimension is correct as per standard drawing practice? | ಸ್ಟ್ಯಾಂಡರ್ಡ್ ಡ್ರಾಯಿಂಗ್ ಅಭ್ಯಾಸದ ಪ್ರಕಾರ ಯಾವ ಡ್ರಾಯಿಂಗ್ ಆಯಾಮ ಸರಿಯಾಗಿದೆ?

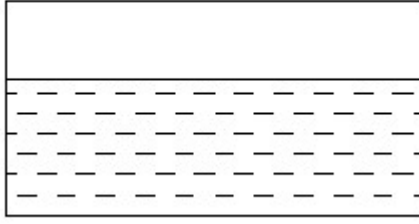


- A) A  
B) C  
C) B  
D) D



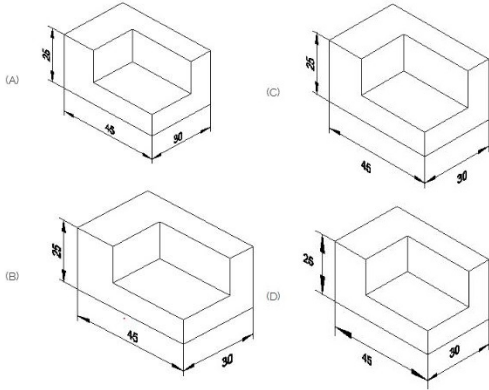
- A) B  
B) D  
C) A  
D) C

13. Identify the conventional symbol of material? | ವಸ್ತುವಿನ ಕನ್ವೆಷನಲ್ ಚಿಹ್ನೆಯನ್ನು ಗುರುತಿಸಿ?



- A) Concrete | ಕಾಂಕ್ರೀಟ್  
B) Glass | ಗಾಜು  
C) Asbestos | ಆಸ್ಟೆಸ್ಟೋಸ್  
D) Water | ನೀರು

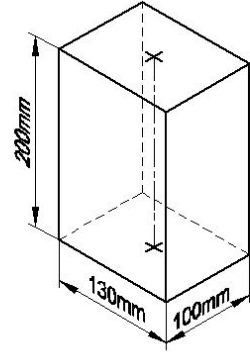
14. Which drawing dimension is correct as per standard drawing practice? | ಸ್ಟ್ಯಾಂಡರ್ಡ್ ಡ್ರಾಯಿಂಗ್ ಅಭ್ಯಾಸದ ಪ್ರಕಾರ ಯಾವ ಡ್ರಾಯಿಂಗ್ ಆಯಾಮ ಸರಿಯಾಗಿದೆ?



- A) D  
B) B  
C) C  
D) A

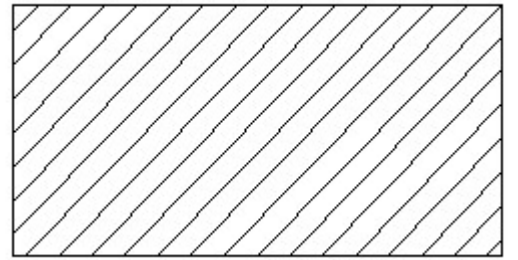
15. Which dimension correctly marked in the circle as per standard? | ಮಾನದಂಡದ ಪ್ರಕಾರ ವೃತ್ತದಲ್ಲಿ ಯಾವ ಆಯಾಮವನ್ನು ಸರಿಯಾಗಿ ಗುರುತಿಸಲಾಗಿದೆ?

16. Identify the name of prism? | ಪ್ರಿಸ್ಮ್ ಹೆಸರನ್ನು ಗುರುತಿಸುವುದೇ?



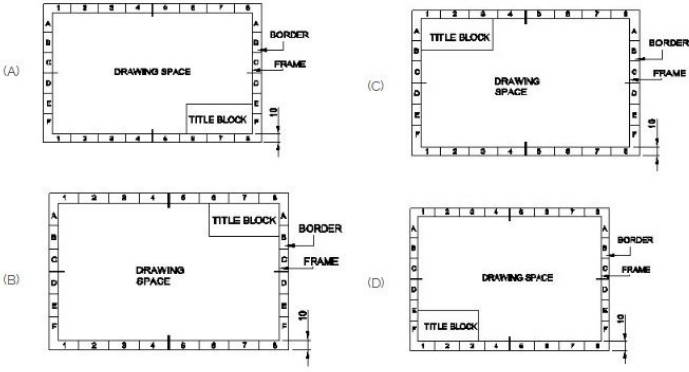
- A) Rectangle prism | ಆಯತ ಪ್ರಿಸ್ಮ್  
B) Triangular prism | ತ್ರಿಕೋನ ಪ್ರಿಸ್ಮ್  
C) Hexagonal prism | ಷಡ್ಭುಜೀಯ ಪ್ರಿಸ್ಮ್  
D) Square prism | ಚದರ ಪ್ರಿಸ್ಮ್

17. Identify the conventional symbol of material? | ವಸ್ತುವಿನ ಕನ್ವೆಷನಲ್ ಚಿಹ್ನೆಯನ್ನು ಗುರುತಿಸಿ?



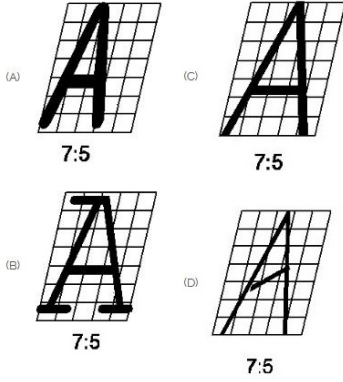
- A) Lead | ಲೀಡ್  
B) Glass | ಗಾಜು  
C) Porcelain | ಪಿಂಗಾಣಿ  
D) Steel | ಸ್ಟೀಲ್

18. Which title block position is correct as standard practice? | ಪ್ರಮಾಣಿತ ಅಭ್ಯಾಸದಂತೆ ಯಾವ ಶೀರ್ಷಿಕೆ ಬಾಕ್ಸ್ ಸ್ಥಾನವು ಸರಿಯಾಗಿದೆ?



- A) D  
C) A
- B) B  
D) C

19. Which single stroke inclined letter  $\square$   $\square$  is correct as per IS standard? | IS ಮಾನದಂಡದ ಪ್ರಕಾರ ಯಾವ ಏಕ ಸ್ವರೂಪಿ ಇಳಿಜಾರಿನ ಅಕ್ಷರ  $\square$   $\square$  ಅಡರಿಯಾಗಿದೆ?

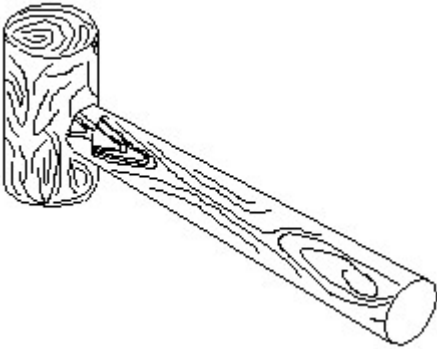


- A) B  
C) C
- B) D  
D) A

20. Compass used to draw for \_\_\_\_. | ಕಂಪಾಸ್ ಅನ್ನು \_\_\_\_ ಗೆ ಸೆಳೆಯಲು ಬಳಸಲಾಗುತ್ತದೆ.

- A) triangle | ತ್ರಿಕೋನ  
C) rectangle | ಆಯಾತ
- B) square | ಚದರ  
D) circle | ವೃತ್ತ

21. Identify the name of tool? | ಉಪಕರಣದ ಹೆಸರನ್ನು ಗುರುತಿಸುವುದೇ?



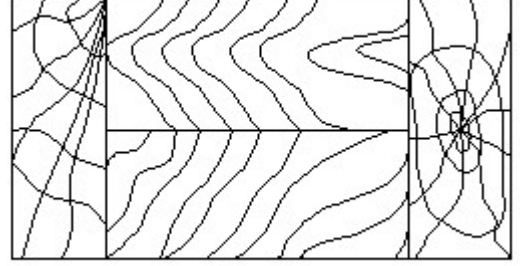
- A) Mallet | ಮ್ಯಾಲೆಟ್  
C) Ball pein hammer | ಬಾಲ್ ಪೆನ್ ಸುತ್ತಿಗೆ
- B) Cross pein hammer | ಕ್ರಾಸ್ ಪೀನ್ ಸುತ್ತಿಗೆ  
D) Straight pein hammer | ಸ್ಟ್ರೈಟ್ ಪೆನ್ ಸುತ್ತಿಗೆ

22. Identify the name of set square? | ಸೆಟ್ ಚೌಕದ ಹೆಸರನ್ನು ಗುರುತಿಸುವುದೇ?



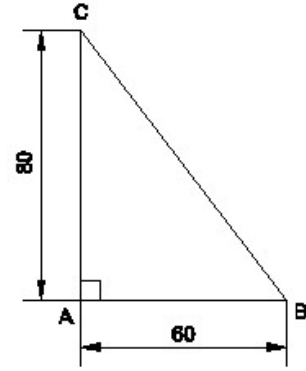
- A) 60° set square | 60° ಸೆಟ್ ಸ್ಕೇರ್  
C) 30° set square | 30° ಸೆಟ್ ಸ್ಕೇರ್
- B) 45° set square | 45° ಸೆಟ್ ಸ್ಕೇರ್  
D) 15° set square | 15° ಸೆಟ್ ಸ್ಕೇರ್

23. Identify the conventional symbol of material? | ವಸ್ತುವಿನ ಕನ್ವೆಷನಲ್ ಚಿಹ್ನೆಯನ್ನು ಗುರುತಿಸಿ?



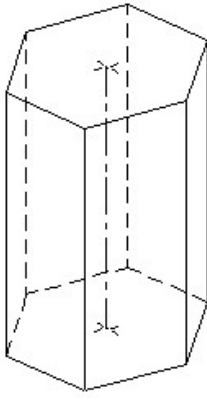
- A) Wood | ಮರ  
C) Glass | ಗಾಜು
- B) Paper | ಪೇಪರ್  
D) Lead | ಲೀಡ್

24. Identify the name of the triangle? | ತ್ರಿಕೋನದ ಹೆಸರನ್ನು ಗುರುತಿಸುವುದೇ?



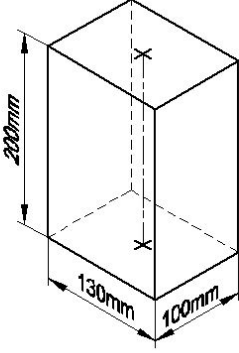
- A) Right angle triangle | ಬಲ ಕೋನ ತ್ರಿಕೋನ  
C) Scalene triangle | ಸ್ಕೇಲಿನ್ ತ್ರಿಕೋನ
- B) Isosceles triangle | ಸಮದ್ವಿಬಾಹು ತ್ರಿಭುಜ  
D) Equilateral triangle | ಸಮಕೋನ ತ್ರಿಕೋನ

25. Identify the name of prism? | ಪ್ರಿಸ್ಮ್ ಹೆಸರನ್ನು ಗುರುತಿಸುವುದೇ?



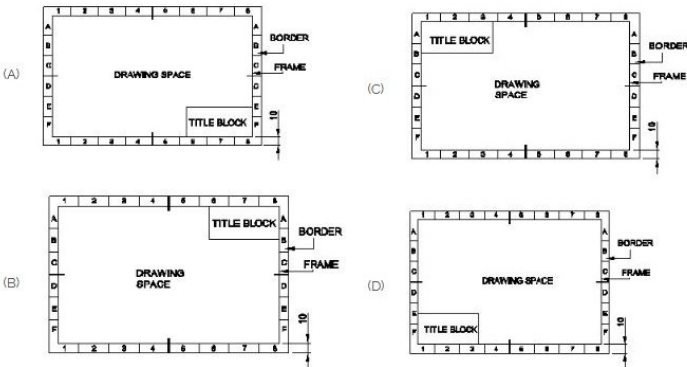
- A) Triangular prism | ತ್ರಿಕೋನ ಪ್ರಿಸ್ಮ್  
 B) Square prism | ಚದರ ಪ್ರಿಸ್ಮ್  
 C) Pentagonal prism | ಪಂಚಗೋನಲ್ ಪ್ರಿಸ್ಮ್  
 D) Hexagonal prism | ಷಡ್ಭುಜೀಯ ಪ್ರಿಸ್ಮ್

26. Identify the name of prism? | ಪ್ರಿಸ್ಮ್ ಹೆಸರನ್ನು ಗುರುತಿಸುವುದೇ?



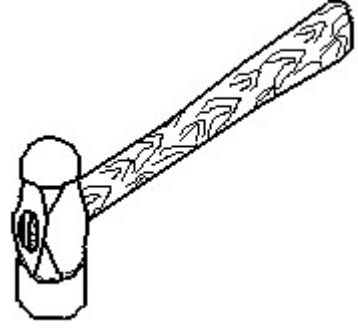
- A) Rectangle prism | ಆಯತ ಪ್ರಿಸ್ಮ್  
 B) Triangular prism | ತ್ರಿಕೋನ ಪ್ರಿಸ್ಮ್  
 C) Hexagonal prism | ಷಡ್ಭುಜೀಯ ಪ್ರಿಸ್ಮ್  
 D) Square prism | ಚದರ ಪ್ರಿಸ್ಮ್

27. Which title block position is correct as standard practice? | ಪ್ರಮಾಣಿತ ಅಭ್ಯಾಸದಂತೆ ಯಾವ ಶೀರ್ಷಿಕೆ ಬಾಕ್ಸ್ ಸ್ಥಾನವು ಸರಿಯಾಗಿದೆ?



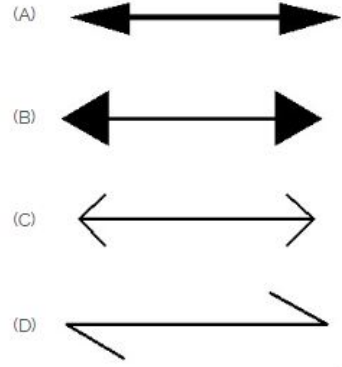
- A) D  
 B) A  
 C) B  
 D) C

28. Identify the name of tool? | ಉಪಕರಣದ ಹೆಸರನ್ನು ಗುರುತಿಸುವುದೇ?



- A) Straight peen hammer | ನೇರ ಪೆನ್ ಸುತ್ತಿಗೆ  
 B) Sledge hammer | ಸ್ಲೆಡ್ಜ್ ಸುತ್ತಿಗೆ  
 C) Ball peen hammer | ಬಾಲ್ ಪೆನ್ ಸುತ್ತಿಗೆ  
 D) Cross peen hammer | ಕ್ರಾಸ್ ಪೀನ್ ಸುತ್ತಿಗೆ

29. Which arrow head is correct as per standard? | ಮಾನದಂಡದ ಪ್ರಕಾರ ಯಾವ ಬಾಣದ ಹೆಡ್ ಸರಿಯಾಗಿದೆ?

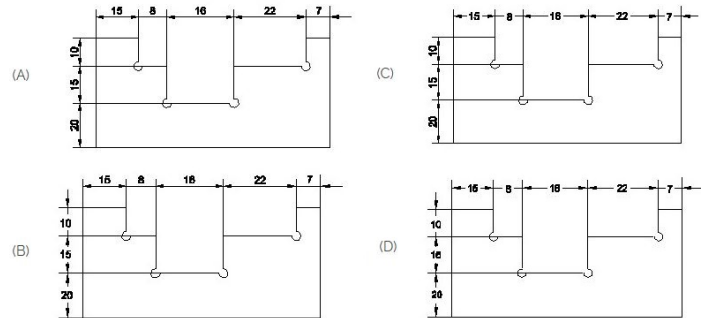


- A) D  
 B) C  
 C) B  
 D) A

30. What is the trimmed size of A4 sheet? | A4 ಹಾಳೆಯ ಟ್ರಿಮ್ ಮಾಡಿದ ಗಾತ್ರ ಎಷ್ಟು?

- A) 841 x 1189  
 B) 210 x 297  
 C) 594 x 841  
 D) 148 x 210

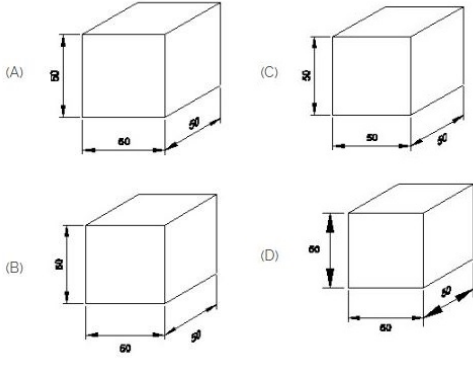
31. Identify the correct aligned system dimension? | ಸರಿಯಾದ ಜೋಡಿಸಲಾದ ಸಿಸ್ಟಮ್ ಆಯಾಮವನ್ನು ಗುರುತಿಸುವುದೇ?



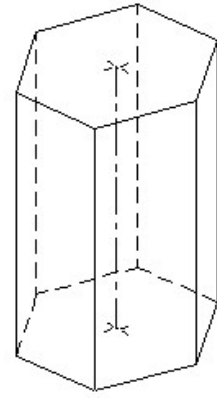
- A) B  
 B) A  
 C) C  
 D) D

32. Which drawing dimension is correct as per IS standard? |

IS ಮಾನದಂಡದ ಪ್ರಕಾರ ಯಾವ ರೇಖಾಚಿತ್ರದ ಆಯಾಮವು ಸರಿಯಾಗಿದೆ?

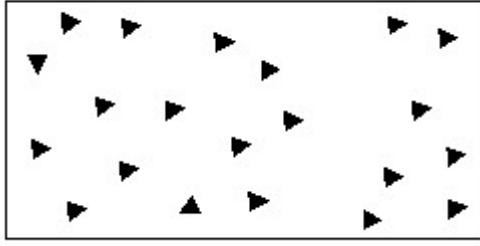


- A) A  
B) D  
C) C  
D) B



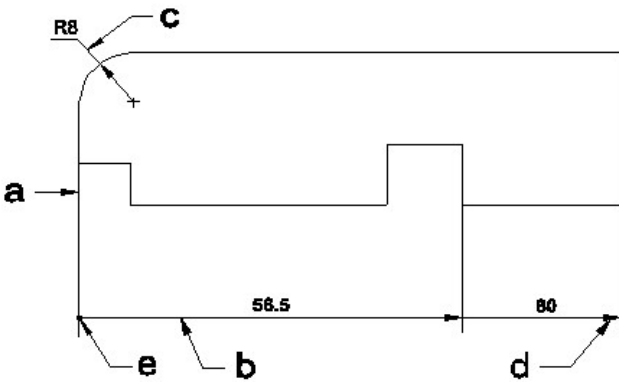
- A) Pentagonal prism | ಪಂಚಗೋನಲ್ ಪ್ರಿಸ್ಮ್  
B) Hexagonal prism | ಷಡ್ಭುಜೀಯ ಪ್ರಿಸ್ಮ್  
C) Square prism | ಚದರ ಪ್ರಿಸ್ಮ್  
D) Triangular prism | ತ್ರಿಕೋನ ಪ್ರಿಸ್ಮ್

33. Identify the conventional symbol of material? | ವಸ್ತುವಿನ ಕನ್ವೆಷನಲ್ ಚಿಹ್ನೆಯನ್ನು ಗುರುತಿಸಿ?



- A) Wood | ಮರ  
B) Steel | ಸ್ಟೀಲ್  
C) Concrete | ಕಾಂಕ್ರೀಟ್  
D) Glass | ಗಾಜು

34. Identify the line a, b, c, d, e? | ಲೈನ್‌ಗಳನ್ನು ಗುರುತಿಸುವುದೇ?



- A) Dimension line | ಡೈಮೆನ್ಷನ್ ಲೈನ್  
B) Termination of dimension line | ಆಯಾಮ ರೇಖೆಯ ಮುಕ್ತಾಯ  
C) Extension line | ಎಕ್ಸ್ಟೆನ್ಷನ್ ಲೈನ್  
D) Leader line | ಲೀಡರ್ ಲೈನ್

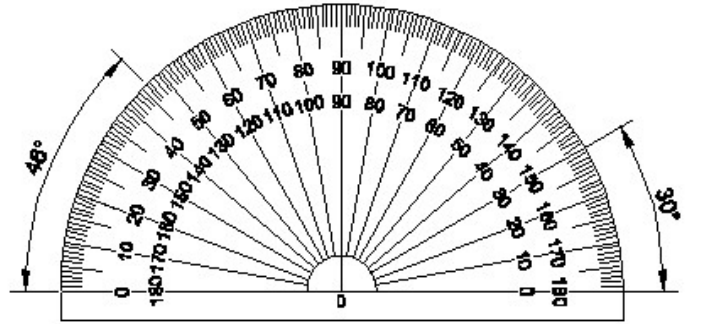
35. Identify the name of prism? | ಪ್ರಿಸ್ಮ್ ಹೆಸರನ್ನು ಗುರುತಿಸುವುದೇ?

36. Identify the name of set square? | ಸೆಟ್ ಚೌಕದ ಹೆಸರನ್ನು ಗುರುತಿಸುವುದೇ?



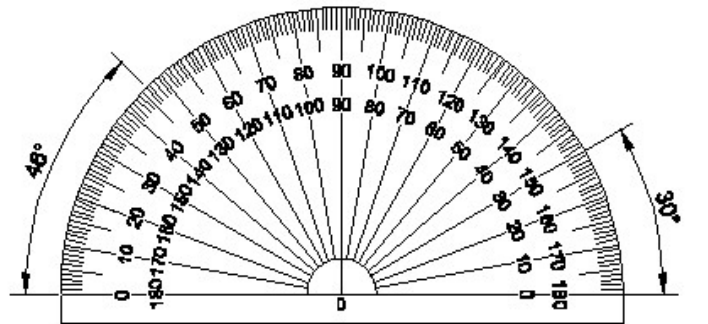
- A) 45° set square | 45° ಸೆಟ್ ಸ್ಕ್ವೇರ್  
B) 15° set square | 15° ಸೆಟ್ ಸ್ಕ್ವೇರ್  
C) 30° set square | 30° ಸೆಟ್ ಸ್ಕ್ವೇರ್  
D) 60° set square | 60° ಸೆಟ್ ಸ್ಕ್ವೇರ್

37. Identify the name of instrument? | ಉಪಕರಣದ ಹೆಸರನ್ನು ಗುರುತಿಸುವುದೇ?



- A) T square | ಟಿ ಸ್ಕ್ವೇರ್  
B) Protractor | ಪ್ರೊಟ್ರಾಕ್ಟರ್  
C) Set square | ಸೆಟ್ ಸ್ಕ್ವೇರ್  
D) French curve | ಫ್ರೆಂಚ್ ಕರ್ವ್

38. Identify the name of instrument? | ಉಪಕರಣದ ಹೆಸರನ್ನು ಗುರುತಿಸುವುದೇ?



- A) French curve | ಫ್ರೆಂಚ್ ಕರ್ವ್  
B) Protractor | ಪ್ರೊಟ್ರಾಕ್ಟರ್

C) Set square | ಸೆಟ್ ಸ್ಕ್ವೇರ್ D) T square | T ಸ್ಕ್ವೇರ್

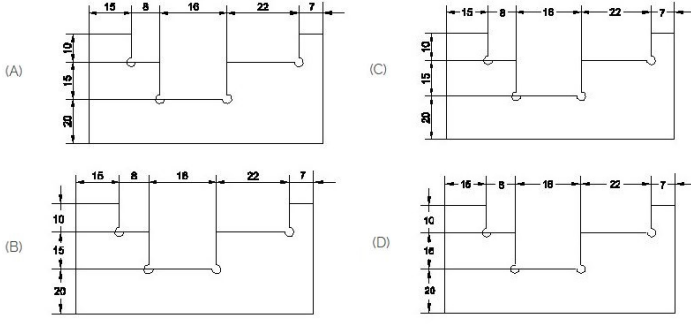
A) A

B) B

C) D

D) C

39. Identify the correct aligned system dimension? | ಸರಿಯಾದ ಜೋಡಿಸಲಾದ ಸಿಸ್ಟಮ್ ಆಯಾಮವನ್ನು ಗುರುತಿಸುವುದೇ?



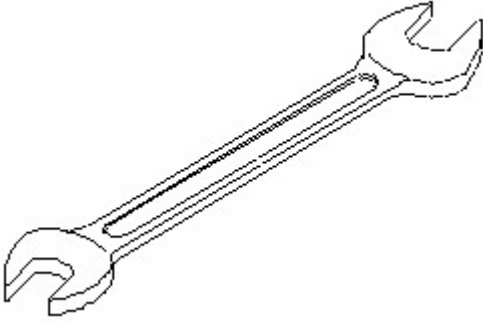
A) D

B) A

C) C

D) B

40. Identify the name of tool? | ಉಪಕರಣದ ಹೆಸರನ್ನು ಗುರುತಿಸುವುದೇ?



A) Adjustable spanner | ಹೊಂದಿಸಬಹುದಾದ ಸ್ಪ್ಯಾನರ್

B) Ring spanner | ರಿಂಗ್ ಸ್ಪ್ಯಾನರ್

C) Open end spanner | ಓಪನ್ ಎಂಡ್ ಸ್ಪ್ಯಾನರ್

D) Combination spanner | ಕಾಂಬಿನೇಶನ್ ಸ್ಪ್ಯಾನರ್

41. What is the trimmed size of A4 sheet? | A4 ಹಾಳೆಯ ಕ್ರಿಮ್ ಮಾಡಿದ ಗಾತ್ರ ಎಷ್ಟು?

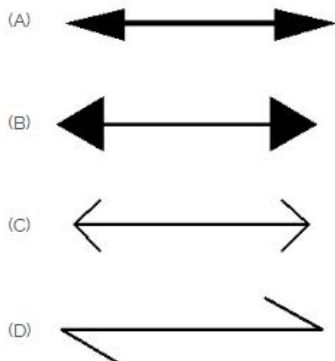
A) 841 x 1189

B) 594 x 841

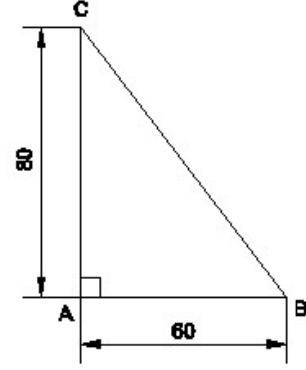
C) 148 x 210

D) 210 x 297

42. Which arrow head is correct as per standard? | ಮಾನದಂಡದ ಪ್ರಕಾರ ಯಾವ ಬಾಣದ ಹೆಡ್ ಸರಿಯಾಗಿದೆ?



43. Identify the name of the triangle? | ತ್ರಿಕೋನದ ಹೆಸರನ್ನು ಗುರುತಿಸುವುದೇ?



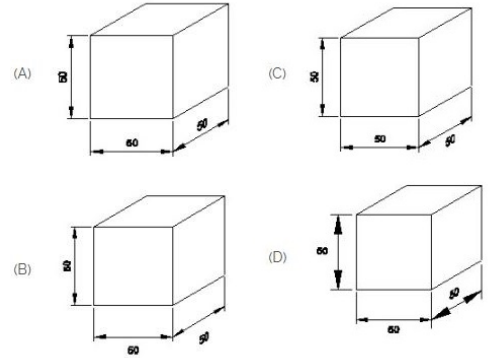
A) Isosceles triangle | ಸಮದ್ವಿಬಾಹು ತ್ರಿಭುಜ

B) Right angle triangle | ಬಲ ಕೋನ ತ್ರಿಕೋನ

C) Scalene triangle | ಸ್ಕೇಲಿನ್ ತ್ರಿಕೋನ

D) Equilateral triangle | ಸಮಕೋನ ತ್ರಿಕೋನ

44. Which drawing dimension is correct as per IS standard? | IS ಮಾನದಂಡದ ಪ್ರಕಾರ ಯಾವ ರೇಖಾಚಿತ್ರದ ಆಯಾಮವು ಸರಿಯಾಗಿದೆ?



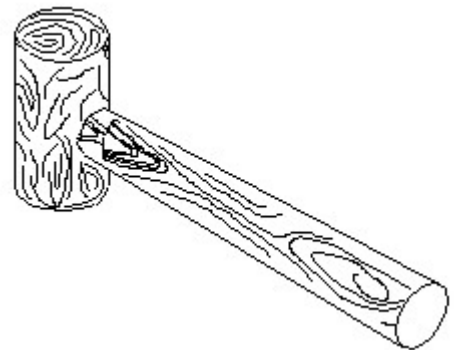
A) A

B) C

C) D

D) B

45. Identify the name of tool? | ಉಪಕರಣದ ಹೆಸರನ್ನು ಗುರುತಿಸುವುದೇ?



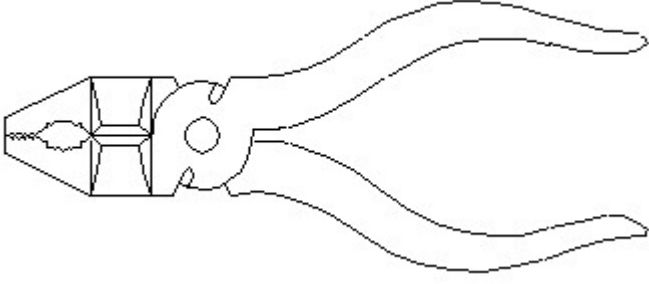
A) Mallet | ಮ್ಯಾಲೆಟ್

B) Ball pein hammer | ಬಾಲ್ ಪೆನ್ ಸುತ್ತಿಗೆ

C) Straight pein hammer | ಸ್ವೆಟ್ ಪೆಯಿನ್ ಸುತ್ತಿಗೆ

D) Cross pein hammer | ಕ್ರಾಸ್ ಪೀನ್ ಸುತ್ತಿಗೆ

46. Identify the name of tool? | ಉಪಕರಣದ ಹೆಸರನ್ನು ಗುರುತಿಸುವುದೇ?



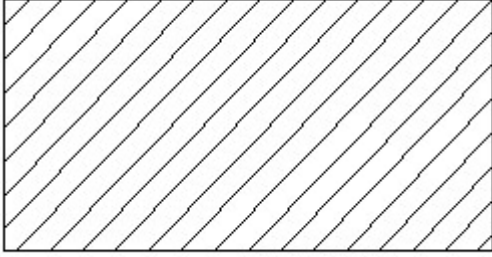
A) Cutting plier | ಕಟಿಂಗ್ ಪ್ಲಿಯರ್

B) Aviation shear | ಏವಿಯೇಷನ್ ಸಿಯರ್

C) Double cutting shear | ಡಬಲ್ ಕಟಿಂಗ್ ಸಿಯರ್

D) Hawk-billed shear | ಹಾಕ್-ಬಿಲ್ಡ್ ಸಿಯರ್

47. Identify the conventional symbol of material? | ವಸ್ತುವಿನ ಕನ್ವೆಷನಲ್ ಚಿಹ್ನೆಯನ್ನು ಗುರುತಿಸಿ?



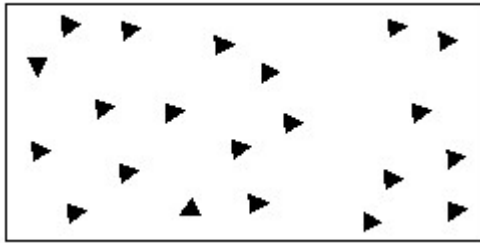
A) Glass | ಗಾಜು

B) Porcelain | ಪಿಂಗಾಣಿ

C) Lead | ಲೀಡ್

D) Steel | ಸ್ಟೀಲ್

48. Identify the conventional symbol of material? | ವಸ್ತುವಿನ ಕನ್ವೆಷನಲ್ ಚಿಹ್ನೆಯನ್ನು ಗುರುತಿಸಿ?



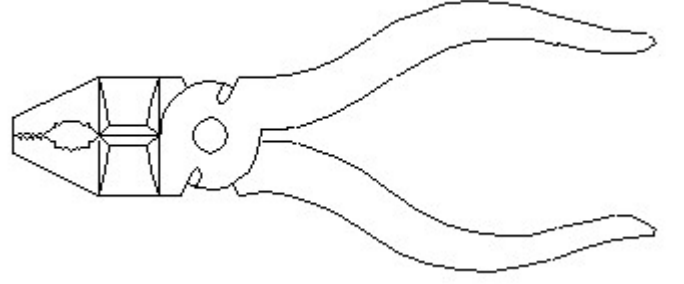
A) Concrete | ಕಾಂಕ್ರೀಟ್

B) Steel | ಸ್ಟೀಲ್

C) Wood | ಮರ

D) Glass | ಗಾಜು

49. Identify the name of tool? | ಉಪಕರಣದ ಹೆಸರನ್ನು ಗುರುತಿಸುವುದೇ?



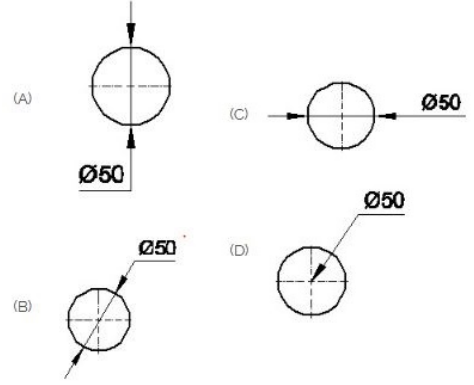
A) Hawk-billed shear | ಹಾಕ್-ಬಿಲ್ಡ್ ಸಿಯರ್

B) Aviation shear | ಏವಿಯೇಷನ್ ಸಿಯರ್

C) Double cutting shear | ಡಬಲ್ ಕಟಿಂಗ್ ಸಿಯರ್

D) Cutting plier | ಕಟಿಂಗ್ ಪ್ಲಿಯರ್

50. Which dimension correctly marked in the circle as per standard? | ಮಾನದಂಡದ ಪ್ರಕಾರ ವೃತ್ತದಲ್ಲಿ ಯಾವ ಆಯಾಮವನ್ನು ಸರಿಯಾಗಿ ಗುರುತಿಸಲಾಗಿದೆ?



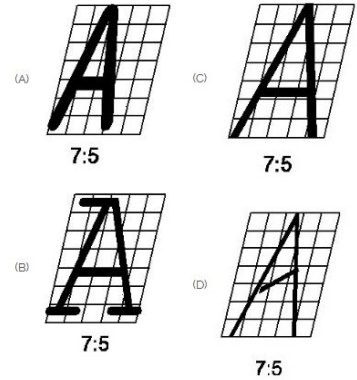
A) C

B) D

C) B

D) A

51. Which single stroke inclined letter A is correct as per IS standard? | IS ಮಾನದಂಡದ ಪ್ರಕಾರ ಯಾವ ಏಕ ಸ್ಟ್ರೋಕ್ ಇಳಿಜಾರಿನ ಅಕ್ಷರ A ಠೇರಿಯಾಗಿದೆ?



A) D

B) B

C) C

D) A