

GOVERNMENT ITI SHAHAPUR HALABHAVI ROAD SHAHAPUR 585223

Q. ID: ITISKILL5191GZ

MONTHLY TEST FOR
THE MONTH OF MAY -
2026

May 2026

SUB:TRADE THEORY,ED,WC&S

Question Paper

Student: Lokesh

Score: 7/25 (28.00%)

Code: 9132

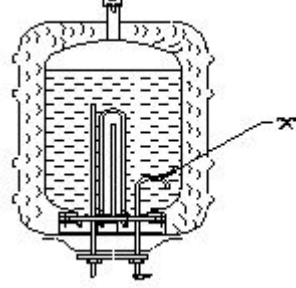
1. What is the purpose of sole plate in electric kettle? | ಎಲೆಕ್ಟ್ರಿಕ್ ಕೆಟಲ್ನಲ್ಲಿ ಏಕೈಕ ಪ್ಲೇಟ್ ಉದ್ದೇಶ ಏನು?

A) Acts as a balancing weight | ಸಮತೋಲನ ತೂಕದಂತೆ ವರ್ತಿಸುತ್ತದೆ (Incorrect)

B) Acts as an insulator for element | ಅಂಶಕ್ಕಾಗಿ ಒಂದು ಇನ್ಸುಲೇಟರ್ ಆಗಿ ವರ್ತಿಸುತ್ತದೆ

D) Keep the element in close contact with container | ಧಾರಕದೊಂದಿಗೆ ಹತ್ತಿರದ ಸಂಪರ್ಕದಲ್ಲಿ ಅಂಶವನ್ನು ಇರಿಸಿಕೊಳ್ಳಿ

C) Protect the kettle base from damage | ಕೆಟಲ್ ಬೇಸ್ ಅನ್ನು ಹಾನಿಯಿಂದ ರಕ್ಷಿಸಿ



A) Prevents draining of water | ನೀರಿನ ಬರಿದಾಗುತ್ತಿರುವಿಕೆಯನ್ನು ತಡೆಯುತ್ತದೆ

B) Avoids the forming of scales | ಮಾಪನಗಳನ್ನು ರೂಪಿಸುವ ತಪ್ಪಿಸುತ್ತದೆ

2. What is the function of the rotary switch in food mixer? | ಪುಡ್ ಮಿಕ್ಸರ್ನಲ್ಲಿ ರೋಟರಿ ಸ್ವಿಚ್ ಕಾರ್ಯವೇನು?

A) Over load protection | ಓವರ್ ಲೋಡ್ ರಕ್ಷಣೆ (Incorrect)

B) For reverse rotation | ಹಿಮ್ಮುಖ ತಿರುಗುವಿಕೆಗಾಗಿ

C) Over current protection | ಓವರ್ ಕರೆಂಟ್ ರಕ್ಷಣೆ

D) Speed selection | ವೇಗ ಆಯ್ಕೆ

C) Reduces the pressure of outlet pipe | ಔಟ್ಲೆಟ್ ಪೈಪ್ ಒತ್ತಡವನ್ನು ಕಡಿಮೆ ಮಾಡುತ್ತದೆ (Incorrect)

D) Restricts the air locking inside the tank | ತೊಟ್ಟಿಯೊಳಗೆ ಏರ್ ಲಾಕಿಂಗ್ ಅನ್ನು ನಿರ್ಬಂಧಿಸುತ್ತದೆ

3. What is the defect in a single phase capacitor start pump motor if it runs with slow speed? | ಸಿಂಗಲ್ ಫೇಸ್ ಕೆಪಾಸಿಟರ್ ಸ್ಟಾರ್ಟ್ ಪಂಪ್ ಮೋಟರ್ ನಿಧಾನ ವೇಗದಲ್ಲಿ ಚಲಿಸಿದರೆ ಅದರ ದೋಷವೇನು?

A) Defective capacitor | ದೋಷಯುಕ್ತ ಕೆಪಾಸಿಟರ್

B) Open starting winding | ಪ್ರಾರಂಭದ ಅಂಕುಡೊಂಕಾದ (Incorrect)

C) Short in starting winding | ಅಂಕುಡೊಂಕಾದ ಆರಂಭದಲ್ಲಿ ಸಣ್ಣ

D) Short in running winding | ವಿಂಡ್ ಮಾಡುವಿಕೆಯನ್ನು ಕಡಿಮೆಗೊಳಿಸುವುದು

4. What is the function of the neutral conductor in AC supply system? | AC ಪೂರೈಕೆ ವ್ಯವಸ್ಥೆಯಲ್ಲಿ ತಟಸ್ಥ ಕಂಡಕ್ಟರ್‌ನ ಕಾರ್ಯವೇನು?

A) Provides the return current path | ಪ್ರಸ್ತುತ ರಿಟರ್ನ್ ಪಥವನ್ನು ಒದಗಿಸುತ್ತದೆ (Correct)

B) Increases the voltage level | ವೋಲ್ಟೇಜ್ ಮಟ್ಟದ ಸ್ಥಿರತೆಯನ್ನು ಒದಗಿಸುತ್ತದೆ

C) Reduces the voltage drop in wiring | ವೈರಿಂಗ್ನಲ್ಲಿ ವೋಲ್ಟೇಜ್ ಡ್ರಾಪ್ ಅನ್ನು ಕಡಿಮೆ ಮಾಡುತ್ತದೆ

D) Maintains the load current constant | ಪ್ರಸ್ತುತ ಸ್ಥಿರಾಂಕವನ್ನು ಲೋಡ್ ಮಾಡುತ್ತದೆ

5. What is the purpose of U bend marked as 'X' in geyser as shown in the figure? | ಚಿತ್ರದಲ್ಲಿ ತೋರಿಸಿರುವಂತೆ ಗೇಸರ್‌ನಲ್ಲಿ X ಎಂದು ಗುರುತಿಸಲಾದ U ಬೆಂಡ್‌ನ ಉದ್ದೇಶವೇನು?

6. Which type of A.C single phase motor is used in food mixer? | ಎ.ಸಿ ಸಿಂಗಲ್ ಫೇಸ್ ಮೋಟಾರ್‌ನ ಯಾವ ರೀತಿಯ ಆಹಾರ ಮಿಕ್ಸರ್‌ನಲ್ಲಿ ಬಳಸಲಾಗುತ್ತದೆ?

A) Universal motor | ಯುನಿವರ್ಸಲ್ ಮೋಟಾರ್

B) Repulsion motor | ವಿಕರ್ಷಣೆಯ ಮೋಟಾರ್

C) Split phase motor | ಸ್ಪ್ಲಿಟ್ ಫೇಸ್ ಮೋಟಾರ್

D) Shaded pole motor | ಮಬ್ಬಾದ ಧ್ರುವ ಮೋಟಾರ್ (Incorrect)

7. Which electrical effect works on electric bells? | ಎಲೆಕ್ಟ್ರಿಕ್ ಬೆಲ್‌ನಲ್ಲಿ ಯಾವ ಎಲೆಕ್ಟ್ರಿಕಲ್ ಪರಿಣಾಮ ಕೆಲಸ ಮಾಡುತ್ತದೆ?

A) Heating effect | ತಾಪನ ಪರಿಣಾಮ (Incorrect)

B) Magnetic effect | ಮ್ಯಾಗ್ನೆಟಿಕ್ ಪರಿಣಾಮ

C) Chemical effect | ರಾಸಾಯನಿಕ ಪರಿಣಾಮ

D) Gas ionization effect | ಅನಿಲ ಅಯಾನೀಕರಣದ ಪರಿಣಾಮ

8. What is the fault in a food mixer if it runs intermittently? | ಆಹಾರ ಮಿಕ್ಸರ್‌ನಲ್ಲಿ ಅದು ಏಕಾಏಕಿ ನಡೆಸಿದರೆ ತಪ್ಪು ಏನು?

A) Worn out brushes | ಕುಂಚಗಳನ್ನು ಧರಿಸುತ್ತಾರೆ

B) Armature winding open | ಆರ್ಮೇಚರ್ ವಿಂಡಿಂಗ್ ಓಪನ್

C) Field winding open | ಫೀಲ್ಡ್ ವಿಂಡಿಂಗ್ ಓಪನ್ (Incorrect)

D) Field winding partially short | ಕ್ಷೇತ್ರ ವಿರಳವಾಗಿ ಭಾಗಶಃ ಚಿಕ್ಕದಾಗಿದೆ

9. What is the temperature range, maintained by thermostat

in geyser? | ಗೀಸರ್‌ನಲ್ಲಿ ಧರ್ಮೋಸ್ಪಾಟ್ ನಿರ್ವಹಿಸುವ ತಾಪಮಾನದ ಶ್ರೇಣಿ ಏನು?

- A) 60° C to 65° C
B) 10° C to 150° C
C) 0° C to 130° C
D) 0° C to 50° C (Incorrect)

10. Which material is used to make the heating element of cooking range? | ಅಡುಗೆ ಶ್ರೇಣಿಯ ತಾಪನ ಅಂಶವನ್ನು ತಯಾರಿಸಲು ಯಾವ ವಸ್ತುವನ್ನು ಬಳಸಲಾಗುತ್ತದೆ?

- A) Silver | ಸಿಲ್ವರ್
B) Copper | ತಾಮ್ರ (Incorrect)
C) Nichrome | ನಿಕ್ರೋಮ್
D) Aluminium | ಅಲ್ಯೂಮಿನಿಯಮ್

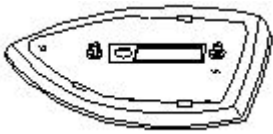
11. Which effect of electric current takes places in the cooking range? | ಅಡುಗೆಯ ವ್ಯಾಪ್ತಿಯಲ್ಲಿ ವಿದ್ಯುತ್ ಪ್ರವಾಹದ ಯಾವ ಪರಿಣಾಮವು ಸಂಭವಿಸುತ್ತದೆ?

- A) Magnetic effect | ಮ್ಯಾಗ್ನೆಟಿಕ್ ಪರಿಣಾಮ
B) Heating effect | ಬಿಸಿ ಪರಿಣಾಮ (Correct)
C) Gas ionization effect | ಗ್ಯಾಸ್ ರಾಸಾಯನಿಕ ಪರಿಣಾಮ
D) Chemical effect | ಅಯಾನೀಕರಣ ಪರಿಣಾಮ

12. Which type of motor is used in the wet grinder? | ಆರ್ದ್ರ ಗ್ರೈಂಡರ್‌ನಲ್ಲಿ ಯಾವ ರೀತಿಯ ಮೋಟರ್ ಅನ್ನು ಬಳಸಲಾಗುತ್ತದೆ?

- A) Universal motor | ಯುನಿವರ್ಸಲ್ ಮೋಟರ್
B) Repulsion motor | ವಿಕರ್ಷಣೆಯ ಮೋಟರ್
C) Capacitor start induction run motor | ಕೆಪಾಸಿಟರ್ ಆರಂಭದ ಪ್ರವೇಶ ರನ್ ಮೋಟರ್
D) Shaded pole motor | ಷೇಡ್ಡ್ ಪೋಲ್ ಮೋಟರ್ (Incorrect)

13. What is the name of the part of electric iron as shown in the figure? | ಚಿತ್ರದಲ್ಲಿ ತೋರಿಸಿರುವಂತೆ ಎಲೆಕ್ಟ್ರಿಕ್ ಕಬ್ಬಿಣದ ಭಾಗದ ಹೆಸರೇನು?

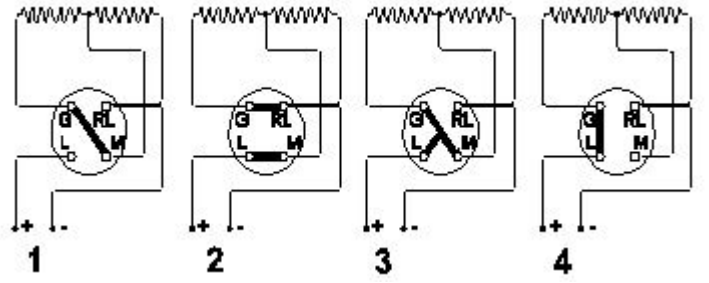


- A) Sole plate | ಏಕೈಕ ಫಲಕ
B) Pressure plate | ಒತ್ತಡ ಫಲಕ (Incorrect)
C) Mica insulation | ಮಿಕಾ ನಿರೋಧನ
D) Asbestos sheet | ಕಲ್ಲಾರು ಹಾಳೆ

14. Calculate the heat generated in a electric heater of 1000 watt, 240 volt, worked for 5 minutes. | 1000 ವ್ಯಾಟ್, 240 ವೋಲ್ಟ್ ವಿದ್ಯುತ್ ಹೀಟರ್‌ನಲ್ಲಿ ಉತ್ಪತ್ತಿಯಾದ ಶಾಖವನ್ನು 5 ನಿಮಿಷಗಳ ಕಾಲ ಕೆಲಸ ಮಾಡಬೇಕೇ?

- A) 70.5 Kilo calories
B) 71.0 Kilo calories
C) 71.6 Kilo calories (Correct)
D) 72.1 Kilo calories

15. Which is the position for maximum output of the heater? | ಹೀಟರ್ ಗರಿಷ್ಠ ಉತ್ಪಾದನೆಯ ಸ್ಥಾನ ಯಾವುದು?



- A) Position 1
B) Position 2 (Correct)
C) Position 3
D) Position 4

16. Which material is used as heat insulator in between the outer casing and inner tank of a geyser? | ಗೀಸರ್‌ನ ಹೊರಕವಚ ಮತ್ತು ಒಳಗಿನ ತೊಟ್ಟಿಯ ನಡುವೆ ಯಾವ ವಸ್ತುವನ್ನು ಶಾಖ ನಿರೋಧಕವಾಗಿ ಬಳಸಲಾಗುತ್ತದೆ?

- A) Plastic | ಪ್ಲಾಸ್ಟಿಕ್
B) Glass wool | ಗಾಜಿನ ಉಣ್ಣೆ (Correct)
C) Paper | ಪೇಪರ್
D) PVC (Incorrect)

17. Which is very good conductor?

- A) Copper (Correct)
B) Cast iron
C) Wrought iron
D) Steel

18. Which is mineral insulator

- A) Glass
B) Quartz
C) Mica (Correct)
D) Porcelain

19. What is the total resistance if two resistances of 4 ohms and 6 ohms are connected in parallel?

- A) 10 (Incorrect)
B) 2.4 (Correct)
C) 5
D) 4

20. What does EMF stands for?

- A) Electronic Magnetic Force (Incorrect)
B) Electro Motive Force (Correct)
C) Electro Magnetic Force
D) Electromated Force

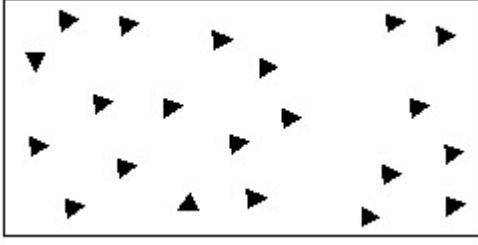
21. What is the area of a square whose side is 18 cm?

- A) 26 cm²
B) 36 cm²
C) 72 cm² (Incorrect)
D) 324 cm² (Correct)

22. What is the area of a rectangle, whose length and breadth are 10cm and 8cm respectively?

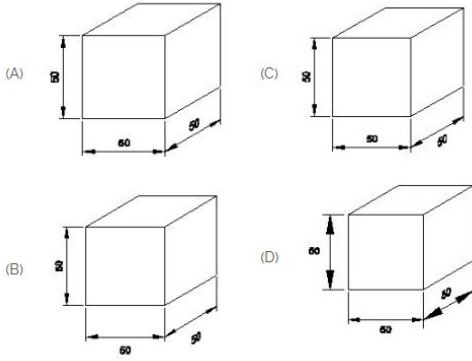
- A) 75 cm²
B) 80 cm² (Correct)
C) 85 cm²
D) 90 cm² (Incorrect)

23. Identify the conventional symbol of material? | ವಸ್ತುವಿನ ಕನ್ವೆಷನಲ್ ಚಿಹ್ನೆಯನ್ನು ಗುರುತಿಸಿ?



- A) Steel | ಸ್ಟೀಲ್
B) Wood | ಮರ
C) Glass | ಗಾಜು (Incorrect)
D) Concrete | ಕಾಂಕ್ರೀಟ್

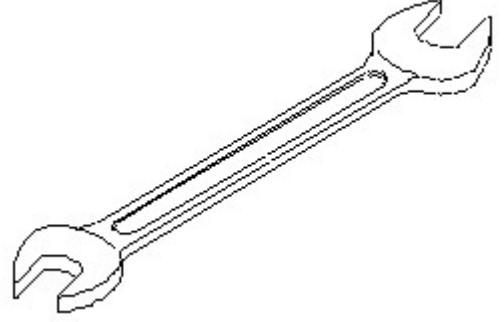
24. Which drawing dimension is correct as per IS standard? |
IS ಮಾನದಂಡದ ಪ್ರಕಾರ ಯಾವ ರೇಖಾಚಿತ್ರದ ಆಯಾಮವು ಸರಿಯಾಗಿದೆ?



- A) A
C) C

- B) B
D) D (Incorrect)

25. Identify the name of tool? | ಉಪಕರಣದ ಹೆಸರನ್ನು
ಗುರುತಿಸುವುದೇ?



- A) Open end spanner |
ಓಪನ್ ಎಂಡ್ ಸ್ಪ್ಯಾನರ್ (Correct)
B) Ring spanner | ರಿಂಗ್ ಸ್ಪ್ಯಾನರ್
C) Combination spanner |
ಕಾಂಬಿನೇಷನ್ ಸ್ಪ್ಯಾನರ್
D) Adjustable spanner |
ಹಾಂದಿಸಬಹುದಾದ ಸ್ಪ್ಯಾನರ್