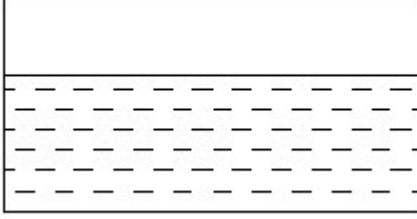


Duration: 30 Mins

Total Marks: 25

Q.ID: ITISKILL51651V

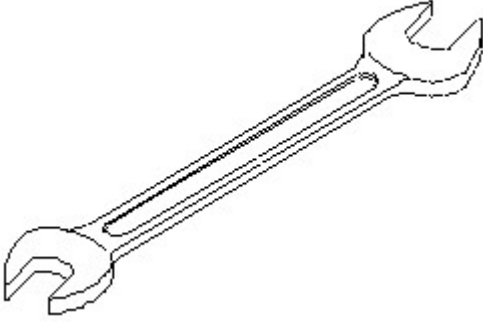
1. Identify the conventional symbol of material? | ವಸ್ತುವಿನ ಕನ್ವೆಷನಲ್ ಚಿಹ್ನೆಯನ್ನು ಗುರುತಿಸಿ?



- A) Concrete | ಕಾಂಕ್ರೀಟ್ B) Asbestos | ಆಸ್ಬೆಸ್ಟೋಸ್
C) Glass | ಗಾಜು D) Water | ನೀರು

Answer: D) Water | ನೀರು

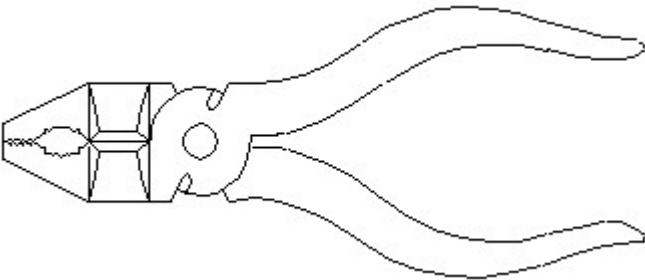
2. Identify the name of tool? | ಉಪಕರಣದ ಹೆಸರನ್ನು ಗುರುತಿಸುವುದೇ?



- A) Open end spanner | ಓಪನ್ ಎಂಡ್ ಸ್ಪ್ಯಾನರ್ B) Combination spanner | ಕಾಂಬಿನೇಶನ್ ಸ್ಪ್ಯಾನರ್
C) Ring spanner | ರಿಂಗ್ ಸ್ಪ್ಯಾನರ್ D) Adjustable spanner | ಹೊಂದಿಸಬಹುದಾದ ಸ್ಪ್ಯಾನರ್

Answer: A) Open end spanner | ಓಪನ್ ಎಂಡ್ ಸ್ಪ್ಯಾನರ್

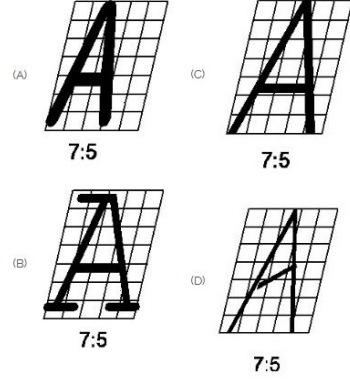
3. Identify the name of tool? | ಉಪಕರಣದ ಹೆಸರನ್ನು ಗುರುತಿಸುವುದೇ?



- A) Cutting plier | ಕಟಿಂಗ್ ಪ್ಲಿಯರ್ B) Double cutting shear | ಡಬಲ್ ಕಟಿಂಗ್ ಸಿಯರ್
C) Hawk-billed shear | ಹಾಕ್-ಬಿಲ್ಡ್ ಸಿಯರ್ D) Aviation shear | ಏವಿಯೇಷನ್ ಸಿಯರ್

Answer: A) Cutting plier | ಕಟಿಂಗ್ ಪ್ಲಿಯರ್

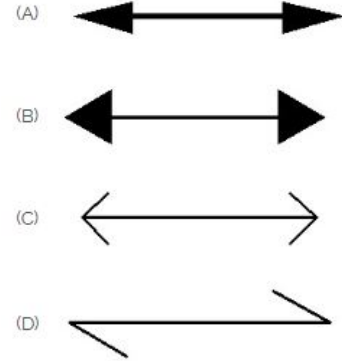
4. Which single stroke inclined letter □ A□ is correct as per IS standard? | IS ಮಾನದಂಡದ ಪ್ರಕಾರ ಯಾವ ಏಕ ಸ್ಟ್ರೋಕ್ ಇಳಿಜಾರಿನ ಅಕ್ಷರ □ A□ ಸರಿಯಾಗಿದೆ?



- A) A B) D
C) B D) C

Answer: D) C

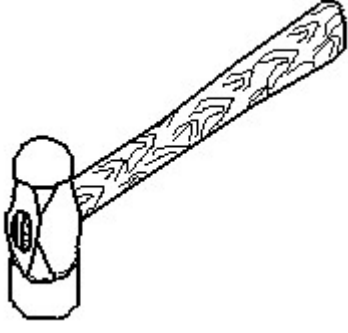
5. Which arrow head is correct as per standard? | ಮಾನದಂಡದ ಪ್ರಕಾರ ಯಾವ ಬಾಣದ ಹೆಡ್ ಸರಿಯಾಗಿದೆ?



- A) C B) A
C) D D) B

Answer: B) A

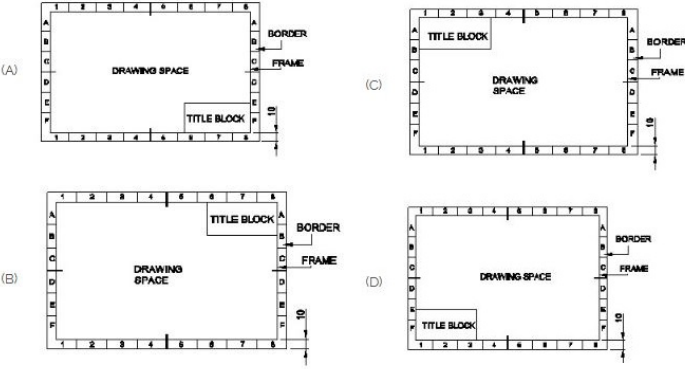
6. Identify the name of tool? | ಉಪಕರಣದ ಹೆಸರನ್ನು ಗುರುತಿಸುವುದೇ?



- A) Straight peen hammer | ನೇರ ಪೆನ್ ಸುತ್ತಿಗೆ
 B) Sledge hammer | ಸ್ಲೆಜ್ಜ್ ಸುತ್ತಿಗೆ
 C) Ball peen hammer | ಬಾಲ್ ಪೆನ್ ಸುತ್ತಿಗೆ
 D) Cross peen hammer | ಕ್ರಾಸ್ ಪೀನ್ ಸುತ್ತಿಗೆ

Answer: C) Ball peen hammer | ಬಾಲ್ ಪೆನ್ ಸುತ್ತಿಗೆ

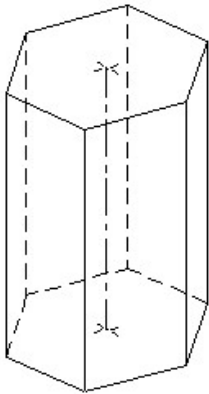
7. Which title block position is correct as standard practice? | ಪ್ರಮಾಣಿತ ಅಭ್ಯಾಸದಂತೆ ಯಾವ ಶೀರ್ಷಿಕೆ ಬ್ಲಾಕ್ ಸ್ಥಾನವು ಸರಿಯಾಗಿದೆ?



- A) C
 B) D
 C) A
 D) B

Answer: C) A

8. Identify the name of prism? | ಪ್ರಿಸ್ಮ್ ಹೆಸರನ್ನು ಗುರುತಿಸುವುದೇ?

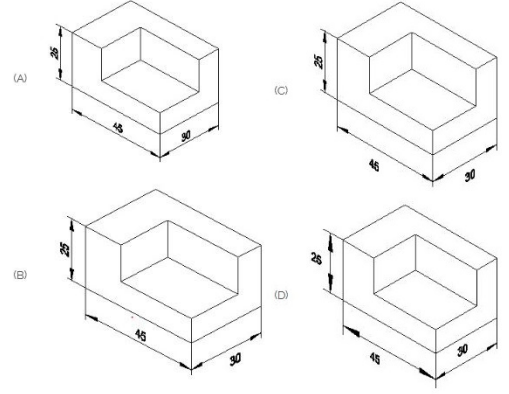


- A) Pentagonal prism | ಪೆಂಟಗೋನಲ್ ಪ್ರಿಸ್ಮ್
 B) Hexagonal prism | ಷಡ್ಭುಜೀಯ ಪ್ರಿಸ್ಮ್
 C) Triangular prism | ತ್ರಿಕೋನ ಪ್ರಿಸ್ಮ್
 D) Square prism | ಚದರ ಪ್ರಿಸ್ಮ್

Answer: B) Hexagonal prism | ಷಡ್ಭುಜೀಯ ಪ್ರಿಸ್ಮ್

9. Which drawing dimension is correct as per standard

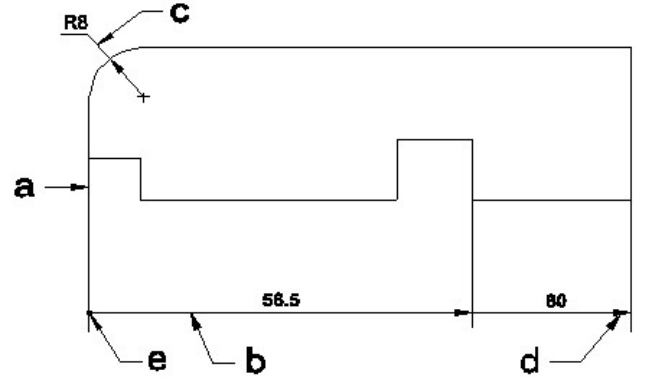
drawing practice? | ಸ್ಟಾಂಡರ್ಡ್ ಡ್ರಾಯಿಂಗ್ ಅಭ್ಯಾಸದ ಪ್ರಕಾರ ಯಾವ ಡ್ರಾಯಿಂಗ್ ಆಯಾಮ ಸರಿಯಾಗಿದೆ?



- A) C
 B) D
 C) A
 D) B

Answer: C) A

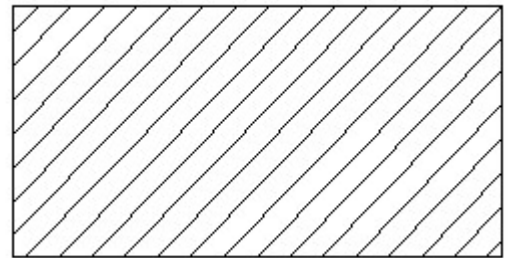
10. Identify the line 'a' or 'b'? | ಸಾಲಿನನ್ನು ಗುರುತಿಸುವುದೇ?



- A) Extension line | ವಿಸ್ತರಣೆ ಲೈನ್
 B) Termination of dimension line | ಆಯಾಮ ರೇಖೆಯ ಮುಕ್ತಾಯ
 C) Leader line | ಲೀಡರ್ ಲೈನ್
 D) Dimension line | ಡೈಮೆನ್ಷನ್ ಲೈನ್

Answer: D) Dimension line | ಡೈಮೆನ್ಷನ್ ಲೈನ್

11. Identify the conventional symbol of material? | ವಸ್ತುವಿನ ಕನ್ವೆಷನಲ್ ಚಿಹ್ನೆಯನ್ನು ಗುರುತಿಸಿ?

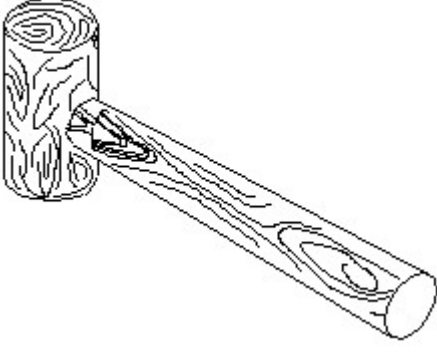


- A) Steel | ಸ್ಟೀಲ್
 B) Glass | ಗಾಜು
 C) Porcelain | ಪಿಂಗಾಣಿ
 D) Lead | ಲೀಡ್

Answer: A) Steel | ಸ್ಟೀಲ್

12. Identify the name of tool? | ಉಪಕರಣದ ಹೆಸರನ್ನು

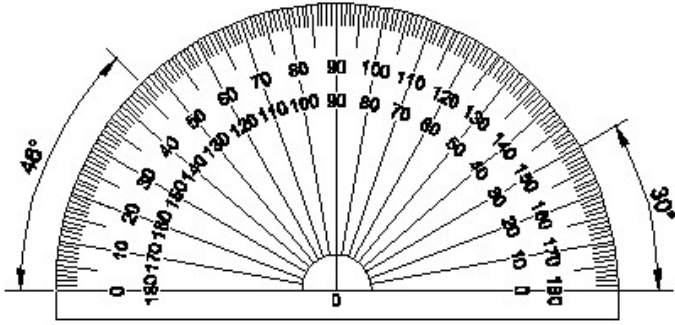
ಗುರುತಿಸುವುದೇ?



- A) Cross pein hammer | ಕ್ರಾಸ್ ಪೀನ್ ಸುತ್ತಿಗೆ
 B) Ball pein hammer | ಬಾಲ್ ಪೀನ್ ಸುತ್ತಿಗೆ
 C) Straight pein hammer | ಸ್ಟ್ರೇಟ್ ಪೀನ್ ಸುತ್ತಿಗೆ
 D) Mallet | ಮ್ಯಾಲೆಟ್

Answer: D) Mallet | ಮ್ಯಾಲೆಟ್

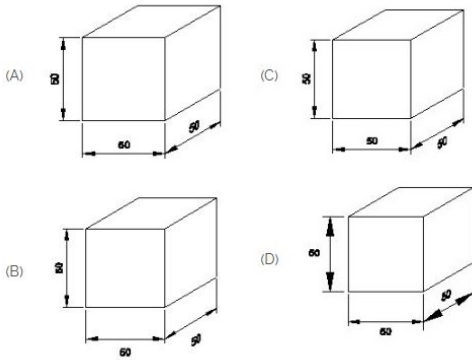
13. Identify the name of instrument? | ಉಪಕರಣದ ಹೆಸರನ್ನು ಗುರುತಿಸುವುದೇ?



- A) Set square | ಸೆಟ್ ಸ್ಕ್ವೇರ್
 B) Protractor | ಪ್ರೊಟ್ರಾಕ್ಟರ್
 C) T square | ಟಿ ಸ್ಕ್ವೇರ್
 D) French curve | ಫ್ರೆಂಚ್ ಕರ್ವ್

Answer: B) Protractor | ಪ್ರೊಟ್ರಾಕ್ಟರ್

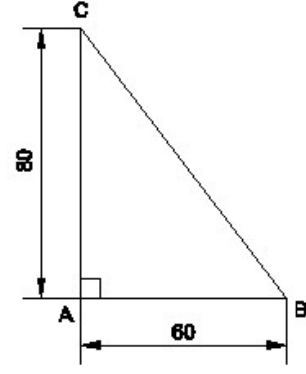
14. Which drawing dimension is correct as per IS standard? | IS ಮಾನದಂಡದ ಪ್ರಕಾರ ಯಾವ ರೇಖಾಚಿತ್ರದ ಆಯಾಮವು ಸರಿಯಾಗಿದೆ?



- A) B
 C) D
 B) A
 D) C

Answer: B) A

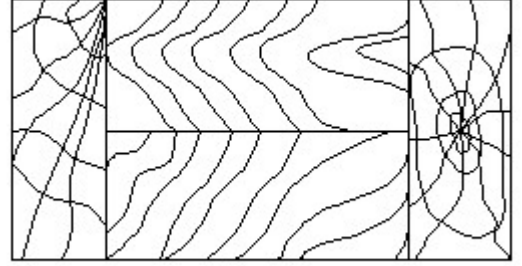
15. Identify the name of the triangle? | ತ್ರಿಕೋನದ ಹೆಸರನ್ನು ಗುರುತಿಸುವುದೇ?



- A) Equilateral triangle | ಸಮಕೋನ ತ್ರಿಕೋನ
 B) Right angle triangle | ಬಲ ಕೋನ ತ್ರಿಕೋನ
 C) Scalene triangle | ಸ್ಕೇಲಿನ್ ತ್ರಿಕೋನ
 D) Isosceles triangle | ಸಮದ್ವಿಬಾಹು ತ್ರಿಕೋನ

Answer: B) Right angle triangle | ಬಲ ಕೋನ ತ್ರಿಕೋನ

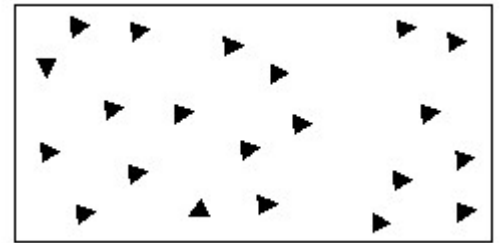
16. Identify the conventional symbol of material? | ವಸ್ತುವಿನ ಕನ್ವೆಷನಲ್ ಚಿಹ್ನೆಯನ್ನು ಗುರುತಿಸಿ?



- A) Glass | ಗಾಜು
 B) Paper | ಪೇಪರ್
 C) Wood | ಮರ
 D) Lead | ಲೀಡ್

Answer: C) Wood | ಮರ


17. Identify the conventional symbol of material? | ವಸ್ತುವಿನ ಕನ್ವೆಷನಲ್ ಚಿಹ್ನೆಯನ್ನು ಗುರುತಿಸಿ?



- A) Wood | ಮರ
 B) Concrete | ಕಾಂಕ್ರೀಟ್
 C) Glass | ಗಾಜು
 D) Steel | ಸ್ಟೀಲ್

Answer: B) Concrete | ಕಾಂಕ್ರೀಟ್

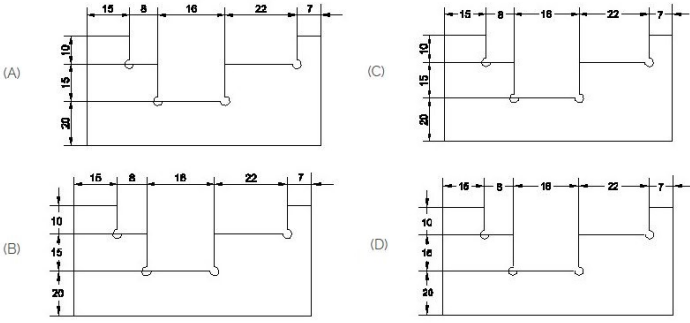
18. Identify the conventional symbol of material? | ವಸ್ತುವಿನ ಕನ್ವೆಷನಲ್ ಚಿಹ್ನೆಯನ್ನು ಗುರುತಿಸಿ?



- A) Steel | ಸ್ಟೀಲ್
B) Glass | ಗಾಜು
C) Wood | ಮರ
D) Concrete | ಕಾಂಕ್ರೀಟ್

Answer: B) Glass | ಗಾಜು

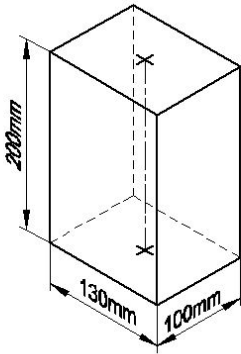
19. Identify the correct aligned system dimension? | ಸರಿಯಾದ ಜೋಡಿಸಲಾದ ಸಿಸ್ಟಮ್ ಆಯಾಮವನ್ನು ಗುರುತಿಸುವುದೇ?



- A) A
B) C
C) B
D) D

Answer: A) A

20. Identify the name of prism? | ಪ್ರಿಸ್ಮ್ ಹೆಸರನ್ನು ಗುರುತಿಸುವುದೇ?



- A) Hexagonal prism | ಷಡ್ಭುಜೀಯ ಪ್ರಿಸ್ಮ್
B) Rectangle prism | ಆಯತ ಪ್ರಿಸ್ಮ್
C) Square prism | ಚದರ ಪ್ರಿಸ್ಮ್
D) Triangular prism | ತ್ರಿಕೋನ ಪ್ರಿಸ್ಮ್

Answer: B) Rectangle prism | ಆಯತ ಪ್ರಿಸ್ಮ್

21. Identify the name of set square? | ಸೆಟ್ ಚೌಕದ ಹೆಸರನ್ನು ಗುರುತಿಸುವುದೇ?

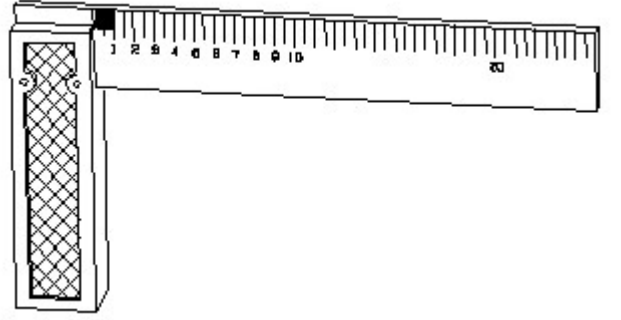


- A) 45° set square | 45° ಸೆಟ್ ಸ್ಕ್ವೇರ್
B) 30° set square | 30° ಸೆಟ್ ಸ್ಕ್ವೇರ್

- C) 60° set square | 60° ಸೆಟ್ ಸ್ಕ್ವೇರ್
D) 15° set square | 15° ಸೆಟ್ ಸ್ಕ್ವೇರ್

Answer: A) 45° set square | 45° ಸೆಟ್ ಸ್ಕ್ವೇರ್

22. 1). Identify the name of tool? | ಉಪಕರಣದ ಹೆಸರನ್ನು ಗುರುತಿಸುವುದೇ?



- A) Surface gauge | ಮೇಲ್ಮೈ ಮಾಪಕ
B) Feeler gauge | ಫೀಲರ್ ಗೇಜ್
C) Steel rule | ಸ್ಟೀಲ್ ರೂಲ್
D) Try square | ಟ್ರೈ ಸ್ಕ್ವೇರ್

Answer: D) Try square | ಟ್ರೈ ಸ್ಕ್ವೇರ್

23. What is the trimmed size of A4 sheet? | A4 ಹಾಳೆಯು ಟ್ರಿಮ್ ಮಾಡಿದ ಗಾತ್ರ ಎಷ್ಟು?

- A) 148 x 210
B) 210 x 297
C) 841 x 1189
D) 594 x 841

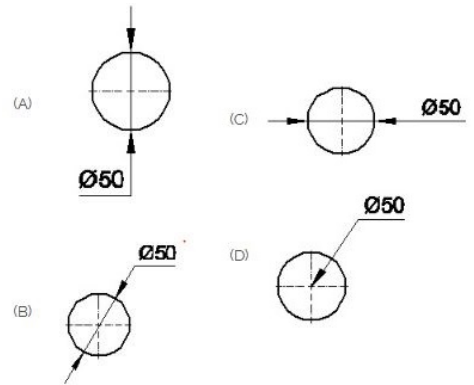
Answer: B) 210 x 297

24. Compass used to draw for ____. | ಕಂಪಾಸ್ ಅನ್ನು ____ ಗೆ ಸೆಳೆಯಲು ಬಳಸಲಾಗುತ್ತದೆ.

- A) triangle | ತ್ರಿಕೋನ
B) circle | ವೃತ್ತ
C) rectangle | ಆಯತ
D) square | ಚದರ

Answer: B) circle | ವೃತ್ತ

25. Which dimension correctly marked in the circle as per standard? | ಮಾನದಂಡದ ಪ್ರಕಾರ ವೃತ್ತದಲ್ಲಿ ಯಾವ ಆಯಾಮವನ್ನು ಸರಿಯಾಗಿ ಗುರುತಿಸಲಾಗಿದೆ?



- A) B
B) A
C) C
D) D

Answer: A) B