

Duration: 60 Mins

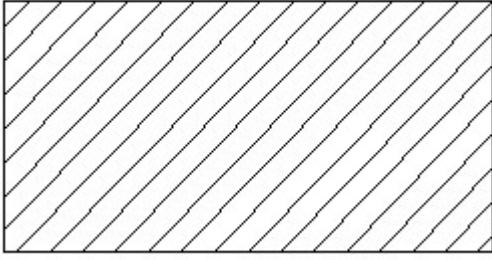
Total Marks: 10

ID: ITISKILL50546K

Student Name: \_\_\_\_\_

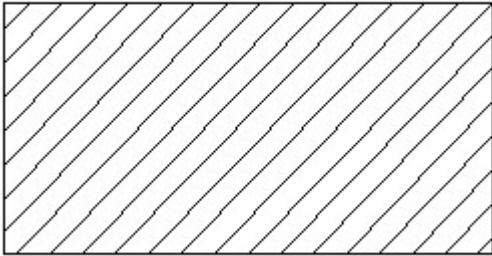
Roll No: \_\_\_\_\_

1. Identify the conventional symbol of material? | ವಸ್ತುವಿನ ಕನ್ವೆಷನಲ್ ಚಿಹ್ನೆಯನ್ನು ಗುರುತಿಸಿ?



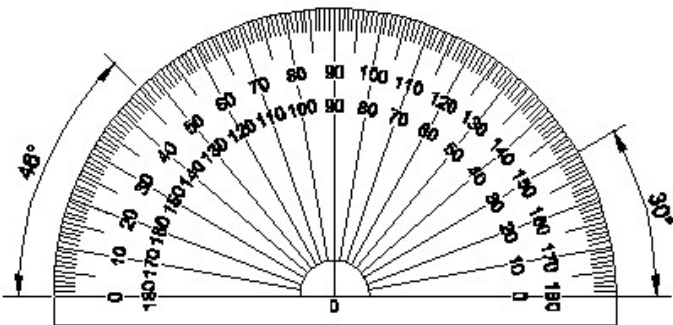
- A) Lead | ಲೀಡ್                      B) Glass | ಗಾಜು  
C) Porcelain | ಪಿಂಗಾಣಿ              D) Steel | ಸ್ಟೀಲ್

2. Identify the conventional symbol of material? | ವಸ್ತುವಿನ ಕನ್ವೆಷನಲ್ ಚಿಹ್ನೆಯನ್ನು ಗುರುತಿಸಿ?



- A) Porcelain | ಪಿಂಗಾಣಿ              B) Steel | ಸ್ಟೀಲ್  
C) Lead | ಲೀಡ್                      D) Glass | ಗಾಜು

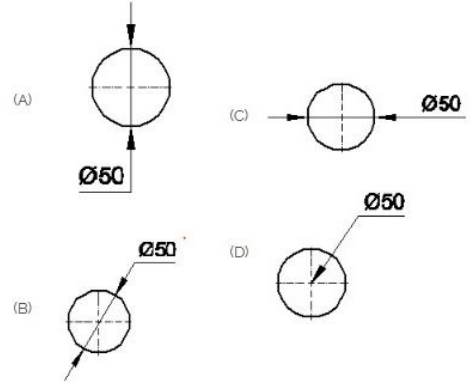
3. Identify the name of instrument? | ಉಪಕರಣದ ಹೆಸರನ್ನು ಗುರುತಿಸುವುದೇ?



- A) Protractor | ಪ್ರೊಟ್ರಾಕ್ಟರ್              B) T square | T ಸ್ಕ್ವೇರ್

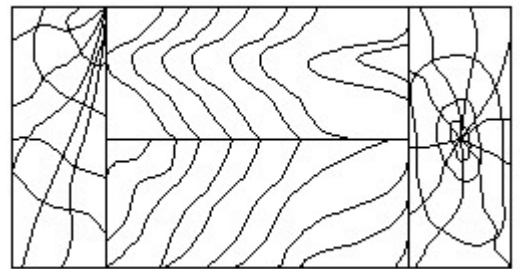
- C) Set square | ಸೆಟ್ ಸ್ಕ್ವೇರ್              D) French curve | ಫ್ರೆಂಚ್ ಕರ್ವ್

4. Which dimension correctly marked in the circle as per standard? | ಮಾನದಂಡದ ಪ್ರಕಾರ ವೃತ್ತದಲ್ಲಿ ಯಾವ ಆಯಾಮವನ್ನು ಸರಿಯಾಗಿ ಗುರುತಿಸಲಾಗಿದೆ?



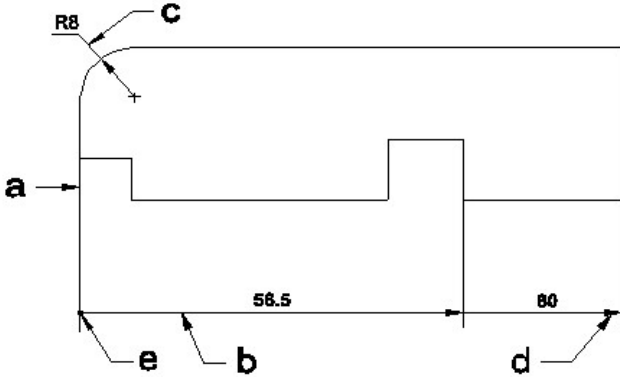
- A) B                                      B) D  
C) A                                      D) C

5. Identify the conventional symbol of material? | ವಸ್ತುವಿನ ಕನ್ವೆಷನಲ್ ಚಿಹ್ನೆಯನ್ನು ಗುರುತಿಸಿ?



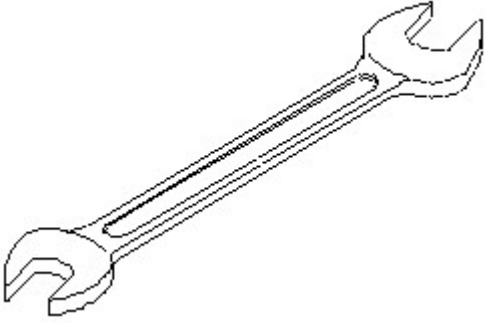
- A) Lead | ಲೀಡ್                              B) Wood | ಮರ  
C) Glass | ಗಾಜು                              D) Paper | ಪೇಪರ್

6. Identify the line □ b□ ? | □ ಸಾಲಿನನ್ನು ಗುರುತಿಸುವುದೇ?



- A) Termination of dimension line | ಆಯಾಮ ರೇಖೆಯ ಮುಕ್ತಾಯ  
 B) Leader line | ಲೀಡರ್ ಲೈನ್  
 C) Extension line | ಎಕ್ಸ್ಟೆನ್ಷನ್ ಲೈನ್  
 D) Dimension line | ಡೈಮೆನ್ಷನ್ ಲೈನ್

7. Identify the name of tool? | ಉಪಕರಣದ ಹೆಸರನ್ನು ಗುರುತಿಸುವುದೇ?




- A) Open end spanner | ಓಪನ್ ಎಂಡ್ ಸ್ಪ್ಯಾನರ್  
 B) Ring spanner | ರಿಂಗ್ ಸ್ಪ್ಯಾನರ್  
 C) Combination spanner | ಕಾಂಬಿನೇಷನ್ ಸ್ಪ್ಯಾನರ್  
 D) Adjustable spanner | ಹೊಂದಿಸಬಹುದಾದ ಸ್ಪ್ಯಾನರ್

8. Compass used to draw for \_\_\_\_. | ಕಂಪಾಸ್ ಅನ್ನು \_\_\_\_ ಗೆ ಸೆಳೆಯಲು ಬಳಸಲಾಗುತ್ತದೆ.


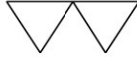
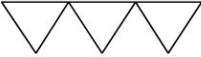
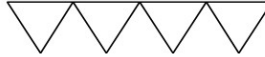
- A) square | ಚದರ  
 B) circle | ವೃತ್ತ  
 C) rectangle | ಆಯಾತ  
 D) triangle | ತ್ರಿಕೋನ

9. Identify the conventional symbol of material? | ವಸ್ತುವಿನ ಕನ್ವೆಷನಲ್ ಚಿಹ್ನೆಯನ್ನು ಗುರುತಿಸಿ?



- A) Glass | ಗಾಜು  
 B) Steel | ಸ್ಟೀಲ್  
 C) Wood | ಮರ  
 D) Concrete | ಕಾಂಕ್ರೀಟ್

10. Which is roughness symbol for roughness grade N8?

- (A)   
 (B)   
 (C)   
 (D) 

- A) B  
 B) C  
 C) A  
 D) D