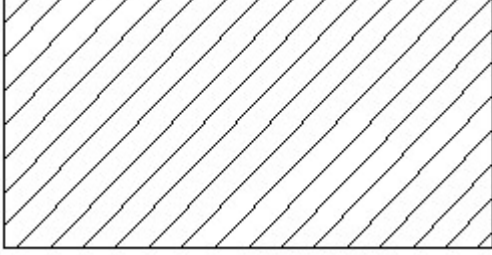


Duration: 60 Mins

Total Marks: 10

Q.ID: ITISKILL50546K

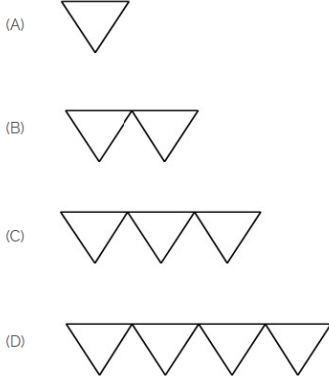
1. Identify the conventional symbol of material? | ವಸ್ತುವಿನ ಕನ್ವೆಷನಲ್ ಚಿಹ್ನೆಯನ್ನು ಗುರುತಿಸಿ?



- A) Steel | ಸ್ಟೀಲ್                      B) Glass | ಗಾಜು  
C) Porcelain | ಪಿಂಗಾಣಿ              D) Lead | ಲೀಡ್

Answer: A) Steel | ಸ್ಟೀಲ್

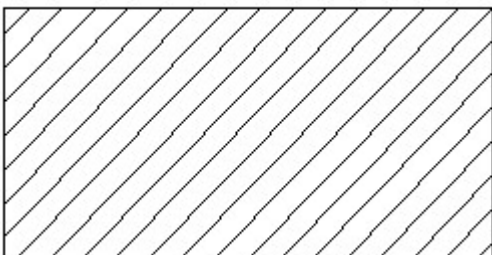
2. Which is roughness symbol for roughness grade N8?



- A) D                                          B) C  
C) A                                          D) B

Answer: D) B

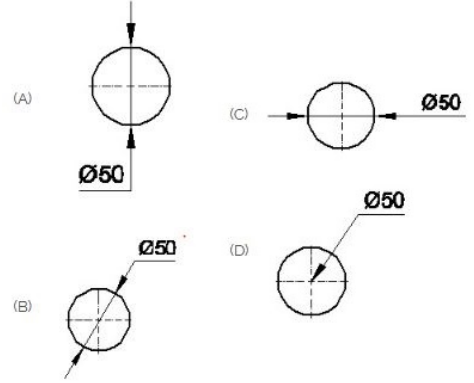
3. Identify the conventional symbol of material? | ವಸ್ತುವಿನ ಕನ್ವೆಷನಲ್ ಚಿಹ್ನೆಯನ್ನು ಗುರುತಿಸಿ?



- A) Lead | ಲೀಡ್                              B) Porcelain | ಪಿಂಗಾಣಿ  
C) Glass | ಗಾಜು                              D) Steel | ಸ್ಟೀಲ್

Answer: D) Steel | ಸ್ಟೀಲ್

4. Which dimension correctly marked in the circle as per standard? | ಮಾನದಂಡದ ಪ್ರಕಾರ ವೃತ್ತದಲ್ಲಿ ಯಾವ ಆಯಾಮವನ್ನು ಸರಿಯಾಗಿ ಗುರುತಿಸಲಾಗಿದೆ?



- A) D                                          B) C  
C) A                                          D) B

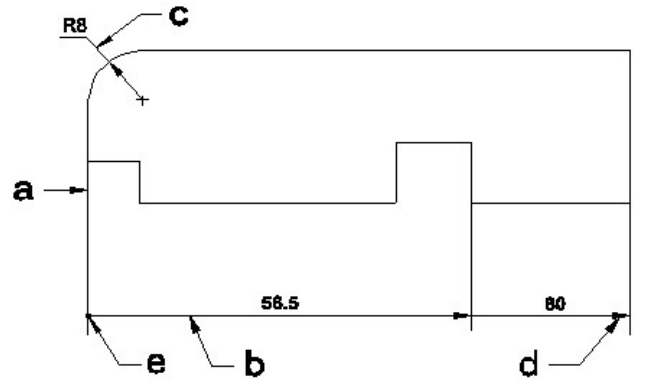
Answer: D) B

5. Compass used to draw for \_\_\_. | ಕಂಪಾಸ್ ಅನ್ನು \_\_\_\_\_ ಗೆ ಸೆಳೆಯಲು ಬಳಸಲಾಗುತ್ತದೆ.

- A) circle | ವೃತ್ತ                              B) rectangle | ಆಯಾತ  
C) triangle | ತ್ರಿಕೋನ                      D) square | ಚದರ

Answer: A) circle | ವೃತ್ತ

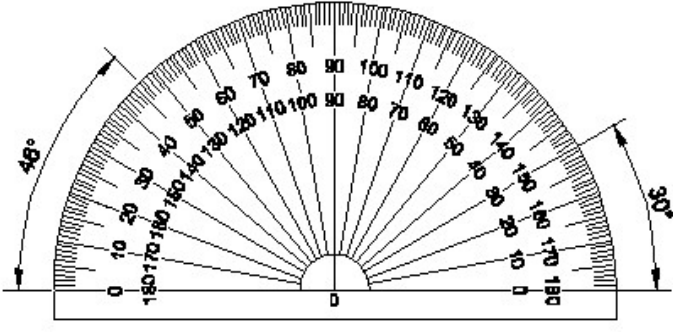
6. Identify the line a, b, c, d, e? | ಸಾಲುಗಳನ್ನು ಗುರುತಿಸುವುದೇ?



- A) Extension line | ವಿಸ್ತರಣೆ ಸಾಲು                      B) Leader line | ಲೀಡರ್ ಸಾಲು  
C) Termination of dimension line | ಆಯಾಮ ರೇಖೆಯ ಮುಕ್ತಾಯ                      D) Dimension line | ಡೈಮೆನ್ಷನ್ ಸಾಲು

Answer: D) Dimension line | ಡೈಮೆನ್ಷನ್ ಸಾಲು

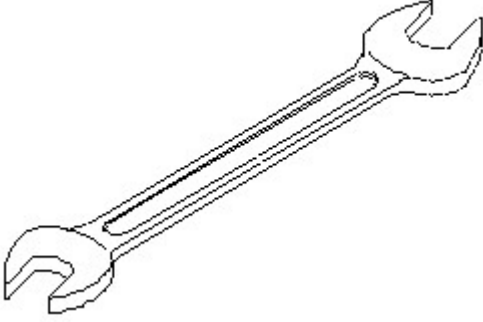
7. Identify the name of instrument? | ಉಪಕರಣದ ಹೆಸರನ್ನು ಗುರುತಿಸುವುದೇ?



- A) Set square | ಸೆಟ್ ಸ್ಕ್ವೇರ್      B) French curve | ಫ್ರೆಂಚ್ ಕರ್ವ್  
C) Protractor | ಪ್ರೊಟ್ರಾಕ್ಟರ್      D) T square | ಟಿ ಸ್ಕ್ವೇರ್

**Answer: C) Protractor | ಪ್ರೊಟ್ರಾಕ್ಟರ್**

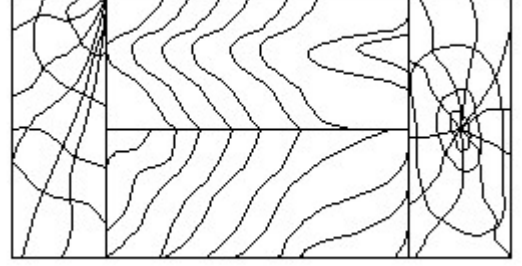
8. Identify the name of tool? | ಉಪಕರಣದ ಹೆಸರನ್ನು ಗುರುತಿಸುವುದೇ?



- A) Ring spanner | ರಿಂಗ್ ಸ್ಪಾನ್ಸರ್      B) Adjustable spanner | ಹೊಂದಿಸಬಹುದಾದ ಸ್ಪಾನ್ಸರ್  
C) Combination spanner | ಕಾಂಬಿನೇಶನ್ ಸ್ಪಾನ್ಸರ್      D) Open end spanner | ಓಪನ್ ಎಂಡ್ ಸ್ಪಾನ್ಸರ್

**Answer: D) Open end spanner | ಓಪನ್ ಎಂಡ್ ಸ್ಪಾನ್ಸರ್**


9. Identify the conventional symbol of material? | ವಸ್ತುವಿನ ಕನ್ವೆಷನಲ್ ಚಿಹ್ನೆಯನ್ನು ಗುರುತಿಸಿ?



- A) Paper | ಪೇಪರ್      B) Glass | ಗಾಜು  
C) Lead | ಲೀಡ್      D) Wood | ಮರ

**Answer: D) Wood | ಮರ**

10. Identify the conventional symbol of material? | ವಸ್ತುವಿನ ಕನ್ವೆಷನಲ್ ಚಿಹ್ನೆಯನ್ನು ಗುರುತಿಸಿ?



- A) Glass | ಗಾಜು      B) Concrete | ಕಾಂಕ್ರೀಟ್  
C) Steel | ಸ್ಟೀಲ್      D) Wood | ಮರ

**Answer: A) Glass | ಗಾಜು**