

**Student: BHARATH M****Score: 11/50 (22.00%)****Code: 1644**

1. If one can use a computer and the internet comfortably. It is called \_\_\_\_\_?.
- A) Sports Literacy (Incorrect)    **B) Digital Literacy**  
C) Cultural Literacy    D) Language Literacy
2. In which of the following tasks, do we need digital literacy?
- A) Finding information online    B) Creating a Resume  
C) Communication through emails (Incorrect)    **D) All of these**
3. Which of the following can be done without the help of internet?
- A) Painting a wall**    B) Searching for jobs online  
C) Watching videos online (Incorrect)    D) Creating a Digital Resume
4. Krishna is a teacher, he wants to conduct classes online. Which of these devices can he use?
- A) Computer    B) Laptop (Incorrect)  
C) Tablet    **D) All of these**
5. Saleem needs to talk about digital skills that are required at work. Which of these works needs digital skills?
- A) Communication through emails and chat (Incorrect)    B) Creating and editing documents and worksheets  
C) Creating and editing worksheets    **D) All of these**
6. Which of the following is not a part of a desktop Computer?
- A) Monitor (Incorrect)    **B) Antenna**  
C) Web Camera    D) Mouse
7. What does CPU stand for?
- A) Cost per unit (Incorrect)    B) Central power unit  
**C) Central Processing Unit**    D) Cutting power unit
8. \_\_\_\_\_ is called as the brain of the computer.
- A) Web Camera    B) Trackpad  
C) Monitor (Incorrect)    **D) Central Processing Unit**
9. Safeena wants to talk to her friend on a video call. Which of the following is necessary for a video call on a desktop computer?
- A) Trackpad    B) Remote (Incorrect)  
C) Printer    **D) Web Camera**
10. Rashmi recently bought a new laptop after her old computer stopped working. Which part of the laptop works like a mouse?
- A) Trackpad**    B) Speakers  
C) Keyboard    D) Desktop (Incorrect)
11. What is the square root of 0.017?
- A) 0.001    **B) 0.13**  
C) 0.00001 (Incorrect)    D) 0.000001
12. What is the definition of ratio?
- A) Relation of two quantities of the same kind (Correct)**    B) Relation of two quantities of the different kind  
C) Equality between two ratios    D) Inequality between two ratios
13. What is the ratio of 4 kg to 800 grams?
- A) 05:01**    B) 04:08  
C) 08:04    D) 02:04 (Incorrect)
14. What percentage of 80 is 20?
- A) 0.8 (Incorrect)    B) 0.4  
**C) 0.25**    D) 0.2
15. How much is 8% of 40 kg?
- A) 2.2 kg    **B) 3.2 kg**  
C) 4.2 kg (Incorrect)    D) 5.2 kg
16. Convert 52% into fraction?
- A) (9/25)    B) (11/25) (Incorrect)  
**C) (13/25)**    D) (17/25)
17. Convert 0.456 decimal fraction into percentage?
- A) 0.456    B) 0.0456  
**C) 45.6 (Correct)**    D) 0.000456
18. What is the x value for  $x^2 + 62 = 126$ ?
- A) 4 (Incorrect)    B) 6  
**C) 8**    D) 10

19. What is the square root of decimal number 550.37?

- A) 21.26 (Incorrect) B) 22.26  
C) 22.46 D) **23.46**

20. What is the length L2, if total length (L) is 2.75 metre and L1:L2 = 2:3?

- A) 1.1 metre B) 1.25 metre  
C) **1.65 metre (Correct)** D) 1.75 metre

21. Which is an application of series circuit? | ಸರಣಿ ಸರ್ಕ್ಯೂಟ್‌ನ ಅಪ್ಪಿಕೇಶನ್ ಯಾವುದು?

- A) **Fuse in circuit | ಸರ್ಕ್ಯೂಟ್‌ನಲ್ಲಿ ಫ್ಯೂಸ್** B) Voltmeter connection | ವೋಲ್ಟ್‌ಮೀಟರ್ ಸಂಪರ್ಕ (Incorrect)  
C) Electrical lamp in homes | ಮನೆಗಳಲ್ಲಿ ವಿದ್ಯುತ್ ದೀಪ D) Shunt resistor in ammeter | ವಿದ್ಯುತ್ಪ್ರಾಂತದಲ್ಲಿ ಶಂಟ್ ರೆಸಿಸ್ಟರ್

22. What electrical quantities are related with the Ohm's law? | ಯಾವ ವಿದ್ಯುತ್ ಪ್ರಮಾಣಗಳು ಓಮ್ಮ ನಿಯಮದೊಂದಿಗೆ ಸಂಬಂಧಿಸಿವೆ?

- A) Current, resistance and power | ಪ್ರಸ್ತುತ, ಪ್ರತಿರೋಧ ಮತ್ತು ಶಕ್ತಿ (Incorrect) B) Current, voltage and resistivity | ಪ್ರಸ್ತುತ, ವೋಲ್ಟೇಜ್ ಮತ್ತು ಪ್ರತಿರೋಧಕ  
C) **Current, voltage and resistance | ಪ್ರಸ್ತುತ, ವೋಲ್ಟೇಜ್ ಮತ್ತು ಪ್ರತಿರೋಧ** D) Voltage, resistance and current density | ವೋಲ್ಟೇಜ್, ಪ್ರತಿರೋಧ ಮತ್ತು ಪ್ರಸ್ತುತ ಸಾಂದ್ರತೆ

23. Where the air capacitors are used? | ಏರ್ ಕೆಪಾಸಿಟರ್‌ಗಳನ್ನು ಎಲ್ಲಿ ಬಳಸಲಾಗುತ್ತದೆ?

- A) In VHF unit | VHF ಯೂನಿಟ್‌ನಲ್ಲಿ B) In oscillator | ಆಂದೋಲಕದಲ್ಲಿ  
C) In loudspeaker | ಧ್ವನಿವರ್ಧಕದಲ್ಲಿ D) **In radio receiver | ರೇಡಿಯೋ ರಿಸೀವರ್‌ನಲ್ಲಿ (Correct)**

24. What is the name of the resistor if its resistance value increase with increase in temperature? | ಉಷ್ಣಾಂಶದ ಹೆಚ್ಚಳದೊಂದಿಗೆ ಅದರ ಪ್ರತಿರೋಧ ಮೌಲ್ಯವು ಹೆಚ್ಚಾಗಿದ್ದರೆ ಪ್ರತಿರೋಧಕದ ಹೆಸರು ಏನು?

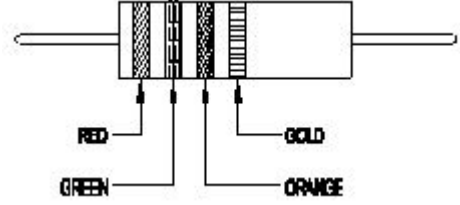
- A) Varistors | ವರಿಷ್ಟರು B) **Sensistors | ಸೆನ್ಸಿಟಿವ್ ಗಳು (Correct)**  
C) Thermistors | ಥರ್ಮಿಸ್ಟರ್ಸ್ D) Light Dependent Resistor (LDR) | ಲೈಟ್ ಅವಲಂಬಿತ ಪ್ರತಿರೋಧಕ (ಎಲ್ಡಿಆರ್)

25. What is the name of the resistor as shown in the figure? | ಚಿತ್ರದಲ್ಲಿ ತೋರಿಸಿರುವಂತೆ ರೆಸಿಸ್ಟರ್‌ನ ಹೆಸರೇನು?



- A) Metal film resistor | ಮೆಟಲ್ ಫಿಲ್ಮ್ ರೆಸಿಸ್ಟರ್ (Incorrect) B) **Wire wound resistor | ವೈರ್ ಗಾಯದ ಪ್ರತಿರೋಧಕ**  
C) Carbon - film resistor | ಕಾರ್ಬನ್ - ಫಿಲ್ಮ್ ರೆಸಿಸ್ಟರ್ D) Carbon composition resistor | ಕಾರ್ಬನ್ ಸಂಯೋಜನೆ ಪ್ರತಿರೋಧಕ

26. Calculate the value of resistance by colour coding method. | ಬಣ್ಣದ ಕೋಡಿಂಗ್ ವಿಧಾನದಿಂದ ಪ್ರತಿರೋಧದ ಮೌಲ್ಯವನ್ನು ಲೆಕ್ಕಾಚಾರ ಮಾಡಿ.



- A)  $22 \times 10^3 \pm 10\%$  (Incorrect) B)  $23 \times 10 \pm 10\%$   
C)  **$25 \times 10^3 \pm 5\%$**  D)  $36 \times 10 \pm 5\%$

27. When the no current will flow through the galvanometer in the wheat stone bridge? | ವೀಟ್‌ಸ್ಟೋನ್ ಬ್ರಿಡ್ಜ್ ಯಲ್ಲಿ ಗ್ಯಾಲ್ವನೋಮೀಟರ್ ಮೂಲಕ ಯಾವುದೇ ಕರೆಂಟ್ ಯಾವಾಗ ಹರಿಯುವುದಿಲ್ಲ?

- A) **In balanced condition | ಸಮತೋಲಿತ ಸ್ಥಿತಿಯಲ್ಲಿ (Correct)** B) In unbalanced condition | ಅಸಮತೋಲಿತ ಸ್ಥಿತಿಯಲ್ಲಿ  
C) In short-circuited condition | ಶಾರ್ಟ್ ಸರ್ಕ್ಯೂಟ್ ಸ್ಥಿತಿಯಲ್ಲಿ D) In open-circuited condition | ಓಪನ್-ಸರ್ಕ್ಯೂಟ್ ಸ್ಥಿತಿಯಲ್ಲಿ

28. What is the unit of capacitance? | ಧಾರಣಶಕ್ತಿಯ ಘಟಕ ಎಂದರೇನು?

- A) Mho B) Henry  
C) **Farad (Correct)** D) Coulomb

29. Which factor affects the polarity of the electromagnet? | ವಿದ್ಯುತ್ಪ್ರಾಂತೀಯ ಧ್ರುವೀಯತೆಯ ಮೇಲೆ ಯಾವ ಅಂಶವು ಪರಿಣಾಮ ಬೀರುತ್ತದೆ?

- A) Length of the coil | ಸುರಳಿಯ ಉದ್ದ B) **Direction of current | ಪ್ರಸ್ತುತ ನಿರ್ದೇಶನ**  
C) Strength of current | ಪ್ರಸ್ತುತ ಸಾಮರ್ಥ್ಯ D) Strength of the magnetic field | ಕಾಂತೀಯ ಕ್ಷೇತ್ರದ ಸಾಮರ್ಥ್ಯ (Incorrect)

30. What indicates the shape of a BH curve (Hysteresis loop) of material? | ವಸ್ತುವಿನ BH ಕರ್ವ್ (ಹೈಟೆರಿಸಿಸ್ ಲೂಪ್) ಆಕಾರವನ್ನು ಯಾವುದು ಸೂಚಿಸುತ್ತದೆ?

- A) Reluctance of the material | ವಸ್ತುಗಳ ರಿಲಕ್ಟನ್ಸ್ B) **Field intensity of the substance | ವಸ್ತುವಿನ ಕ್ಷೇತ್ರ ತೀವ್ರತೆ (Incorrect)**  
C) **Magnetic properties of the material | ವಸ್ತುಗಳ ಮ್ಯಾಗ್ನೆಟಿಕ್ ಗುಣಲಕ್ಷಣಗಳು** D) Pulling power of the magnetic material | ಆಯಸ್ಕಾಂತೀಯ ವಸ್ತುಗಳ ಶಕ್ತಿಯನ್ನು ಎಳೆಯುವುದು

31. Which type of effect occur if current is passed through a spirally wound coil? | ಸ್ಪೈರಲ್ ವೌಂಡ್ ಕಾಯಿಲ್ ಮೂಲಕ ವಿದ್ಯುತ್ ಪ್ರವಾಹವನ್ನು ಹಾದು ಹೋದರೆ ಯಾವ ರೀತಿಯ ಪರಿಣಾಮ ಉಂಟಾಗುತ್ತದೆ?

A) Heating effect | ತಾಪನ ಪರಿಣಾಮ (Incorrect)

B) Magnetic effect | ಮ್ಯಾಗ್ನೆಟಿಕ್ ಪರಿಣಾಮ

C) Chemical effect | ರಾಸಾಯನಿಕ ಪರಿಣಾಮ

D) Thermal effect | ಥರ್ಮಲ್ ಪರಿಣಾಮ

32. What is the SI unit of Flux density? | ಫ್ಲಕ್ಸ್ ಸಾಂದ್ರತೆಯ S.I ಯುನಿಟ್ ಎಂದರೇನು?

A) Tesla

B) Weber

C) Weber/metre (Correct)

D) Ampere-turns

33. What precaution to be taken before connecting the different voltage rating capacitors in series? | ವಿಭಿನ್ನ ವೋಲ್ಟೇಜ್ ರೇಟಿಂಗ್ ಕೆಪಾಸಿಟರ್‌ಗಳನ್ನು ಸರಣಿಯಲ್ಲಿ ಸಂಪರ್ಕಿಸುವ ಮೊದಲು ಯಾವ ಮುನ್ನೆಚ್ಚರಿಕೆ ತೆಗೆದುಕೊಳ್ಳಬೇಕು?

A) All the capacitors must be same manufacturer | ಎಲ್ಲಾ ಕೆಪಾಸಿಟರ್‌ಗಳು ಒಂದೇ ತಯಾರಕರಾಗಿರಬೇಕು

B) Each capacitors voltage drop must be less than its voltage rating | ಪ್ರತಿ ಕೆಪಾಸಿಟರ್ ವೋಲ್ಟೇಜ್ ಡ್ರಾಪ್ ಅದರ ವೋಲ್ಟೇಜ್ ರೇಟಿಂಗ್‌ಗಿಂತ ಕಡಿಮೆ ಇರಬೇಕು

C) Total capacitors value must be less than the lowest value of capacitor | ಒಟ್ಟು ಕ್ಯಾಪಾಸಿಟರ್ ಮೌಲ್ಯವು ಕೆಪಾಸಿಟರ್‌ನ ಕಡಿಮೆ ಮೌಲ್ಯಕ್ಕಿಂತ ಕಡಿಮೆ ಇರಬೇಕು

D) Break down voltage of each capacitor must be same | ಪ್ರತಿ ಕೆಪಾಸಿಟರ್ ವೋಲ್ಟೇಜ್ ಅನ್ನು ಒಡೆಯುವುದು ಒಂದೇ ಆಗಿರಬೇಕು (Incorrect)

34. What is the unit of Magneto Motive Force (MMF)? | ಮ್ಯಾಗ್ನೆಟೋ ಮೋಟಿವ್ ಫೋರ್ಸ್ ಘಟಕ (ಎಂಎಂಎಫ್) ಎಂದರೇನು?

A) Ampere / M<sup>2</sup> (Incorrect)

B) Ampere - M

C) Ampere - turns

D) Ampere / turns

35. Which factor changes the permeability of a material? | ಮೆಟೀರಿಯಲ್ ಪ್ರವೇಶಸಾಧ್ಯತೆಯನ್ನು ಯಾವ ಅಂಶವು ಬದಲಾಯಿಸುತ್ತದೆ?

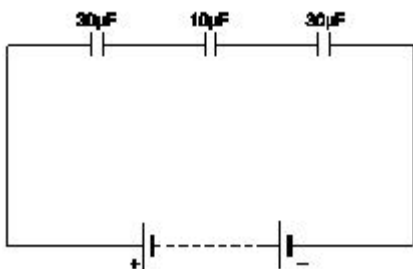
A) Length | ಉದ್ದ

B) Flux density | ಫ್ಲಕ್ಸ್ ಸಾಂದ್ರತೆ

C) Diameter | ವ್ಯಾಸ

D) Cross sectional area | ಕ್ರಾಸ್ ಸೆಕ್ಷನಲ್ ಪ್ರದೇಶ (Incorrect)

36. Calculate the total capacitance value in the circuit. | ಸರ್ಕ್ಯೂಟ್‌ನ ಒಟ್ಟು ಧಾರಣ ಮೌಲ್ಯವನ್ನು ಲೆಕ್ಕಾಚಾರ ಮಾಡಿ.



A) 0.16 µF

B) 6 µF

C) 30 µF

D) 70 µF (Incorrect)

37. Which material is having the negative temperature coefficient property? | ಯಾವ ವಸ್ತುವು ಋಣಾತ್ಮಕ ತಾಪಮಾನ ಸಹ-ಪರಿಣಾಮಕಾರಿ ಗುಣವನ್ನು ಹೊಂದಿದೆ?

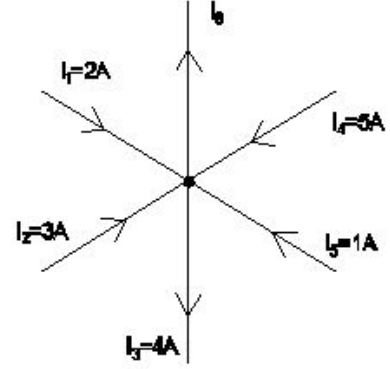
A) Mica | ಮೈಕ

B) Eureka | ಯುರೇಕಾ (Incorrect)

C) Copper | ತಾಮ್ರ

D) Manganin | ಮಂಗನಿನ್

38. What is the value of current in the I<sub>1</sub>? | I<sub>1</sub>ನಲ್ಲಿ ಪ್ರಸ್ತುತ ಮೌಲ್ಯ ಎಷ್ಟು?



A) 8 A

B) 7 A (Correct)

C) 5 A

D) 3 A

39. What is the value of resistance in a open circuit? | ಓಪನ್ ಸರ್ಕ್ಯೂಟ್‌ನಲ್ಲಿ ಪ್ರತಿರೋಧದ ಮೌಲ್ಯ ಏನು?

A) Low | ಕಡಿಮೆ

B) High | ಹೆಚ್ಚು

C) Zero | ಶೂನ್ಯ (Incorrect)

D) Infinity | ಅನಂತ

40. Which law states that the applied voltage in a closed circuit, is equal to the sum of the voltage drops? | ಕ್ಲೋಸ್ಡ್ ಸರ್ಕ್ಯೂಟ್‌ನಲ್ಲಿ ಅನ್ವಯಿತ ವೋಲ್ಟೇಜ್, ವೋಲ್ಟೇಜ್ ಡ್ರಾಪ್‌ಗಳ ಮೊತ್ತಕ್ಕೆ ಸಮನಾಗಿರುತ್ತದೆ ಎಂದು ಯಾವ ಕಾನೂನು ಹೇಳುತ್ತದೆ?

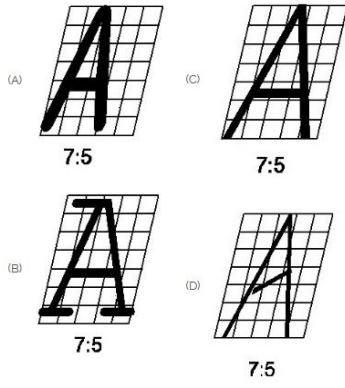
A) Ohm's law | ಓಮ್ಮ ಕಾನೂನು

B) Laws of resistance | ಪ್ರತಿರೋಧ ಕಾನೂನುಗಳು (Incorrect)

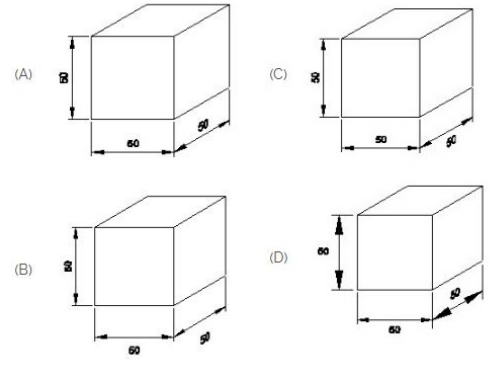
C) Kirchhoff's first law | ಕಿರ್ಚ್‌ಫ್ ಅವರ ಮೊದಲ ಕಾನೂನು

D) Kirchhoff's second law | ಕಿರ್ಚ್‌ಫ್ ಎರಡನೇ ಕಾನೂನು

41. Which single stroke inclined letter □ A□ is correct as per IS standard? | IS ಮಾನದಂಡದ ಪ್ರಕಾರ ಯಾವ ಏಕ ಸ್ಟ್ರೋಕ್ ಇಳಿಜಾರಿನ ಅಕ್ಷರ □ A□ರಿಯಾಗಿದೆ?

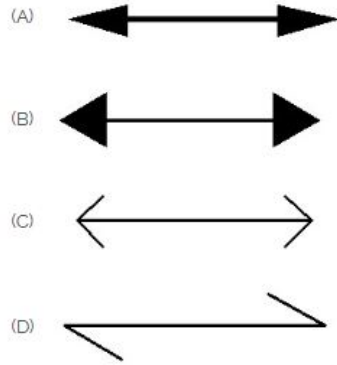


- A) A  
B) B  
C) C (Correct)  
D) D



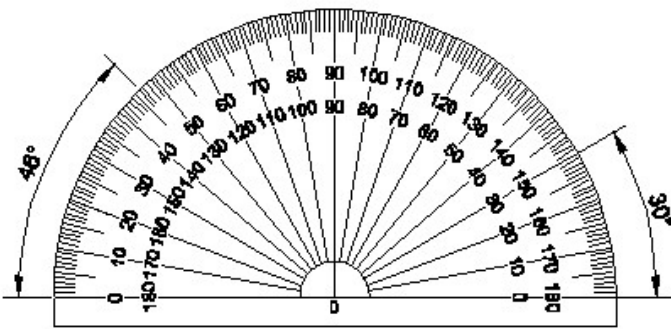
- A) A  
B) B  
C) C  
D) D (Incorrect)

42. Which arrow head is correct as per standard? | ಮಾನದಂಡದ ಪ್ರಕಾರ ಯಾವ ಬಾಣದ ಹೆಡ್ ಸರಿಯಾಗಿದೆ?



- A) A (Correct)  
B) B  
C) C  
D) D

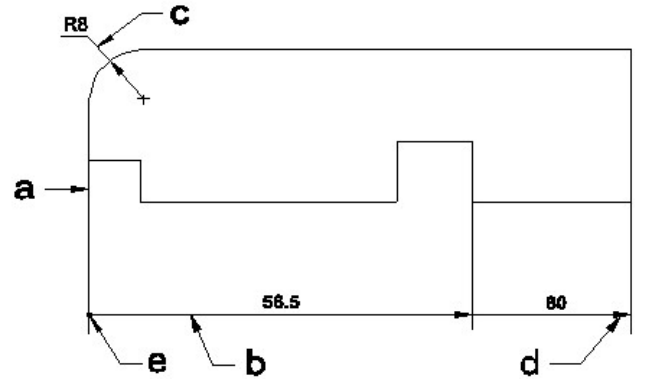
43. Identify the name of instrument? | ಉಪಕರಣದ ಹೆಸರನ್ನು ಗುರುತಿಸುವುದೇ?



- A) Set square | ಸೆಟ್ ಸ್ಕ್ವೇರ್ (Incorrect)  
B) Protractor | ಪ್ರೊಟ್ರಾಕ್ಟರ್  
C) French curve | ಫ್ರೆಂಚ್ ಕರ್ವ್  
D) T square | ಟಿ ಸ್ಕ್ವೇರ್

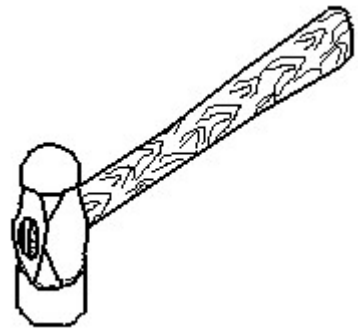
44. Which drawing dimension is correct as per IS standard? | IS ಮಾನದಂಡದ ಪ್ರಕಾರ ಯಾವ ರೇಖಾಚಿತ್ರದ ಆಯಾಮವು ಸರಿಯಾಗಿದೆ?

45. Identify the line a, b, c, d? | ಸಾಲುಗಳನ್ನು ಗುರುತಿಸುವುದೇ?



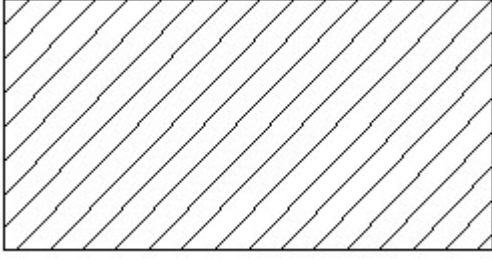
- A) Dimension line | ಡೈಮೆನ್ಷನ್ ಲೈನ್  
B) Extension line | ಎಕ್ಸ್ಟೆನ್ಷನ್ ಲೈನ್  
C) Leader line | ಲೀಡರ್ ಲೈನ್ (Incorrect)  
D) Termination of dimension line | ಆಯಾಮ ರೇಖೆಯ ಮುಕ್ತಾಯ

46. Identify the name of tool? | ಉಪಕರಣದ ಹೆಸರನ್ನು ಗುರುತಿಸುವುದೇ?



- A) Ball peen hammer | ಬಾಲ್ ಪೀನ್ ಸುತ್ತಿಗೆ  
B) Cross peen hammer | ಕ್ರಾಸ್ ಪೀನ್ ಸುತ್ತಿಗೆ (Incorrect)  
C) Straight peen hammer | ಸ್ಟ್ರೇಟ್ ಪೀನ್ ಸುತ್ತಿಗೆ  
D) Sledge hammer | ಸ್ಲೆಡ್ಜ್ ಹ್ಯಾಮ್ ಸುತ್ತಿಗೆ

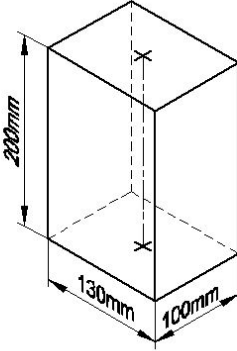
47. Identify the conventional symbol of material? | ವಸ್ತುವಿನ ಕನ್ವೆಷನಲ್ ಚಿಹ್ನೆಯನ್ನು ಗುರುತಿಸಿ?



- A) Lead | ಲೀಡ್  
C) Glass | ಗಾಜು

- B) Steel | ಸ್ಟೀಲ್**  
D) Porcelain | ಪಿಂಗಾಣಿ  
(Incorrect)

48. Identify the name of prism? | ಪ್ರಿಸ್ಮ್ ಹೆಸರನ್ನು ಗುರುತಿಸುವುದೇ?



- A) Rectangle prism | ಆಯತ ಪ್ರಿಸ್ಮ್** B) Square prism | ಚದರ ಪ್ರಿಸ್ಮ್  
(Incorrect)  
C) Triangular prism | ತ್ರಿಕೋನ ಪ್ರಿಸ್ಮ್ D) Hexagonal prism | ಷಡ್ಭುಜೀಯ ಪ್ರಿಸ್ಮ್

49. Compass used to draw for \_\_\_\_. | ಕಂಪಾಸ್ ಅನ್ನು \_\_\_\_ ಗೆ ಸೆಳೆಯಲು ಬಳಸಲಾಗುತ್ತದೆ.

- A) rectangle | ಆಯತ (Incorrect) B) square | ಚದರ  
C) circle | ವೃತ್ತ D) triangle | ತ್ರಿಕೋನ

50. Identify the name of set square? | ಸೆಟ್ ಚೌಕದ ಹೆಸರನ್ನು ಗುರುತಿಸುವುದೇ?



- A) 15° set square | 15° ಸೆಟ್ ಸ್ಕೇರ್ (Incorrect) B) 60° set square | 60° ಸೆಟ್ ಸ್ಕೇರ್  
C) 30° set square | 30° ಸೆಟ್ ಸ್ಕೇರ್ D) 45° set square | 45° ಸೆಟ್ ಸ್ಕೇರ್