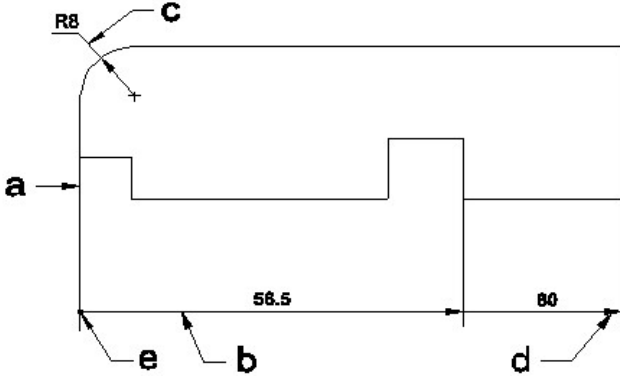


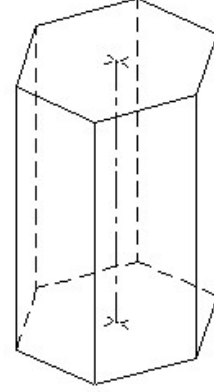
Student Name: \_\_\_\_\_

Roll No: \_\_\_\_\_

1. Identify the line  $\square$  b  $\square$  ? |  $\square$  ಸಾಫಿನ್ನು ಗುರುತಿಸುವುದೇ?



- A) Extension line | ಎಕ್ಸ್ಟೆನ್ಷನ್ ಲೈನ್  
B) Termination of dimension line | ಆಯಾಮ ರೇಖೆಯ ಮುಕ್ತಾಯ  
C) Leader line | ಲೀಡರ್ ಲೈನ್  
D) Dimension line | ಡೈಮೆನ್ಷನ್ ಲೈನ್



- A) Triangular prism | ತ್ರಿಕೋನ ಪ್ರಿಸ್ಮ್  
B) Square prism | ಚದರ ಪ್ರಿಸ್ಮ್  
C) Pentagonal prism | ಪೆಂಟಾಗೋನಲ್ ಪ್ರಿಸ್ಮ್  
D) Hexagonal prism | ಷಡ್ಭುಜೀಯ ಪ್ರಿಸ್ಮ್

2. Identify the name of set square? | ಸೆಟ್ ಚೌಕದ ಹೆಸರನ್ನು ಗುರುತಿಸುವುದೇ?



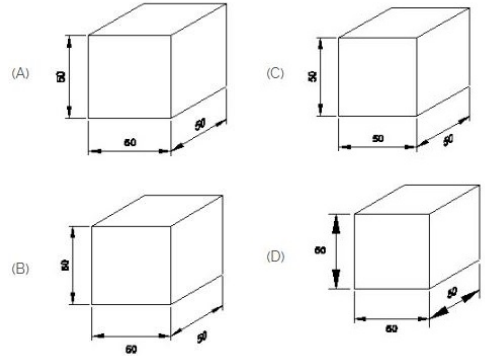
- A) 60° set square | 60° ಸೆಟ್ ಸ್ಕ್ವೇರ್  
B) 15° set square | 15° ಸೆಟ್ ಸ್ಕ್ವೇರ್  
C) 45° set square | 45° ಸೆಟ್ ಸ್ಕ್ವೇರ್  
D) 30° set square | 30° ಸೆಟ್ ಸ್ಕ್ವೇರ್

3. What is the trimmed size of A4 sheet? | A4 ಹಾಳೆಯ ಕ್ರಿಮ್ ಮಾಡಿದ ಗಾತ್ರ ಎಷ್ಟು?

- A) 841 x 1189  
B) 210 x 297  
C) 594 x 841  
D) 148 x 210

4. Identify the name of prism? | ಪ್ರಿಸ್ಮ್ ಹೆಸರನ್ನು ಗುರುತಿಸುವುದೇ?

5. Which drawing dimension is correct as per IS standard? | IS ಮಾನದಂಡದ ಪ್ರಕಾರ ಯಾವ ರೇಖಾಚಿತ್ರದ ಆಯಾಮವು ಸರಿಯಾಗಿದೆ?



- A) A  
B) D  
C) B  
D) C

6. Compass used to draw for \_\_\_\_. | ಕಂಪಾಸ್ ಅನ್ನು \_\_\_\_\_ ಗೆ ಸೆಳೆಯಲು ಬಳಸಲಾಗುತ್ತದೆ.

- A) triangle | ತ್ರಿಕೋನ  
B) rectangle | ಆಯಾತ  
C) circle | ವೃತ್ತ  
D) square | ಚದರ