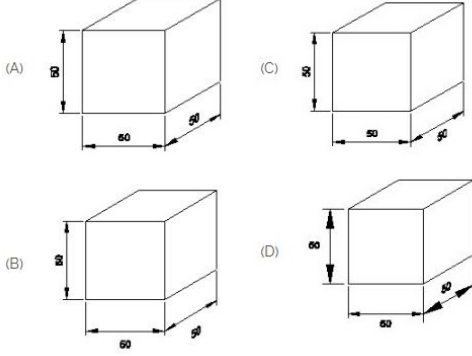


Duration: 30 Mins

Total Marks: 6

Q.ID: ITISKILL4592ME

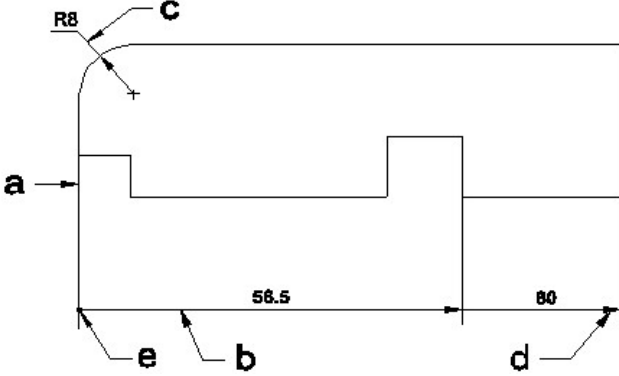
1. Which drawing dimension is correct as per IS standard? | IS ಮಾನದಂಡದ ಪ್ರಕಾರ ಯಾವ ರೇಖಾಚಿತ್ರದ ಆಯಾಮವು ಸರಿಯಾಗಿದೆ?



- A) B
C) A
B) D
D) C

Answer: C) A

2. Identify the line □ b□ ? | □ ಸಾಲುನ್ನು ಗುರುತಿಸುವುದೇ?



- A) Extension line | ವಿಸ್ತರಣೆ ಸಾಲು
B) Dimension line | ಡೈಮೆನ್ಷನ್ ಸಾಲು
C) Termination of dimension line | ಆಯಾಮ ರೇಖೆಯ ಮುಕ್ತಾಯ
D) Leader line | ಲೀಡರ್ ಸಾಲು

Answer: B) Dimension line | ಡೈಮೆನ್ಷನ್ ಸಾಲು

3. What is the trimmed size of A4 sheet? | A4 ಹಾಳೆಯ ಟ್ರಿಮ್ ಮಾಡಿದ ಗಾತ್ರ ಎಷ್ಟು?

- A) 210 x 297
C) 148 x 210
B) 594 x 841
D) 841 x 1189

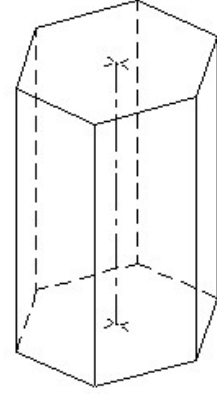
Answer: A) 210 x 297

4. Compass used to draw for ___. | ಕಂಪಾಸ್ ಅನ್ನು ___ ಗೆ ಸೆಳೆಯಲು ಬಳಸಲಾಗುತ್ತದೆ.

- A) square | ಚದರ
C) rectangle | ಆಯಾತ
B) circle | ವೃತ್ತ
D) triangle | ತ್ರಿಕೋನ

Answer: B) circle | ವೃತ್ತ

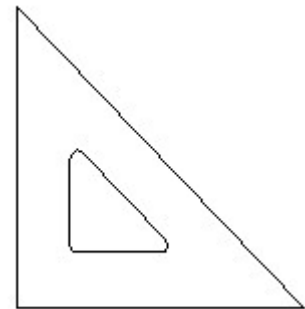
5. Identify the name of prism? | ಪ್ರಿಸ್ಮ್ ಹೆಸರನ್ನು ಗುರುತಿಸುವುದೇ?



- A) Pentagonal prism | ಪೆಂಟಾಗೋನಲ್ ಪ್ರಿಸ್ಮ್
C) Hexagonal prism | ಷಡ್ಭುಜೀಯ ಪ್ರಿಸ್ಮ್
B) Triangular prism | ತ್ರಿಕೋನ ಪ್ರಿಸ್ಮ್
D) Square prism | ಚದರ ಪ್ರಿಸ್ಮ್

Answer: C) Hexagonal prism | ಷಡ್ಭುಜೀಯ ಪ್ರಿಸ್ಮ್

6. Identify the name of set square? | ಸೆಟ್ ಚೌಕದ ಹೆಸರನ್ನು ಗುರುತಿಸುವುದೇ?



- A) 15° set square | 15° ಸೆಟ್ ಸ್ಕ್ವೇರ್
C) 45° set square | 45° ಸೆಟ್ ಸ್ಕ್ವೇರ್
B) 60° set square | 60° ಸೆಟ್ ಸ್ಕ್ವೇರ್
D) 30° set square | 30° ಸೆಟ್ ಸ್ಕ್ವೇರ್

Answer: C) 45° set square | 45° ಸೆಟ್ ಸ್ಕ್ವೇರ್