

Duration: 30 Mins

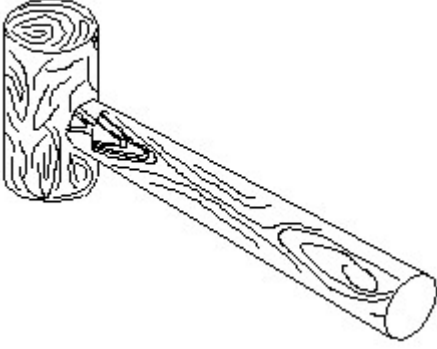
Total Marks: 25

ID: ITISKILL3662EO

Student Name: _____

Roll No: _____

1. Identify the name of tool? | ಉಪಕರಣದ ಹೆಸರನ್ನು ಗುರುತಿಸುವುದೇ?

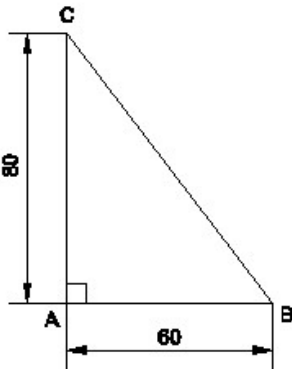


- A) Cross pein hammer | ಕ್ರಾಸ್ ಪೀನ್ ಸುತ್ತಿಗೆ
 B) Mallet | ಮ್ಯಾಲೆಟ್
 C) Ball pein hammer | ಬಾಲ್ ಪೆನ್ ಸುತ್ತಿಗೆ
 D) Straight pein hammer | ಸ್ಟ್ರೈಟ್ ಪೆಯಿನ್ ಸುತ್ತಿಗೆ

2. Which part regulates the heat in automatic iron? | ಆಟೋಮೇಟಿಕ್ ಐರನ್‌ನಲ್ಲಿನ ಶಾಖವನ್ನು ಯಾವ ಭಾಗವು ನಿಯಂತ್ರಿಸುತ್ತದೆ?

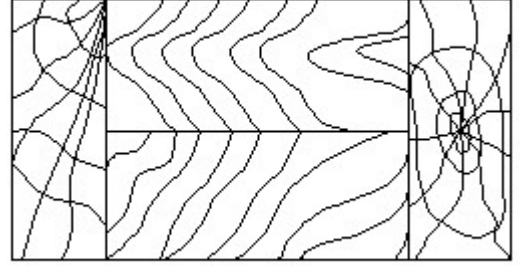
- A) Thermostatic switch | ಥರ್ಮೋಸ್ಟಾಟಿಕ್ ಸ್ವಿಚ್
 B) Pressure plate | ಪ್ರೆಶರ್ ಪ್ಲೇಟ್
 C) Heating element | ಹೀಟಿಂಗ್ ಎಲಿಮೆಂಟ್
 D) Asbestos sheet | ಆಸ್ಟೆಸ್ಟೋಸ್ ಶೀಟ್

3. Identify the name of the triangle? | ತ್ರಿಕೋನದ ಹೆಸರನ್ನು ಗುರುತಿಸುವುದೇ?



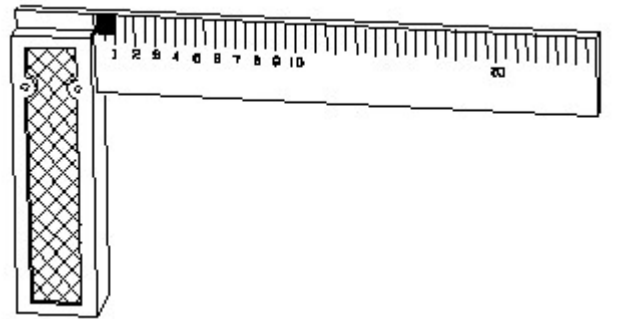
- A) Isosceles triangle | ಸಮದ್ವಿಬಾಹು ತ್ರಿಕೋನ
 B) Scalene triangle | ಸ್ಕೇಲಿನ್ ತ್ರಿಕೋನ
 C) Equilateral triangle | ಸಮಕೋನ ತ್ರಿಕೋನ
 D) Right angle triangle | ಬಲಕೋನ ತ್ರಿಕೋನ

4. Identify the conventional symbol of material? | ವಸ್ತುವಿನ ಕನ್ವೆಷನಲ್ ಚಿಹ್ನೆಯನ್ನು ಗುರುತಿಸಿ?



- A) Lead | ಲೀಡ್
 B) Glass | ಗಾಜು
 C) Wood | ಮರ
 D) Paper | ಪೇಪರ್

5. 1). Identify the name of tool? | ಉಪಕರಣದ ಹೆಸರನ್ನು ಗುರುತಿಸುವುದೇ?

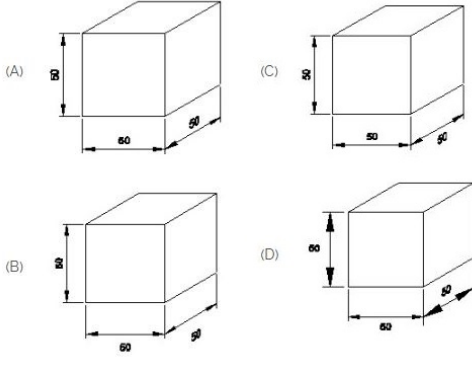


- A) Try square | ಟ್ರೈ ಸ್ಕ್ವೇರ್
 B) Feeler gauge | ಫೀಲರ್ ಗೇಜ್
 C) Steel rule | ಸ್ಟೀಲ್ ರೂಲ್
 D) Surface gauge | ಮೇಲ್ಮೈ ಮಾಪಕ

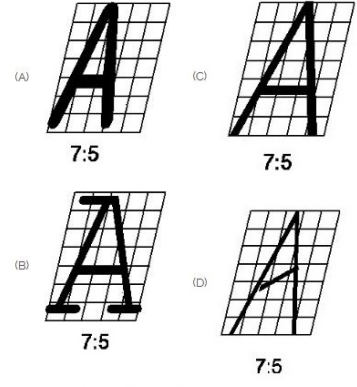
6. Which materials pipe is used for drainage pipe line? | ಡ್ರೈನೇಜ್ ಪೈಪ್ ಲೈನ್‌ಗೆ ಯಾವ ವಸ್ತುಗಳ ಪೈಪ್ ಅನ್ನು ಬಳಸಲಾಗುತ್ತದೆ?

- A) G.I. Pipe | ಜಿಐ ಪೈಪ್
 B) Brass Pipe | ಹಿತ್ತಾಳೆ ಪೈಪ್
 C) Steel pipe | ಉಕ್ಕಿನ ಕೊಳವೆ
 D) PVC pipe | PVC ಪೈಪ್

7. Which drawing dimension is correct as per IS standard? | IS ಮಾನದಂಡದ ಪ್ರಕಾರ ಯಾವ ರೇಖಾಚಿತ್ರದ ಆಯಾಮವು ಸರಿಯಾಗಿದೆ?



- A) A
C) C
- B) D
D) B



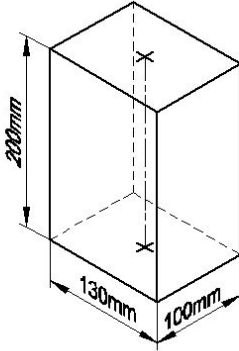
- A) D
C) B
- B) C
D) A

8. Identify the given symbol | ನೀಡಿರುವ ಚಿಹ್ನೆಯನ್ನು ಗುರುತಿಸಿ



- A) Inductance | ಇಂಡಕ್ಟನ್ಸ್
C) Ohms | ಓಮ್ಸ್
- B) AC
D) DC

9. Identify the name of prism? | ಪ್ರಿಸ್ಮ್ ಹೆಸರನ್ನು ಗುರುತಿಸುವುದೇ?



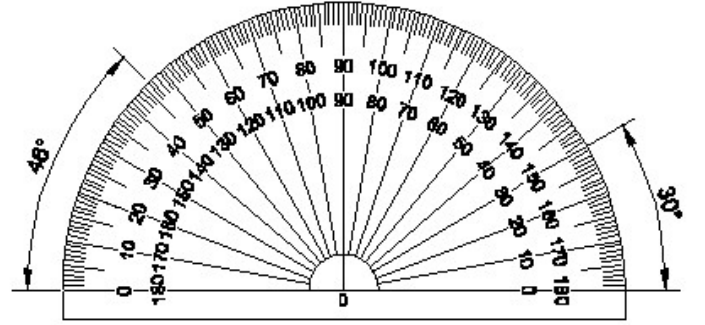
- A) Hexagonal prism | ಷಡ್ಭುಜೀಯ ಪ್ರಿಸ್ಮ್
C) Triangular prism | ತ್ರಿಕೋನ ಪ್ರಿಸ್ಮ್
- B) Square prism | ಚದರ ಪ್ರಿಸ್ಮ್
D) Rectangle prism | ಆಯತ ಪ್ರಿಸ್ಮ್

10. Which single stroke inclined letter □ A□ is correct as per IS standard? | IS ಮಾನದಂಡದ ಪ್ರಕಾರ ಯಾವ ಏಕ ಸ್ಟ್ರೋಕ್ ಇಳಿಜಾರಿನ ಅಕ್ಷರ □ A□ರಿಯಾಗಿದೆ?

11. What is the material of line insulator? | ಲೈನ್ ಇನ್ಸುಲೇಟರ್ನ ಮೇಟೀರಿಯಲ್ ಯಾವುದು?

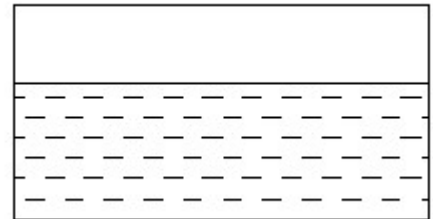
- A) Rubber | ರಬ್ಬರ್
C) Porcelain clay | ಪಿಂಗಾಣಿ ಮಣ್ಣಿನ
- B) Aluminium | ಅಲ್ಯೂಮಿನಿಯಂ
D) Copper | ತಾಮ್ರ

12. Identify the name of instrument? | ಉಪಕರಣದ ಹೆಸರನ್ನು ಗುರುತಿಸುವುದೇ?



- A) □ T □ square | ಟಿ ಸ್ಕ್ವೇರ್
C) Set square | ಸೆಟ್ ಸ್ಕ್ವೇರ್
- B) Protractor | ಪ್ರೊಟ್ರಾಕ್ಟರ್
D) French curve | ಫ್ರೆಂಚ್ ಕರ್ವ್

13. Identify the conventional symbol of material? | ವಸ್ತುವಿನ ಕನ್ವೆಷನಲ್ ಚಿಹ್ನೆಯನ್ನು ಗುರುತಿಸಿ?



- A) Water | ನೀರು
C) Glass | ಗಾಜು
- B) Concrete | ಕಾಂಕ್ರೀಟ್
D) Asbestos | ಆಸ್ಟೆಬ್ಸ್ಟೋಸ್

14. This type of section is limited by a break line____ | ಈ ರೀತಿಯ ವಿಭಾಗವು ಬ್ರೇಕ್ ಲೈನ್ _____ ಮೂಲಕ ಸೀಮಿತವಾಗಿದೆ

A) broken-out section | ಮುರಿದ ವಿಭಾಗ

B) removed section | ತೆಗೆದುಹಾಕಲಾದ ವಿಭಾಗ

C) half section | ಅರ್ಧ ವಿಭಾಗ

D) revolved section. | ಸುತ್ತುವ ವಿಭಾಗ.

15. Which is the static machine that increase or decrease the AC voltage? | AC ವೋಲ್ಟೇಜ್ ಅನ್ನು ಹೆಚ್ಚಿಸುವ ಅಥವಾ ಕಡಿಮೆ ಮಾಡುವ ಸ್ಟಾಟಿಕ್ ಯಂತ್ರ ಯಾವುದು?

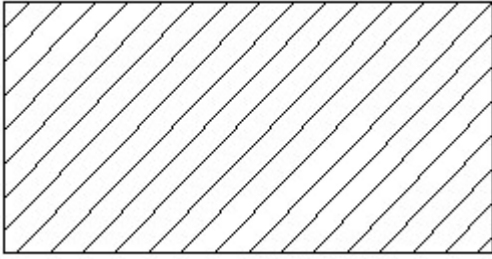
A) Generator | ಜನರೇಟರ್

B) Alternator | ಆಲ್ಟರ್ನೇಟರ್

C) Induction motor | ಇಂಡಕ್ಷನ್ ಮೋಟಾರ್

D) Transformer | ಟ್ರಾನ್ಸ್‌ಫಾರ್ಮರ್

16. Identify the conventional symbol of material? | ವಸ್ತುವಿನ ಕನ್ವೆಷನಲ್ ಚಿಹ್ನೆಯನ್ನು ಗುರುತಿಸಿ?



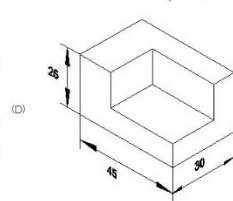
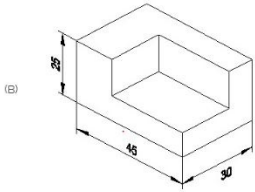
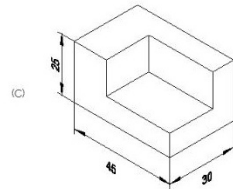
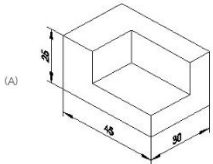
A) Steel | ಸ್ಟೀಲ್

B) Porcelain | ಪಿಂಗಾಣಿ

C) Lead | ಲೀಡ್

D) Glass | ಗಾಜು

17. Which drawing dimension is correct as per standard drawing practice? | ಸ್ಟಾಂಡರ್ಡ್ ಡ್ರಾಯಿಂಗ್ ಅಭ್ಯಾಸದ ಪ್ರಕಾರ ಯಾವ ಡ್ರಾಯಿಂಗ್ ಆಯಾಮ ಸರಿಯಾಗಿದೆ?



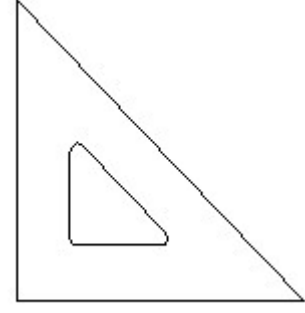
A) C

B) A

C) D

D) B

18. Identify the name of set square? | ಸೆಟ್ ಚೌಕದ ಹೆಸರನ್ನು ಗುರುತಿಸುವುದೇ?



A) 30° set square | 30° ಸೆಟ್ ಸ್ಕ್ವೇರ್

B) 45° set square | 45° ಸೆಟ್ ಸ್ಕ್ವೇರ್

C) 15° set square | 15° ಸೆಟ್ ಸ್ಕ್ವೇರ್

D) 60° set square | 60° ಸೆಟ್ ಸ್ಕ್ವೇರ್

19. Riveted joints is a _____ | ರಿವೆಟೆಡ್ ಜಂಟಿಗಳು

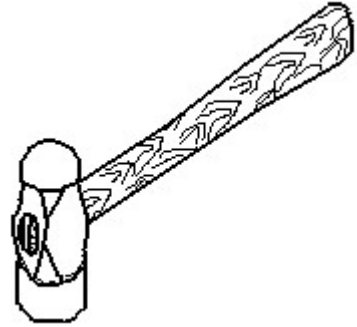
A) none of these | ಇದ್ದಾವುದೂ ಅಲ್ಲ

B) temporary joints | ತಾತ್ಕಾಲಿಕ ಜಂಟಿಗಳು

C) semi permanent | ಅರ್ಧ ಶಾಶ್ವತ

D) permanent joints | ಶಾಶ್ವತ ಜಂಟಿಗಳು

20. Identify the name of tool? | ಉಪಕರಣದ ಹೆಸರನ್ನು ಗುರುತಿಸುವುದೇ?



A) Cross peen hammer | ಕ್ರಾಸ್ ಪೀನ್ ಸುತ್ತಿಗೆ

B) Ball peen hammer | ಬಾಲ್ ಪೀನ್ ಸುತ್ತಿಗೆ

C) Straight peen hammer | ನೇರ ಪೀನ್ ಸುತ್ತಿಗೆ

D) Sledge hammer | ಸ್ಲೆಡ್ಜ್ ಸುತ್ತಿಗೆ

21. Which one of the following accommodates four pipes in a pipe fitting? | ಕೆಳಗಿನವುಗಳಲ್ಲಿ ಯಾವುದು ಫೈಪ್ ಫಿಟ್ಟಿಂಗ್‌ನಲ್ಲಿ ನಾಲ್ಕು ಫೈಪ್‌ಗಳನ್ನು ಅಳವಡಿಸುತ್ತದೆ?

A) Cross | ಅಡ್ಡ

B) Tee | ಟೀ

C) Union | ಯೂನಿಯನ್

D) Elbow | ಎಲ್ಬೋ

22. What is the trimmed size of A4 sheet? | A4 ಹಾಳೆಯ ಟ್ರಿಮ್ ಮಾಡಿದ ಗಾತ್ರ ಎಷ್ಟು?

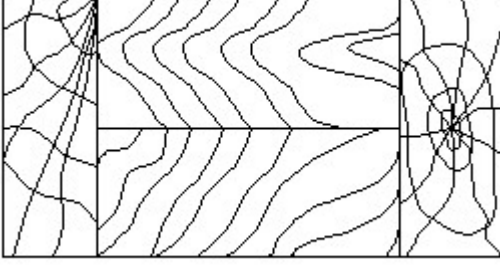
A) 210 x 297

B) 841 x 1189

C) 148 x 210

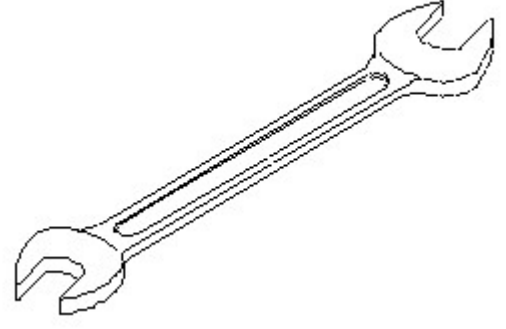
D) 594 x 841

23. Identify the conventional symbol of material? | ವಸ್ತುವಿನ ಕನ್ವೆಷನಲ್ ಚಿಹ್ನೆಯನ್ನು ಗುರುತಿಸಿ?



- A) Lead | ಲೀಡ್
B) Wood | ಮರ
C) Glass | ಗಾಜು
D) Paper | ಪೇಪರ್

24. Identify the name of tool? | ಉಪಕರಣದ ಹೆಸರನ್ನು ಗುರುತಿಸುವುದೇ?



- A) Adjustable spanner | ಹೊಂದಿಸಬಹುದಾದ ಸ್ಪ್ಯಾನರ್
B) Open end spanner | ಓಪನ್ ಎಂಡ್ ಸ್ಪ್ಯಾನರ್
C) Combination spanner | ಕಾಂಬಿನೇಷನ್ ಸ್ಪ್ಯಾನರ್
D) Ring spanner | ರಿಂಗ್ ಸ್ಪ್ಯಾನರ್

25. Voltage less than 250 volt is called _____. | 250 ವೋಲ್ಟ್‌ಗಿಂತ ಕಡಿಮೆ ವೋಲ್ಟೇಜ್ ಅನ್ನು _____ ಎಂದು ಕರೆಯಲಾಗುತ್ತದೆ.

- A) MT (Medium Tension) | MT (ಮಧ್ಯಮ ಒತ್ತಡ)
B) HT (High Tension) | HT (ಅಧಿಕ ಒತ್ತಡ)
C) LT (Low Tension) | LT (ಕಡಿಮೆ ಒತ್ತಡ)
D) EHT (Extra High Tension) | EHT (ಹೆಚ್ಚುವರಿ ಅಧಿಕ ಒತ್ತಡ)