

ITI Quiz - 30-May-2026

09:10 AM

Q. ID: ITISKILL3662EO

May 2026

GOVT ITI MEN MANGALORE

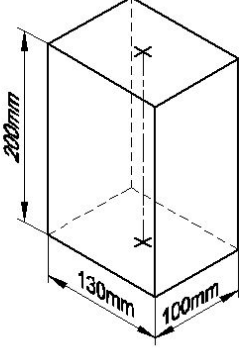
Answer Key

Duration: 30 Mins

Total Marks: 25

Q.ID: ITISKILL3662EO

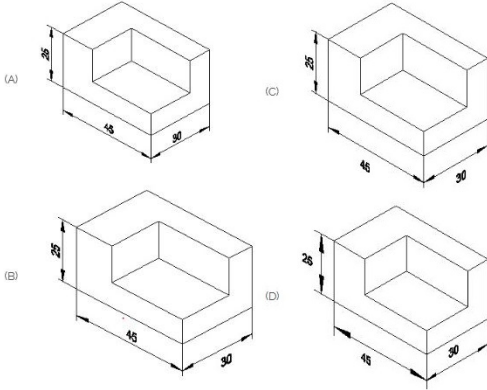
1. Identify the name of prism? | ಪ್ರಿಸ್ಮ್ ಹೆಸರನ್ನು ಗುರುತಿಸುವುದೇ?



- A) Hexagonal prism | ಷಡ್ಭುಜೀಯ ಪ್ರಿಸ್ಮ್
B) Square prism | ಚದರ ಪ್ರಿಸ್ಮ್
C) Rectangle prism | ಆಯತ ಪ್ರಿಸ್ಮ್
D) Triangular prism | ತ್ರಿಕೋನ ಪ್ರಿಸ್ಮ್

Answer: C) Rectangle prism | ಆಯತ ಪ್ರಿಸ್ಮ್

2. Which drawing dimension is correct as per standard drawing practice? | ಸ್ಟಾಂಡರ್ಡ್ ಡ್ರಾಯಿಂಗ್ ಅಭ್ಯಾಸದ ಪ್ರಕಾರ ಯಾವ ಡ್ರಾಯಿಂಗ್ ಆಯಾಮ ಸರಿಯಾಗಿದೆ?



- A) C
B) D
C) B
D) A

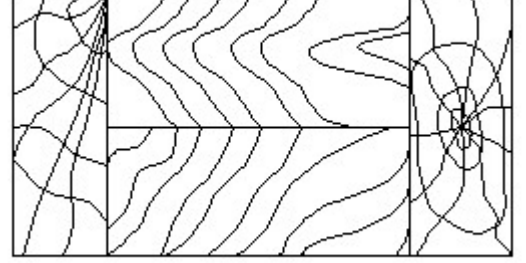
Answer: D) A

3. What is the material of line insulator? | ಲೈನ್ ಇನ್ಸುಲೇಟರ್‌ನ ಮೇಟೀರಿಯಲ್ ಯಾವುದು?

- A) Aluminium | ಅಲ್ಯೂಮಿನಿಯಂ
B) Copper | ತಾಮ್ರ
C) Porcelain clay | ಪಿಂಗಾಣಿ ಮಣ್ಣಿನ
D) Rubber | ರಬ್ಬರ್

Answer: C) Porcelain clay | ಪಿಂಗಾಣಿ ಮಣ್ಣಿನ

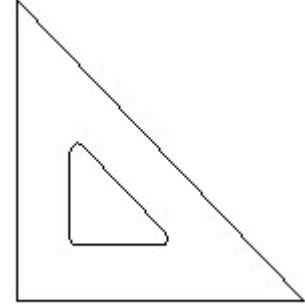
4. Identify the conventional symbol of material? | ವಸ್ತುವಿನ ಕನ್ವೆಷನಲ್ ಚಿಹ್ನೆಯನ್ನು ಗುರುತಿಸಿ?



- A) Lead | ಲೀಡ್
B) Paper | ಪೇಪರ್
C) Wood | ಮರ
D) Glass | ಗಾಜು

Answer: C) Wood | ಮರ

5. Identify the name of set square? | ಸೆಟ್ ಚೌಕದ ಹೆಸರನ್ನು ಗುರುತಿಸುವುದೇ?



- A) 15° set square | 15° ಸೆಟ್ ಸ್ಕ್ವೇರ್
B) 45° set square | 45° ಸೆಟ್ ಸ್ಕ್ವೇರ್
C) 30° set square | 30° ಸೆಟ್ ಸ್ಕ್ವೇರ್
D) 60° set square | 60° ಸೆಟ್ ಸ್ಕ್ವೇರ್

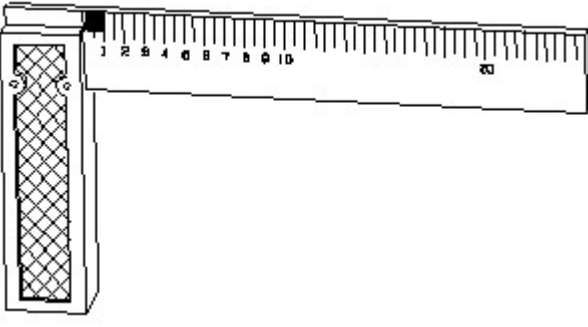
Answer: B) 45° set square | 45° ಸೆಟ್ ಸ್ಕ್ವೇರ್

6. What is the trimmed size of A4 sheet? | A4 ಹಾಳೆಯ ಟ್ರಿಮ್ ಮಾಡಿದ ಗಾತ್ರ ಎಷ್ಟು?

- A) 841 x 1189
B) 148 x 210
C) 210 x 297
D) 594 x 841

Answer: C) 210 x 297

7. 1). Identify the name of tool? | ಉಪಕರಣದ ಹೆಸರನ್ನು ಗುರುತಿಸುವುದೇ?

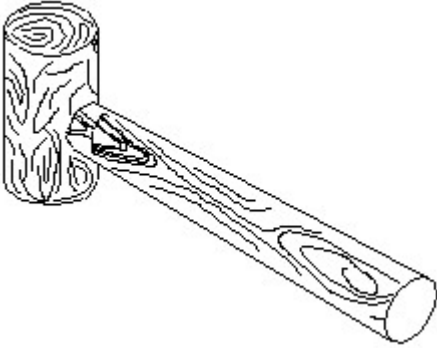


- A) Feeler gauge | ಫೀಲರ್ ಗೇಜ್
 B) Try square | ಟ್ರೈ ಸ್ಕ್ವೇರ್
 C) Surface gauge | ಮೇಲ್ಮೈ ಮಾಪಕ
 D) Steel rule | ಸ್ಟೀಲ್ ರೂಲ್
- Answer: B) Try square | ಟ್ರೈ ಸ್ಕ್ವೇರ್**

8. Which part regulates the heat in automatic iron? | ಆಟೋಮೇಟಿಕ್ ಐರನ್‌ನಲ್ಲಿನ ಶಾಖವನ್ನು ಯಾವ ಭಾಗವು ನಿಯಂತ್ರಿಸುತ್ತದೆ?

- A) Thermostatic switch | ಥರ್ಮೋಸ್ಟಾಟಿಕ್ ಸ್ವಿಚ್
 B) Pressure plate | ಪ್ರೆಶರ್ ಪ್ಲೇಟ್
 C) Asbestos sheet | ಆಸ್ಟೆಬ್ಯಾಸ್ಟ್ ಶೀಟ್
 D) Heating element | ಹೀಟಿಂಗ್ ಎಲಿಮೆಂಟ್
- Answer: A) Thermostatic switch | ಥರ್ಮೋಸ್ಟಾಟಿಕ್ ಸ್ವಿಚ್**

9. Identify the name of tool? | ಉಪಕರಣದ ಹೆಸರನ್ನು ಗುರುತಿಸುವುದೇ?



- A) Straight pein hammer | ಸ್ಟ್ರೇಟ್ ಪೆಯಿನ್ ಸುತ್ತಿಗೆ
 B) Cross pein hammer | ಕ್ರಾಸ್ ಪೀನ್ ಸುತ್ತಿಗೆ
 C) Mallet | ಮ್ಯಾಲೆಟ್
 D) Ball pein hammer | ಬಾಲ್ ಪೆನ್ ಸುತ್ತಿಗೆ
- Answer: C) Mallet | ಮ್ಯಾಲೆಟ್**

10. Voltage less than 250 volt is called _____. | 250 ವೋಲ್ಟ್‌ಗಿಂತ ಕಡಿಮೆ ವೋಲ್ಟೇಜ್ ಅನ್ನು _____ ಎಂದು ಕರೆಯಲಾಗುತ್ತದೆ.

- A) EHT (Extra High Tension) | EHT (ಹೆಚ್ಚುವರಿ ಅಧಿಕ ಒತ್ತಡ)
 B) MT (Medium Tension) | MT (ಮಧ್ಯಮ ಒತ್ತಡ)
 C) HT (High Tension) | HT (ಅಧಿಕ ಒತ್ತಡ)
 D) LT (Low Tension) | LT (ಕಡಿಮೆ ಒತ್ತಡ)
- Answer: D) LT (Low Tension) | LT (ಕಡಿಮೆ ಒತ್ತಡ)**

11. Which materials pipe is used for drainage pipe line? |

ಡ್ರೈನೇಜ್ ಪೈಪ್ ಲೈನ್‌ಗೆ ಯಾವ ವಸ್ತುಗಳ ಪೈಪ್ ಅನ್ನು ಬಳಸಲಾಗುತ್ತದೆ?

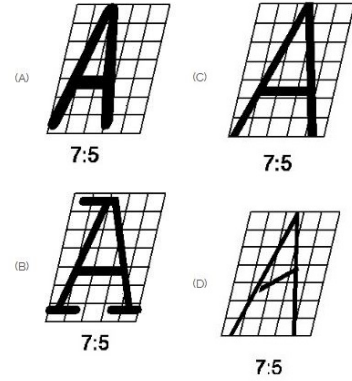
- A) PVC pipe | PVC ಪೈಪ್
 B) Steel pipe | ಉಕ್ಕಿನ ಕೊಳವೆ
 C) G.I. Pipe | ಜಿಐ ಪೈಪ್
 D) Brass Pipe | ಹಿತ್ತಾಳೆ ಪೈಪ್
- Answer: A) PVC pipe | PVC ಪೈಪ್**

12. Identify the given symbol | ನೀಡಿರುವ ಚಿಹ್ನೆಯನ್ನು ಗುರುತಿಸಿ



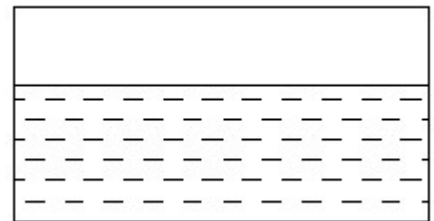
- A) AC
 B) Ohms | ಓಮ್ಸ್
 C) Inductance | ಇಂಡಕ್ಟೆನ್ಸ್
 D) DC
- Answer: A) AC**

13. Which single stroke inclined letter A is correct as per IS standard? | IS ಮಾನದಂಡದ ಪ್ರಕಾರ ಯಾವ ಏಕ ಸ್ಟ್ರೋಕ್ ಇಳಿಜಾರಿನ ಅಕ್ಷರ A ಠಡಿಯಾಗಿದೆ?



- A) C
 B) A
 C) B
 D) D
- Answer: A) C**

14. Identify the conventional symbol of material? | ವಸ್ತುವಿನ ಕನ್ವೆಷನಲ್ ಚಿಹ್ನೆಯನ್ನು ಗುರುತಿಸಿ?



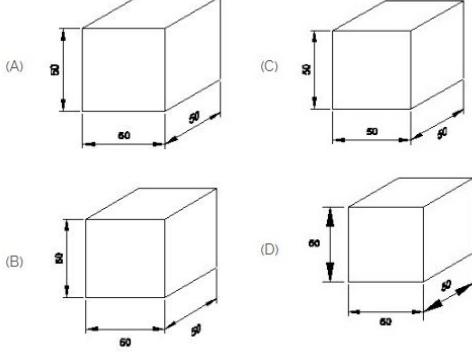
- A) Glass | ಗಾಜು
 B) Concrete | ಕಾಂಕ್ರೀಟ್
 C) Water | ನೀರು
 D) Asbestos | ಆಸ್ಟೆಬ್ಯಾಸ್ಟ್
- Answer: C) Water | ನೀರು**

15. Which one of the following accommodates four pipes in a pipe fitting? | ಕೆಳಗಿನವುಗಳಲ್ಲಿ ಯಾವುದು ಫೈಪ್ ಫಿಟ್ಟಿಂಗ್‌ನಲ್ಲಿ ನಾಲ್ಕು ಪೈಪ್‌ಗಳನ್ನು ಅಳವಡಿಸುತ್ತದೆ?

- A) Union | ಯೂನಿಯನ್ B) Tee | ಟೀ
C) Cross | ಅಡ್ಡ D) Elbow | ಎಲ್ಬೋ

Answer: C) Cross | ಅಡ್ಡ

16. Which drawing dimension is correct as per IS standard? | IS ಮಾನದಂಡದ ಪ್ರಕಾರ ಯಾವ ರೇಖಾಚಿತ್ರದ ಆಯಾಮವು ಸರಿಯಾಗಿದೆ?



- A) B B) C
C) A D) D

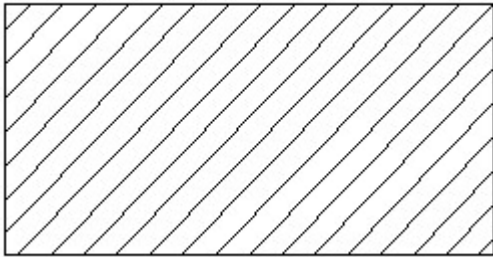
Answer: C) A

17. Riveted joints is a _____ | ರಿವೆಟೆಡ್ ಜಂಟಿಗಳು

- A) semi permanent | ಅರೆ ಶಾಶ್ವತ B) temporary joints | ತಾತ್ಕಾಲಿಕ ಜಂಟಿಗಳು
C) none of these | ಇದ್ದಾವುದೂ ಅಲ್ಲ D) permanent joints | ಶಾಶ್ವತ ಜಂಟಿಗಳು

Answer: A) semi permanent | ಅರೆ ಶಾಶ್ವತ

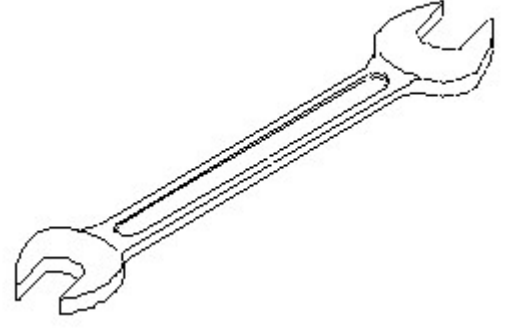
18. Identify the conventional symbol of material? | ವಸ್ತುವಿನ ಕನ್ವೆಷನಲ್ ಚಿಹ್ನೆಯನ್ನು ಗುರುತಿಸಿ?



- A) Porcelain | ಪಿಂಗಾಣಿ B) Lead | ಲೀಡ್
C) Steel | ಸ್ಟೀಲ್ D) Glass | ಗಾಜು

Answer: C) Steel | ಸ್ಟೀಲ್

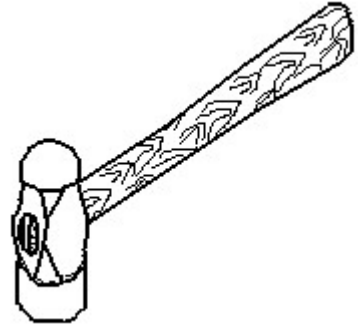
19. Identify the name of tool? | ಉಪಕರಣದ ಹೆಸರನ್ನು ಗುರುತಿಸುವುದೇ?



- A) Ring spanner | ರಿಂಗ್ ಸ್ಪ್ಯಾನರ್ B) Open end spanner | ಓಪನ್ ಎಂಡ್ ಸ್ಪ್ಯಾನರ್
C) Combination spanner | ಕಾಂಬಿನೇಷನ್ ಸ್ಪ್ಯಾನರ್ D) Adjustable spanner | ಹೊಂದಿಸಬಹುದಾದ ಸ್ಪ್ಯಾನರ್

Answer: B) Open end spanner | ಓಪನ್ ಎಂಡ್ ಸ್ಪ್ಯಾನರ್

20. Identify the name of tool? | ಉಪಕರಣದ ಹೆಸರನ್ನು ಗುರುತಿಸುವುದೇ?



- A) Straight peen hammer | ನೇರ ಪೆನ್ ಸುತ್ತಿಗೆ B) Sledge hammer | ಸ್ಲೆಡ್ಜ್ ಸುತ್ತಿಗೆ
C) Ball peen hammer | ಬಾಲ್ ಪೆನ್ ಸುತ್ತಿಗೆ D) Cross peen hammer | ಕ್ರಾಸ್ ಪೀನ್ ಸುತ್ತಿಗೆ

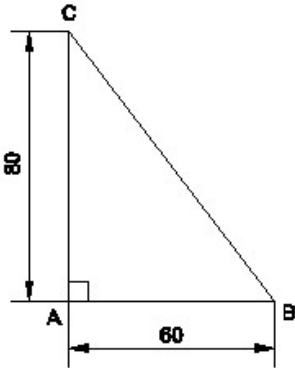
Answer: C) Ball peen hammer | ಬಾಲ್ ಪೆನ್ ಸುತ್ತಿಗೆ

21. Which is the static machine that increase or decrease the AC voltage? | AC ವೋಲ್ಟೇಜ್ ಅನ್ನು ಹೆಚ್ಚಿಸುವ ಅಥವಾ ಕಡಿಮೆ ಮಾಡುವ ಸ್ಟಾಟಿಕ್ ಯಂತ್ರ ಯಾವುದು?

- A) Generator | ಜನರೇಟರ್ B) Transformer | ಟ್ರಾನ್ಸ್‌ಫಾರ್ಮರ್
C) Alternator | ಆಲ್ಟರ್ನೇಟರ್ D) Induction motor | ಇಂಡಕ್ಷನ್ ಮೋಟಾರ್

Answer: B) Transformer | ಟ್ರಾನ್ಸ್‌ಫಾರ್ಮರ್

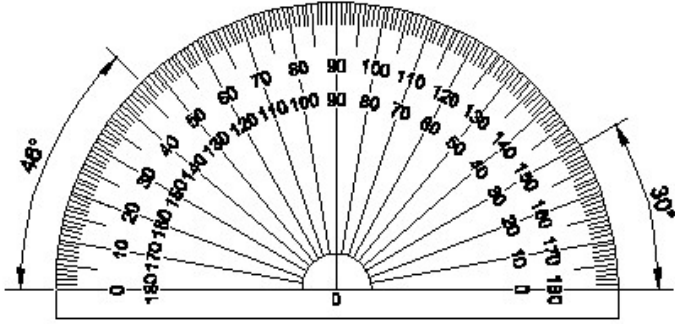
22. Identify the name of the triangle? | ತ್ರಿಕೋನದ ಹೆಸರನ್ನು ಗುರುತಿಸುವುದೇ?



- A) Isosceles triangle | ಸಮದ್ವಿಬಾಹು ತ್ರಿಕೋನ
 B) Equilateral triangle | ಸಮಕೋನ ತ್ರಿಕೋನ
 C) Right angle triangle | ಬಲ ಕೋನ ತ್ರಿಕೋನ
 D) Scalene triangle | ಸ್ಕೇಲಿನ್ ತ್ರಿಕೋನ

Answer: C) Right angle triangle | ಬಲ ಕೋನ ತ್ರಿಕೋನ

23. Identify the name of instrument? | ಉಪಕರಣದ ಹೆಸರನ್ನು ಗುರುತಿಸುವುದೇ?



- A) Protractor | ಪ್ರೊಟ್ರಾಕ್ಟರ್
 B) French curve | ಫ್ರೆಂಚ್ ಕರ್ವ್
 C) Set square | ಸೆಟ್ ಸ್ಕ್ವೇರ್
 D) T square | ಟಿ ಸ್ಕ್ವೇರ್

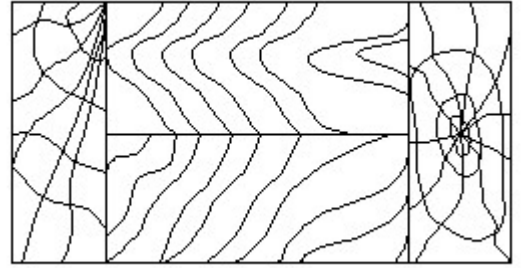
Answer: A) Protractor | ಪ್ರೊಟ್ರಾಕ್ಟರ್

24. This type of section is limited by a break line____ | ಈ ರೀತಿಯ ವಿಭಾಗವು ಬ್ರೇಕ್ ಲೈನ್ _____ ಮೂಲಕ ಸೀಮಿತವಾಗಿದೆ

- A) revolved section. | ಸುತ್ತುವ ವಿಭಾಗ.
 B) half section | ಅರ್ಧ ವಿಭಾಗ
 C) removed section | ತೆಗೆದುಹಾಕಲಾದ ವಿಭಾಗ
 D) broken-out section | ಮುರಿದ ವಿಭಾಗ

Answer: D) broken-out section | ಮುರಿದ ವಿಭಾಗ

25. Identify the conventional symbol of material? | ವಸ್ತುವಿನ ಕನ್ವೆಷನಲ್ ಚಿಹ್ನೆಯನ್ನು ಗುರುತಿಸಿ?



- A) Lead | ಲೀಡ್
 B) Wood | ಮರ
 C) Glass | ಗಾಜು
 D) Paper | ಪೇಪರ್

Answer: B) Wood | ಮರ