

April 2026

GOVT ITI PERDOOR

Question Paper

Duration: 30 Mins

Total Marks: 24

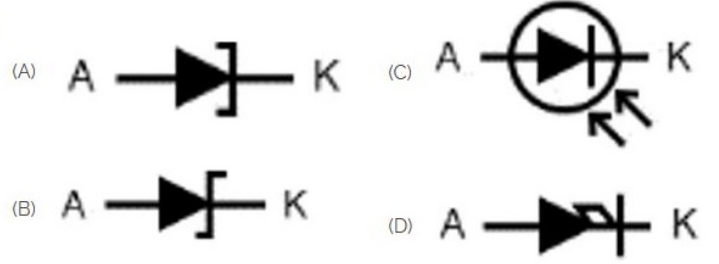
ID: ITISKILL3505BK

Student Name: _____

Roll No: _____

1. Which part regulates the heat in automatic iron? |
ಆಟೋಮೇಟಿಕ್ ಐರನ್‌ನಲ್ಲಿನ ಶಾಖವನ್ನು ಯಾವ ಭಾಗವು ನಿಯಂತ್ರಿಸುತ್ತದೆ?

- A) Thermostatic switch | ಥರ್ಮೋಸ್ಟಾಟಿಕ್ ಸ್ವಿಚ್
B) Pressure plate | ಪ್ರೆಶರ್ ಪ್ಲೇಟ್
C) Asbestos sheet | ಆಸ್ಟೆಬ್ಯಾಸ್ಟೋಸ್ ಷೀಟ್
D) Heating element | ಹೀಟಿಂಗ್ ಎಲಿಮೆಂಟ್



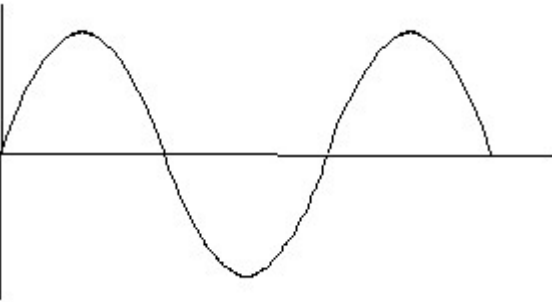
2. What is the name of the gate | ಗೇಟ್ ಹೆಸರೇನು?



- A) AND Gate | AND ಗೇಟ್
B) Ex-NOR Gate | Ex-NOR ಗೇಟ್
C) NOT Gate | NOT ಗೇಟ್
D) OR Gate | OR ಗೇಟ್

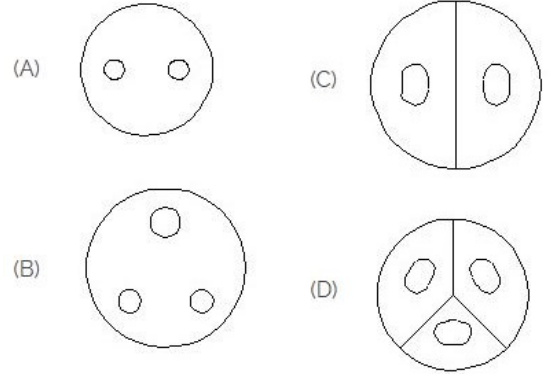
- A) C
B) B
C) A
D) D

3. Identify the wave form. | ವೇವ್ ಫಾರ್ಮ್ ವನ್ನು ಗುರುತಿಸಿ.



- A) Sine wave | ಸೈನ್ ವೇವ್
B) Triangle wave | ತ್ರಿಕೋನ ವೇವ್
C) Saw-tooth wave | ಸಾ-ಟೂತ್ ವೇವ್
D) Square wave | ಸ್ಕ್ವೇರ್ ವೇವ್


5. Identify the 3 pin socket. | 3 ಪಿನ್ ಸಾಕೆಟ್ ಅನ್ನು ಗುರುತಿಸಿ.



- A) C
B) A
C) B
D) D


4. Which is photo diode? | ಫೋಟೋ ಡಯೋಡ್ ಯಾವುದು?

6. Which is ball peen hammer? | ಬಾಲ್ ಪೀನ್ ಸುತ್ತಿಗೆ ಯಾವುದು?



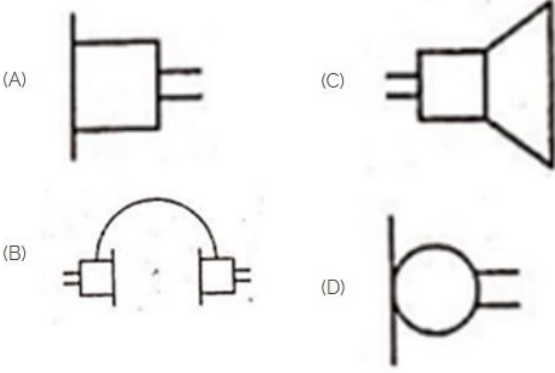
- A) B
B) D
C) A
D) C

7. Choose the symbol for main fuse board without switches (P). | ಸಿಬ್ಬೆಗಳು (ಪಿ) ಇಲ್ಲದೆ ಮುಖ್ಯ ಫ್ಯೂಸ್ ಬೋರ್ಡ್‌ಗಾಗಿ ಚಿಹ್ನೆಯನ್ನು ಆರಿಸಿ.



- A) D
B) C
C) B
D) A

8. Identify the symbol used for microphone (general) in electrical and electronic circuits. | ಎಲೆಕ್ಟ್ರಿಕಲ್ ಮತ್ತು ಎಲೆಕ್ಟ್ರಾನಿಕ್ ಸರ್ಕ್ಯೂಟ್‌ಗಳಲ್ಲಿ ಮೈಕ್ರೋಫೋನ್ (ಸಾಮಾನ್ಯ) ಗಾಗಿ ಬಳಸುವ ಚಿಹ್ನೆಯನ್ನು ಗುರುತಿಸಿ.

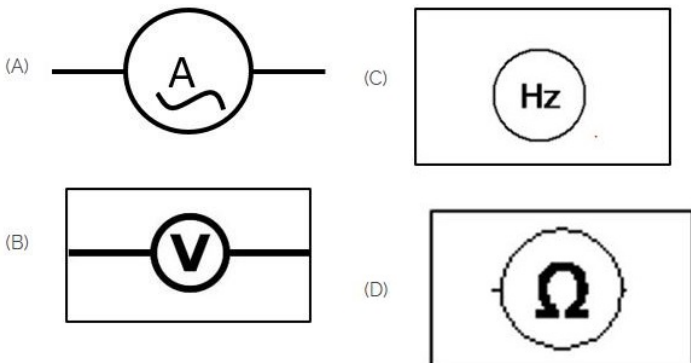


- A) D
B) A
C) B
D) C

9. Which device is used to start and stop a motor? | ಮೋಟಾರ್ ಅನ್ನು ಪ್ರಾರಂಭಿಸಲು ಮತ್ತು ನಿಲ್ಲಿಸಲು ಯಾವ ಸಾಧನವನ್ನು ಬಳಸಲಾಗುತ್ತದೆ?

- A) Stator | ಸ್ಟೇಟರ್
B) Rotor | ರೋಟರ್
C) Slip ring | ಸ್ಲಿಪ್ ರಿಂಗ್
D) Starter | ಸ್ಟಾರ್ಟರ್

10. Which of the following is AC ammeter? | ಈ ಕೆಳಗಿನವುಗಳಲ್ಲಿ ಯಾವುದು AC ಅಮ್ಮೀಟರ್ ಆಗಿದೆ?



- A) D
B) B
C) C
D) A

11. Which is the single pole MCB? | ಸಿಂಗಲ್ ಪೋಲ್ MCB ಯಾವುದು?




- A) A
B) B
C) C
D) D

12. Identify the given symbol | ನೀಡಿರುವ ಚಿಹ್ನೆಯನ್ನು ಗುರುತಿಸಿ



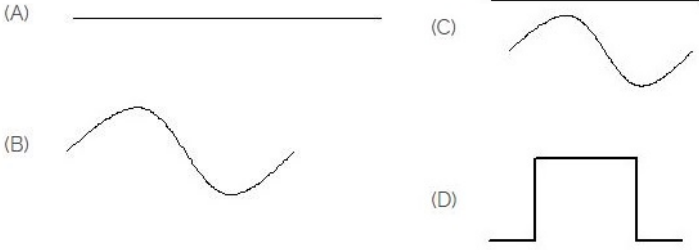
- A) DC
B) Ohms | ಓಮ್ಸ್
C) AC
D) Inductance | ಇಂಡಕ್ಟೆನ್ಸ್

13. Identify the switch in the given picture. | ನೀಡಿರುವ ಚಿತ್ರದಲ್ಲಿ ಸ್ವಿಚ್ ಅನ್ನು ಗುರುತಿಸಿ.



- A) Intermediate Switch | ಮಧ್ಯಂತರ ಸ್ವಿಚ್
B) Flux type switch | ಫ್ಲಕ್ಸ್ ಪ್ರಕಾರದ ಸ್ವಿಚ್
C) Tumbler Switch | ಟಂಬ್ಲರ್ ಸ್ವಿಚ್
D) Toggle Switch | ಟಾಗ್ಗಲ್ ಸ್ವಿಚ್

14. Identify the symbol for direct and alternating current. | ನೇರ ಮತ್ತು ಪರ್ಯಾಯ ಪ್ರವಾಹದ ಚಿಹ್ನೆಯನ್ನು ಗುರುತಿಸಿ.

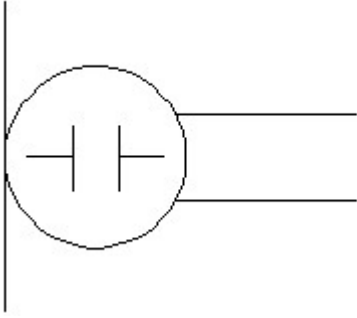


- A) C
B) B
C) D
D) A

15. What is the material of line insulator? | ಲೈನ್ ಇನ್ಸುಲೇಟರ್‌ನ ಮೇಟೀರಿಯಲ್ ಯಾವುದು?

- A) Copper | ತಾಮ್ರ
B) Porcelain clay | ಪಿಂಗಾಣಿ ಮಣ್ಣಿನ
C) Rubber | ರಬ್ಬರ್
D) Aluminium | ಅಲ್ಯೂಮಿನಿಯಂ

16. What is the name of the symbol? | ಚಿಹ್ನೆಯ ಹೆಸರೇನು?



- A) Loud speaker | ಲೌಡ್ ಸ್ಪೀಕರ್
B) Microphone | ಮೈಕ್ರೋಫೋನ್
C) Dynamic microphone | ಡೈನಾಮಿಕ್ ಮೈಕ್ರೋಫೋನ್
D) Condenser microphone | ಕಂಡೆನ್ಸರ್ ಮೈಕ್ರೋಫೋನ್

17. Which is the static machine that increase or decrease the AC voltage? | AC ವೋಲ್ಟೇಜ್ ಅನ್ನು ಹೆಚ್ಚಿಸುವ ಅಥವಾ ಕಡಿಮೆ ಮಾಡುವ ಸ್ಟಾಟಿಕ್ ಯಂತ್ರ ಯಾವುದು?

- A) Generator | ಜನರೇಟರ್
B) Induction motor | ಇಂಡಕ್ಷನ್ ಮೋಟಾರ್
C) Transformer | ಟ್ರಾನ್ಸ್‌ಫಾರ್ಮರ್
D) Alternator | ಆಲ್ಟರ್ನೇಟರ್

18. Which is protective device? | ರಕ್ಷಣಾತ್ಮಕ ಸಾಧನ ಯಾವುದು?

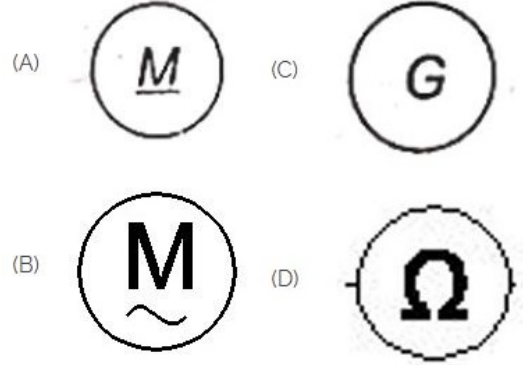
- A) Capacitor | ಕೆಪಾಸಿಟರ್
B) Magnet | ಮ್ಯಾಗ್ನೆಟ್
C) Fuse | ಫ್ಯೂಸ್
D) Resistor | ರೆಸಿಸ್ಟರ್

19. Voltage less than 250 volt is called _____. | 250 ವೋಲ್ಟ್‌ಗಿಂತ ಕಡಿಮೆ ವೋಲ್ಟೇಜ್ ಅನ್ನು _____ ಎಂದು ಕರೆಯಲಾಗುತ್ತದೆ.

- A) LT (Low Tension) | LT (ಕಡಿಮೆ ಒತ್ತಡ)
B) HT (High Tension) | HT (ಅಧಿಕ ಒತ್ತಡ)

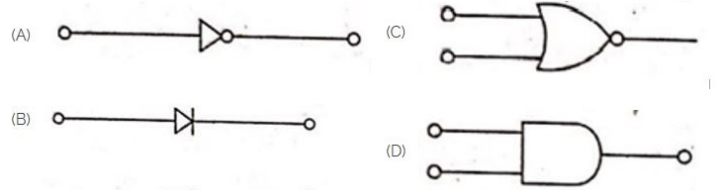
C) EHT (Extra High Tension) | D) MT (Medium Tension) | EHT (ಹೆಚ್ಚುವರಿ ಅಧಿಕ ಒತ್ತಡ) | MT (ಮಧ್ಯಮ ಒತ್ತಡ)

20. Which is a symbol of DC motor? | DC ಮೋಟಾರ್‌ನ ಸಂಕೇತ ಯಾವುದು?



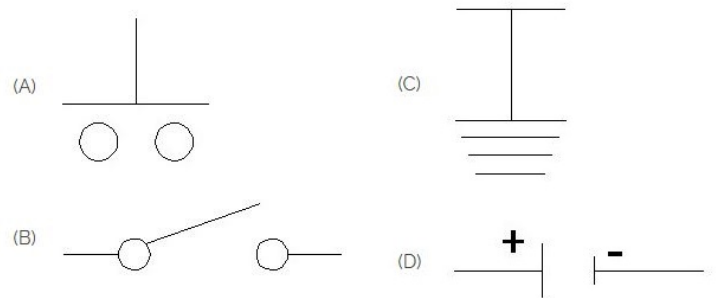
- A) B
B) A
C) D
D) C

21. Which is the NOT gate in the following picture? | ಕೆಳಗಿನ ಚಿತ್ರದಲ್ಲಿ NOT ಗೇಟ್ ಯಾವುದು?



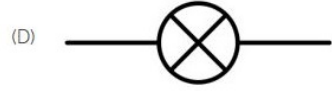
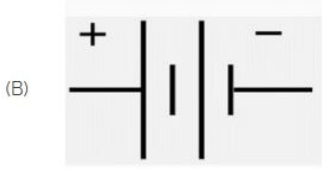
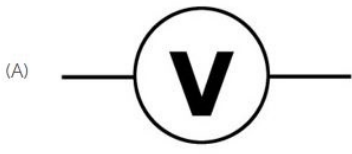
- A) A
B) D
C) B
D) C

22. Which is the symbol of earth? | ಭೂಮಿಯ ಸಂಕೇತ ಯಾವುದು?



- A) A
B) B
C) D
D) C

23. Identify the symbol of battery. | ಬ್ಯಾಟರಿಯ ಚಿಹ್ನೆಯನ್ನು ಗುರುತಿಸಿ.



- A) A
C) C

- B) D
D) B

24. Which is nose pliers? | ನೋಸ್ ಪ್ಲಿಯರ್ ಯಾವುದು?



- A) A
C) D

- B) B
D) C