

Duration: 30 Mins

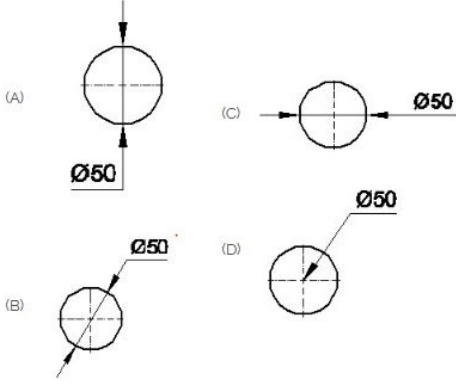
Total Marks: 25

ID: ITISKILL2903P8

Student Name: _____

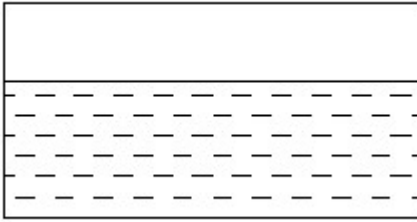
Roll No: _____

1. Which dimension correctly marked in the circle as per standard? | ಮಾನದಂಡದ ಪ್ರಕಾರ ವೃತ್ತದಲ್ಲಿ ಯಾವ ಆಯಾಮವನ್ನು ಸರಿಯಾಗಿ ಗುರುತಿಸಲಾಗಿದೆ?



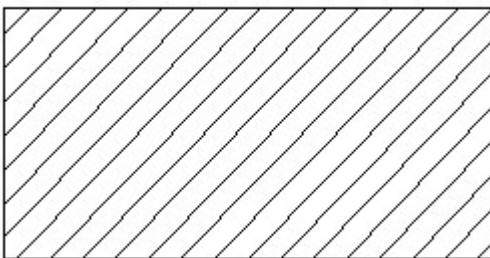
- A) A
B) B
C) D
D) C

2. Identify the conventional symbol of material? | ವಸ್ತುವಿನ ಕನ್ವೆಷನಲ್ ಚಿಹ್ನೆಯನ್ನು ಗುರುತಿಸಿ?



- A) Concrete | ಕಾಂಕ್ರೀಟ್
B) Water | ನೀರು
C) Asbestos | ಆಸ್ಟೆಸ್ಟೋಸ್
D) Glass | ಗಾಜು

3. Identify the conventional symbol of material? | ವಸ್ತುವಿನ ಕನ್ವೆಷನಲ್ ಚಿಹ್ನೆಯನ್ನು ಗುರುತಿಸಿ?

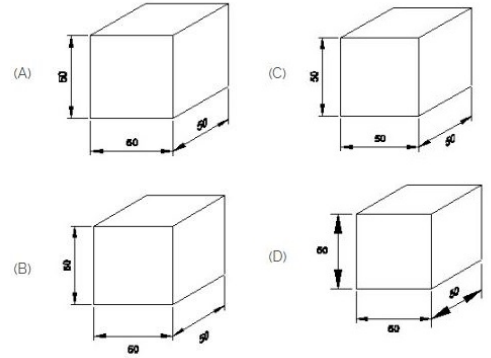


- A) Porcelain | ಪಿಂಗಾಣಿ
B) Steel | ಸ್ಟೀಲ್

C) Glass | ಗಾಜು

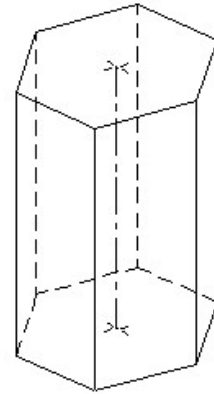
D) Lead | ಲೀಡ್

4. Which drawing dimension is correct as per IS standard? | IS ಮಾನದಂಡದ ಪ್ರಕಾರ ಯಾವ ರೇಖಾಚಿತ್ರದ ಆಯಾಮವು ಸರಿಯಾಗಿದೆ?



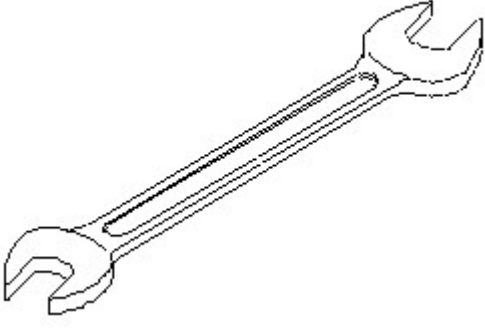
- A) D
B) B
C) A
D) C

5. Identify the name of prism? | ಪ್ರಿಸ್ಮ್ ಹೆಸರನ್ನು ಗುರುತಿಸುವುದೇ?



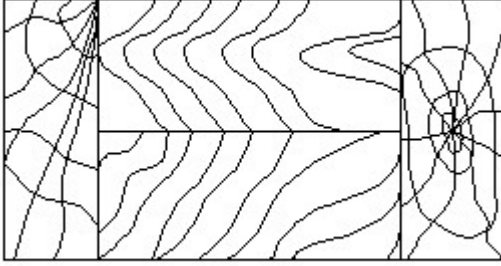
- A) Triangular prism | ತ್ರಿಕೋನ ಪ್ರಿಸ್ಮ್
B) Hexagonal prism | ಷಡ್ಭುಜೀಯ ಪ್ರಿಸ್ಮ್
C) Pentagonal prism | ಪೆಂಟಾಗೋನಲ್ ಪ್ರಿಸ್ಮ್
D) Square prism | ಚದರ ಪ್ರಿಸ್ಮ್

6. Identify the name of tool? | ಉಪಕರಣದ ಹೆಸರನ್ನು ಗುರುತಿಸುವುದೇ?



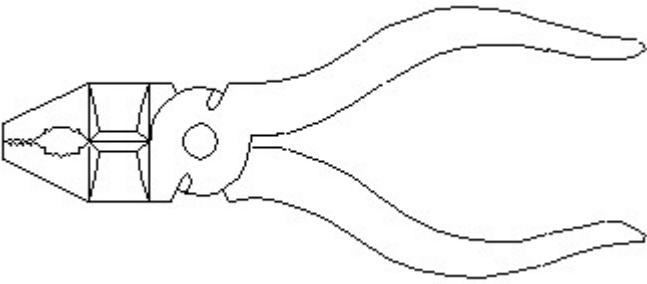
- A) Adjustable spanner | ಹೊಂದಿಸಬಹುದಾದ ಸ್ಪ್ಯಾನರ್
 B) Ring spanner | ರಿಂಗ್ ಸ್ಪ್ಯಾನರ್
 C) Combination spanner | ಕಾಂಬಿನೇಶನ್ ಸ್ಪ್ಯಾನರ್
 D) Open end spanner | ಓಪನ್ ಎಂಡ್ ಸ್ಪ್ಯಾನರ್

7. Identify the conventional symbol of material? | ವಸ್ತುವಿನ ಕನ್ವೆಷನಲ್ ಚಿಹ್ನೆಯನ್ನು ಗುರುತಿಸಿ?



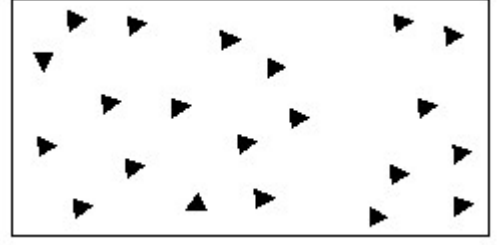
- A) Paper | ಪೇಪರ್
 B) Wood | ಮರ
 C) Glass | ಗಾಜು
 D) Lead | ಲೀಡ್

8. Identify the name of tool? | ಉಪಕರಣದ ಹೆಸರನ್ನು ಗುರುತಿಸುವುದೇ?



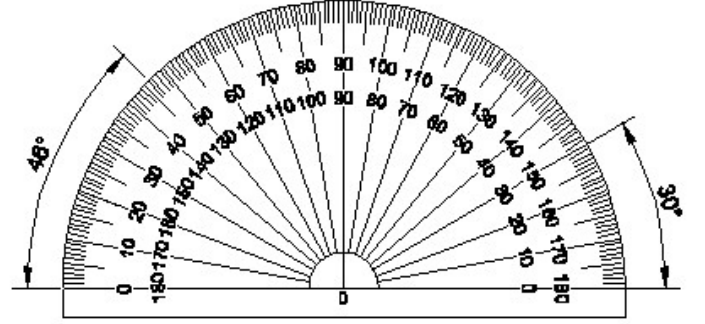
- A) Aviation shear | ಏವಿಯೇಷನ್ ಸಿಯರ್
 B) Cutting plier | ಕಟಿಂಗ್ ಪ್ಲಿಯರ್
 C) Hawk-billed shear | ಹಾಕ್-ಬಿಲ್ಡ್ ಸಿಯರ್
 D) Double cutting shear | ಡಬಲ್ ಕಟಿಂಗ್ ಸಿಯರ್

9. Identify the conventional symbol of material? | ವಸ್ತುವಿನ ಕನ್ವೆಷನಲ್ ಚಿಹ್ನೆಯನ್ನು ಗುರುತಿಸಿ?



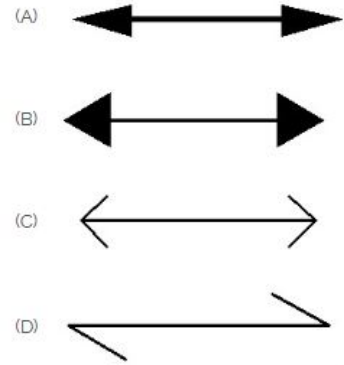
- A) Concrete | ಕಾಂಕ್ರೀಟ್
 B) Wood | ಮರ
 C) Glass | ಗಾಜು
 D) Steel | ಸ್ಟೀಲ್

10. Identify the name of instrument? | ಉಪಕರಣದ ಹೆಸರನ್ನು ಗುರುತಿಸುವುದೇ?



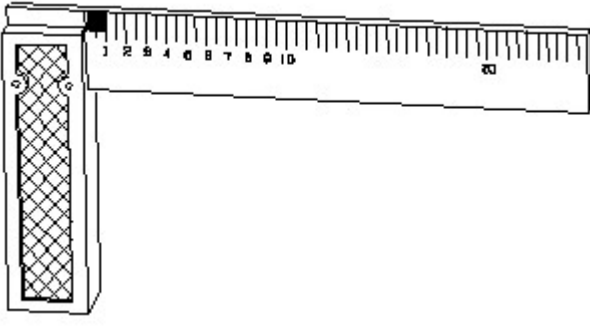
- A) T square | ಸ್ಕ್ವೇರ್
 B) Set square | ಸೆಟ್ ಸ್ಕ್ವೇರ್
 C) French curve | ಫ್ರೆಂಚ್ ಕರ್ವ್
 D) Protractor | ಪ್ರೊಟ್ರಾಕ್ಟರ್

11. Which arrow head is correct as per standard? | ಮಾನದಂಡದ ಪ್ರಕಾರ ಯಾವ ಬಾಣದ ಹೆಡ್ ಸರಿಯಾಗಿದೆ?



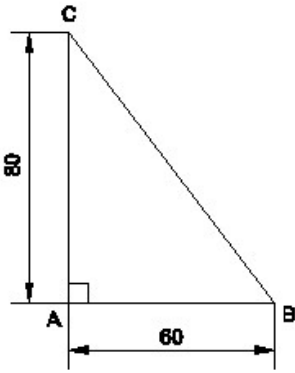
- A) B
 B) A
 C) C
 D) D

12. 1). Identify the name of tool? | ಉಪಕರಣದ ಹೆಸರನ್ನು ಗುರುತಿಸುವುದೇ?



- A) Try square | ಟ್ರೈ ಸ್ಕ್ವೇರ್
B) Surface gauge | ಮೇಲ್ಮೈ ಮಾಪಕ
C) Feeler gauge | ಫೀಲರ್ ಗೇಜ್
D) Steel rule | ಸ್ಟೀಲ್ ರೂಲ್

13. Identify the name of the triangle? | ತ್ರಿಕೋನದ ಹೆಸರನ್ನು ಗುರುತಿಸುವುದೇ?

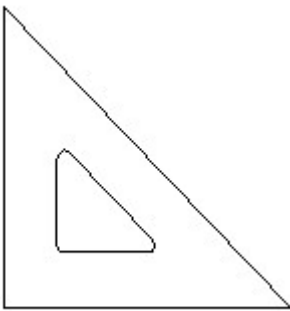


- A) Equilateral triangle | ಸಮಕೋನ ತ್ರಿಕೋನ
B) Scalene triangle | ಸ್ಕೇಲಿನ್ ತ್ರಿಕೋನ
C) Right angle triangle | ಬಲ ಕೋನ ತ್ರಿಕೋನ
D) Isosceles triangle | ಸಮದ್ವಿಬಾಹು ತ್ರಿಕೋನ

14. Compass used to draw for _____. | ಕಂಪಾಸ್ ಅನ್ನು _____ ಗೆ ಸೆಳೆಯಲು ಬಳಸಲಾಗುತ್ತದೆ.

- A) circle | ವೃತ್ತ
B) rectangle | ಆಯಾತ
C) triangle | ತ್ರಿಕೋನ
D) square | ಚದರ

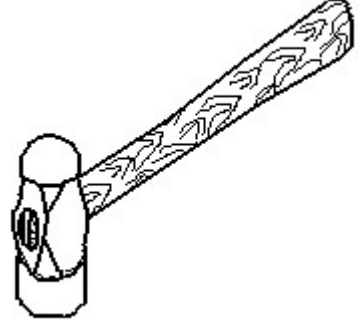
15. Identify the name of set square? | ಸೆಟ್ ಚೌಕದ ಹೆಸರನ್ನು ಗುರುತಿಸುವುದೇ?



- A) 15° set square | 15° ಸೆಟ್ ಸ್ಕ್ವೇರ್
B) 60° set square | 60° ಸೆಟ್ ಸ್ಕ್ವೇರ್

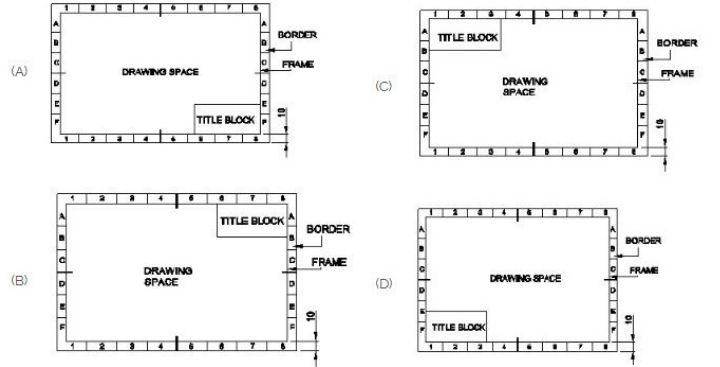
- C) 45° set square | 45° ಸೆಟ್ ಸ್ಕ್ವೇರ್
D) 30° set square | 30° ಸೆಟ್ ಸ್ಕ್ವೇರ್

16. Identify the name of tool? | ಉಪಕರಣದ ಹೆಸರನ್ನು ಗುರುತಿಸುವುದೇ?



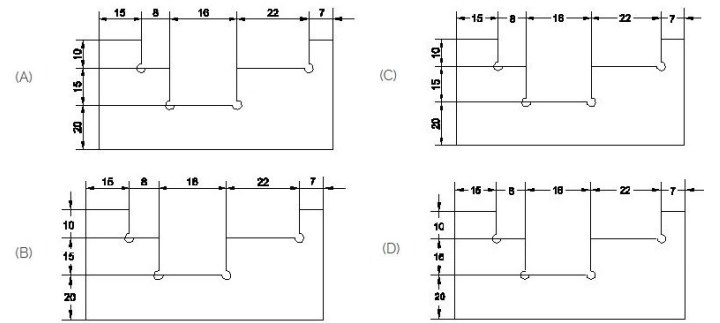
- A) Straight pein hammer | ನೇರ ಪೆನ್ ಸುತ್ತಿಗೆ
B) Cross pein hammer | ಕ್ರಾಸ್ ಪೀನ್ ಸುತ್ತಿಗೆ
C) Ball pein hammer | ಬಾಲ್ ಪೆನ್ ಸುತ್ತಿಗೆ
D) Sledge hammer | ಸ್ಲೆಡ್ಜ್ ಸುತ್ತಿಗೆ

17. Which title block position is correct as standard practice? | ಪ್ರಮಾಣಿತ ಅಭ್ಯಾಸದಂತೆ ಯಾವ ಶೀರ್ಷಿಕೆ ಬ್ಲಾಕ್ ಸ್ಥಾನವು ಸರಿಯಾಗಿದೆ?



- A) D
B) B
C) A
D) C

18. Identify the correct aligned system dimension? | ಸರಿಯಾದ ಜೋಡಿಸಲಾದ ಸಿಸ್ಟಮ್ ಆಯಾಮವನ್ನು ಗುರುತಿಸುವುದೇ?



- A) A
B) B
C) D
D) C

19. What is the trimmed size of A4 sheet? | A4 ಹಾಳೆಯು ಟ್ರಿಮ್

ಮಾಡಿದ ಗಾತ್ರ ಎಷ್ಟು?

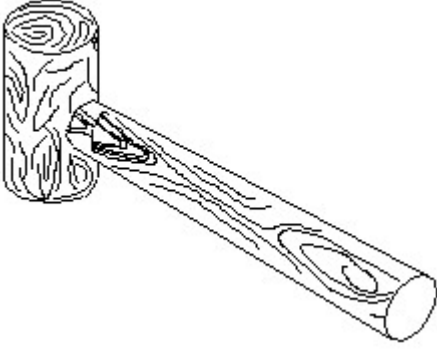
A) 148 x 210

B) 594 x 841

C) 841 x 1189

D) 210 x 297

20. Identify the name of tool? | ಉಪಕರಣದ ಹೆಸರನ್ನು ಗುರುತಿಸುವುದೇ?



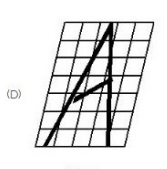
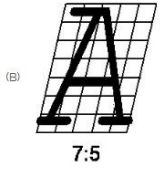
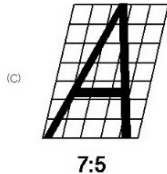
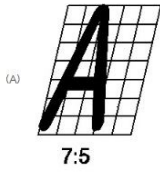
A) Straight peen hammer | ಸ್ಟ್ರೈಟ್ ಪೆನಿನ್ ಸುತ್ತಿಗೆ

B) Mallet | ಮ್ಯಾಲೆಟ್

C) Cross peen hammer | ಕ್ರಾಸ್ ಪೀನ್ ಸುತ್ತಿಗೆ

D) Ball peen hammer | ಬಾಲ್ ಪೆನ್ ಸುತ್ತಿಗೆ

21. Which single stroke inclined letter A is correct as per IS standard? | IS ಮಾನದಂಡದ ಪ್ರಕಾರ ಯಾವ ಏಕ ಸ್ಟ್ರೋಕ್ ಇಳಿಜಾರಿನ ಅಕ್ಷರ A ಠರಿಯಾಗಿದೆ?



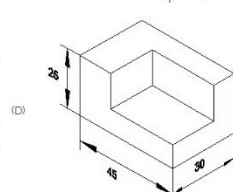
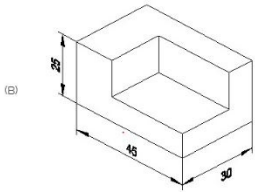
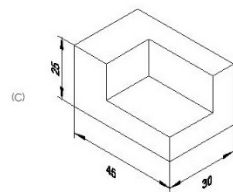
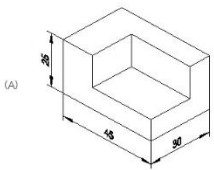
A) C

B) D

C) B

D) A

22. Which drawing dimension is correct as per standard drawing practice? | ಸ್ಟಾಂಡರ್ಡ್ ಡ್ರಾಯಿಂಗ್ ಅಭ್ಯಾಸದ ಪ್ರಕಾರ ಯಾವ ಡ್ರಾಯಿಂಗ್ ಆಯಾಮ ಸರಿಯಾಗಿದೆ?



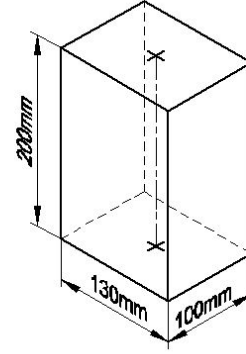
A) D

B) C

C) B

D) A

23. Identify the name of prism? | ತ್ರಿಸ್ತಂಭ ಹೆಸರನ್ನು ಗುರುತಿಸುವುದೇ?



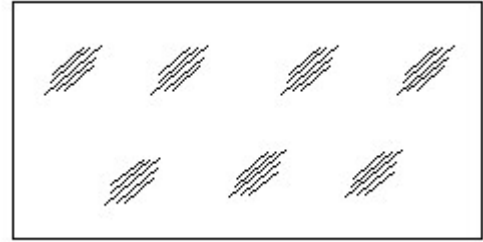
A) Rectangle prism | ಆಯತ ತ್ರಿಸ್ತಂಭ

B) Square prism | ಚದರ ತ್ರಿಸ್ತಂಭ

C) Hexagonal prism | ಷಡ್ಭುಜೀಯ ತ್ರಿಸ್ತಂಭ

D) Triangular prism | ತ್ರಿಕೋನ ತ್ರಿಸ್ತಂಭ

24. Identify the conventional symbol of material? | ವಸ್ತುವಿನ ಕನ್ವೆಷನಲ್ ಚಿಹ್ನೆಯನ್ನು ಗುರುತಿಸಿ?



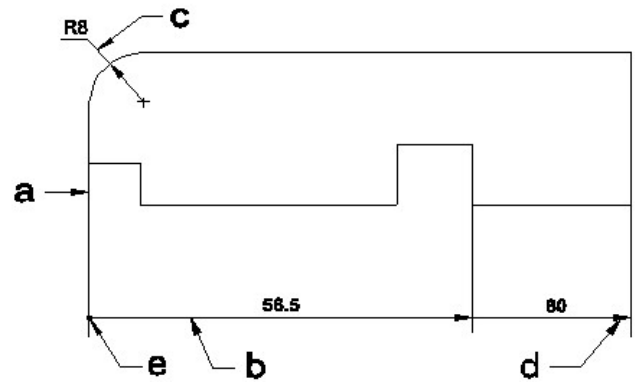
A) Concrete | ಕಾಂಕ್ರೀಟ್

B) Wood | ಮರ

C) Glass | ಗಾಜು

D) Steel | ಸ್ಟೀಲ್

25. Identify the line a-b? | ಾಲಿನ್ನು ಗುರುತಿಸುವುದೇ?



A) Termination of dimension line | ಆಯಾಮ ರೇಖೆಯ ಮುಕ್ತಾಯ

B) Leader line | ಲೀಡರ್ ಲೈನ್

C) Extension line | ಎಕ್ಸ್ಟೆನ್ಷನ್ ಲೈನ್

D) Dimension line | ಡೈಮೆನ್ಷನ್ ಲೈನ್