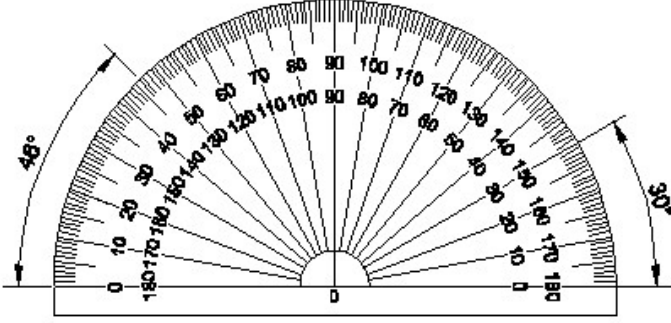


Duration: 30 Mins

Total Marks: 25

Q.ID: ITISKILL2903P8

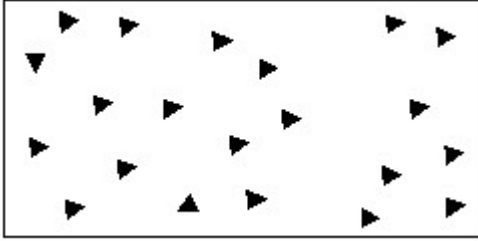
1. Identify the name of instrument? | ಉಪಕರಣದ ಹೆಸರನ್ನು ಗುರುತಿಸುವುದೇ?



- A) T square | ಟಿ ಸ್ಕ್ವೇರ್ B) French curve | ಫ್ರೆಂಚ್ ಕರ್ವ್
C) Set square | ಸೆಟ್ ಸ್ಕ್ವೇರ್ D) Protractor | ಪ್ರೊಟ್ರಾಕ್ಟರ್

Answer: D) Protractor | ಪ್ರೊಟ್ರಾಕ್ಟರ್

2. Identify the conventional symbol of material? | ವಸ್ತುವಿನ ಕನ್ವೆಷನಲ್ ಚಿಹ್ನೆಯನ್ನು ಗುರುತಿಸಿ?



- A) Concrete | ಕಾಂಕ್ರೀಟ್ B) Wood | ಮರ
C) Glass | ಗಾಜು D) Steel | ಸ್ಟೀಲ್

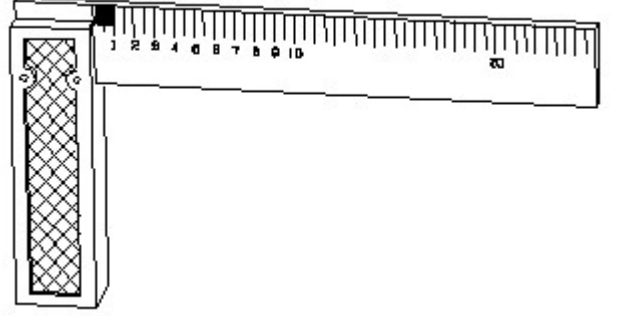
Answer: A) Concrete | ಕಾಂಕ್ರೀಟ್

3. Compass used to draw for ____. | ಕಂಪಾಸ್ ಅನ್ನು _____ ಗೆ ಸೆಳೆಯಲು ಬಳಸಲಾಗುತ್ತದೆ.

- A) square | ಚದರ B) triangle | ತ್ರಿಕೋನ
C) rectangle | ಆಯಾತ D) circle | ವೃತ್ತ

Answer: D) circle | ವೃತ್ತ

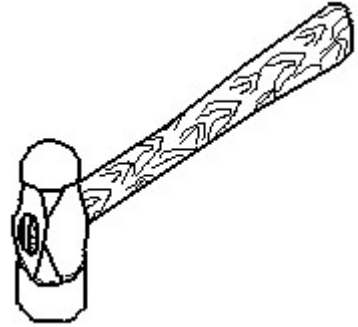
4. 1). Identify the name of tool? | ಉಪಕರಣದ ಹೆಸರನ್ನು ಗುರುತಿಸುವುದೇ?



- A) Steel rule | ಸ್ಟೀಲ್ ರೂಲ್ B) Try square | ಟ್ರೈ ಸ್ಕ್ವೇರ್
C) Surface gauge | ಮೇಲ್ಮೈ ಮಾಪಕ D) Feeler gauge | ಫೀಲರ್ ಗೇಜ್

Answer: B) Try square | ಟ್ರೈ ಸ್ಕ್ವೇರ್

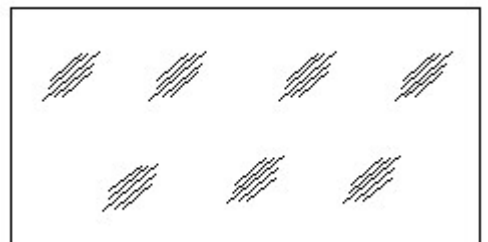
5. Identify the name of tool? | ಉಪಕರಣದ ಹೆಸರನ್ನು ಗುರುತಿಸುವುದೇ?



- A) Cross peen hammer | ಕ್ರಾಸ್ ಪೀನ್ ಸುತ್ತಿಗೆ B) Straight peen hammer | ನೇರ ಪೀನ್ ಸುತ್ತಿಗೆ
C) Ball peen hammer | ಬಾಲ್ ಪೀನ್ ಸುತ್ತಿಗೆ D) Sledge hammer | ಸ್ಲೆಡ್ಜ್ ಸುತ್ತಿಗೆ

Answer: C) Ball peen hammer | ಬಾಲ್ ಪೀನ್ ಸುತ್ತಿಗೆ

6. Identify the conventional symbol of material? | ವಸ್ತುವಿನ ಕನ್ವೆಷನಲ್ ಚಿಹ್ನೆಯನ್ನು ಗುರುತಿಸಿ?

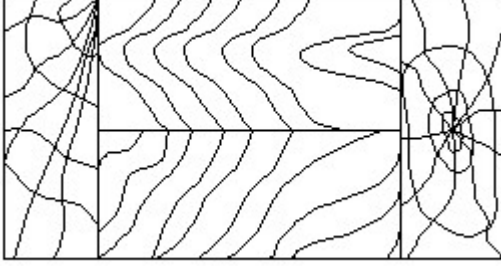


- A) Concrete | ಕಾಂಕ್ರೀಟ್ B) Wood | ಮರ

- A) D
C) C
B) B
D) A

Answer: D) A

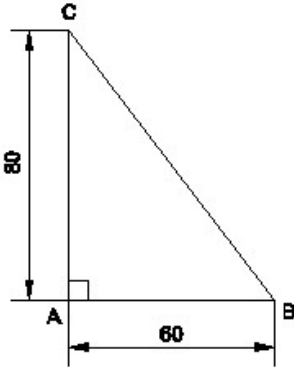
13. Identify the conventional symbol of material? | ವಸ್ತುವಿನ ಕನ್ವೆಷನಲ್ ಚಿಹ್ನೆಯನ್ನು ಗುರುತಿಸಿ?



- A) Wood | ಮರ
C) Glass | ಗಾಜು
B) Lead | ಲೀಡ್
D) Paper | ಪೇಪರ್

Answer: A) Wood | ಮರ

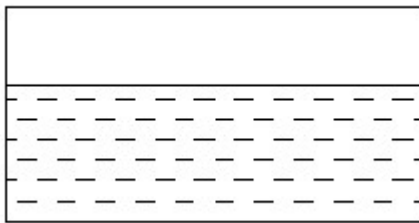
14. Identify the name of the triangle? | ತ್ರಿಕೋನದ ಹೆಸರನ್ನು ಗುರುತಿಸುವುದೇ?



- A) Isosceles triangle | ಸಮದ್ವಿಬಾಹು ತ್ರಿಕೋನ
C) Scalene triangle | ಸ್ಕೇಲಿನ್ ತ್ರಿಕೋನ
B) Equilateral triangle | ಸಮಕೋನ ತ್ರಿಕೋನ
D) Right angle triangle | ಬಲ ಕೋನ ತ್ರಿಕೋನ

Answer: D) Right angle triangle | ಬಲ ಕೋನ ತ್ರಿಕೋನ

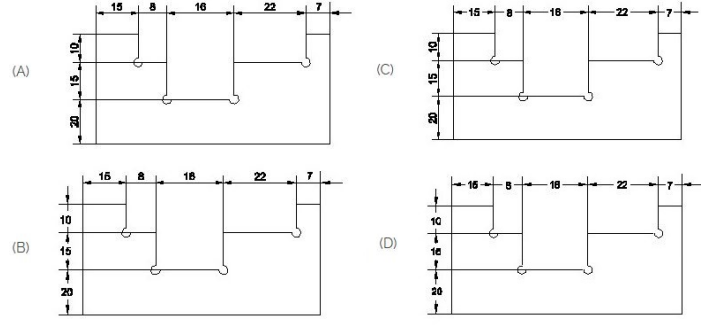
15. Identify the conventional symbol of material? | ವಸ್ತುವಿನ ಕನ್ವೆಷನಲ್ ಚಿಹ್ನೆಯನ್ನು ಗುರುತಿಸಿ?



- A) Asbestos | ಆಸ್ಬೆಸ್ಟೋಸ್
C) Concrete | ಕಾಂಕ್ರೀಟ್
B) Glass | ಗಾಜು
D) Water | ನೀರು

Answer: D) Water | ನೀರು

16. Identify the correct aligned system dimension? | ಸರಿಯಾದ ಜೋಡಿಸಲಾದ ಸಿಸ್ಟಮ್ ಆಯಾಮವನ್ನು ಗುರುತಿಸುವುದೇ?



- A) C
C) D
B) B
D) A

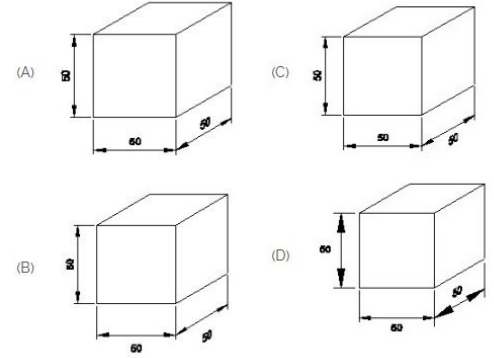
Answer: D) A

17. What is the trimmed size of A4 sheet? | A4 ಹಾಳೆಯ ಟ್ರಿಮ್ ಮಾಡಿದ ಗಾತ್ರ ಎಷ್ಟು?

- A) 148 x 210
C) 210 x 297
B) 841 x 1189
D) 594 x 841

Answer: C) 210 x 297

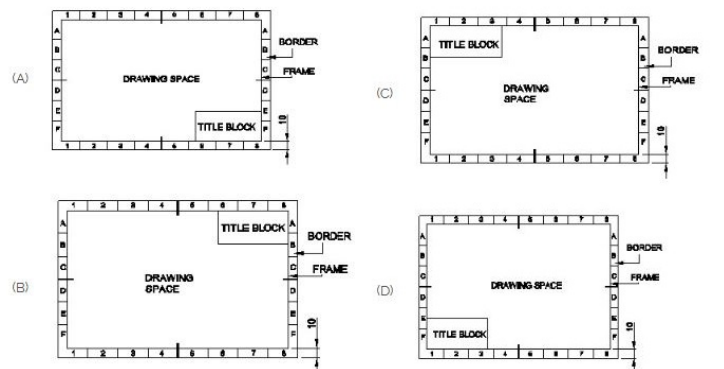
18. Which drawing dimension is correct as per IS standard? | IS ಮಾನದಂಡದ ಪ್ರಕಾರ ಯಾವ ರೇಖಾಚಿತ್ರದ ಆಯಾಮವು ಸರಿಯಾಗಿದೆ?



- A) A
C) C
B) B
D) D

Answer: A) A

19. Which title block position is correct as standard practice? | ಪ್ರಮಾಣಿತ ಅಭ್ಯಾಸದಂತೆ ಯಾವ ಶೀರ್ಷಿಕೆ ಬ್ಲಾಕ್ ಸ್ಥಾನವು ಸರಿಯಾಗಿದೆ?



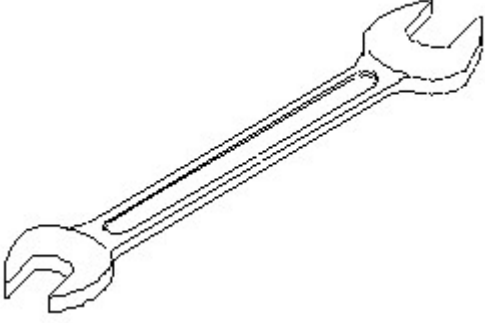
- A) A
B) B

C) C

D) D

Answer: A) A

20. Identify the name of tool? | ಉಪಕರಣದ ಹೆಸರನ್ನು ಗುರುತಿಸುವುದೇ?



A) Combination spanner | ಕಾಂಬಿನೇಶನ್ ಸ್ಪಾನರ್

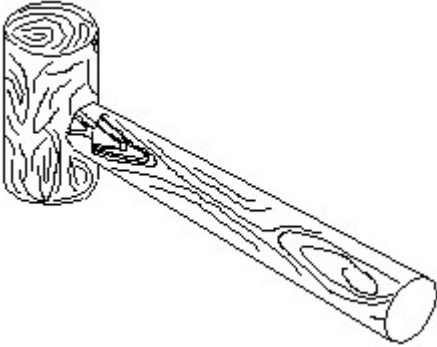
B) Ring spanner | ರಿಂಗ್ ಸ್ಪಾನರ್

C) Adjustable spanner | ಹೊಂದಿಸಬಹುದಾದ ಸ್ಪಾನರ್

D) Open end spanner | ಓಪನ್ ಎಂಡ್ ಸ್ಪಾನರ್

Answer: D) Open end spanner | ಓಪನ್ ಎಂಡ್ ಸ್ಪಾನರ್

21. Identify the name of tool? | ಉಪಕರಣದ ಹೆಸರನ್ನು ಗುರುತಿಸುವುದೇ?



A) Straight pein hammer | ಸ್ಟ್ರೈಟ್ ಪೆಯಿನ್ ಸುತ್ತಿಗೆ

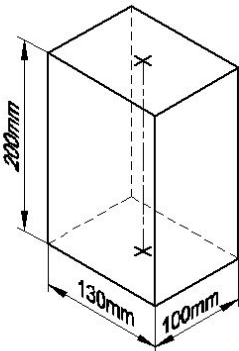
B) Ball pein hammer | ಬಾಲ್ ಪೆನ್ ಸುತ್ತಿಗೆ

C) Mallet | ಮ್ಯಾಲೆಟ್

D) Cross pein hammer | ಕ್ರಾಸ್ ಪೀನ್ ಸುತ್ತಿಗೆ

Answer: C) Mallet | ಮ್ಯಾಲೆಟ್

22. Identify the name of prism? | ಪ್ರಿಸ್ಮ್ ಹೆಸರನ್ನು ಗುರುತಿಸುವುದೇ?



A) Square prism | ಚದರ ಪ್ರಿಸ್ಮ್

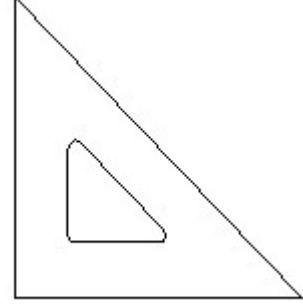
B) Rectangle prism | ಆಯತ ಪ್ರಿಸ್ಮ್

C) Triangular prism | ತ್ರಿಕೋನ ಪ್ರಿಸ್ಮ್

D) Hexagonal prism | ಷಡ್ಭುಜೀಯ ಪ್ರಿಸ್ಮ್

Answer: B) Rectangle prism | ಆಯತ ಪ್ರಿಸ್ಮ್

23. Identify the name of set square? | ಸೆಟ್ ಚೌಕದ ಹೆಸರನ್ನು ಗುರುತಿಸುವುದೇ?



A) 60° set square | 60° ಸೆಟ್ ಸ್ಕ್ವೇರ್

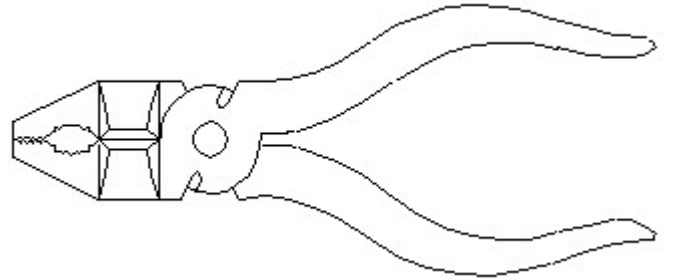
B) 45° set square | 45° ಸೆಟ್ ಸ್ಕ್ವೇರ್

C) 30° set square | 30° ಸೆಟ್ ಸ್ಕ್ವೇರ್

D) 15° set square | 15° ಸೆಟ್ ಸ್ಕ್ವೇರ್

Answer: B) 45° set square | 45° ಸೆಟ್ ಸ್ಕ್ವೇರ್

24. Identify the name of tool? | ಉಪಕರಣದ ಹೆಸರನ್ನು ಗುರುತಿಸುವುದೇ?



A) Hawk-billed shear | ಹಾಕ್-ಬಿಲ್ಡ್ ಸಿಯರ್

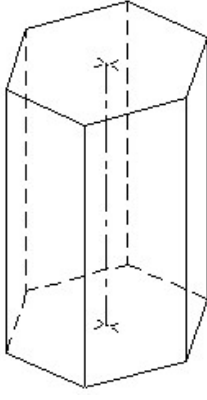
B) Aviation shear | ಏವಿಯೇಷನ್ ಸಿಯರ್

C) Double cutting shear | ಡಬಲ್ ಕಟಿಂಗ್ ಸಿಯರ್

D) Cutting plier | ಕಟಿಂಗ್ ಪ್ಲಿಯರ್

Answer: D) Cutting plier | ಕಟಿಂಗ್ ಪ್ಲಿಯರ್

25. Identify the name of prism? | ಪ್ರಿಸ್ಮ್ ಹೆಸರನ್ನು ಗುರುತಿಸುವುದೇ?



- A) Triangular prism | ತ್ರಿಕೋನ ಪ್ರಿಸ್ಮ
B) Hexagonal prism | ಷಡ್ಭುಜೀಯ ಪ್ರಿಸ್ಮ
C) Square prism | ಚದರ ಪ್ರಿಸ್ಮ
D) Pentagonal prism | ಪೆಂಟಗೋನಲ್ ಪ್ರಿಸ್ಮ

Answer: B) Hexagonal prism | ಷಡ್ಭುಜೀಯ ಪ್ರಿಸ್ಮ
