

ITI Quiz - 25-May-2026

12:19 PM

Q. ID: ITISKILL2620RE

May 2026

Abc

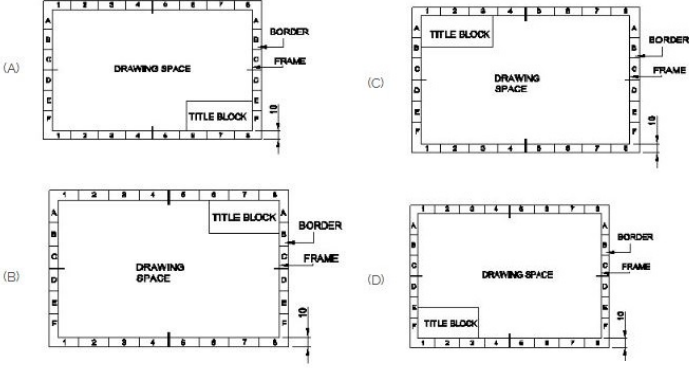
Answer Key

Duration: 30 Mins

Total Marks: 26

Q.ID: ITISKILL2620RE

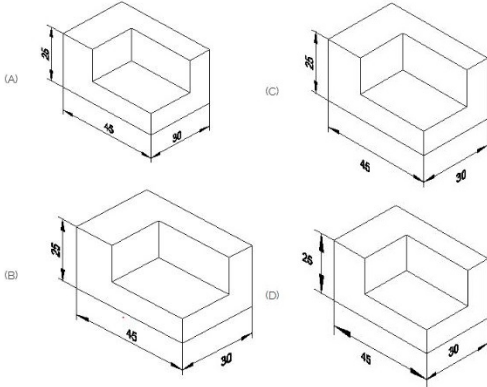
1. Which title block position is correct as standard practice? | ಪ್ರಮಾಣಿತ ಅಭ್ಯಾಸದಂತೆ ಯಾವ ಶೀರ್ಷಿಕೆ ಬಾಕ್ಸ್ ಸ್ಥಾನವು ಸರಿಯಾಗಿದೆ?



- A) D
C) C
B) B
D) A

Answer: D) A

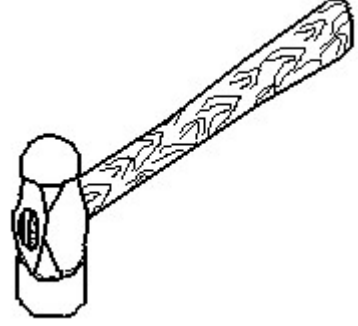
2. Which drawing dimension is correct as per standard drawing practice? | ಸ್ವಾರ್ಸೂಡರ್ ಡ್ರಾಯಿಂಗ್ ಅಭ್ಯಾಸದ ಪ್ರಕಾರ ಯಾವ ಡ್ರಾಯಿಂಗ್ ಆಯಾಮ ಸರಿಯಾಗಿದೆ?



- A) C
C) B
B) D
D) A

Answer: D) A

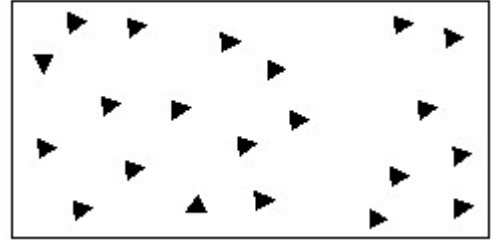
3. Identify the name of tool? | ಉಪಕರಣದ ಹೆಸರನ್ನು ಗುರುತಿಸುವುದೇ?



- A) Ball pein hammer | ಬಾಲ್ ಪೆನ್ ಸುತ್ತಿಗೆ
B) Cross pein hammer | ಕ್ರಾಸ್ ಪೀನ್ ಸುತ್ತಿಗೆ
C) Sledge hammer | ಸ್ಲೆಡ್ಜ್ ಸುತ್ತಿಗೆ
D) Straight pein hammer | ನೇರ ಪೆನ್ ಸುತ್ತಿಗೆ

Answer: A) Ball pein hammer | ಬಾಲ್ ಪೆನ್ ಸುತ್ತಿಗೆ

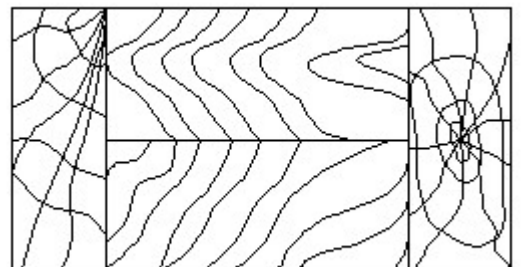
4. Identify the conventional symbol of material? | ವಸ್ತುವಿನ ಕನ್ವೆಷನಲ್ ಚಿಹ್ನೆಯನ್ನು ಗುರುತಿಸಿ?



- A) Steel | ಸ್ಟೀಲ್
B) Concrete | ಕಾಂಕ್ರೀಟ್
C) Glass | ಗಾಜು
D) Wood | ಮರ

Answer: B) Concrete | ಕಾಂಕ್ರೀಟ್

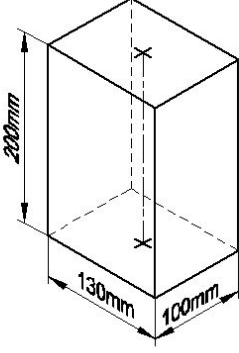
5. Identify the conventional symbol of material? | ವಸ್ತುವಿನ ಕನ್ವೆಷನಲ್ ಚಿಹ್ನೆಯನ್ನು ಗುರುತಿಸಿ?



- A) Glass | ಗಾಜು
B) Wood | ಮರ
C) Paper | ಪೇಪರ್
D) Lead | ಲೀಡ್

Answer: B) Wood | ಮರ

6. Identify the name of prism? | ಪ್ರಿಸ್ಮ್ ಹೆಸರನ್ನು ಗುರುತಿಸುವುದೇ?



- A) Rectangle prism | ಆಯತ ಪ್ರಿಸ್ಮ್
B) Square prism | ಚದರ ಪ್ರಿಸ್ಮ್
C) Hexagonal prism | ಷಡ್ಭುಜೀಯ ಪ್ರಿಸ್ಮ್
D) Triangular prism | ತ್ರಿಕೋನ ಪ್ರಿಸ್ಮ್

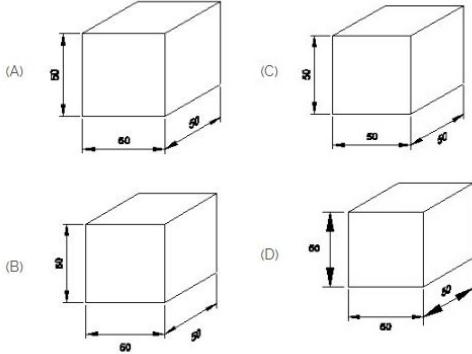
Answer: A) Rectangle prism | ಆಯತ ಪ್ರಿಸ್ಮ್

7. What is the trimmed size of A4 sheet? | A4 ಹಾಳೆಯ ಕ್ರಿಮ್ ಮಾಡಿದ ಗಾತ್ರ ಎಷ್ಟು?

- A) 210 x 297
B) 148 x 210
C) 594 x 841
D) 841 x 1189

Answer: A) 210 x 297

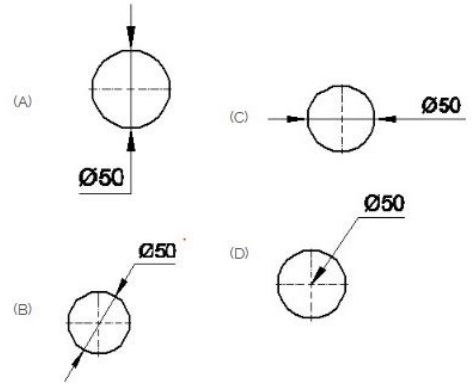
8. Which drawing dimension is correct as per IS standard? | IS ಮಾನದಂಡದ ಪ್ರಕಾರ ಯಾವ ರೇಖಾಚಿತ್ರದ ಆಯಾಮವು ಸರಿಯಾಗಿದೆ?



- A) B
B) A
C) D
D) C

Answer: B) A

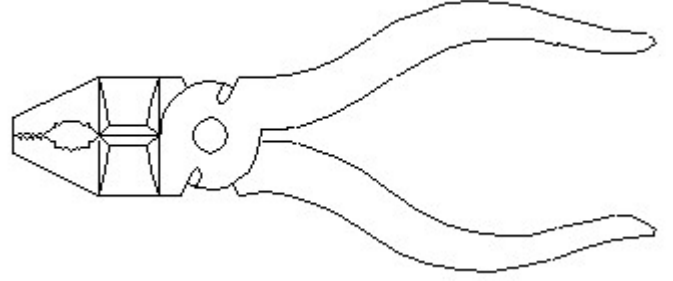
9. Which dimension correctly marked in the circle as per standard? | ಮಾನದಂಡದ ಪ್ರಕಾರ ವೃತ್ತದಲ್ಲಿ ಯಾವ ಆಯಾಮವನ್ನು ಸರಿಯಾಗಿ ಗುರುತಿಸಲಾಗಿದೆ?



- A) B
B) A
C) D
D) C

Answer: A) B

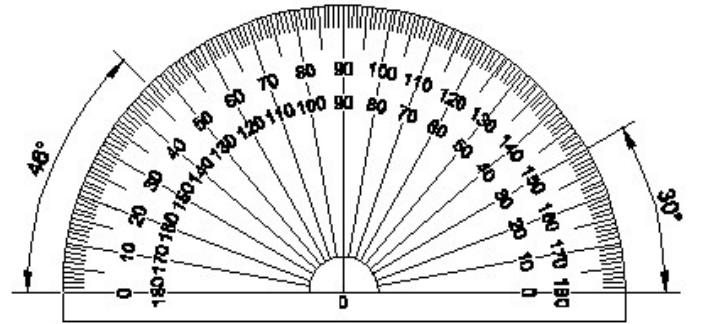
10. Identify the name of tool? | ಉಪಕರಣದ ಹೆಸರನ್ನು ಗುರುತಿಸುವುದೇ?



- A) Hawk-billed shear | ಹಾಕ್-ಬಿಲ್ಡ್ ಸಿಯರ್
B) Aviation shear | ಏವಿಯೇಷನ್ ಸಿಯರ್
C) Cutting plier | ಕಟಿಂಗ್ ಪ್ಲಿಯರ್
D) Double cutting shear | ಡಬಲ್ ಕಟಿಂಗ್ ಸಿಯರ್

Answer: C) Cutting plier | ಕಟಿಂಗ್ ಪ್ಲಿಯರ್

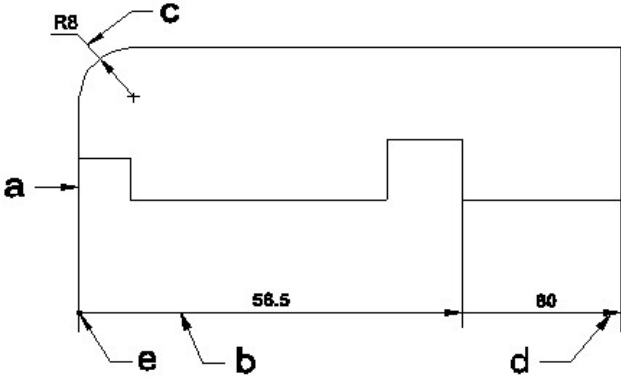
11. Identify the name of instrument? | ಉಪಕರಣದ ಹೆಸರನ್ನು ಗುರುತಿಸುವುದೇ?



- A) French curve | ಫ್ರೆಂಚ್ ಕರ್ವ್
B) T square | ಸ್ಕ್ವೇರ್
C) Protractor | ಪ್ರೊಟ್ರಾಕ್ಟರ್
D) Set square | ಸೆಟ್ ಸ್ಕ್ವೇರ್

Answer: C) Protractor | ಪ್ರೊಟ್ರಾಕ್ಟರ್

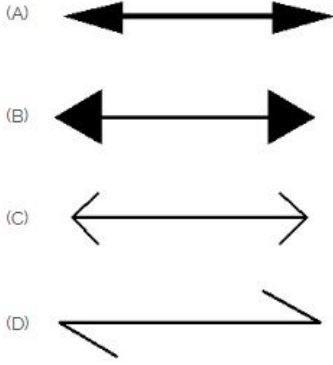
12. Identify the line a b ? | ಸಾಲುನ್ನು ಗುರುತಿಸುವುದೇ?



- A) Leader line | ಲೀಡರ್ ಲೈನ್
 B) Termination of dimension line | ಆಯಾಮ ರೇಖೆಯ ಮುಕ್ತಾಯ
 C) Dimension line | ಡೈಮೆನ್ಷನ್ ಲೈನ್
 D) Extension line | ಎಕ್ಸ್ಟೆನ್ಷನ್ ಲೈನ್

Answer: C) Dimension line | ಡೈಮೆನ್ಷನ್ ಲೈನ್

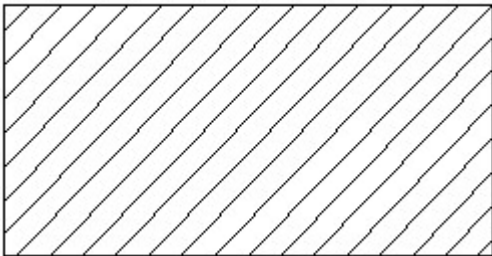
13. Which arrow head is correct as per standard? | ಮಾನದಂಡದ ಪ್ರಕಾರ ಯಾವ ಬಾಣದ ಹೆಡ್ ಸರಿಯಾಗಿದೆ?



- A) B
 B) A
 C) C
 D) D

Answer: B) A

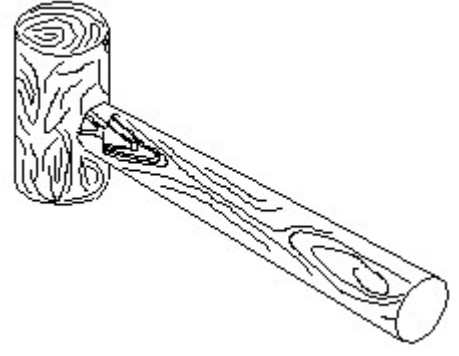
14. Identify the conventional symbol of material? | ವಸ್ತುವಿನ ಕನ್ವೆನ್ಷನಲ್ ಚಿಹ್ನೆಯನ್ನು ಗುರುತಿಸಿ?



- A) Steel | ಸ್ಟೀಲ್
 B) Glass | ಗಾಜು
 C) Lead | ಲೀಡ್
 D) Porcelain | ಪಿಂಗಾಣಿ

Answer: A) Steel | ಸ್ಟೀಲ್

15. Identify the name of tool? | ಉಪಕರಣದ ಹೆಸರನ್ನು ಗುರುತಿಸುವುದೇ?



- A) Mallet | ಮ್ಯಾಲೆಟ್
 B) Ball pein hammer | ಬಾಲ್ ಪೆನ್ ಸುತ್ತಿಗೆ
 C) Cross pein hammer | ಕ್ರಾಸ್ ಪೆನ್ ಸುತ್ತಿಗೆ
 D) Straight pein hammer | ಸ್ಟ್ರೈಟ್ ಪೆನ್ ಸುತ್ತಿಗೆ

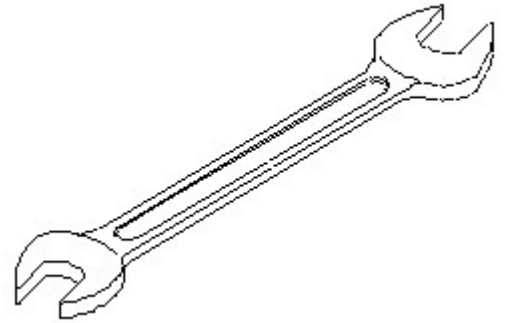
Answer: A) Mallet | ಮ್ಯಾಲೆಟ್

16. Compass used to draw for ____. | ಕಂಪಾಸ್ ಅನ್ನು ____ ಗೆ ಸೆಳೆಯಲು ಬಳಸಲಾಗುತ್ತದೆ.

- A) triangle | ತ್ರಿಕೋನ
 B) rectangle | ಆಯಾತ
 C) square | ಚದರ
 D) circle | ವೃತ್ತ

Answer: D) circle | ವೃತ್ತ

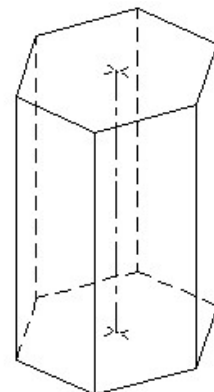
17. Identify the name of tool? | ಉಪಕರಣದ ಹೆಸರನ್ನು ಗುರುತಿಸುವುದೇ?



- A) Combination spanner | ಕಾಂಬಿನೇಷನ್ ಸ್ಪಾನರ್
 B) Ring spanner | ರಿಂಗ್ ಸ್ಪಾನರ್
 C) Adjustable spanner | ಹೊಂದಿಸಬಹುದಾದ ಸ್ಪಾನರ್
 D) Open end spanner | ಓಪನ್ ಎಂಡ್ ಸ್ಪಾನರ್

Answer: D) Open end spanner | ಓಪನ್ ಎಂಡ್ ಸ್ಪಾನರ್

18. Identify the name of prism? | ಪ್ರಿಸ್ಮ್ ಹೆಸರನ್ನು ಗುರುತಿಸುವುದೇ?



A) Square prism | ಚದರ ಪ್ರಿಸ್ಮ್ B) Triangular prism | ತ್ರಿಕೋನ ಪ್ರಿಸ್ಮ್

C) Wood | ಮರ

D) Steel | ಸ್ಟೀಲ್

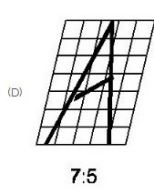
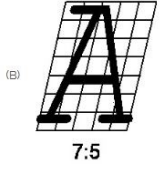
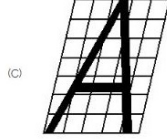

C) Pentagonal prism | ಪಂಚಗೋನಲ್ ಪ್ರಿಸ್ಮ್

D) Hexagonal prism | ಷಡ್ಭುಜೀಯ ಪ್ರಿಸ್ಮ್

Answer: B) Glass | ಗಾಜು

Answer: D) Hexagonal prism | ಷಡ್ಭುಜೀಯ ಪ್ರಿಸ್ಮ್

19. Which single stroke inclined letter □ A□ is correct as per IS standard? | IS ಮಾನದಂಡದ ಪ್ರಕಾರ ಯಾವ ಏಕ ಸ್ಟ್ರೋಕ್ ಇಳಿಜಾರಿನ ಅಕ್ಷರ □ A□ರಿಯಾಗಿದೆ?



A) A

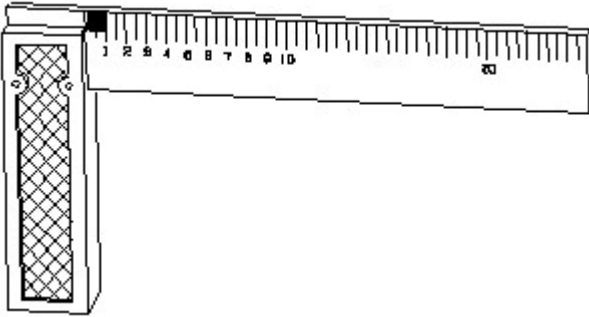
B) B

C) D

D) C

Answer: D) C

20. 1). Identify the name of tool? | ಉಪಕರಣದ ಹೆಸರನ್ನು ಗುರುತಿಸುವುದೇ?




A) Steel rule | ಸ್ಟೀಲ್ ರೂಲ್

B) Surface gauge | ಮೇಲ್ಮೈ ಮಾಪಕ

C) Feeler gauge | ಫೀಲರ್ ಗೇಜ್ D) Try square | ಟ್ರೈ ಸ್ಕ್ವೇರ್

Answer: D) Try square | ಟ್ರೈ ಸ್ಕ್ವೇರ್

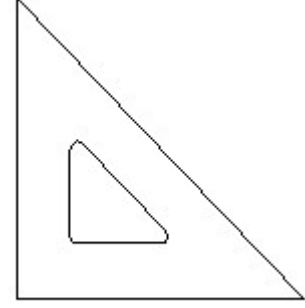
21. Identify the conventional symbol of material? | ವಸ್ತುವಿನ ಕನ್ವೆಷನಲ್ ಚಿಹ್ನೆಯನ್ನು ಗುರುತಿಸಿ?



A) Concrete | ಕಾಂಕ್ರೀಟ್

B) Glass | ಗಾಜು

22. Identify the name of set square? | ಸೆಟ್ ಚೌಕದ ಹೆಸರನ್ನು ಗುರುತಿಸುವುದೇ?



A) 30° set square | 30° ಸೆಟ್ ಸ್ಕ್ವೇರ್

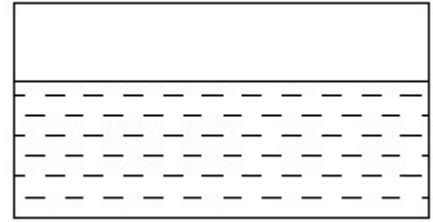
B) 15° set square | 15° ಸೆಟ್ ಸ್ಕ್ವೇರ್

C) 60° set square | 60° ಸೆಟ್ ಸ್ಕ್ವೇರ್

D) 45° set square | 45° ಸೆಟ್ ಸ್ಕ್ವೇರ್

Answer: D) 45° set square | 45° ಸೆಟ್ ಸ್ಕ್ವೇರ್

23. Identify the conventional symbol of material? | ವಸ್ತುವಿನ ಕನ್ವೆಷನಲ್ ಚಿಹ್ನೆಯನ್ನು ಗುರುತಿಸಿ?



A) Asbestos | ಅಸ್ಟೆಸಿಯೋಸ್

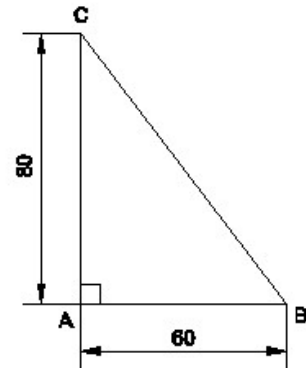
B) Concrete | ಕಾಂಕ್ರೀಟ್

C) Water | ನೀರು

D) Glass | ಗಾಜು

Answer: C) Water | ನೀರು

24. Identify the name of the triangle? | ತ್ರಿಕೋನದ ಹೆಸರನ್ನು ಗುರುತಿಸುವುದೇ?



A) Isosceles triangle | ಸಮದ್ವಿಭಾಹು ತ್ರಿಕೋನ

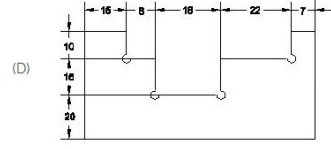
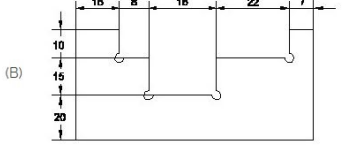
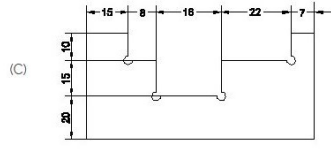
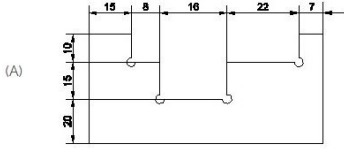
B) Right angle triangle | ಬಲ ಕೋನ ತ್ರಿಕೋನ

C) Equilateral triangle | ಸಮಕೋನ ತ್ರಿಕೋನ

D) Scalene triangle | ಸ್ಕೇಲಿನ್ ತ್ರಿಕೋನ

Answer: B) Right angle triangle | ಬಲ ಕೋನ ತ್ರಿಕೋನ

25. Identify the correct aligned system dimension? | ಸರಿಯಾದ ಜೋಡಿಸಲಾದ ಸಿಸ್ಟಮ್ ಆಯಾಮವನ್ನು ಗುರುತಿಸುವುದೇ?



A) C

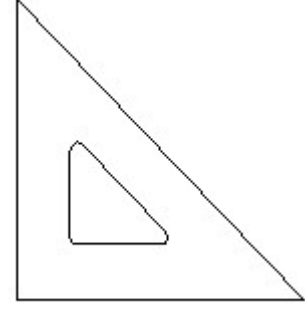
B) D

C) A

D) B

Answer: C) A

26. Identify the name of set square? | ಸೆಟ್ ಚೌಕದ ಹೆಸರನ್ನು ಗುರುತಿಸುವುದೇ?



A) 60° set square | 60° ಸೆಟ್ ಸ್ಕ್ವೇರ್

B) 15° set square | 15° ಸೆಟ್ ಸ್ಕ್ವೇರ್

C) 45° set square | 45° ಸೆಟ್ ಸ್ಕ್ವೇರ್

D) 30° set square | 30° ಸೆಟ್ ಸ್ಕ್ವೇರ್

Answer: C) 45° set square | 45° ಸೆಟ್ ಸ್ಕ್ವೇರ್