

ENGINEERING DRAWING-1ST YEAR

Q. ID: ITISKILL2469DN

GOVT ITI BEERIHUNDI MYSORE
570026

February 2026

Question Paper

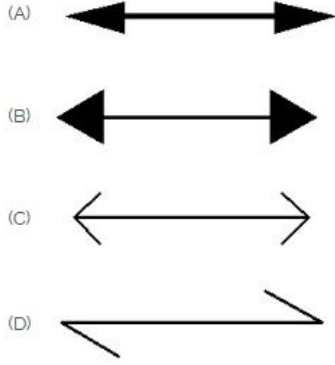
Duration: 30 Mins

Total Marks: 10

ID: ITISKILL2469DN

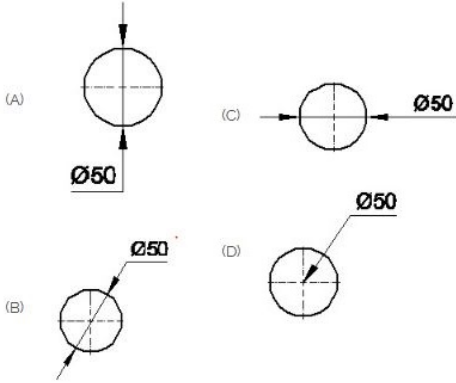
Student Name: _____ Roll No: _____

1. Which arrow head is correct as per standard? | ಮಾನದಂಡದ ಪ್ರಕಾರ ಯಾವ ಬಾಣದ ಹೆಡ್ ಸರಿಯಾಗಿದೆ?



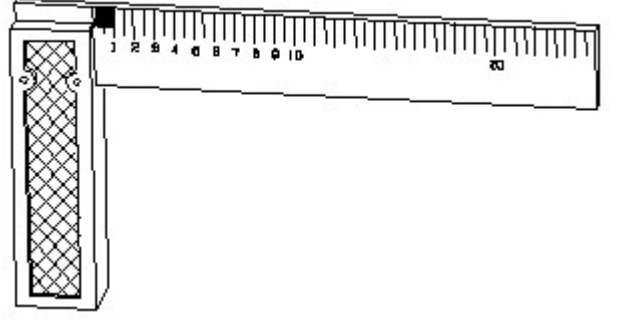
- A) A
B) C
C) D
D) B

2. Which dimension correctly marked in the circle as per standard? | ಮಾನದಂಡದ ಪ್ರಕಾರ ವೃತ್ತದಲ್ಲಿ ಯಾವ ಆಯಾಮವನ್ನು ಸರಿಯಾಗಿ ಗುರುತಿಸಲಾಗಿದೆ?



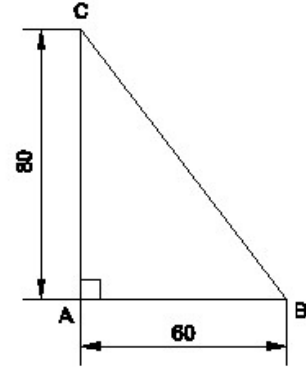
- A) B
B) A
C) C
D) D

3. 1). Identify the name of tool? | ಉಪಕರಣದ ಹೆಸರನ್ನು ಗುರುತಿಸುವುದೇ?




- A) Try square | ಟ್ರೈ ಸ್ಕ್ವೇರ್
B) Feeler gauge | ಫೀಲರ್ ಗೇಜ್
C) Surface gauge | ಮೇಲ್ಮೈ ಮಾಪಕ
D) Steel rule | ಸ್ಟೀಲ್ ರೂಲ್

4. Identify the name of the triangle? | ತ್ರಿಕೋನದ ಹೆಸರನ್ನು ಗುರುತಿಸುವುದೇ?



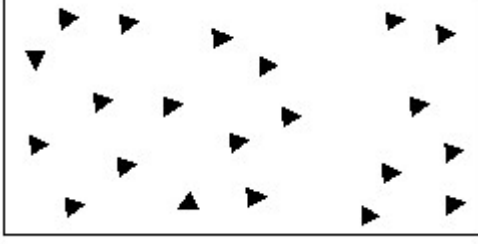
- A) Scalene triangle | ಸ್ಕೇಲಿನ್ ತ್ರಿಕೋನ
B) Right angle triangle | ಬಲ ಕೋನ ತ್ರಿಕೋನ
C) Isosceles triangle | ಸಮದ್ವಿಭಾಹು ತ್ರಿಕೋನ
D) Equilateral triangle | ಸಮಕೋನ ತ್ರಿಕೋನ

5. Identify the conventional symbol of material? | ವಸ್ತುವಿನ ಕನ್ವೆಷನಲ್ ಚಿಹ್ನೆಯನ್ನು ಗುರುತಿಸಿ?



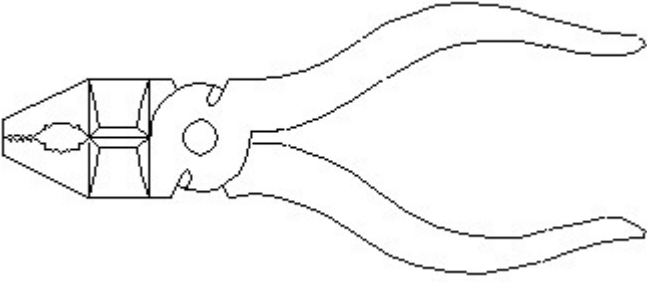
- A) Steel | ಸ್ಟೀಲ್
B) Glass | ಗಾಜು
C) Wood | ಮರ
D) Concrete | ಕಾಂಕ್ರೀಟ್

6. Identify the conventional symbol of material? | ವಸ್ತುವಿನ ಕನ್ವೆಷನಲ್ ಚಿಹ್ನೆಯನ್ನು ಗುರುತಿಸಿ?



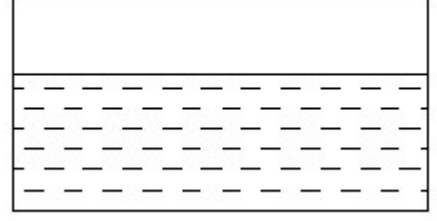
- A) Concrete | ಕಾಂಕ್ರೀಟ್
B) Steel | ಸ್ಟೀಲ್
C) Glass | ಗಾಜು
D) Wood | ಮರ

7. Identify the name of tool? | ಉಪಕರಣದ ಹೆಸರನ್ನು ಗುರುತಿಸುವುದೇ?



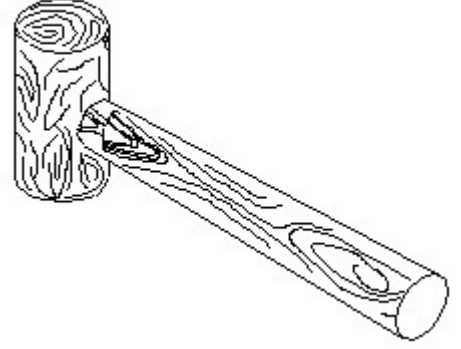
- A) Double cutting shear | ಡಬಲ್ ಕಟಿಂಗ್ ಸಿಯರ್
B) Aviation shear | ಏವಿಯೇಷನ್ ಸಿಯರ್
C) Hawk-billed shear | ಹಾಕ್-ಬಿಲ್ಡ್ ಸಿಯರ್
D) Cutting plier | ಕಟಿಂಗ್ ಪ್ಲಿಯರ್

8. Identify the conventional symbol of material? | ವಸ್ತುವಿನ ಕನ್ವೆಷನಲ್ ಚಿಹ್ನೆಯನ್ನು ಗುರುತಿಸಿ?



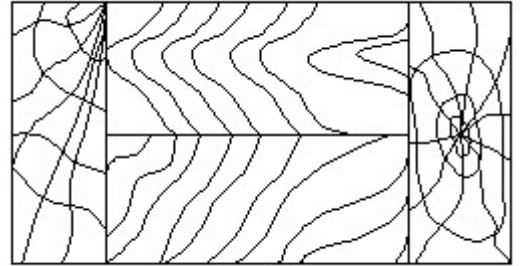
- A) Concrete | ಕಾಂಕ್ರೀಟ್
B) Glass | ಗಾಜು
C) Water | ನೀರು
D) Asbestos | ಆಸ್ಟೆಸ್ಟೋಸ್

9. Identify the name of tool? | ಉಪಕರಣದ ಹೆಸರನ್ನು ಗುರುತಿಸುವುದೇ?



- A) Mallet | ಮ್ಯಾಲೆಟ್
B) Ball peen hammer | ಬಾಲ್ ಪೆನ್ ಸುತ್ತಿಗೆ
C) Straight peen hammer | ಸ್ಟ್ರೈಟ್ ಪೆನ್ ಸುತ್ತಿಗೆ
D) Cross peen hammer | ಕ್ರಾಸ್ ಪೆನ್ ಸುತ್ತಿಗೆ

10. Identify the conventional symbol of material? | ವಸ್ತುವಿನ ಕನ್ವೆಷನಲ್ ಚಿಹ್ನೆಯನ್ನು ಗುರುತಿಸಿ?



- A) Glass | ಗಾಜು
B) Paper | ಪೇಪರ್
C) Wood | ಮರ
D) Lead | ಲೀಡ್