

ENGINEERING DRAWING-1ST YEAR

Q. ID: ITISKILL2469DN

GOVT ITI BEERIHUNDI MYSORE
570026

February 2026

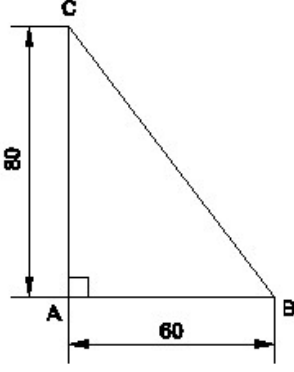
Answer Key

Duration: 30 Mins

Total Marks: 10

Q.ID: ITISKILL2469DN


1. Identify the name of the triangle? | ತ್ರಿಕೋನದ ಹೆಸರನ್ನು ಗುರುತಿಸುವುದೇ?



- A) Isosceles triangle | ಸಮದ್ವಿಭಾಹು ತ್ರಿಭುಜ
B) Right angle triangle | ಬಲ ಕೋನ ತ್ರಿಕೋನ
C) Equilateral triangle | ಸಮಕೋನ ತ್ರಿಕೋನ
D) Scalene triangle | ಸ್ಕೇಲಿನ್ ತ್ರಿಕೋನ

Answer: B) Right angle triangle | ಬಲ ಕೋನ ತ್ರಿಕೋನ

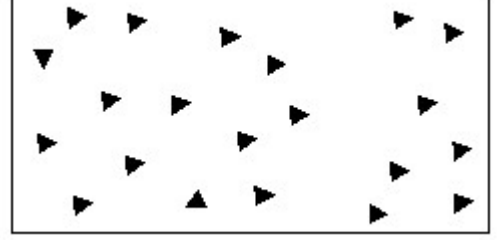
2. Identify the conventional symbol of material? | ವಸ್ತುವಿನ ಕನ್ವೆಷನಲ್ ಚಿಹ್ನೆಯನ್ನು ಗುರುತಿಸಿ?



- A) Glass | ಗಾಜು
B) Steel | ಸ್ಟೀಲ್
C) Concrete | ಕಾಂಕ್ರೀಟ್
D) Wood | ಮರ

Answer: A) Glass | ಗಾಜು

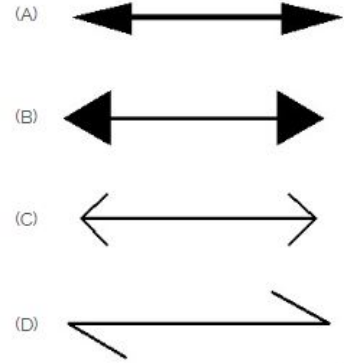
3. Identify the conventional symbol of material? | ವಸ್ತುವಿನ ಕನ್ವೆಷನಲ್ ಚಿಹ್ನೆಯನ್ನು ಗುರುತಿಸಿ?



- A) Steel | ಸ್ಟೀಲ್
B) Glass | ಗಾಜು
C) Wood | ಮರ
D) Concrete | ಕಾಂಕ್ರೀಟ್

Answer: D) Concrete | ಕಾಂಕ್ರೀಟ್

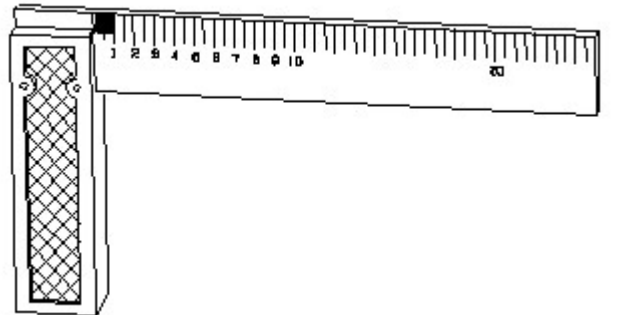
4. Which arrow head is correct as per standard? | ಮಾನದಂಡದ ಪ್ರಕಾರ ಯಾವ ಬಾಣದ ಹೆಡ್ ಸರಿಯಾಗಿದೆ?



- A) D
B) B
C) C
D) A

Answer: D) A

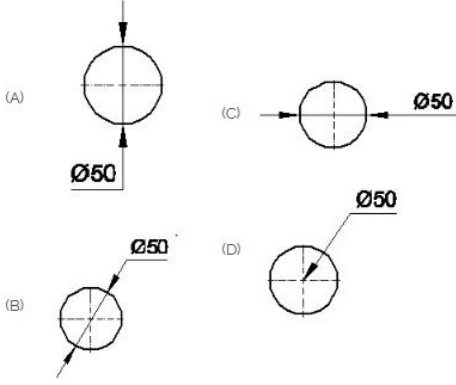
5. 1). Identify the name of tool? | ಉಪಕರಣದ ಹೆಸರನ್ನು ಗುರುತಿಸುವುದೇ?



- A) Try square | ಟ್ರೈ ಸ್ಕ್ವೇರ್
B) Feeler gauge | ಫೀಲರ್ ಗೇಜ್
C) Surface gauge | ಮೇಲ್ಮೈ ಮಾಪಕ
D) Steel rule | ಸ್ಟೀಲ್ ರೂಲ್

Answer: A) Try square | ಕ್ರಿ ಸ್ಕ್ವೇರ್

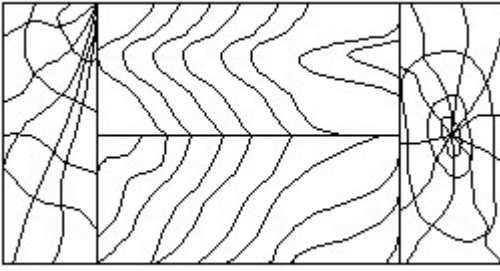
6. Which dimension correctly marked in the circle as per standard? | ಮಾನದಂಡದ ಪ್ರಕಾರ ವೃತ್ತದಲ್ಲಿ ಯಾವ ಆಯಾಮವನ್ನು ಸರಿಯಾಗಿ ಗುರುತಿಸಲಾಗಿದೆ?



- A) D
C) B
B) A
D) C

Answer: C) B

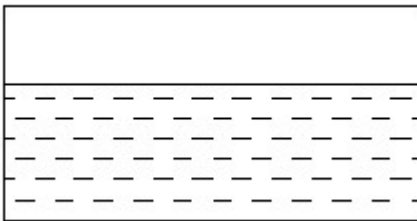
7. Identify the conventional symbol of material? | ವಸ್ತುವಿನ ಕನ್ವೆಷನಲ್ ಚಿಹ್ನೆಯನ್ನು ಗುರುತಿಸಿ?



- A) Wood | ಮರ
C) Glass | ಗಾಜು
B) Paper | ಪೇಪರ್
D) Lead | ಲೀಡ್

Answer: A) Wood | ಮರ

8. Identify the conventional symbol of material? | ವಸ್ತುವಿನ ಕನ್ವೆಷನಲ್ ಚಿಹ್ನೆಯನ್ನು ಗುರುತಿಸಿ?



A) Glass | ಗಾಜು

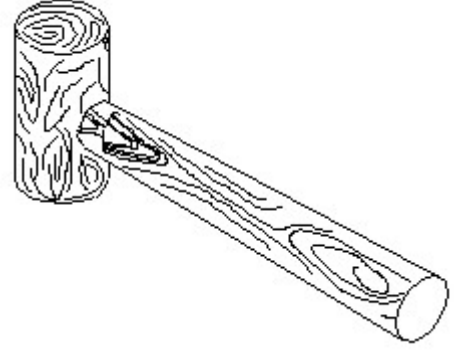
B) Water | ನೀರು

C) Concrete | ಕಾಂಕ್ರೀಟ್

D) Asbestos | ಆಸ್ಬೆಸ್ಟೋಸ್

Answer: B) Water | ನೀರು

9. Identify the name of tool? | ಉಪಕರಣದ ಹೆಸರನ್ನು ಗುರುತಿಸುವುದೇ?



A) Cross pein hammer | ಕ್ರಾಸ್ ಪೀನ್ ಸುತ್ತಿಗೆ

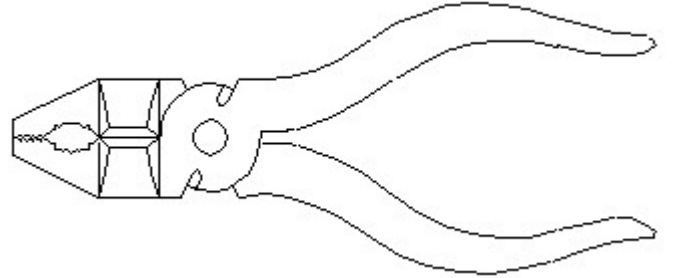
B) Mallet | ಮ್ಯಾಲೆಟ್

C) Straight pein hammer | ಸ್ಟ್ರೇಟ್ ಪೀನ್ ಸುತ್ತಿಗೆ

D) Ball pein hammer | ಬಾಲ್ ಪೀನ್ ಸುತ್ತಿಗೆ

Answer: B) Mallet | ಮ್ಯಾಲೆಟ್

10. Identify the name of tool? | ಉಪಕರಣದ ಹೆಸರನ್ನು ಗುರುತಿಸುವುದೇ?



A) Cutting plier | ಕಟಿಂಗ್ ಪ್ಲಿಯರ್

B) Hawk-billed shear | ಹಾಕ್-ಬಿಲ್ಡ್ ಸಿಯರ್

C) Double cutting shear | ಡಬಲ್ ಕಟಿಂಗ್ ಸಿಯರ್

D) Aviation shear | ಏವಿಯೇಷನ್ ಸಿಯರ್

Answer: A) Cutting plier | ಕಟಿಂಗ್ ಪ್ಲಿಯರ್